

Küçük fil güneşten çok etkilenmişti. Gölge-
lik bir yer arıyordu. Aynı zamanda da çok
susamıştı. Karşısına bir dere çıktı. Dereye
eğildi ve güzelce suyunu içti. Biraz ra-
hatlamıştı. Kafasını kaldırdı, karşısında bir
ağaç gördü. Gölgesinde oyunlar oynadı.



1. ve 2. soruları metne göre cevaplayalım.

1. Yukarıdaki metne uygun başlık hangisi olabilir?

- A. Filin Hafızası
- B. Filin Arayışı
- C. Filin Kızgınlığı

2. Küçük fil nereden su içti?

- A. dereden
- B. gölden
- C. denizden

3. Aşağıdakilerden hangisi cüm-
lede kelime olarak kullanıla-
maz?

- A. ol
- B. o
- C. k

4. Görseldeki mevsimler alfabetik
sıralanırsa hangisi sonda yer
alır?

A.



B.



C.



5. Hangi sözcük hecelerine yanlış
ayrılmıştır?

- A. ki - tap - lık
- B. de - fi - ne
- C. siy - ah

6.

insan	yaşlı
adam	genç

Yukarıdaki tabloda zıt anlamlı sözcükler boyanacaktır.

Buna göre hangi seçenek doğru olur?

- A.

 B.

- C.

7. Okula ile gidiyorum.

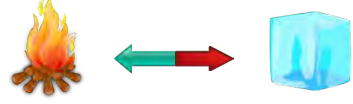
Yukarıdaki cümlede boş bırakılan yere hangisi yazılamaz?

- A. yürüyerek
B. araba
C. servis

8. Aşağıdaki kelimelerden hangisinin zıt anlamlısı yoktur?

- A. balon B. kısa
C. şişman

9.



Yukarıdaki görseller arasındaki anlam ilişkisi hangi görseller arasında yoktur?

- A. B. C.

10. ☐ Benimle markete
☐ Gidiyorum
☐ Kitap okuyorum

Yukarıdaki verilenlerden hangileri cümledir?

- A. ☐ ☐ ☐
B. ☐ ☐
C. ☐ ☐


11.



Yukarıdaki kelimelerle kurallı cümle oluşturulacaktır. Buna göre baştan ikinci kelime hangisi olur?

- A. çilekli
- B. pasta
- C. yaptı

12.



Yukarıdaki kelimeler, yüz ifadeleri ile eşleştirilirse hangisi boşta kalır?

- A.
- B.
- C.

13.



Yukarıdaki görsel için aşağıdakilerden hangisi söylenemez?

- A. Kar yağıyor.
- B. Ağacın üstünde kar var.
- C. Çocuk karla oynuyor.

14.



Ankar'a



İsmail'in



Ali'yi

Yukarıdaki özel isimlerinden hangisinin yazılımda bir yanlışlık yapılmıştır?

- A.
- B.
- C.

15.

Hangi cümlede "Kim?" sorusunun yanıtı vardır?

- A. Pazardan elma aldı.
- B. Ağacı suladı.
- C. Erhan yere düştü.

NİSAN		2020				
PZT	SA	ÇA	PE	CU	CT	PZ
		1	2	3	4	5
6	7	8	9	10	11	12
13	14	15	16	17	18	19
20	21	22	23	24	25	26
27	28	29	30	31		

1, 2 ve 3. soruları takvime göre cevaplayalım.

1. Ayın birinci günü hangi gündür?

- A. Pazartesi
- B. Salı
- C. Çarşamba

2. "23 Nisan Ulusal Egemenlik ve Çocuk Bayramı" hangi güne denk gelir?

- A. Cuma
- B. Salı
- C. Perşembe

3. Takvim yaprağı hangi ayı göstermektedir?

- A. Çarşamba
- B. Nisan
- C. 2020

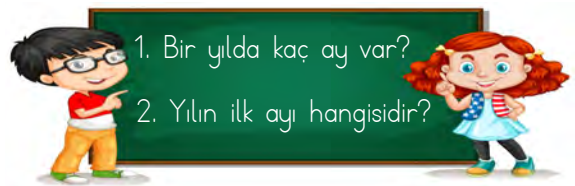
4.

DÜN	BUGÜN	YARIN
?		Cuma

Yukarıdaki tabloda "?" ile gösterilen yere hangisi yazılmalıdır?

- A. Salı
- B. Çarşamba
- C. Perşembe

5.



Çocukların sordukları soruların cevapları sırasıyla hangisinde verilmiştir?

- A. 12 - Ocak
- B. 10 - Aralık
- C. 11 - Mart

6.



Yukarıdaki saat kaç göstermektedir?

- A. Saat: dört buçuk
- B. Saat: dört altı
- C. Saat: dört

7. Hangisinin gösterdiği saat yanlış yazılmıştır?



8. Anıl saat altıda kalktıktan iki saat sonra kahvaltıya oturdu. Anıl saat kaçta kahvaltıya oturmuştur?

- A. Saat yedide
- B. Saat sekizde
- C. Saat beşte

9. İhsan Şubat ayında yüzmeye başladı. İki ay sonra yüzmeyi bıraktı.

İhsan hangi ay yüzmeyi bırakmıştır?

- A. Nisan
- B. Mart
- C. Mayıs

10. Akrep üçü, yelkovan altıyı gösterirse saat kaç olarak okunur?

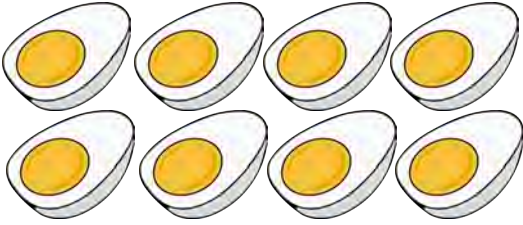
- A. 03.00
- B. 06.00
- C. 03.30

11. Yandaki saat kaç göstermektedir?

- A. Saat: altı
B. Saat: on iki
C. Saat: on iki buçuk




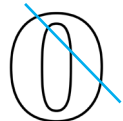
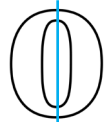
12.



Yukarıdaki yarım yumurtalar kaç bütün yumurtaya eşittir?

- A. 8 B. 4 C. 6

13. Aşağıdaki bütünlerden hangisi iki eş parçaya bölünmüştür?




- A. 
B. 
C. 

14.



Saat şu an on bir.
Beni iki saat önce yemeliydin.

Çocuklar, yumurtayı yemeleri gereken saati söylemişlerdir. Hangi çocuğun verdiği yanıt doğrudur?

- A. 
B. 
C. 

15. Aşağıdakilerden hangisi kış mevsimi ayı değildir?

- A. Ocak
B. Şubat
C. Mart

1. Aşağıdakilerden hangisi Atatürk'ün mezarının bulunduğu Anıtkabir görselidir?

A.



B.



C.



2. Hangisi daha büyük yerleşim yeridir?

A. köy

B. ilçe

C. il

3. Aşağıdakilerden hangisi ili yönetir?

A. Muhtar

B. Vali

C. Kaymakam

4. Aşağıdakilerden hangisi tarihi ve turistik yere örnektir?

A.



B.



C.



5.



köy/mahalle



il



ilçe

Yukarıdaki yerleşim yerlerinin büyüktен küçüğe doğru sıralanmış hali hangisidir?

A.



B.



C.



6. Yerleşim yeri ve yöneticisi doğru eşleştirilen seçenek hangisidir?

- A. ilçe - kaymakam
- B. vali - köy
- C. kaymakam - il

7.



Yasin'in anlattığı yerleşim yeri hangisidir?


- A. köy
- B. ilçe
- C. il

8. Aşağıdakilerden hangisi milli marşımızın adıdır?

- A. İstiklal Marşı
- B. Türk Marşı
- C. Cumhuriyet Marşı

9. Aşağıdaki görsellerden hangisi milli kültürümüzü yansıtmaz?

A.



B.



C.



10.

- Düğünlerimiz
- Bayram ziyaretleri
- Boğa güreşleri

Yukarıdakilerden kaç tanesi kültürümüzü yansıtan unsurlardandır?

- A. 2
- B. 1
- C. 3

TÜRKÇE

- | | |
|-------|-------|
| 1) B | 11) A |
| 2) A | 12) C |
| 3) C | 13) C |
| 4) A | 14) A |
| 5) C | 15) C |
| 6) B | |
| 7) A | |
| 8) A | |
| 9) A | |
| 10) B | |

MATEMATİK

- | | |
|-------|-------|
| 1) C | 11) B |
| 2) C | 12) B |
| 3) B | 13) C |
| 4) B | 14) B |
| 5) A | 15) C |
| 6) A | |
| 7) C | |
| 8) B | |
| 9) A | |
| 10) C | |

HAYAT BİLGİSİ

- 1) A
- 2) C
- 3) B
- 4) A
- 5) B
- 6) A
- 7) C
- 8) A
- 9) B
- 10) A