

SEVİMLİ FARE

Sevimli farenin adı Fanfa'ydı. Fanfa, kaldırım kenarında yürüyordu. Karşısında büyük bir parça peynir duruyordu. Çok mutlu olmuştu. Peyniri eline aldı ve eve doğru şarkılar söyleyerek yürümeye devam etti.



1 ve 2. soruları metne göre cevaplayalım.

1. Fanfa nerede yürüyordu?

- A. Yol kenarında
- B. Kaldırım kenarında
- C. Su kenarında

2. Fanfa şarkılar söyleyerek nereye doğru yürüdü?

- A. Eve doğru
- B. Ormana doğru
- C. Köye doğru

3. Aşağıdaki kelime gruplarından hangisi anlam ilişkisi bakımından diğerlerinden farklıdır?

- A. hüzün - sevinç
- B. tembel - çalışkan
- C. kırmızı - al

4.

	Seda
	bahçeye
	koştı

Yukarıdaki verilen sözcüklerin sözlük sırasına göre dizildiği zaman hangisi en sonda yer alır?

- A.
- B.
- C.




5.

soğan	çiçek
deniz	dergi

Yukarıdaki sözcüklerin alfabetik sıraya dizilişi hangi seçenekte verilmiştir?



- A.
- B.
- C.

6.

	Kim?	<u>Ayça</u> spora gitti.
	Ne ?	Annem <u>kek</u> yaptı.
	Nasıl ?	<u>Akşam</u> erken uyudum.

Tablodaki soruların cevapları verilen cümlelerde altı çizilerek belirtilmiştir. Buna göre hangi sorunun cevabı yanlış verilmiştir?

- A.  B.  C. 

7. Akşam ödevlerimi annem  birlikte yaptım.  annem anlamadığım yerlerde bana yardımcı oluyordu.

Yukarıdaki cümlede sembollerin yerine sırasıyla hangi sözcükler gelmelidir?

- A. ve B. ile C. oysa
çünkü çünkü ile

8.  Babam yeni araba aldı

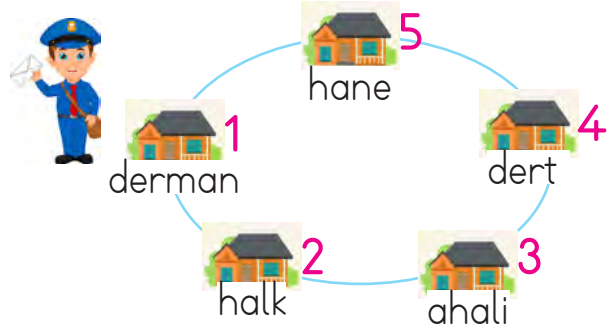
 O bizimle gelemeyecek mi

 Ben çantamı sırtımda

Yukarıdaki ifadelerden hangisi cümle değildir?

- A.  B.  C. 

9. SORUYA GEL



Yukarıdaki postacı birbiri ile zıt anlamlı sözcüklerin bulunduğu evlerden zarf alacak, birbiri ile eş anlamlı sözcüklerin yazılı olduğu evlere zarf bırakacaktır. Buna göre postacının zarf aldığı ve zarf bıraktığı evler hangileridir?

Zarf aldığı Zarf bıraktığı

- A. 1, 2 3, 4
B. 1, 4 3, 5
C. 1, 4 2, 3

10. Denizin içinde balıklar() deniz yıldızı() deniz süngeri yaşar()

Yukarıdaki cümlede ayrıca belirtilen yere sırasıyla hangi noktalama işaretleri gelmelidir?

- A. (,) (,) (?)
B. (,) (,) (.)
C. (,) (,) (.)

11.



sovuk

gaste

perşembe

spor

Eda verilen sözcüklerden yazımı hatalı olanları düzeltecektir. Buna göre Eda'nın hangi sözcüğü düzeltmesine gerek yoktur?

A. perşembe B. gaste C. spor

12.

Kalın kazak giydiği için üşümedi.

Yukarıdaki cümlede hangi sözcüğün özelliği belirtilmiştir?

A. kazak B. kalın C. giydiği

13. Kelebek sözcüğünün satır sonunda yazılışlarından hangisi hatalıdır?

A.ke- lebek B.kele- bek

C.kel- ebek

14.



Adem



İpek



Nedim

Hayvanlara verilen adlar özel addır, büyük harfle yazılır.

Kişi adları her zaman büyük harfle başlar.

Mahalle adları özel ad değildir, küçük harf ile başlar.

Yukarıda isimleri verilen çocuklardan hangisinin ifadesi yanlıştır?

A. Nedim

B. Adem

C. İpek

15.

Minik köpek çok tatlı

Ağaç kenarında saklı

Karnı acıkmış belli

Havlamakta çok haklı

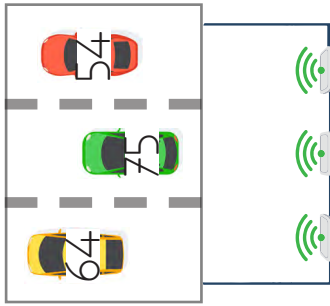
Yukarıdaki şiirin başlığı aşağıdakilerden hangisi olabilir?

A. Ağaçtaki Kedi

B. Minik Köpek

C. Yavaş Kaplumbağa

1.



Yukarıda verilen hız uyarı işareti yoldan geçen araçların hızını en yakın onluğa yuvarlayarak sürücülerini uarmaktadır. Buna göre hızları verilen araçların uyarı işaretindeki hızları sırasıyla kaç olur?

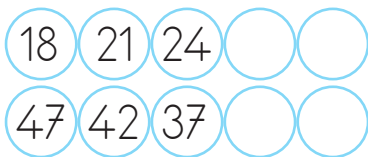


- A. 50 60 70
B. 50 80 60
C. 50 60 80


2. 63 sayısını 3 onluk ve 8 birlik azaltırsak hangi sayıyı elde ederiz?

- A. 45 B. 35 C. 25

3.



Yukarıdaki örüntü devam ettirildiğinde aynı sayılar aynı renge boyanacaktır. Buna göre doğru boyama hangisi olur?



4.



$$19 + 34$$

$$29 + 23$$

$$17 + 36$$

$$27 + 25$$

Yukarıdaki toplama işlemlerinde sonuçları aynı olanlar eşleştirilecektir. Buna göre hangi eşleştirme doğru olur?

A.



B.



C.



5.



$$\begin{array}{r} 73 \\ - 57 \\ \hline \end{array}$$

Yukarıdaki çıkarma işleminin sonucunu bulmak için hangi çocukların tuttuğu sayılarla çıkarma işlemi yapılmalıdır?

A. Can Sude

B. Emre Sude

C. Emre Can

6.

$$24 + \text{göze} = 43$$

$$17 + \text{göze} = 51$$

Yukarıdaki toplama işlemlerine göre $\text{göze} + \text{göze}$ ifadesi hangi sayıya eşittir?

A.53

B.54

C.43

7.



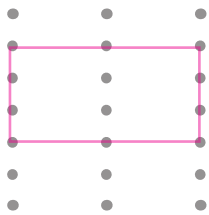
Sude 32 liraya terlik, 27 liraya şapka alınca 18 lirası kaldığına göre Sude'nin en başta kaç lirası vardır?

A.76

B.77

C.78

8.



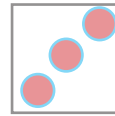
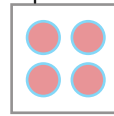
Yukarıdaki çivili tahtaya gergin bir şekilde lastik takılarak dikdörtgen oluşturulmuştur. Şeklin bir köşesindeki çivi çıktığında ve başka yere takılmadığında hangi geometrik şekil oluşur?



9.

SORUYA GEL

Ali'nin resim defterinin birinci sayfasında köpek, ikinci sayfasında koyun, üçüncü ve dördüncü sayfasında kuş resmi vardır. Sonraki sayfalarda bu resimler aynı sırayla tekrarlanmaktadır. Ali resim defterinden rastgele bir resmi beyaz bir kağıda çizmek istemektedir. Hangi resmi çizeceğine karar veremediği için eline iki zar alıp atmıştır. İki zarda da üst yüzeye gelen sayıları çarpıp o sayfada hangi resim varsa onu çizmiştir.



Ali'nin attığı zarlar yukarıdaki gibiyse Ali hangi resmi yapmıştır?

A.



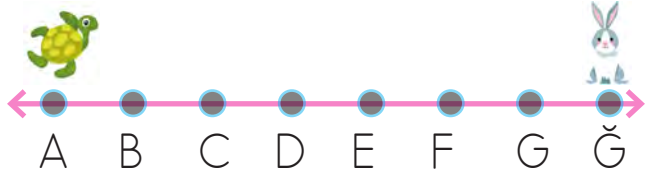
B.



C.



10.



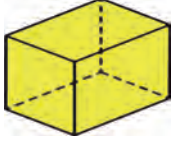
Kaplumbağa sağa doğru 3 birim gittiğinde tavşan sola doğru 4 birim gitmektedir. Buna göre tavşan ve kaplumbağa hangi noktada karşılaşır?

A.D

B.E

C.F

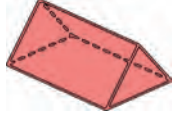
11.



1



2

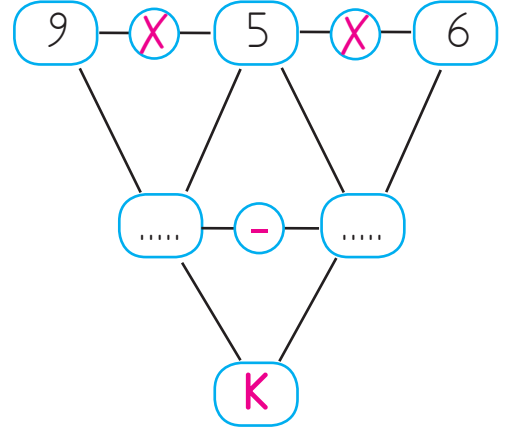


3

Yukarıda verilen geometrik cisimler için aşağıdaki ifadelerden hangisi yanlıştır?

- A. 1. sırada belirtilen geometrik cismin adı kare prizmadır.
- B. 2. sırada belirtilen geometrik cisim 6 eş kareden oluşmaktadır.
- C. 3. sırada belirtilen geometrik cisim 3 üçgen ve 3 kareden oluşmaktadır.

14.



Yukarıdaki şemada işlemler sırası ile yapılırsa "K" yerine hangi sayı yazılır.?

- A. 10
- B. 15
- C. 20

12.



Bir kova 6 sürahi su ile dolmaktadır. 4 kova kaç sürahi su ile dolar?

- A. 24
- B. 18
- C. 10

13. Gamze tanesi 5 lira olan cetvel-lerden 7 tane alıyor. Gamze kaç lira ödemiştir?


- A. 12
- B. 35
- C. 30

15. Esmâ tanesi 3 lira olan kalem-lerden 4 tane, tanesi 2 lira olan silgilerden 3 tane almıştır. Satıcıya 50 lira veren Esmâ kaç lira para üstü alır?

- A. 32
- B. 28
- C. 30

1. Aşağıdakilerden hangisi sağlığımız için öncelikli değildir?

- A. Düzenli spor yapmak.
- B. Temizliğimize önem vermek.
- C. Sabahları çok geç uyanmak.

2.  Reçete yazmak
reçetede ki ilaçları vermek
..... görevidir.

Yukarıdaki boşluk hangi ifade ile tamamlanabilir?

- A. hemşire - doktor
- B. hemşire - eczacı
- C. doktor - eczacı


3.  Evdeki sorumluluğum
.....

Emre'nin ifadesinde boş bırakılan yere hangisi gelemmez?

- A. Yatağı toplayarak.
- B. Faturaları yatırmak.
- C. Çiçekleri sulamak.

4. Dengeli beslenmek ile ilgili ifadelerden hangisi doğrudur?

- A. Vücudumuzun ihtiyacı kadar, her tür besinden tüketmeliyiz.
- B. Çok fazla yemek yemeliyiz.
- C. Sevdiğimiz yemekleri yemeliyiz.

5.  Bu mevsimde karpuz çok lezzetli, bol bol tüketiyoruz.




Seda'nın yorumundaki mevsime göre aşağıdakilerden hangisini giymesi beklenmez?



6. Yağmurlu ve soğuk havada en sevdiği tişörtü ile dışarı çıkan Aslı hasta olmuştur.
Yukarıdaki ifadeye göre Aslı'nın hasta olmasının temel sebebi nedir?


- A. Mevsimine uygun giyinmemesi.
- B. En sevdiği tişörtü giyinmesi.
- C. Yağmurlu ve soğuk havada dışarı çıkması.


7. Aşağıdakilerden hangisinin davranışı yanlıştır?


- A.  Otobüs yolculuğunda sadece duraklarda inebiliriz.
- B.  Sürücü belgesi olmadan araba kullanabiliriz.
- C.  Karşıdan karşıya geçerken yaya geçidini kullanırız.

8. Trenlerin yolcu indirip bindirdikleri yerin adı aşağıdakilerden hangisidir?







- A. Hava limanı
- B. Otogar
- C. İstasyon

9.  Taşıtların pencerelerinden sarkmak yanlış bir davranıştır.

 Taşıt sürücüsü ile konuşmanın kimseye zararı yoktur.

 Okul servisinden inerken sağımıza ve solumuza iyice bakmalıyız.

Yukarıdakilerden hangisi güvenli yolculukla ilgili doğru ifadelerdir?

- A.  
- B.  
- C.  

10.



Yukarıda hangi ulaşım türlerine örnek verilmemiştir?

- A. Deniz yolu
- B. Demir yolu
- C. Hava yolu

TÜRKÇE

- 1.B
- 2.A
- 3.C
- 4.A
- 5.C
- 6.B
- 7.B
- 8.C
- 9.C
- 10.B
- 11.C
- 12.A
- 13.C
- 14.A
- 15.B

MATEMATİK

- 1.B
- 2.C
- 3.A
- 4.A
- 5.C
- 6.A
- 7.B
- 8.C
- 9.C
- 10.A
- 11.C
- 12.A
- 13.B
- 14.B
- 15.A

HAYAT BİLGİSİ

- 1.C
- 2.C
- 3.B
- 4.A
- 5.B
- 6.A
- 7.B
- 8.C
- 9.A
- 10.B