

ADI SOYADI: .....

## TÜRKÇE

Bugünkü okulun ve eğitimin amaçlarından biri de okumayı alışkanlık hâline getirmesidir. Bütün eğitim kurumları, bu amacın gerçekleşmesine çalışmaktadır. Çünkü bireylerin gelişmesinde, ulusların kalkınma ve yükselmesinde bu nokta ihmal edilemez.

Okumak gibi soylu bir işten, kitap gibi iyi bir arkadaştan kimse kendini uzak tutamaz. Onların yararını ve gerekliliğini inkâr edemez. İyi memur, iyi işçi, iyi çiftçi, iyi tüccar, iyi sanatçı... Kısacası iyi vatandaş daha çok okumuş ve okuyan kimseler arasından çıkmıştır ve çıkacaktır,

(ilk üç soruyu metne göre yanıtlayınız.)

**1) Bireylerin gelişmesinde ve ulusların yükselmesinde aşağıdakilerden hangisi dikkate alınmalıdır?**

- A)Eğitim kurumlarının bakım ve onarımı
- B)Okumanın alışkanlık hâline getirilmesi
- C)Kalkınmanın önemi ve gereği
- D)Eğitime ayrılan alanların genişletilmesi

**2) Yukarıdaki yazıda aşağıdakilerin hangisinden söz edilmemiştir?**

- A. Bütün eğitim kurumları okumayı alışkanlık hâline getirmek için çalışmalıdır.
- B. Bireylerin gelişmesinde, ulusların kalkınma ve yükselmesinde okumanın önemi ihmal edilemez.
- C. Okumak gibi soylu bir işten, kitap gibi iyi bir arkadaştan kimse kendini uzak tutamaz.
- D. işçi, memur, tüccar, sanatçı okumanın yararını ve gerekliliğini inkar edemez.

**3) İyi memur, iyi işçi, iyi çiftçi, iyi tüccar, iyi sanatçı olmak daha çok neye bağlıdır?**

- A)Gelişmiş bir ülkede yaşamaya
- B)Kitaplardan bol bol yararlanmaya
- C)Her zaman düzenli çalışmaya
- D)Ülkede meslek okullarının bulunmasına

**4-Aşağıdaki sayılardan hangisi anlam ilişkisi bakımından sesteşi yoktur?**

- A)100 B)1000 C)7 D)20

**5- Aşağıdaki cümlelerin hangisinde virgül işareti farklı amaçla kullanılmıştır?**

- A)Hamza , ödevlerini düzenli yapınca çok başarılı oldu.
- B)İrmağın kıyısında durdu, ayaklarını suya değdirdi.
- C)Fahri köye gitti , bizi çağırmadı.
- D)Bu gün çok çalıştım , yoruldum , uyudum.

Evde oturmaktan çok sıkılan Ayşegül, "Ne yap-sam acaba?" diye düşünüyordu. Annesine yardım etmeye karar verdi. Mutfağa gidip beraber kek yaptılar. Yaptıkları keki paketleyip, okula götürdü. Hamza'da hurma getirince arkadaşlarıyla beraber afiyetle yediler.

**6-Yukarıdaki metinde aşağıdaki hikaye unsurlarından hangisi yoktur?**

- A)Olay B)Yer C)Kahraman D)Zaman

**7- Aşağıdaki cümlelerin hangisinde karşılaşturma yapılmıştır?**

- A) Akar, sınavlara çok çalıştı.
- B) Ecem, birinci sınava göre daha başarılı oldu.
- C) Hasan sınavda başarılı olmak için çalışıyor.
- D) Şeyma, ödevlerde kardeşine yardım eder.

**8-Aşağıdaki cümlelerin hangisinde altı çizili kelime gerçek anlamında kullanılmıştır?**

- A)Ecrin, her soruda parmağını kaldırdı.
- B)Akar, çok ince düşünceli birisiydi.
- C)Burak istediği sonucu alamayınca canı sıkıldı.
- D)Zeynep, yumuşak huylu birisiydi.

**9- Aşağıdaki cümlelerin hangisinde de, da'nın yazımı ile ilgili bir hata yapılmıştır?**

- A) Ali **de** okula gelecek.
- B) Melikhan kitabını ev **de** unutmuş.
- C) Param malesef cebim**de** değil.
- D) Birden Atilla'yı karşısinda görünce çok şaşırdı.

**10- Aşağıdaki cümlelerin hangisinde zıt anlamlı kelimeler bir arada kullanılmamıştır?**

- A)Yukarıya nasıl çıktıysan öylede aşağı in.
- B) Her şeyin azı da zarar çoğu da zarar.
- C)İşi yapsam mı yapmasam mı diye düşünüyordu.
- D) İleri geri konuşarak asabımı bozdu.

**11- Sağlık konusunda en çok ihmal edilen şeylerden birisi de ağız ve diş sağlığıdır. Düzenli olarak diş doktoruna gidip kontrollerini yaptıran kişi sayısı çok az. Oysa vücudumuzun bir parçası olan dişlerimize özen göstermeliyiz. Yukarıdaki metnin ana düşüncesi nedir?**

- A) Sağlığımıza dikkat etmeliyiz.
- B) Doktora gitmeliyiz.
- C) Diş sağlığımıza özen göstermeliyiz
- D) 6 ayda bir diş kontrolü yaptırmalıyız.

**12)Aşağıdakilerden hangisi sözcükte en önce gelir?**

- A)araba B) araç C) aralık D) arazi

13) “Çok sevinmek, neşelenmek, sevinçten yerinde duramamak” anlamında olmayan deyim hangisidir?

- A)Etekleri zil çalmak B) İçi cız etmek  
C)Ağzı kulaklarına varmak D) Havalara uçmak

14-Dünya kelimesi hangi cümlede yanlış yazılmıştır?

- A)Benim babam **dünya**nın en yakışıklısıdır.  
B)Türkiye’de ve **dünya**da salgın var.  
C) Ay **dünya**nın etrafında döner.  
D)Kendi **dünya**sında yaşamaktadır.

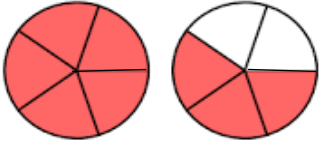
15-Aşağıdaki kelimelerden hangisinin hece sayısı farklıdır?

- A)Türkiye B)ilkokul C)domates D)Trabzon

### MATEMATİK

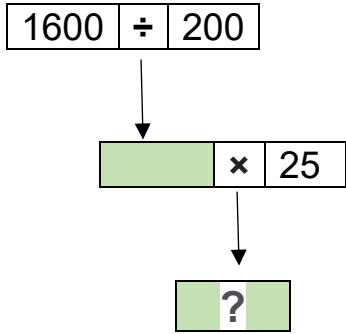
1-Üç basamaklı en büyük sayı ile dört basamaklı en küçük sayının çarpımı kaçtır?

- A)909 000 B)999 000  
C)900 000 D)900 900



2- Yandaki modelin kesir sayısı olarak ifade edilişi aşağıdaki-lerden hangisidir?

- A)  $\frac{5}{10}$  B)  $\frac{8}{5}$  C)  $\frac{2}{10}$  D)  $\frac{2}{5}$



3-Yukarıdaki işlemlere göre “ ? ” yerine hangi sayı gelmelidir?

- A)200 B)150  
C)100 D) 50

4-Fahri çiftlikten topladığı 615 yumurtayı her biri 15 yumurta alan kolilere eşit bir şekilde yerleştirdi. Kolinin tanesini pazarda 10 TL’den sattı. Fahri kaç liralık satış yapmıştır ?

- A)350 B)410  
C)140 D)620



5-Yukarıdaki sayı doğrusunda gösterilen A harfinin kesir sayısı aşağıdakilerden hangisidir?

- A)  $\frac{6}{9}$  B)  $\frac{3}{9}$  C)  $\frac{4}{10}$  D)  $\frac{6}{10}$



6-Annemin yaşı benim yaşıma 5 katının 14 eksigidir. Annem 36 yaşında olduğuna göre ben kaç yaşıdayım?

- A)8 B)9  
C)10 D)11

$$\begin{aligned} \triangle + 60 &= 90 \\ \bigcirc - 50 &= 30 \\ \star \times 10 &= 40 \\ \heartsuit \div 10 &= 10 \end{aligned}$$

7-İşlemlerde verilmeyen  $\triangle + \bigcirc + \heartsuit + \star$  sayılarının toplamı kaçtır?

- A-200 B-341 C-214 D-330

8) 75 tane kalemin  $\frac{3}{5}$  ünü kardeşime verdim.

Bana kaç kalem kaldı?

- A)30  
B)24  
C)12  
D)25

Gerçek sonuç	Tahmini sonuç	sonuç farkı
42	→	
$\times 68$	→	

9-Yukarıdaki çarpma işleminde sayılar en yakın onluğa yuvarlanıp sonuç tahmin ediliyor. Tahmin ile işlemin gerçek sonucu arasındaki fark kaç olur?

- A) 50 B) 56 C) 62 D) 28

10- Aşağıdaki ifadelerden hangisi yanlıştır?

- A. Basit kesirlerin paydası payından küçüktür.  
B. Bileşik kesirler bütünden büyüktür veya bütüne eşittir.  
C. Tam sayılı kesirler tam sayı ve basit kesirle gösterilir.  
D)Payı bir olan kesirlere birim kesir denir.

11-Yandaki bölme işleminin cevabı kaç basamaklı bir sayı olur?

- A)1 B)2 C)3 D)4

$$\begin{array}{r} 656 \overline{) 5} \end{array}$$

12-Bir günün  $\frac{1}{8}$  'sını ders çalışarak geçiren bir öğrenci, bir haftada kaç saat ders çalışmış olur?

- A) 21 B) 23  
C) 25 D) 27

13) 'Yirmi sekiz bin on altı ' sayısının sayı değerleri toplamı kaçtır?

- A-12 B-15  
C-9 D-17

14)Bir bölme işleminde bölen 6, bölüm 12 , kalan 4 olduğuna göre bölünen sayısı kaçtır?

- A)52 B)94  
C)76 D)48

$$\frac{8}{5} \quad \frac{5}{5} \quad \frac{11}{5} \quad \frac{7}{5}$$

15)Yukarıdaki kesirleri küçükten büyüğe doğru sıraladığımızda, sıralama nasıl olur?

- A)  $\frac{8}{5}$   $\frac{11}{5}$   $\frac{7}{5}$   $\frac{5}{5}$  B)  $\frac{5}{5}$   $\frac{7}{5}$   $\frac{8}{5}$   $\frac{11}{5}$   
C)  $\frac{11}{5}$   $\frac{8}{5}$   $\frac{7}{5}$   $\frac{5}{5}$  D)  $\frac{5}{5}$   $\frac{8}{5}$   $\frac{11}{5}$   $\frac{7}{5}$

ADI SOYADI: .....

### FEN BİLİMLERİ

1- Öğretmenimiz "Pandemi döneminde Covid-19 hastalığına karşı bağışıklık sistemimizi geliştirmek için ..... içerikli besinler yememiz gerektiğini söyledi." İfadesindeki noktalı yere aşağıdaki besin içeriklerinden hangisi gelmelidir?





- A)Protein B)Vitamin C)Karbonhidrat D)Yağ

- Akışkandır.
- Hacmi sabit değildir.
- Sıkıştırılabilir.

2-Yukarıdaki ifadeler aşağıdaki maddelerden hangisi için geçerli değildir?

- A)Parfüm B)Bulut C)Süt D)Hava

7- Ayşe Hüma, soluğu havanın kütlesini ölçmek için aşağıdaki kaplardan hangisini kullanmalıdır?

- A)  B)  C)  D) 







3-Teknoloji geliştikçe mıknatısın kullanım alanları da gelişmektedir.

Aşağıdakilerden hangisi mıknatısın kullanıldığı teknolojik ürünlerden değildir?



- A)MR cihazı B) Mikrofon C) Ütü D)Maglev treni

4- "Bazı maddelere uygulanan kuvvet ortadan kalktığı zaman esnek olduklarından dolayı tekrar eski şekillerine dönerler." Aşağıdakilerden hangisinin esnek özelliği yoktur?

- A)  B)  C)  D) 




5-Mustafa öğretmen, öğrencilerine madenden yapılmış ürünlerin resmini göstermek istiyor. Hiranur , tahtadaki resimlerden bir tanesinin madenden yapılmadığını belirterek öğretmenini uyarıyor. Hiranur hangi resmi göstermiş olabilir?  
A)Araba B)Elbise C) Çatal-kaşık D) Televizyon



Arkadaşlar! Dünya, Güneş etrafındaki dolamını tamamladığında kaç kez kendi etrafında dönmüş olur?

6- Melisa'nın arkadaşlarına sorduğu sorunun cevabı kaçtır?

- A)1 B)12 C)365 D)4



8-Aşağıdakilerden hangisi kayaçların doğada parçalanmasına neden olan etkenlerden biri değildir?





- A- Dünyanın Hareketleri B- Su  
C- sıcaklık farkı D- rüzgar

10-Katı bir maddenin sıvı hale geçmesi için ne yapılmalıdır?

- A)Kuvvet uygulanmalıdır. B) Isı verilmelidir.  
C)Hacmi genişletilmelidir. D)Kütlesi artırılmalıdır.



9- Aşağıda mıknatısların durumları verilmiştir. Buna göre, hangi seçenek yanlıştır?

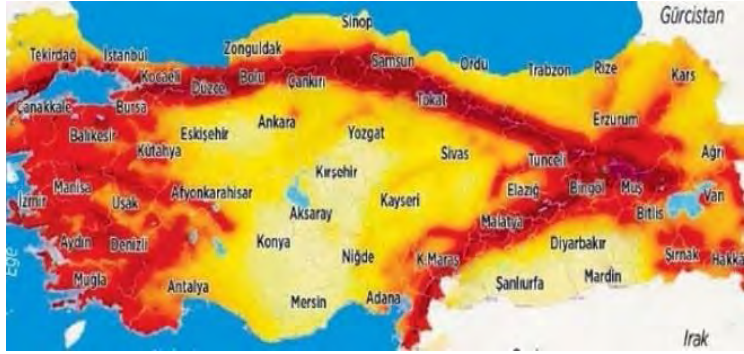
- A)  Birbirini çeker.
- B)  Birbirini iter.
- C)  Birbirini iter.
- D)  Birbirini iter.

## SOSYAL BİLGİLER



1-Yandaki görselde anlatılmak istenen mesaj aşağıdakilerden hangisidir?

- A) Teknolojinin iletişime sağladığı kolaylıklar  
B) Teknolojinin insan hayatındaki önemi  
C) Teknolojinin sosyal hayata zararları  
D) Teknolojinin çocuklara faydası



2-Yukarıdaki harita Türkiye'nin deprem haritasıdır. Haritaya göre en az deprem riski aşağıdaki illerden hangisidir?

- A) Konya B) Erzurum C) İstanbul D) Bursa

3) Aşağıdakilerden hangisi nüfus cüzdanında yer almaz?

- A) Baba adı B) Okulumuzun adı  
C) Anne adı D) Doğum tarihi

4) Mustafa kemal, halkı bilinçlendirmek ve Milli Mücadele'yi başlatmak için Samsun'dan sonra sırasıyla nerelere gitmiştir?

- A) Erzurum-Ankara-Sivas-Amasya  
B) Sivas-Ankara-Amasya-Erzurum  
C) Amasya-Erzurum-Sivas-Ankara  
D) Ankara-Amasya-Sivas-Erzurum

5- Hangisi insanları buluş yapmaya yönelten nedenlerden biridir?

- A) Sorunları çözme isteği  
B) Eğlenceli yaşam isteği  
C) Bilime olan aşırı sevgisi  
D) Zengin olma isteği

1	İnsanların farklı davranışlar göstermesi doğaldır.	
2	Farklılıklar toplumun zenginliğini gösterir.	
3	Farklı duygulara sahip insanlardan uzak durmalıyız.	
4	Yetenekli olmayan arkadaşlarımızı dışlayarak onlara ders vermeliyiz.	

6-Yukarıdaki ifadeleri doğru veya yanlış olarak işaretlersek sıralama nasıl olur?

A-	1 D	B-	1 D	C-	1 D	D-	1 Y
	2 D		2 D		2 Y		2 Y
	3 Y		3 Y		3 D		3 Y
	4 D		4 Y		4 Y		4 D



7-

Aşağıdakilerden hangisi beşeri bir unsurdur?

- A) Uludağ B) Fırat nehri  
C) Ilısu Barajı D) Akdeniz

- I. İhtiyaçların değişmesi  
II. Daha rahat yaşama isteği  
III. Eski teknolojilerin talepleri karşılayamaması  
IV. Geçmişe özlem duyulması

8-Yukarıda verilenlerden hangileri icatları doğuran nedenlerdir?

- A) I-II B) I-II-IV  
C) I -II -III -IV D) I-II-III

9) Aşağıda, buluşlar ile buluşu yapan kişiler eşleştirilmiştir. Bu eşleştirmelerden hangisi yanlıştır?



A) Alexander Graham Bell



B) Marconi



C) Thomas Edison



D) Alessandro Volta



I



II



III



IV

10-Yukarıdaki teknolojik ürünlerin kullanım alanları , aşağıdakilerin hangisinde doğru sıralanmıştır?

	I	II	III	IV
A)	Tarım	sağlık	ev eşyaları	ulaşım
B)	ulaşım	sağlık	Tarım	ev eşyaları
C)	ev eşyaları	ulaşım	sağlık	Tarım
D)	Tarım	ev eşyaları	ulaşım	sağlık

Başarılar...

M. Mustafa TAŞ