

Sembol	▲	✚	⊗	★	☆
Karşılık Gelen Doğal Sayı	1	10	100	1000	10 000

Sena, 4125 ve 62 173 sayılarını aşağıdaki gibi göstermiştir.

4125 → ★★☆☆⊗✚✚▲▲▲▲▲

62 173 → ☆☆☆☆☆★☆☆⊗✚✚✚✚✚✚✚▲▲▲

Buna göre "Yetmiş iki bin beş yüz seksen dört" sayısının bu sembollerle gösterilişi aşağıdakilerden hangisidir?

- A) ★★☆☆☆☆☆☆☆☆⊗⊗⊗⊗⊗✚✚✚✚✚✚✚▲▲▲▲▲
- B) ⊗⊗⊗⊗⊗⊗⊗★☆☆⊗⊗⊗⊗⊗▲▲▲▲▲▲▲▲✚✚✚✚
- C) ☆☆☆☆☆☆☆★☆☆⊗⊗⊗⊗⊗✚✚✚✚✚✚✚▲▲▲▲▲
- D) ☆☆☆☆☆☆☆⊗⊗✚✚✚✚✚✚✚▲▲▲▲▲▲★☆☆★

2-)

Aşağıdaki öğrenciler kartlara yazdıkları sayıları gösteriyorlar.



Aşağıdakilerden hangisi öğrencilerin gösterdiği sayılardan birinin okunuşu değildir?

- A) Altı yüz seksen bin iki yüz elli dört
- B) Elli dört bin yetmiş dört
- C) Altı yüz sekiz bin üç yüz yetmiş dört
- D) Elli bin iki yüz yetmiş dört

3)

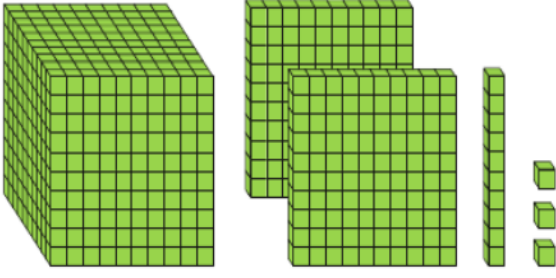
Aşağıdaki sayıların okunuşları doğru ise baştaki çember kırmızıya boyanacaktır.

- ☐ 36 947 Otuz altı bin dokuz yüz kırk yedi
- ☐ 961 673 Dokuz yüz altmış bir bin altı yüz yetmiş üç
- ☐ 78 065 Yetmiş sekiz bin yüz altmış beş
- ☐ 105 274 Yüz beş bin iki yüz yetmiş dört

Buna göre aşağıdakilerden hangisi çemberlerin yukarıdan aşağıya boyanmış şeklidir?

- A) ☒ ☐ ☐ ☐
- B) ☒ ☒ ☒ ☒
- C) ☐ ☒ ☒ ☐
- D) ☐ ☒ ☐ ☒

4-)



Taban blokları ile gösterilen doğal sayının okunuşu aşağıdakilerden hangisidir?

- A) Bin iki yüz yirmi üç
- B) On iki bin iki yüz on üç
- C) Bin iki yüz on üç
- D) On bin iki yüz yirmi üç

5-)



Yukarıdakilerden kaç tanesi kayaçların parçalanmasında etkilidir?

- A) 4
- B) 3
- C) 2
- D) 1

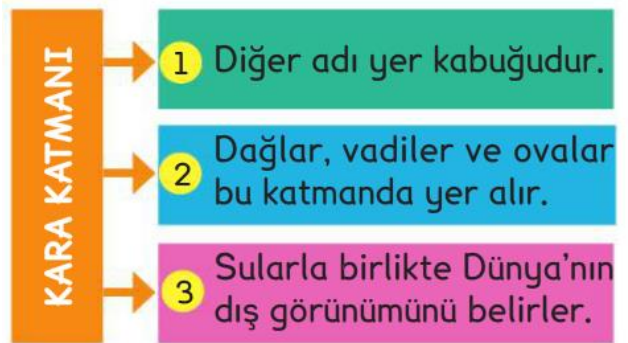
6-)



Yukarıda hangi madenin kullanım alanına dair bilgi verilmemiştir?

- A) Altın
- B) Kömür
- C) Demir
- D) Bor

7-)




Kara katmanı ile ilgili verilen bilgilerden hangileri doğrudur?

- A) 1 ve 2
- B) 2 ve 3
- C) 1 ve 3
- D) 1, 2 ve 3

8-)



a. Çakıl



b. Kum



c. Kaya



d. Taş

Melih, yukarıda verilen kayaç türlerini büyükten küçüğe doğru sıralamak istiyor.

- I. a ve c'yi yer değiştirerek
- II. c ve b'yi yer değiştirerek
- III. b ve d'yi yer değiştirerek

Sıralamanın doğru olması için hangilerinin yapılması gerekir?

- A) Yalnız I    B) I ve II    C) II ve III    D) I ve III

9-)

Aşağıdaki sözcük çiftlerinden hangileri arasındaki anlam ilişkisi farklıdır?

- A) Gece - Gündüz  
B) Hızlı - Yavaş  
C) Kuru - Yaş  
D) Yaşam - Hayat

10-)

Şoför, ağır adımlarla gelip direksiyonun başına geçti.

“Ağır” kelimesi, aşağıdaki cümlelerin hangisinde bu cümledeki anlamının zıddıyla kullanılmıştır?

- A) Bu kap çok hafifmiş.  
B) Şımarık insanlardan nefret ederim.  
C) Bugün sahilde hızlı yürüdük.  
D) Yüksek sesle müzik dinliyordu.

11-)



Açıklamasına göre Zıpzip Kurbağa, kaç numaralı yere basmadan bitişe ulaşmalıdır?

- A) 2    B) 4    C) 5    D) 6



