

Adı:

Soyadı:

2021-2022 EĞİTİM-ÖĞRETİM YILI
FATİH SULTAN MEHMET İLKOKULU 4. SINIFLAR
MATEMATİK DERSİ 2.DÖNEM 1.YAZILI SINAVI

Puan:

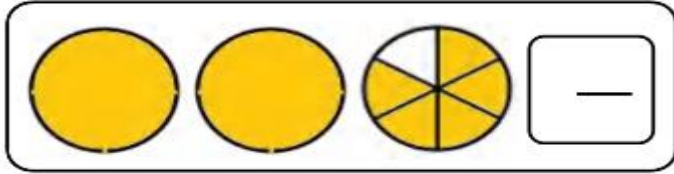
1. Aşağıdaki kesirlerin okunuşlarını yazınız. (6p)

$$\frac{8}{5} = \text{_____}$$

$$\frac{7}{12} = \text{_____}$$

$$2\frac{1}{3} = \text{_____}$$

2. Aşağıdaki kesir modellerinin yanlarına kesirlerini yazınız. (6p)



$$\frac{2}{4}, \frac{5}{4}, \frac{4}{4}, \frac{8}{4}$$

3. Yukarıdaki kesirleri küçükten büyüğe sembol kullanarak sıralayınız. (4p)



4. Aşağıdaki işlemleri yapınız. (8x1=8p)



- gün saattir.
- hafta gündür.
- ay gündür.
- ay haftadır
- yıl aydır.
- yıl haftadır.
- yıl mevsimdir.
- yıl gündür.

5. Aşağıdaki işlemleri yapınız. (2x4=8p)

$$\begin{array}{r} 294 \\ \times 75 \\ \hline \end{array}$$

$$\begin{array}{r} 286 \\ \times 4 \\ \hline \end{array}$$

6. Aşağıda verilen dönüşümleri yapınız. (4x2=8p)

1 saat 30 dakika = dakika

120 saniye = dakika

2 saat 10 dakika = dakika

2 dakika 20 saniye = saniye



7. Çiftlikteki toplam hayvan sayısı kaçtır? (5p)

İnek	
Ördek	
Tavuk	
Koyun	

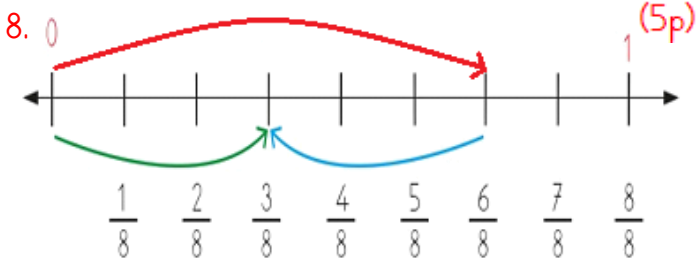
Not: Her şekil 3 hayvanı gösterir.

A) 34

B) 18

C) 36

D) 54



Sayı doğrusunda yapılan işlem hangisidir?

A) $\frac{3}{8} + \frac{3}{8} = \frac{6}{8}$

C) $\frac{6}{8} - \frac{3}{8} = \frac{3}{8}$

B) $\frac{8}{8} - \frac{2}{8} = \frac{6}{8}$

D) $\frac{8}{6} - \frac{2}{6} = \frac{6}{6}$

9. Yandaki saatin 2 saat 15 dakika sonrası saat kaç gösterir? (5p)

A) 12:25

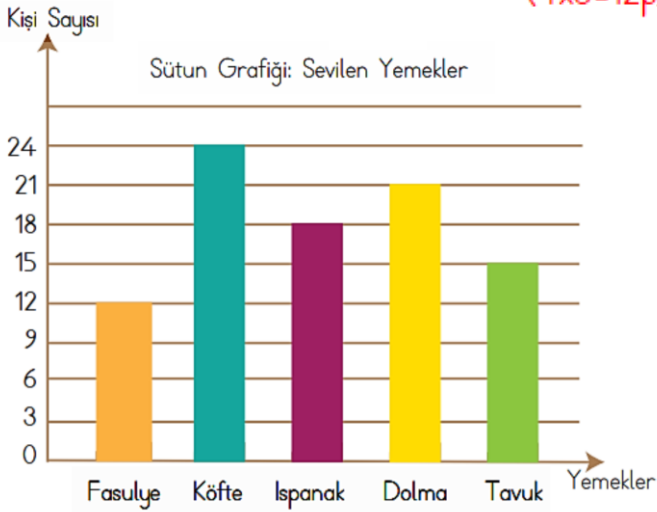
B) 12:30

C) 02:15

D) 14:15



10. Yiğit, arkadaşlarına sevdikleri yemeklerle ilgili bir anket hazırlamıştır. Anket sonuçlarına göre oluşturulan grafik üzerinden soruları yanıtlayınız. (4x3=12p)



a) En çok sevilen yemek hangisidir?

b) En az sevilen yemek hangisidir?

c) Köfte sevenlerin sayısı, tavuk sevenlerin sayısından kaç kişi fazladır?

d) Ankete toplam kaç kişi katılmıştır?



11. Duru'nun parasının $\frac{3}{5}$ 'ü 30 TL'dir. Duru'nun parasının tamamı kaç TL'dir? (5p)

A) 18

B) 6

C) 10

D) 50

12. 60 litre yağı 3 litrelik şişelere koymak istersek kaç tane şişe gerekir? (5p)

A) 19

B) 20

C) 21

D) 22

13. Saat 12.00'de yatan bir bebek, saat 18.00'de uyanıyor. Bu bebek kaç saat uyumuştur? (5p)


A) 18 saat

B) 12 saat

C) 8 saat

D) 6 saat

14. Sabah 08.10 'da ders başlıyor. 12.40 'da bitiyor. Acaba kaç saat, kaç dakika okulda kalıyorum? (6p)



15. Bir çuval mercimeğin önce $\frac{3}{10}$ 'ü, sonra $\frac{5}{10}$ 'i satılıyor. Geriye 12 kilogram mercimek kaldığına göre bir çuval kaç kilogramdır? (6p)



16. Aşağıda verilen çetele tablosuna göre sıklık tablosunu yandaki kutuya yazın. (3x2=6p)

Takdir Sayıları	Çetele	Sıklık Tablosu
4-A	### ###	
4-B	### ///	
4-C	### //	