

**2021-2022 EĞİTİM ÖĞRETİM YILI MUSTAFAKEMALPAŞA ORTAOKULU**  
**7. SINIF SEÇMELİ ZEKA OYUNLARI DERSİ DÖNEM 1. YAZILI SORULARI**

Adı-Soyadı: \_\_\_\_\_

Sınıf: 7/ \_\_\_\_

No: \_\_\_\_

**1-Sudoku :** 1'den 4'e kadar olan rakamları her satırda, her sütunda ve kalın çizgilerle belirtilen her bölgede tam olarak bir kez bulunacak şekilde yerleştiriniz. **(10P)**

|   |   |   |   |
|---|---|---|---|
| 3 |   |   |   |
|   |   | 4 |   |
|   | 2 |   |   |
|   |   |   | 1 |

**2-ANAGRAM:** Verilen kelimelerde harflerin yerini değiştirerek anlamlı yeni kelime yazınız. Her kelimeye ilave/başka harf kullanılmayacaktır. **(4 x x = 16P)**

İPEK → \_\_\_\_\_

ALİM → \_\_\_\_\_

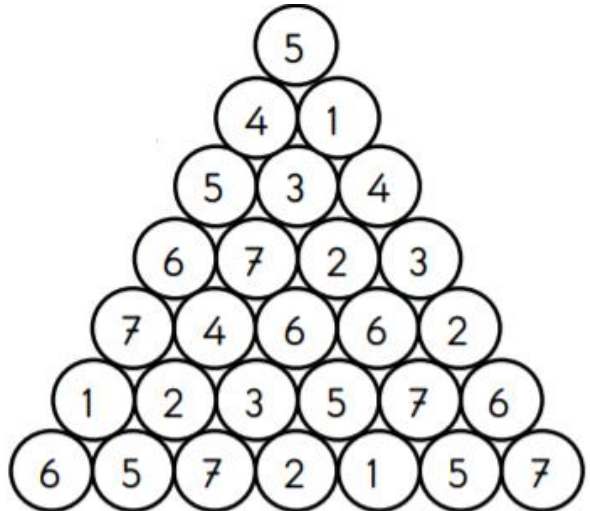
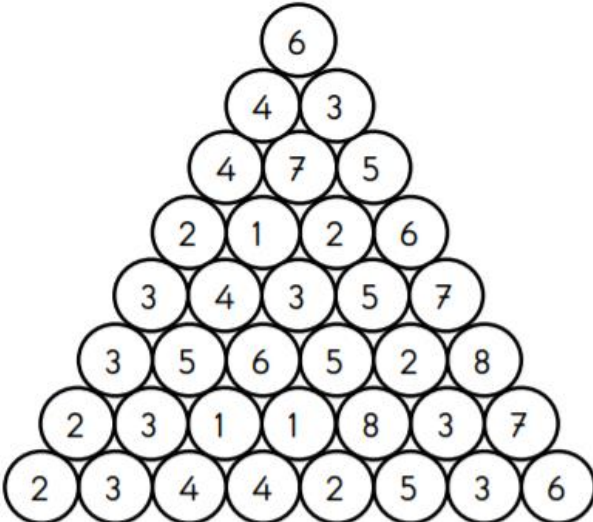
ULUS → \_\_\_\_\_

ASLI → \_\_\_\_\_

**3-KELİME TÜRET:** Aşağıdaki kelimelerden yeni kelimeler türetelim . İpucu sorunun sonunda verilmiştir. **(3 x 10 = 30P)**

|                       |   |       |   |       |
|-----------------------|---|-------|---|-------|
| 1-Bir kuş türü        | - | HAŞİN | → | _____ |
| 2-Biçim. Alınan hal   | - | KLİŞE | → | _____ |
| 3-Sandal, sal         | - | KIYAK | → | _____ |
| 4-Sesin tekrar etmesi | - | YAKIN | → | _____ |
| 5-Bir alet            | - | ÜRKEK | → | _____ |
| 6-Doruk, en üst nokta | - | VEZİR | → | _____ |
| 7-Anlatım             | - | FAİDE | → | _____ |
| 8-Soy, baba soyu      | - | SELİN | → | _____ |
| 9-Yaş, nemli          | - | SAKLI | → | _____ |
| 10-Sade               | - | YILAN | → | _____ |

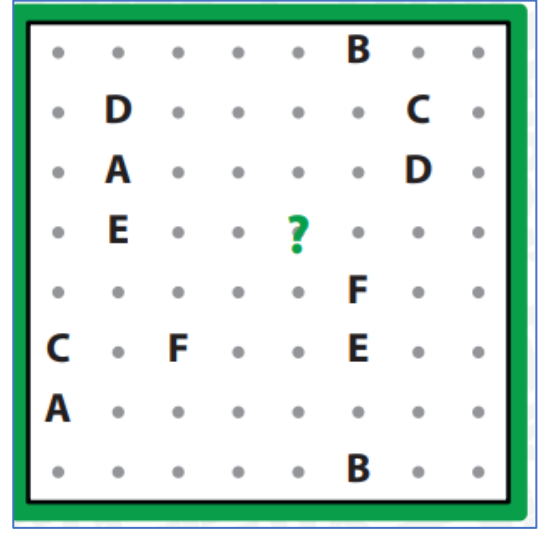
**4-SİHİRLİ PİRAMİT-** Sayıları bir defa kullanmak kaydıyla, piramidin tepesinden piramidin tabanına ininiz. Piramidin her katından yalnızca bir rakam seçilmelidir. Bir rakamdan diğer rakama geçmek için bu 2 rakamın birbirine komşu olması gerekir. Yol boyunca her bir rakam yalnızca bir kez kullanılmalıdır. **(2x5=10P)**



**5-ABC BAĞLAMACA** – Harfleri birbiriyle noktaların üzerinde yatay ya da dikey çizgi çizerek birleştiriniz. Soru işaretli noktadan hangi harfin yolu geçer?

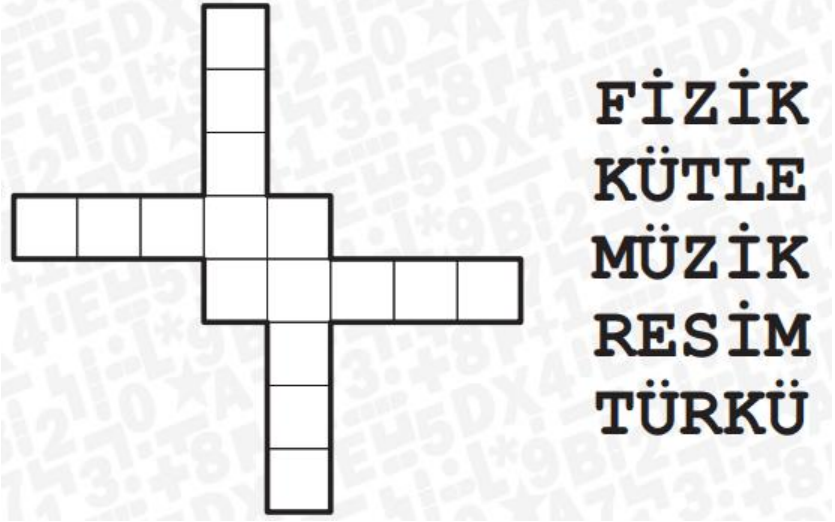
(7 P)

A)A B)B C)C D)D E)E



6- Verilen kelimelerin biri hariç tamamı soldan sağa ya da yukarıdan aşağıya okunacak şekilde aşağıdaki diyagrama yerleştirildiğinde, **YERLEŞMEYEN KELİME** hangisidir? (7 P)

A) FİZİK B) KÜTLE  
C) MÜZİK D) RESİM  
E) TÜRKÜ



7- Aşağıdaki harflerden hangisi farklıdır, **BULUNUZ (5P)** ve nedenini **YAZINIZ (5P)**?

**H Z E K A N**

Farklı olan harf \_\_\_\_ . Nedeni → \_\_\_\_\_

8- Aşağıdaki örnekte olduğu gibi çember içindeki sayıdan başlayarak diğer çember içindeki sayıya kadar gizlenmiş yolu bulunuz. Gittiğiniz yoldaki sayıların toplamı son çemberin içindeki sayıya eşit olmalıdır. Örneği inceleyiniz. (10P)

