

ARA TATİL ÖDEVLERİ

MATEMATİK

1) Aşağıdaki çarpma işlemlerini yapalım.

$$\begin{array}{r} 6 \\ \times 3 \\ \hline \end{array}$$

$$\begin{array}{r} 7 \\ \times 4 \\ \hline \end{array}$$

$$\begin{array}{r} 5 \\ \times 8 \\ \hline \end{array}$$

$$\begin{array}{r} 3 \\ \times 4 \\ \hline \end{array}$$

$$\begin{array}{r} 9 \\ \times 4 \\ \hline \end{array}$$

$$\begin{array}{r} 8 \\ \times 3 \\ \hline \end{array}$$

2) Aşağıdaki çarpma işlemlerinden sonuçları aynı olanları eşleştirelim.

$$4 \times 3$$

$$2 \times 9$$

$$4 \times 0$$

$$2 \times 8$$

$$5 \times 4$$

$$6 \times 1$$

$$4 \times 4$$

$$2 \times 3$$

$$2 \times 6$$

$$3 \times 0$$

$$3 \times 6$$

$$2 \times 10$$

3) Aşağıdaki bölme işlemlerini yapalım.

$$20 \overline{) 4}$$

$$16 \overline{) 2}$$

$$21 \overline{) 3}$$

$$27 \overline{) 3}$$

$$28 \overline{) 4}$$

$$35 \overline{) 5}$$

$$40 \overline{) 5}$$

$$14 \overline{) 2}$$

$$24 \overline{) 3}$$

$$32 \overline{) 4}$$

$$25 \overline{) 5}$$

$$18 \overline{) 3}$$

4) Aşağıdaki bölme işlemlerinden bölümleri aynı olanları eşleştirelim.

$$20 \div 4$$

$$28 \div 4$$

$$32 \div 4$$

$$27 \div 3$$

$$21 \div 3$$

$$36 \div 4$$

$$12 \div 2$$

$$24 \div 4$$

$$15 \div 3$$

$$16 \div 2$$

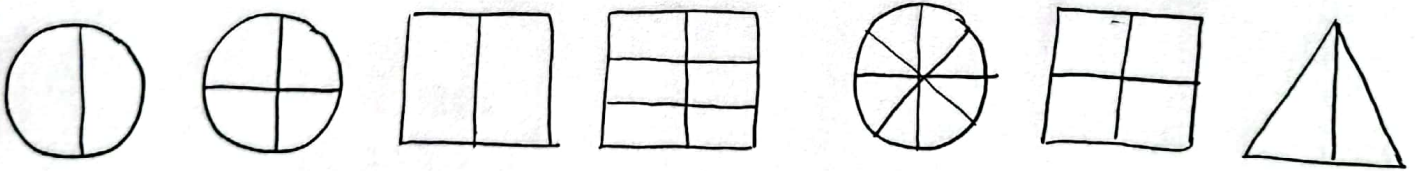
1) Noktalı yerlere yazılması gereken sayıları yazalım.

- 8 çeyrek bütün eder. • 6 çeyrek yarım eder.
- 16 çeyrek bütün eder. • 12 yarım bütün eder.
- 8 bütün çeyrek eder. • 6 yarım çeyrek eder.
- 7 bütün yarım eder. • 8 yarım çeyrek eder.
- 8 çeyrek yarım eder. • 20 çeyrek bütün eder.

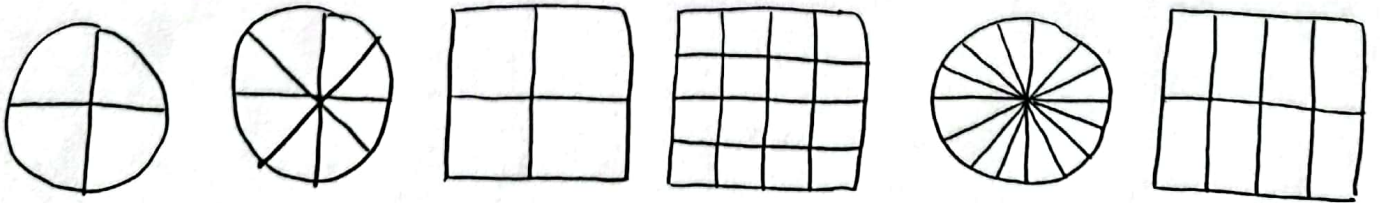
2) Aşağıdaki çeyrek şekillerin bütünlerini altına çizelim.



3) Aşağıdaki şekillerin yarısını boyayalım.



4) Aşağıdaki şekillerin çeyreğini boyayalım.



KARIŞIK PROBLEMLER

1) Azra 50 lirasının 14 lirasını harcadıktan sonra geriye kalan ile tanesi 4 lira olan kalemlerden alarak bütün parasını harcamıştır. Azra kaç kalem almıştır?

2) 36 yumurmayı dörderli kolilere paylaştırsak kaç koli gerekir?


3) 28 cevizin çeyreğini yedim. Kaç ceviz kaldı?

4) Uçaktaki yolcuların çeyreği çocuktur. Uçakta 24 yolcu varsa, uçakta kaç çocuk yolcu vardır?

5) 20 yarım dilim kekin 4 dilimini yedim. Kalan kekler kaç bütün eder?

6) 3 bütün pizza 5 yarım pizza daha kaç yarım pizza eder?

7)  Yanda verilen şeklin kaç parçası daha boyanırsa şeklin yarısı boyalı olur?

8) 

Yukarıdaki elmaları her bir arkadaşına çeyrek elma vererek dağıtan Ada'nın kaç arkadaşı vardır?

9) Zeynep 8 yaşındadır. Annesinin yaşı Zeynep'in yaşının 4 katından 3 eksik ise Annesi kaç yaşındadır?

10) Hafta içi 3, hafta sonu 4 saat ders çalışan Kuzey 1 haftada kaç saat ders çalışır?

11) 4 koyun ve 5 tavuğun toplam kaç ayağı vardır?

12) 7 kutu yumurta aldım. Her kutuda 5 yumurta varsa toplam kaç yumurta vardır?

13) 3 katlı bir apartmanın her katında 4 daire varsa, apartmanda kaç daire vardır?

14) 8'in 5 katının 32 fazlası kaçtır?

15) Her koyunu günde 2 litre süt veren Ali Amca'nın 9 koyunu vardır. Ali Amca sütleri üçer litrelik şişelere doldurursa kaç şişe kullanır?

16) $24 - \square = 37 - 22$
Yukarıdaki eşitlikteki \square 'nin 4 katı kaçtır?

HAYAT BİLGİSİ

1) Aşağıdaki boşlukları dolduralım.

→ Otomobil, kamyon yolu taşıtlarıdır.

→ Tramvayı kullanır.

→ Vapur, gemi, kayak yolu taşıtlarıdır.

→ Atatürk'ün annesinin adı 'dır.

→ Atatürk'ün babasının adı dir.

→ Atatürk yılında doğmuştur.

→ Ülkemizin adı, başkentimiz 'dır.

→ Ülkemizin etrafındaki denizler;

→ İstiklal Marsının yazarı 'dur.

→ Bağımsızlık sembollerimiz

→ Ülkemizde il vardır. Benim yaşadığım şehir

→ Dini bayramlarımız

→ Milli bayramlarımız

.....

.....

.....

.....

.....

.....

1) Aşağıdaki atasözlerinin ilgili oldukları alanları kutulara yazalım.

lim.

① eğitim

② temizlik

③ dayanışma

④ tasarruf

→ Damlaya damlaya göl olur. ()

→ Ağaç yaş iken eğilir. ()

→ Birlikten kuvvet doğar. ()

→ Sakla samanı gelir zamanı. ()

→ Aslan yattığı yerden belli olur. ()

→ Kalem kılıktan keskindir. ()

→ Ak okce kara gün içindir. ()

2) Aşağıdaki deyimlerin açıklamaları yazalım. Birer cümle kuralım.

Dilinde tüy bitmek :

sabrı taşımak :

küplere binmek :

Ateş pahası olmak :

Eli ayağına dolasmak :

1) Aşağıdaki kelimelerin eş anlamlarını yazalım.

→ yanıt = → yaşlı = → hekim =
→ güz = → kelime = → fayda =
→ hediye = → konuk = → eni =

2) Aşağıdaki kelimeleri sözlük sırasına dizelim.

* masa ()	* kemer ()	* leblebi ()
* minder ()	* leylek ()	* kurbağa ()
* mendil ()	* kulak ()	* lokum ()
* sıra ()	* kilim ()	* spor ()
* sepet ()	* havlu ()	* sincap ()
* şeker ()	* hekim ()	* turp ()
* zeytin ()	* pırasa ()	* fındık ()
* zeybek ()	* petek ()	* fırıldak ()
* yağmur ()	* polen ()	* hırka ()

3) Aşağıdaki kelimeleri hecelerine ayıralım.

→ kırkayak = → buzdolabı =
→ hanımeli = → kütüphane =
→ neseli = → seferberlik =

4) Aşağıdaki kelimelerin zıt anlamlarını yazalım.

ağlamak = ağır = bayat =
barış = ceza = geç =