

# NİSAN ARA TATİL

## Çalışma Yaprakları

Türkçe - Matematik - Hayat Bilgisi

1.  
Sınıf

© Her hakkı saklıdır ve Elit Çocuk Yayınlarına aittir. Kitabın şekil, soru ve metinleri kısmen de olsa hiçbir şekilde alınıp yayınlanamaz. Elektronik ortamda veya diğer yollarla çoğaltılamaz.

Yazanlar

Komisyon

Düzenleme

Hasan Yıldırım

Metin Yazarı

Derya Çağırır

Editör

Cafer Ali Aydın

Baskı - Cilt

ORKA MATBAACILIK

ISBN

978-605-73686-4-5



**ELİT ÇOCUK**

Güzeltepe Mahallesi Okulönü Caddesi No:18

Çengelköy / Üsküdar/ İSTANBUL

e-mail: info@elitkitap.com

www.elitcocuk.com.tr



0507 174 25 00



elitkitap



elitkitap



elitkitap

YouTube elitkitap

Elitçocuk Yayınları 1.Sınıf Nisan Ara Tatil Kitabı

## HİKÂYE KİTAPLARIMIZ



## 1. SINIF KİTAPLARIMIZ



Kitap içeriklerine QR kodu okutarak ulaşabilirsiniz.

## HAVUÇ İLE ŞEKERİN YOLCULUĞU

Bir gün havuç ve şeker bir türlü anlaşmaya varamadılar. Havuç sağlıklı bir besin olduğunu söyledi. Şeker ise kendisinin daha sağlıklı olduğunu söyledi. Havuç ve şeker sonunda bir karar verdiler. Bir çocuğun vücudunda seyahat edeceklerdi. Böylece kimin daha sağlıklı olduğunu anlayacaklardı. Önce bir tabağın üzerine çıktılar. Sonra da doğruca çocuğun midesine doğru yol aldılar. Havuç, geçtiği her yerde çok iyi karşılanıyordu. Havucu gören tüm hücreler daha iyi çalışıyordu. Şekere ise kimse selam vermiyordu. Şekeri gören tüm hücreler bozulmaya ve çalışmamaya başlamıştı. Havuç ve şeker hemen çocuğun vücudundan dışarı çıktılar. Şeker, havuca şöyle dedi:



— Haklıymışsın, ben çok sağlıklı bir besin değilmişim. Bundan sonra çocuklar beni daha az yemeliler!

Aşağıdaki soruları metne göre cevaplayalım.

1. Havuç ve şeker, nerede seyahat edeceklermiş?

.....

2. Havuç ve şeker, önce nereye çıkmışlar?

.....

3. Havuç geçtiği her yerde, nasıl karşılanmış?

.....

4. Şekeri gören hücrelere ne olmuş?

.....

5. Şeker, çocuklardan ne yapmalarını istiyor?

.....

## 1. Verilen sözcüklerdeki ünlü sayılarını yazınız.

cam → .....	masa → .....	ekmek → .....
el → .....	iki → .....	yedi → .....
oyun → .....	ok → .....	vazo → .....
ödev → .....	kemer → .....	koltuk → .....

## 2. Verilen sözcüklerdeki ünsüz sayılarını yazınız.

kitap → .....	telefon → .....	sıra → .....
ağaç → .....	elma → .....	okul → .....
beş → .....	kalem → .....	tebeşir → .....
dolap → .....	karpuz → .....	ütü → .....

## 3. Verilen sözcükleri hecelerine ayırarak yazınız.

çiçek → .....	yastık → .....
oyuncak → .....	şeftali → .....
otobüs → .....	perde → .....

## 4. Verilen sözcüklerin hece sayılarını karşlarına yazınız.

cam → .....	kaleci → .....
arı → .....	çiçekçi → .....
yatak → .....	kurabiye → .....

## 5. Verilen görsellerin adlarını hecelerine ayırarak yazınız.



.....	.....	.....	.....
-------	-------	-------	-------



1. Aşağıdaki toplama işlemlerinde verilmeyen toplananları bulunuz.

$$\begin{array}{r} 9 \\ + \dots \\ \hline 14 \end{array}$$

$$\begin{array}{r} \dots \\ + 8 \\ \hline 13 \end{array}$$

$$\begin{array}{r} 6 \\ + \dots \\ \hline 15 \end{array}$$

$$\begin{array}{r} \dots \\ + 7 \\ \hline 16 \end{array}$$

$$\begin{array}{r} 9 \\ + \dots \\ \hline 13 \end{array}$$

$$\begin{array}{r} \dots \\ + 5 \\ \hline 14 \end{array}$$

$$\begin{array}{r} 9 \\ + \dots \\ \hline 11 \end{array}$$

$$\begin{array}{r} \dots \\ + 3 \\ \hline 10 \end{array}$$

$$\begin{array}{r} 8 \\ + \dots \\ \hline 14 \end{array}$$

$$\begin{array}{r} \dots \\ + 9 \\ \hline 16 \end{array}$$

$$\begin{array}{r} 6 \\ + \dots \\ \hline 14 \end{array}$$

$$\begin{array}{r} \dots \\ + 7 \\ \hline 13 \end{array}$$

$$\begin{array}{r} 12 \\ + \dots \\ \hline 15 \end{array}$$

$$\begin{array}{r} \dots \\ + 15 \\ \hline 17 \end{array}$$

$$\begin{array}{r} 10 \\ + \dots \\ \hline 19 \end{array}$$

2. Aşağıdaki toplama işlemlerinde verilmeyen toplananları bulunuz.

$$10 + \dots = 12$$

$$\dots + 3 = 13$$

$$5 + \dots = 9$$

$$\dots + 11 = 13$$

$$9 + \dots = 16$$

$$\dots + 6 = 14$$

$$12 + \dots = 18$$

$$\dots + 7 = 15$$

$$11 + \dots = 17$$

$$\dots + 9 = 10$$

$$8 + \dots = 18$$

$$\dots + 8 = 19$$

3. Aşağıdaki toplama işlemlerini örnekteki gibi yapalım.

$$\begin{array}{l} 8 + 5 \rightarrow 8 + 2 = 10 \\ \quad \swarrow \quad \searrow \\ 2 \quad \quad 3 \\ 10 + 3 = 13 \end{array}$$

$$\begin{array}{l} 7 + 6 \rightarrow \dots + \dots = \dots \\ \quad \swarrow \quad \searrow \\ \dots \quad \dots \\ \dots + \dots = \dots \end{array}$$

$$\begin{array}{l} 9 + 5 \rightarrow \dots + \dots = \dots \\ \quad \swarrow \quad \searrow \\ \dots \quad \dots \\ \dots + \dots = \dots \end{array}$$

$$\begin{array}{l} 6 + 5 \rightarrow \dots + \dots = \dots \\ \quad \swarrow \quad \searrow \\ \dots \quad \dots \\ \dots + \dots = \dots \end{array}$$

1. Aşağıda resimleri verilen yiyeceklerle, kendiniz için dengeli beslenmeye uygun öğün listeleri hazırlayınız.



Kahvaltı	
Öğle Yemeği	
Akşam Yemeği	

2. Aşağıdaki ifadelerden doğru olanlara "D", yanlış olanlara "Y" yazınız.

- ☐ Yemeklerden sonra ellerimizi yıkamalıyız.
- ☐ Tırnaklarımızı ayda bir kez kesmeliyiz.
- ☐ Kişisel temizliğimize dikkat etmek sağlığımız için gereklidir.
- ☐ Çevremizi temiz tutmak yetişkinlerin sorumluluğudur.
- ☐ Sokakta giydiğimiz ayakkabılarla evde dolaşmamalıyız.
- ☐ Mikroplardan korunmak için, ellerimizi sık sık yıkamalıyız.
- ☐ Düzenli olarak banyo yapmalıyız.
- ☐ Yemeklerden sonra dişlerimizi fırçalamalıyız.

## ANIL'IN FİKRİNİ DEĞİŞTİREN ANISI

Anıl, trafik kurallarından hiç hoşlanmıyordu. Hele trafik ışıklarını hiç sevmiyordu. Onların tamamen zaman kaybı olduğuna inanıyordu. Başına gelen bir kaza yüzünden tüm fikirleri değişti. Anıl bir gün bisikleti ile ekmek almaya çıkmıştı. Karşıdan karşıya geçerken yanan kırmızı ışıkta durmadı. Anıl'a yoldan geçen bir araba çarptı. Araba çok hızlı değildi neyse ki, Anıl'ın bisikleti devrilmişti. Annesi ve babası hemen Anıl'ı hastaneye götürdüler. Ayağındaki zedelenmeden dolayı tam üç hafta futbol oynayamayacaktı. Anıl, bu üç haftada tüm trafik kurallarını öğrendi. O olaydan sonra, trafik kurallarına hep uydu. Uymayanları da uyardı...



Aşağıdaki soruları metne göre cevaplayalım.

1. Anıl, trafik ışıkları hakkında ne düşünmektedir?

.....

2. Anıl'ın fikirleri hangi olay yüzünden değişmiş?

.....

3. Anıl bisikleti ile nereye gidiyordu?

.....

4. Anıl'ı hastaneye kimler götürmüştü?

.....

5. Anıl, üç hafta boyunca neleri öğrenmiş?

.....

1. Aşağıdaki heceleri birleştirerek sözcükler oluşturup yazınız. (Bir heceyi birden fazla sözcük için kullanabilirsiniz.)

sa	ye	li	to
lek	di	me	man
kat	ve	saj	pa
lı	top	mek	ley

● .....	● .....
● .....	● .....
● .....	● .....
● .....	● .....

2. Aşağıdaki harflerden bir sonra gelen harfleri yazınız.

c	.....	e	.....	ş	.....	y	.....	ı	.....	n	.....
---	-------	---	-------	---	-------	---	-------	---	-------	---	-------

3. Aşağıdaki verilen harfleri sözlük sırasına göre yazınız.

d	a	f	→	.....	.....	.....
---	---	---	---	-------	-------	-------

o	v	k	→	.....	.....	.....
---	---	---	---	-------	-------	-------

h	s	k	→	.....	.....	.....
---	---	---	---	-------	-------	-------

c	a	ı	→	.....	.....	.....
---	---	---	---	-------	-------	-------

4. Aşağıdaki sözcükleri sözlük sırasına göre yazınız.

kitap, defter, okul	→	....., ....., .....
---------------------	---	---------------------

sıra, masa, kalem	→	....., ....., .....
-------------------	---	---------------------

elma, armut, vişne	→	....., ....., .....
--------------------	---	---------------------

vazo, çiçek, gül	→	....., ....., .....
------------------	---	---------------------

elbise, gömlek, ayakkabı	→	....., ....., .....
--------------------------	---	---------------------

oyun, ip, top	→	....., ....., .....
---------------	---	---------------------

Aşağıdaki problemleri çözünüz.

1. Ali 5, Efe 6 ve Can 8 yaşındadır. Üç kardeşin yaşları toplamı kaçtır?

**Çözüm:**

2. Melis'in 11 TL parası vardı. Annesi 5 TL daha verdi. Melis'in kaç lirası oldu?

**Çözüm:**

3. Elif ile Zeynep'in eşit sayıda kalemi vardır. Elif'in 6 kalemi olduğuna göre Elif ile Zeynep'in toplam kalem sayısı kaçtır?

**Çözüm:**

4. Emre salı günü 9, çarşamba günü 8 sayfa kitap okudu. Emre iki günde toplam kaç sayfa kitap okumuştur?

**Çözüm:**

5. Bir baloncu sabah 8 balon, öğleden sonra 6 balon satıyor. Baloncu bir günde toplam kaç balon satmıştır?

**Çözüm:**



**1.** Aşağıdaki ifadelerden doğru olanların başındaki kutuya “D”, yanlış olanların başındaki kutuya “Y” yazınız.

- ☐ Televizyonu yakından izlememeliyiz.
- ☐ Bilgisayarı yatarak kullanmalıyız.
- ☐ Tabletle uzun süre oyun oynamalıyız.
- ☐ Telefon ile uzun süre konuşmamalıyız.
- ☐ Boş zamanlarımızda bol bol çizgi film izlemeliyiz.
- ☐ Yaşımıza uygun kitap ve dergileri okuyabiliriz.
- ☐ Kitle iletişim araçlarını dikkatli kullanmalıyız.

**2.** Aşağıdaki ifadelerden doğru olanlara “D”, yanlış olanlara “Y” yazınız.

- ☐ Arka koltukta emniyet kemeri takılmaz.
- ☐ Toplu taşıma araçlarına binerken acele etmeliyiz.
- ☐ Özel araçta çocuklar ön koltuğa oturabilirler.
- ☐ Toplu taşıma araçlarında hamile, yaşlı ve özel gereksinimli kişilere yerimizi vermeliyiz.
- ☐ Araçların camından elimizi ve başımızı çıkarmamalıyız.
- ☐ Okul servisine sıra ile binmeliyiz.
- ☐ Yolculukta şoförün dikkatini dağıtmamalıyız.
- ☐ Okul servisinde ayakta yolculuk yapabiliriz.

## EFE'NİN KIZARAN GÖZLERİ

İşte bir cep telefonu. Önceleri sadece haberleşmek için kullanılıyordu. Şimdi ise birçok iş buradan yapılıyor. Hatta oyun bile oynanıyor. Özellikle çocuklar, çok güzel oyunlar oynuyorlar ve çizgi filmler izliyorlar. Ama bazen oyun oynarken ya da çizgi film izlerken zamanın nasıl geçtiğini anlamıyorlar.



Mesela geçenlerde Efe, o kadar çok video izlemiş ki gözleri kıpkırmızı olmuş. Telefonun şarjı bitip kapanınca, Efe gözlerinin yandığını fark edip annesine söylemiş. Annesi ve babası, gözlerinin telefona fazla bakmaktan kızardığını söylemişler. Efe o günden sonra telefonla daha az zaman geçireceğine söz vermiş.

Aşağıdaki soruları metne göre cevaplayalım.

1. Cep telefonu önceleri sadece hangi amaçla kullanılıyormuş?  
.....
2. Çocuklar cep telefonu ile neler yapıyorlarmış?  
.....
3. Efe'nin gözleri niçin kıpkırmızı olmuş?  
.....
4. Cep telefonu niçin kapanmış?  
.....
5. Annesi ve babası, Efe'ye ne söylemişler?  
.....

1. Aşağıdaki ifadelerden cümle olanların yanına "Cümledir.", cümle olmayanların yanına "Cümle değildir." yazınız.

- ◆ Hakan okula geldi → .....
- ◆ Onur bahçedeyken → .....
- ◆ Sıra arkadaşım bugün → .....
- ◆ Bilgisayarda oyun oynuyorum → .....
- ◆ Kemal ile Özge kantinde → .....
- ◆ Annem yemek yapıyor → .....
- ◆ Televizyonda film izliyorum → .....
- ◆ Kardeşim odasında kitap → .....

2. Aşağıda karışık olarak verilen sözcüklerle, anlamlı ve kurallı cümleler oluşturup yazınız.

köye

yaz

gideceğiz

tatilinde

kalkınca

yıkadım

sabah

yüzümü

gelince

yaptım

okuldan

ödevimi

olunca

doktora

hasta

gitti

Aşağıdaki problemleri çözünüz.

1. 15 bardağın 7 tanesi kırıldı. Geriye kaç bardak kaldı?

**Çözüm:**

2. Sema, 18 sayfalık kitabın 8 sayfasını okudu. Geriye okuyacağı kaç sayfa kaldı?

**Çözüm:**

3. Nalan'ın 18 TL parası vardı. Parasının 12 TL'si ile terlik aldı. Geriye kaç lirası kaldı?

**Çözüm:**

4. Bir simitçi 19 simidin 6 tanesini sattı. Geriye kaç simit kaldı?

**Çözüm:**


5. Sınıfımızda 17 öğrenci var. Öğrencilerin 9'u kızdır. Erkek öğrencilerin sayısı kaçtır?

**Çözüm:**

1. Aşağıdaki ifadelerden doğru olanlara "D", yanlış olanlara "Y" yazınız.

- ☐ Acil çağrı numarası 155'tir.
- ☐ Kaza olduğunda ilk yardım için ambulans çağırılır.
- ☐ Kazalarda yaralananlara ilk yardım bilgisi olanlar müdahale etmelidir.
- ☐ Yaralılara herkes müdahale edebilir.
- ☐ Acil bir durum olmasa da 112'yi arayıp sohbet edebiliriz.
- ☐ Acil durumlar için aile bireylerimizin numaralarını ezbere bilmeliyiz.

2. Acil durum numaralarının toplandığı tek numara hangisidir? Aşağıya yazınız.





## OYUN PARKI

Merhaba, ben bir oyun parkıyım. Çocuklarla beraber harika vakit geçiririz. Çocuklar burada kaydıraktan kayarlar, salıncakta sallanırlar ve daha birçok oyun oynarlar. Ve en önemlisi çocuklar burada eğlenip iyi vakit geçirirken, bunu çok güvenli bir şekilde yaparlar. Burası çok güvenli bir yer. Mesela ben yokken çocuklar, sokaklarda, caddelerde oyunlar oynuyorlarmış. Bu zaman zaman çok tehlikeli oluyormuş. Çünkü çocuklar, boş alan bulamadıkları zaman arabaların geçtiği yollarda oynuyorlarmış. Bu çok tehlikeli bir durum olduğu için, insanlar çocuklar için oyun parkları yapmaya karar vermişler. O günden beri çocuklarla harika vakit geçiriyoruz. Ve bunu çok güvenli bir şekilde yapıyoruz.



Aşağıdaki soruları metne göre cevaplayalım.

1. Oyun parkı, çocuklarla nasıl vakit geçiriyormuş?  
.....
2. Çocuklar oyun parkında nelerle oynuyorlarmış?  
.....
3. Oyun parkı yokken, çocuklar nerelerde oynuyorlarmış?  
.....
4. İnsanlar niçin oyun parkı yapmaya karar vermişler?  
.....
5. Çocuklar için, en güvenli oyun alanı neresiymiş?  
.....


1. Aşağıdaki sözcüklerin satır sonuna sığmaması durumunda, nasıl yazılacağını örnekteki gibi gösteriniz.

teneffüs tenef- füs	ormana	kalemler
patlıcan	matematik	bisiklet
gazeteci	direksiyon	sarımsak
özgürlük	İstanbul	elektrik

2. Aşağıdaki sözcükleri numaralandırarak zıt anlamlıları ile eşleştiriniz.

Ucuz	Arka	Eski	Savaş
Dolu	Temiz	Açık	Üst
Barış	Yeni	Boş	Kirli
Kapalı	Alt	Pahalı	Ön

1. Aşağıdaki nesnelerin altlarına “yarım” ve “bütün” ifadelerinden uygun olanını yazınız.

2. Aşağıdaki noktalı yerlere uygun sayıları yazalım.



..... bütün = ..... yarım



..... bütün = ..... yarım



..... bütün = ..... yarım



..... bütün = ..... yarım



..... bütün = ..... yarım



..... bütün = ..... yarım

1. Aşağıdaki ifadelerden doğru olanlar için "D", yanlış olanlar için "Y" kutucuğunu işaretleyiniz.

	D	Y
Televizyon karşısında uzun süre vakit geçirmeliyiz.		
Teknolojik aletleri dikkatli kullanmalıyız.		
Teknolojik aletleri kullanmadan önce, kullanım kılavuzunu okumalıyız.		
Bütün elektrikli aletleri kendi başımıza kullanabiliriz.		
Tableti şarjda iken kullanmamalıyız.		

2. Kendi başımıza güvenli bir şekilde kullanabileceğimiz teknolojik aletleri işaretleyelim.


☐

☐

☐

☐

☐

☐

☐

☐

## OKUL YOLU

Yasemin ve Eren sınıf arkadaşıydı. Aynı zamanda da aynı mahallede oturuyorlardı. Her gün okula birlikte gidip geliyorlardı. Yasemin her sabah kalkıp, Eren'in evinin önünde bekliyordu.



Eren de dışarı çıkar çıkmaz, birlikte okula doğru yol alıyorlardı. Evlerinin hemen karşısında büyük bir hastane vardı. Hastanenin hemen yanında da bir market vardı. Okula giderken Yasemin'in annesinin terzi dükkânının önünden geçiyorlardı. Yasemin'in annesi bazen onlara yaptığı poğaçalardan veriyordu. Onun biraz ilerisinde de Eren'in babasının eczanesi vardı. Okul yolu üzerindeki tanıdıklarına el sallayarak yollarına devam ediyorlardı. Yasemin ve Eren bazen de bu yolu bisikletleri ile gidiyorlardı. Ve bu yolda çok eğleniyorlardı.

Aşağıdaki soruları metne göre cevaplayalım.

1. Yasemin her sabah Eren'i nerede bekliyormuş?

.....

2. Evlerinin karşısında ne varmış?

.....

3. Yasemin'in annesinin mesleği neymiş?

.....

4. Yasemin'in annesi onlara ne veriyormuş?

.....

5. Yasemin ile Eren bu yolu bazen hangi araçla gidiyorlarmış?

.....



1. Aşağıdaki cümlelerde renkli yazılan sözcüklerin hangi 5N 1K sorusunun yanıtı olduğunu bulup eşleştiriniz.

Babam **bahçede** oturuyor.

Ne?

Marketten **peynir** aldım.

Niçin?

**Özlem**, dişlerini fırçaladı.

Nerede?

**Hasta olduğum için** ilaç içtim.

Kim?

Nihal **koşarak** parka gitti.

Nasıl?

2. Aşağıdaki cümlelerle ilgili soruları yanıtlayıp noktalı yerlere yazınız.

Kışın hava çok soğuk olur. → Ne zaman? .....

Dayım yarın gelecek. → Kim? .....

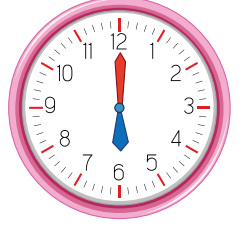
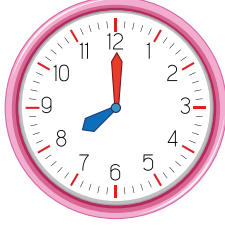
Atilla çikolata aldı. → Ne? .....

Acıktığı için simit aldı. → Niçin? .....

Çocuk ağlayarak yanıma geldi. → Nasıl? .....

Kuzenim Safranbolu'da oturuyor. → Nerede? .....

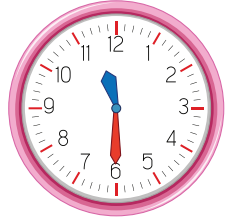
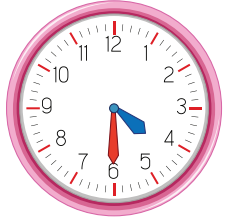
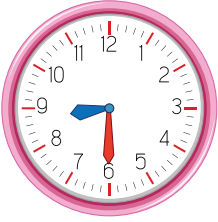
1. Aşağıdaki saatlerin okunuşlarını yazınız.



.....

.....

.....

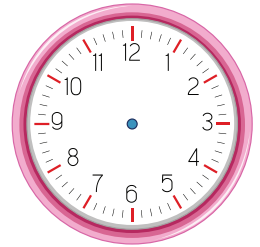
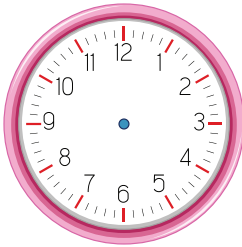
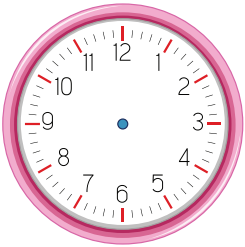


.....

.....

.....

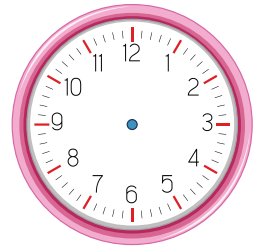
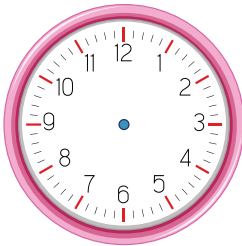
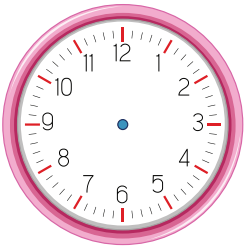
2. Aşağıda okunuşları verilen saatlerin akrep ve yelkovanlarını çiziniz.



Saat dört

Saat iki buçuk

Saat on bir



Saat beş buçuk

Saat on buçuk

Saat altı


1. Ceren okulda acil durumlarda yapılması gerekenleri öğrenmişti; Kaza, yaralanma vb. durumlarda yardım amacıyla telefonla 1-1-2'yi araması gerektiğini biliyordu. Acil bir durumda gerçekten yardıma gelip gelmeyeceklerini anlamak için hemen telefona sarıldı ve aramayı gerçekleştirdi. Evlerinin önünde kaza olduğunu söyledi. Oysa bir kaza söz konusu değildi. Kısa süre sonra evlerinin önünde bir ambulans belirdi.


Ceren'in bu davranışı sonucunda aşağıdakilerden hangisi gerçekleşmez?


- A) Acil yardım ekipleri gelerek Ceren'e teşekkür ederler.
- B) Acil yardım ekiplerini gereksiz ihbarda bulunarak meşgul etmiş olur.
- C) Gerçekten acil yardıma ihtiyaç duyan insanların yardım almaları gecikmiş olur.

2. **Kural:** Satır sonuna sığmayan kelimeler hecelerine ayrılırken satır sonunda ve başında tek harf bırakılmaz.

Şermin Öğretmen tahtaya yukarıdaki kuralı yazdıktan sonra öğrencilerinden bu kurala uygun örnekler yazmalarını istedi. Hangi öğrenci bu kurala uygun doğru bir örnek vermemiştir?

A)  Dün akşam dedemi evimizde ağırladık.

B)  Annem satın aldığı-mız elbiseyi giymiş.

C)  Babam arabanın a-nahtarını unutmuş.

3.



Tırtılın üzerindeki sayılar belirli bir kurala göre örüntü oluşturacak şekilde sıralanmıştır. Eksik bırakılan sayılar tespit edilecek ve bu sayıları veren işlemler zihinden yapılarak bulunacaktır.

$8 + 5$

$16 - 6$

$7 + 7$

$4 + 8$

$18 - 9$

$12 + 6$

$11 + 5$

Tırtılın üzerindeki eksik bırakılan sayılar hangi renkteki işlemler zihinden yapıldığında tamamlanabilir?

- A) Turuncu, yeşil ve mor
- B) Mavi, sarı ve kırmızı
- C) Pembe, yeşil ve sarı

4. Anıl ve Nihat iki yakın arkadaştır. Anıl'ın annesinin pazardan aldığı meyvelerden yemektedirler, Anıl'ın annesi iki ayrı tabak hazırlamıştır. Anıl'ın tabağına 3 elma 3 erik, Nihat'ın tabağına 5 elma ve 4 erik koymuştur. İki arkadaş daha sonra tabaklarındaki meyveleri bir tabakta birleştirmişlerdir. İki arkadaştan her biri, her meyveden ikişer tane yemiştir.

Buna göre tabakta kalan meyve sayıları için aşağıdaki ifadelerden hangisi doğru olur?

- A) Tabakta kalan toplam meyve sayısı 10'dur.
- B) Tabakta kalan elmalar eriklerden 2 fazladır.
- C) Tabakta 3 erik ve 4 elma kalmıştır.



