

ADI-SOYADI:

PUANI:

1)Karıřık kelimeleri düzenleyerek cümle yapınız. (10 puan)

sabah/ kalktım/bu/geç —————>.....
elmali/teyzem/yaptı/kek —————>.....

2)Ařağıdaki kelimelerin zıt anlamlısını yazınız. (10 puan)

sabah:..... iyilik:..... küsmek:.....
çalışkan:..... almak:.....

Ařağıdaki hikayeyi önce okuyunuz sonra sorularını çözünüz.

Bir gün, öğretmeni Ela'yı koridorda ağlarken gördü. Neden ağladığını sordu. Ela, arkadaşı Ali'nin izinsiz kalemını aldığını söyledi. Öğretmeni Ali'yi çağırıp yaptığının yanlış olduğunu söyledi. Ali pişman oldu ve kalemi Ela'ya geri verdi.

3)Ela neden üzölmüş? (5 puan)

.....

4)Öğretmeni Ali'ye ne söylemiş? (5 puan)

.....

5)Ařağıdaki kelimeleri ,örnekteki gibi hecelerine ayırarak yazınız. (8 puan)

Kalemlik —————> ka-lem-lik

tekerlek —————> akıllı —————>

balon —————> Çantadaki —————>

6)Ařağıdaki özel isimleri doğru biçimde yeniden yazınız. (8 puan)

alınin —————>..... mehtaptan —————>

izmiri —————>..... hakana —————>

7)Ařağıdaki acil durumlarda hangi numarayı aramalıyız? Yanına yazalım. (6 puan)

Evde yangın çıkarsa:.....

Birisi aniden bayılırsa.....

Eve hırsız girerse.....

8)Ařağıdaki alanlar güvenli ise yanına ☺ güvenli değilse yanına ☹ işareti koyunuz.(6 puan)

Evimizin bahçesi:..... Su kanalları:..... Çocuk parkı:.....

İnşaat alanı:..... süs havuzları:..... Balkon

ADI-SOYADI:

PUANI:

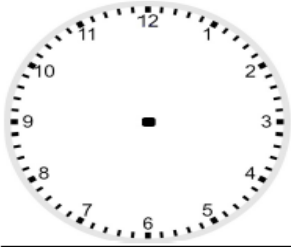
9) Öğrendiğiniz bir tane trafik kuralını aşağıya yazınız. (6 puan)

Aşağıdaki takvime bakarak soruları cevaplayınız.

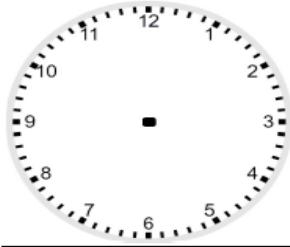
2020 YILI MART AYI TAKVİMİ						
Pazartesi	Salı	Çarşamba	Perşembe	Cuma	Cumartesi	Pazar
						1
2	3	4	5	6	7	8
9	10	11	12	13	14	15
16	17	18	19	20	21	22
23	24	25	26	27	28	29
30	31					

- 10) 19 Mart hangi gündür? → (2 puan)
- 11) 23 Mart hangi gündür? → (2 puan)
- 12) Mart ayı kaç gündür? →(2 puan)
- 13) Bugün ,Salı ise yarın günlerden nedir? →(2 puan)
- 14) Mart ayının, son Cumartesi günü ayın kaçıdır? →(2 puan)

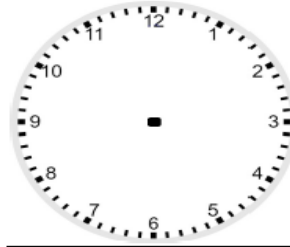
15)Aşağıdaki saatlere akrep ve yelkovan çiziniz. (16 puan)



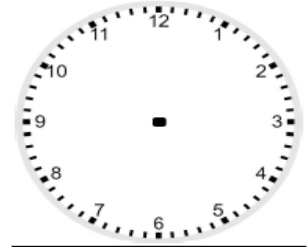
saat dört



on buçuk



yedi buçuk



saat dokuz

16)Aşağıdaki işlemleri yapınız. (10 puan)

$$16 - 8 =$$

$$12 + 8 =$$

$$16 - 5 =$$

$$14 + 1 =$$

$$11 - 4 =$$

$$16 + 2 =$$

$$14 - 8 =$$

$$12 + 5 =$$

$$20 - 6 =$$

$$11 + 3 =$$

BAŞARILAR DİLERİM.