

1.

Aşağıdakilerden hangisi şeref köşesinde bulunur?

A.



B.



C.



2.



Bu görseldeki okul içi etkinlik hangisi ile ilgilidir?

A. Müzik

B. Spor

C. Resim

3.



Buse hangi cümleyi arkadaşı Elife karşı bir hata yaptığında kullanır?

A. Özür dilerim Elif.

B. Teşekkür ederim Elif.

C. Rica ederim Elif.

4.

Aşağıdaki öğrencilerden hangisi fiziksel bir özelliğini belirtmiştir?

A.



Sarı saçlı ve mavi gözlüyüm.

B.



Müzik çalışmalarına katılmayı seviyorum.

C.



Kartondan gemi ve ev maketi yapıyorum.

5.

Aşağıdaki cümlelerden doğru olanların başındaki kutucuğa "D" harfi yazınız.

- ☐ Sınıfta uyulması gereken kurallar vardır.
☐ Sınıf kurallarına uymayanlar sınıfta sorunlar yaşar.
☐ Sınıf kurallarını anne ve babalar belirler.

Etkinlik sonunda kaç kutucuğa "D" harfi yazılır?

- A. 1 B. 2 C. 3

6.

Aşağıdakilerden hangisinin görevi, yönetim işlerinde okul müdürüne yardımcı olmaktır?

A.



Sınıf Öğretmeni

B.



Temizlik Görevlisi

C.



Müdür Yardımcısı

7.



Arkadaşım İrem ile okul bahçesinde oyun oynuyorduk. Koşarken yere düştü ve dizi yaralandı.

Funda ilk önce kimden yardım istemelidir?

- A. Sınıf öğretmeni B. Nöbetçi öğretmen C. Okul müdürü


8.

- Okula zamanında gelmeliyiz.
- Merdiven iniş çıkış kurallarına uymalıyız.
- Koridorlarda, kantinde ve yemekhanede yüksek sesle konuşmamalıyız.
- Okul eşyalarını özenli kullanmalıyız.

Yukarıdakilerden kaç tanesi okul kuralıdır?


- A. 2 B. 3 C. 4


9.




Ayşe kimin fotoğrafını albümüne yapıştırabilir?

Öğrencilerden hangisi doğru cevap vermiştir?

A.  Babasının fotoğrafını yapıştırır.

B.  Komşularının fotoğrafını yapıştırır.

C.  Öğretmeninin fotoğrafını yapıştırır.

10.



Yandaki görselde hangi değer anlatılmaktadır?

A. Saygı


B. Sevgi

C. Şefkat

11.

Aşağıdaki çocuklardan hangisi evinin adresini tam olarak tarif etmiştir?

A.  Evimizin karşısında çocuk parkı var.

B.  Evimizin sağında aile sağlığı merkezi var.

C.  Çankaya Mahallesi, Orkide Caddesi No:46 D:8 Mudanya/Bursa

12.



Mehmet hangi cümle ile nezaket ifadesi kullanmamış olur?

- A. Sakıncası yoksa odana ben de girebilir miyim?
- B. Her zaman kuralları dolabıma yapıştıracak mısın?
- C. Rica etsem odamı toplamama yardım eder misin?

13.



Bu besin büyümemiz ve kemik gelişimimiz için önemlidir.

Buse hangi besinle ilgili bir açıklama yapmıştır?

A.



B.



C.



14.

Çikolata, asitli içecekler, cips gibi besinler

Yukarıdaki cümle hangi ifade ile tamamlanırsa yanlış bilgi verir?

- A. bazı hastalıklara neden olur
- B. şişmanlığa yol açar
- C. büyüme çağında çok tüketilmelidir

15.

Aşağıdaki tabakların hangisinde hem hayvansal hem de bitkisel besin vardır?

A.



B.



C.



16.

İlkokul birinci sınıfa giden Ayşe;

- ▲ Yiyecek hazırlamadan önce ellerini yıkar.
- Yiyecek hazırlarken bıçağı dikkatli kullanır.
- ★ Yiyeceklerini fırında veya ocakta ısıtır.

Ayşe'nin hangi sembollerle gösterilen davranışları doğru değildir?

A. ▲ ve ■

B. ■ ve ★

C. ▲ ve ★

17.



Mert hangi cümleyi söylerse yanlış bilgi verir?

- A. Yediklerimizi çiğnerken ağızımızı kapalı tutmalıyız.
- B. Tabağımıza yiyebileceğimiz kadar yemek almalıyız.
- C. Yemeğimizi yerken ailemizle sohbet etmeliyiz.

18.

Derya, spor salonunda düzenli olarak spor yapmaktadır.

Buna göre Derya'nın amacı aşağıdakilerden hangisi olabilir?

A. Vücudunu güçlendirmek

B. Derslerinde başarılı olmak

C. Sağlıklı besinler tüketmek

19.




Bir hastalığa karşı aşı ne zaman yaptırılmalıdır?

Aslı Öğretmen'in sorusunu hangi öğrenci doğru cevaplamıştır?

A.  O hastalığa yakalanmadan önce yaptırılmalıdır.

B.  O hastalığı geçirdikten sonra yaptırılmalıdır.

C.  O hastalığa yakalanıldığında yaptırılmalıdır.

20.

- Gül, ailesinin belirlediği süre kadar televizyon izler.
- Naz, televizyonu uzaktan izler.
- Eda, kendisinin belirlediği programları izler.

Bu cümlelere göre çocuklardan hangisinin davranışı yanlıştır?

A. Eda

B. Naz

C. Gül

21.

- Gazete
- Tablet
- Kitap
- Televizyon
- Telefon
- Dergi

Yukarıdakilerden kaç tanesi kitle iletişim araçlarına örnek verilir?

A. 4

B. 5

C. 6

22.



..... sağlığımızı olumsuz etkiler.

Sema Öğretmen'in cümlesi hangi ifade ile tamamlanmalıdır?

A. Gazlı içecekler tüketmek

B. Süt ve süt ürünleri tüketmek

C. Meyve ve sebze tüketmek

23.



Merdivenlerden inerken sağ tarafı kullanırım.

Merdivenlerden çıkarken sağ tarafı kullanırım.



Yukarıdaki konuşmalara göre hangi cümle doğrudur?

A. Yalnız Tuba'nın cümlesi doğrudur.

B. Yalnız Erol'un cümlesi doğrudur.

C. Hem Tuba hem de Erol'un cümlesi doğrudur.

24.

- Asansöre ailemizden bir büyüğümüzle binmeliyiz.
- Kapısı kapanmakta olan bir asansöre binmemeliyiz.
- Asansörü gereksiz yere meşgul etmemeliyiz.
- Asansörün kapısını katına gelmeden açmaya çalışmalıyız.
- Asansöre binerken kabini görmeden binmemeliyiz.

Yukarıdaki cümlelerden kaç tanesi doğru bilgi vermektedir?

A. 2

B. 3

C. 4

25.



Mert hangi cümleyi söylerse olumlu bir davranış gözlemlemiş olur?

- A. Hareket hâlindeki minibüsün genç sürücüsü emniyet kemeri takıyor.
- B. Hareket hâlindeki otomobilin ön koltuğunda oturan bir çocuk var.
- C. Hareket hâlindeki kamyonet kırmızı ışıkta durmadan geçti.

26.

- Bu işaret levhası, cadde veya sokağa bisiklet girişinin yasak olduğunu belirtir.

Bu açıklama hangi işaret levhası ile ilgilidir?

A.



B.



C.



27.

- Işıklı işaret cihazında yayalar için ve taşıtlar için farklı renk ışık vardır.

Yukarıdaki cümle sırasıyla hangi kelimelerle tamamlanmalıdır?

A. iki, üç

B. üç, iki

C. üç, üç

Tan, tanımadığı kişilerle konuşmaz.

Efe, tanımadığı kişilerle karşılaştığında onlarla selamlaşır.

Ata, evde yalnız olduğunda tanımadığı kişilere kapıyı açar.

Hangi çocuğun davranışı doğrudur?

A. Tan

B. Efe

C. Ata

29.

1. Aile bilgilerimizi,

2. Kimlik bilgilerimizi,

3. Adres bilgilerimizi

İnternet üzerinden görüştüğümüz kişilerle kaç numaralı bilgileri paylaşmamalıyız?

A. 1 ve 2

B. 1 ve 3

C. 1, 2 ve 3

30.

- Hasta veya yaralılar için ilk yardım gerekli olduğunda
- Hasta veya yaralıların güvenli şekilde hastaneye ulaştırılması gerektiğinde

Yukarıdaki durumlarda aranması gereken numara için sırasıyla hangi tuşlara basılmalıdır?

A. 1, 1 ve 0

B. 1, 1 ve 2

C. 1, 5 ve 5

31.

Doğru bilgi veren cümlelerin başındaki kutucukları işaretleyiniz.

- ☐ 1. Bir orman yangını gördüğümüzde telefonda 1, 5 ve 6 tuşlarına basmalıyız.
- ☐ 2. Sokakta bayılan birini gördüğümüzde telefonda 1, 1 ve 2 tuşlarına basmalıyız.
- ☐ 3. Köyde bir hırsızlık durumu olduğunda telefonda 1, 1 ve 0 tuşlarına basmalıyız.

Bu etkinlik sonunda kaç numaralı cümlenin başındaki kutucuk işaretlenir?

A. 1

B. 2

C. 3

32.

- gibi teknolojik aletleri bir büyüğümüzden izin alarak tek başımıza kullanabiliriz.

Yukarıdaki cümle hangisinin adı ile doğru olarak tamamlanır?

A.



B.



C.



33.

Hastalandığımızda bizi muayene eder ve iyileşmemiz için gerekli tedaviyi uygular.

Yukarıda mesleği hakkında bilgi verilen kişi nerede çalışmaz?

A. Eczane

B. Hastane

C. Aile sağlığı merkezi

34.

Görseldeki çocuklardan hangisi güvenli bir alanda bulunmaktadır?

A.



B.



C.



35.

- Karşılansası zorunlu değildir.
- Karşılansamadığında hayatımızı devam ettirebiliriz.

Hangi seçenekteki etkinlik yukarıdaki durumlardan birine örnek verilemez?




A. Yemek yemek

B. Kitap okumak

C. Oyun oynamak




36.

Aşağıdaki çocuklardan hangisinin cümlesi doğrudur?

- A.  Trafik polisinin bulunduğu yerlerde karşıdan karşıya geçmek tehlikelidir.
- B.  Üst ve alt geçitleri kullanarak karşıdan karşıya geçmek tehlikelidir.
- C.  Duran araçların önünden karşıdan karşıya geçmek tehlikelidir.

37.

Aşağıdaki çocuklardan hangisi köyde yaşamaktadır?

- A.  Kasabadan büyük bir yerleşim yerinde yaşıyorum.
- B.  Yöneticisinin vali olduğu bir yerleşim yerinde yaşıyorum.
- C.  En küçük yerleşim yerinde yaşıyorum.

38.

Aşağıdaki tarihî mekânlardan hangisi İstanbul'da bulunmamaktadır?

- A.  Aspendos Tiyatrosu
- B.  Galata Kulesi
- C.  Kız Kulesi

39.

• Yerleşim yerleri, küçükten büyüğe doğru şeklinde sıralanır.

Yukarıdaki cümle hangi ifade ile doğru olarak tamamlanır?

- A. il, köy ve ilçe B. köy, ilçe ve il C. ilçe, il ve köy