

# KDS

## 4. SINIF

### ÖĞRENCİLERİN DİKKATİNE!

- ⚠ Cevap kağıdına kitapçığın üzerinde yazan kitapçık türünü mutlaka kodlayınız.
- ❖ Bu denemede Türkçe (15 soru), Matematik (15 soru), Fen Bilimleri (10 soru), Sosyal Bilgiler (10 Soru), İngilizce (5 Soru), Din Kültürü ve Ahlak Bilgisi (5 Soru) olmak üzere 6 bölüm bulunmaktadır.
- ❖ Cevaplarınızı, cevap kağıdında her ders için ayrılan ilgili bölümlere işaretleyiniz.
- ❖ Test kitapçığında her sorunun sadece bir cevabı vardır.
- ❖ Bir soru için birden fazla cevap yeri işaretlenmişse, o soru yanlış cevaplanmış sayılacaktır.
- ❖ Kazanım Değerlendirme Sınavının süresi 80 dakikadır.
- ❖ Cevaplarınızı koyu siyah ve yumuşak bir kurşun kalemle işaretleyiniz.
- ❖ İşaretlerinizi cevap yerlerinin dışına taşırmayınız.

ÖRNEK KODLAMA

A B C D

**A**

2020-2021

## KAZANIM DEĞERLENDİRME SINAVI

**5. SINAV**

SINAV SÜRESİ : 80 Dakika

Adı ve Soyadı : .....

Sınıf : .....

Öğrenci Numarası : .....

KDS20210405



1.

Az demeden atarsan  
Aza az katarsan,  
Gün gelir bakarsın  
Birikene şaşarsın.

Verilen şîrin konusunu aşağıdaki atasözlerinden hangisi açıklar?

- A) Damlaya damlaya göl olur.
- B) Sakla samanı gelir zamanı.
- C) El elden üstündür.
- D) Ak akçe kara gün içindir.

2.

Limon kokusu sarmıştı tüm bahçeyi.  
Annem kulağıma eğilip( )  
( ) İyi ki gelmişiz( ) dedi.  
Dönüp yüzüne baktım. Gözlerine yeniden yaşama sevinci gelmişti( )

Yukarıdaki metinde yay ayraçlar içerisine sırasıyla hangi noktalama işaretleri konulmalıdır?

- A) ( . ) ( - ) ( . ) ( : )
- B) ( : ) ( - ) ( . ) ( . )
- C) ( : ) ( - ) ( , ) ( . )
- D) ( . ) ( - ) ( , ) ( . )

3.

Hacivat; Karagöz'e göre daha bilgili, daha sabırlı bir karakterdir. Ama Karagöz de Hacivat'a göre daha şakacıdır. Karagöz'ün hayatı ciddiye almayan bir tarafı vardır.

Yukarıdaki metne göre Hacivat ile Karagöz karşılaştırmalarından hangisine ulaşamaz?

- A) Karagöz, Hacivat'a göre daha zekidir.
- B) Hacivat, Karagöz'e göre daha sabırlıdır.
- C) Karagöz, Hacivat'a göre daha şakacıdır.
- D) Hacivat, Karagöz'e göre daha bilgilidir.

4.

1. Bu yüzden evimize gelen misafirlere her zaman kahve ikram ederiz.
2. Her kültürün kendine özgü bir yiyeceği, içeceği vardır.
3. Özellikle kahvenin kültürümüzde büyük bir önemi vardır.
4. Bizim kültürümüzde de birçok içecek vardır.

Yukarıdaki olayların oluş sırası hangi seçenekte doğru verilmiştir?

- A) 2 - 1 - 3 - 4
- B) 1 - 2 - 3 - 4
- C) 2 - 4 - 3 - 1
- D) 4 - 2 - 1 - 3

5. Büyük harflerle yapılan kısaltmalara getirilen eklerde, kısaltmanın son harfinin okunuşu esas alınır.

Örnek: MEB'in

Buna göre aşağıdaki cümlelerin hangisinde kısaltmalara gelen eklerde **hata** yapılmıştır?

- A) TDK'nin onayladığı sözlükleri kullanmalyız.
- B) Babası THY'da çalışıyormuş.
- C) Ahmet 10 TL'ye kalem almış.
- D) Ankara'ya gidince TBMM'yi de ziyaret ettik.

6. Aşağıda yabancı dillerden alınmış, henüz dilimize yerleşmemiş kelimeler ile Türkçe karşılıkları verilmiştir. Hangi seçenekte **hata** yapılmıştır?

- A) rezervasyon: yer ayırtma
- B) printer: yazıcı
- C) navigasyon: yolbul
- D) monitör: kumanda

7.



Dedem, anlatımını güçlendirmek için cümlelerinde her zaman pekiştirmeli sözcükler kullanır.

Buna göre aşağıdakilerden hangisi dedemin cümlesi **olamaz**?

- A) Bizim zamanımızda buralar yemyeşildi.
- B) Ellerini tertemiz yıka.
- C) Odanı yine darmadağınık bırakmışsın.
- D) Bahçemizde sarı, kırmızı birçok çiçek açardı.

8.

“Deyim: Anlatımı güçlendirmek için kullanılan, çoğunlukla gerçek anlamından ayrı bir anlam taşıyan, en az iki kelimeden oluşmuş, kalıplaşmış sözcük gruplarıdır.  
Örnek: Etekleri tutuşmak → Çok telaşlanmak.”

Buna göre aşağıdaki cümlelerin hangisinde bir deyim kullanılmıştır?

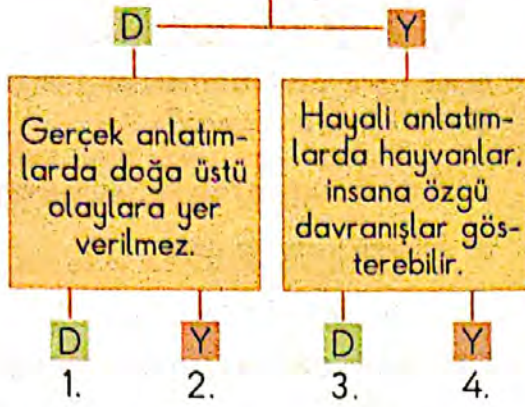
- A) Yalan söylediğini herkes öğrenince çok utandı.
- B) Kaşla göz arasında bütün meyveleri yemiş.
- C) Annesi bütün gün temizlik yapmış.
- D) Çok yorgun olduğu için kitap okumadan uyumuş.





9.

Hayali anlatımlarda gerçekleşmesi mümkün olmayan olaylar anlatılır.



Yukarıdaki ifadeler doğru ise "D" yanlış ise "Y" yazan yoldan ilerlediğimizde hangi çıkışa ulaşırız?

A) 1. B) 2. C) 3. D) 4.

10. "Emre, ekmeğine bir kaşık bal sürdü neşeyle."

Verilen cümlede aşağıdaki sorulardan hangisinin cevabı **yoktur**?

- A) Kim?
- B) Nasıl?
- C) Ne?
- D) Nerede?

11. Türkçede bazı kelimelerin hem eş anlamlısı hem de zıt anlamlısı bulunmaktadır.

Eş Anlamlısı	Kelime	Zıt Anlamlısı
sual	soru	cevap

Verilen bilgiye göre aşağıdaki tabloda kaç numaralı satırda **hata** yapılmıştır?

	Eş Anlamlısı	Kelime	Zıt Anlamlısı
1	ak	beyaz	siyah
2	fakir	zengin	yoksul
3	yaş	ıslak	kuru
4	iri	büyük	küçük

A) 1 B) 2 C) 3 D) 4

12. Aşağıdaki cümlelerin hangisinde "katı" kelimesi mecaz anlamda kullanılmıştır?

- A) Üçün iki katı altıdır.
- B) Buz, suyun katı hâlidir.
- C) Bazı konularda katı kurallar koymak gerekebilir.
- D) Yaptığı muhallebi çok katı olmuştu.

13.



Verilen hikâye unsurları şemasına aşağıdakilerden hangisi **yazılamaz**?

- A) Kişiler                      B) Zaman  
C) Başlık                      D) Yer

14. Aşağıdaki cümlelerin hangisinde "ki" nin yazımı ile ilgili **hata** yapılmıştır?

- A) Öyle çok istedi ki sonunda başardı.  
B) Yarınki sınava çalıştın mı?  
C) Öyle çok bulaşık yıkadı ki suda kalmaktan parmakları buruştu.  
D) Akşam ki misafirler erken gittiler.

15. Aşağıdaki cümlelerin hangisinde iki nokta ( : ) **yanlış** yerde kullanılmıştır?

- A) Bir sürü iş yaptım: temizlik, çamaşır, bulaşık...  
B) Dün akşam yemekte köfte: pilav, salata yedim.  
C) Öğretmeni:  
- Bu soruyu sen çözebilirsin, dedi.  
D) Kendime verdiğim söz şudur: Her akşam uyumadan önce mutlaka kitap okuyacağım.

TÜRKÇE TESTİ BİTTİ.  
MATEMATİK TESTİNE  
GEÇİNİZ.



1. Aşağıdaki dönüşümlerden hangisi yanlıştır?

- A) 4 yıl = 48 ay  
B) 120 gün = 2 ay  
C) 180 dk = 3 saat  
D) 18 gün = 432 saat

2. Aşağıdaki tabloda bir kırtasiyecinin aldığı ürün adedi ve ödediği ücretler verilmiştir.

Ürün	Adet	Toplam Ücret
Hikâye Kitabı	24	288
Pastel Boya	32	448

Buna göre kırtasiyeci 1 hikâye kitabı ile 1 pastel boya almış olsaydı kaç lira ödemesi gerekirdi?

- A) 736 B) 56 C) 26 D) 13

3.



Yukarıda 6 sıra kovan vardır. Her sırada 7 kovan bulunmaktadır.

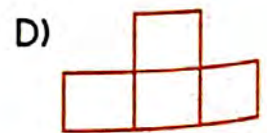
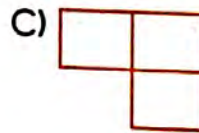
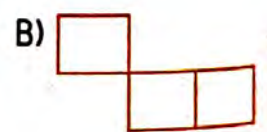
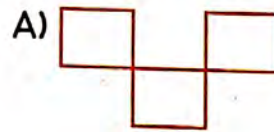
Her kovan yılda 124 kilogram bal verdiğine göre bu kovanlardan bir yılda toplam kaç kilogram bal elde edilir?

- A) 5208 B) 1612  
C) 868 D) 744

4.

X	10	100	1000
24	24	2400	2400
18	180	180	18000

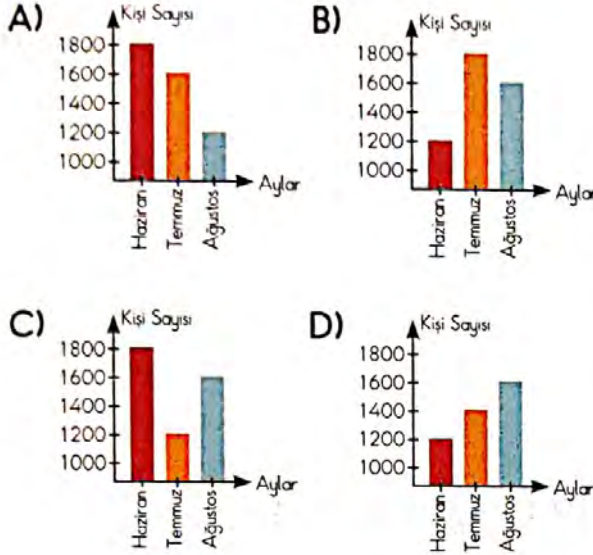
Verilen tabloda yanlış cevapların yazıldığı yerleri kesip çıkardığımızda kesip çıkarılan bölümün görüntüsü aşağıdakilerden hangisi gibi olur?



5. Haziran : 1200 kişi  
Temmuz : 1800 kişi  
Ağustos : 1600 kişi

Yukarıda bir otelde konaklayan kişi sayısının aylara göre dağılımı verilmiştir.

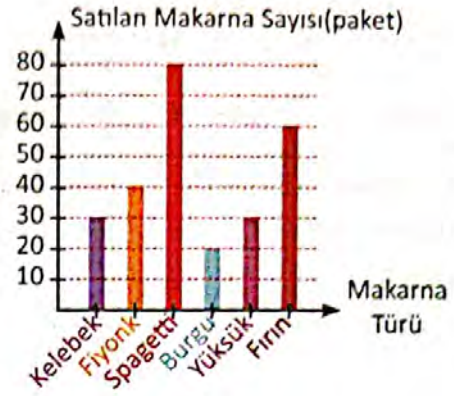
Aşağıdakilerden hangisi bu verilerle oluşturulan bir grafikdir?



6. Garanti süresi 3 yıl olan bir buzdolabı 6 ay önce satın alınmıştır. Bu günün tarihi 24 Ağustos 2020 olduğuna göre buzdolabının garanti süresi hangi tarihte biter?

- A) 24.02.2023      B) 24.08.2022  
C) 24.08.2023      D) 24.02.2022

7.



Yukarıdaki grafikte bir markette satılan makarna türleri ve sayıları verilmiştir.

Grafiğe göre aşağıda yapılan yorumlardan hangisi **yanlıştır**?

- A) En çok satılan makarna türü spagettidir.  
B) En az satılan makarna türü burgudur.  
C) Kelebek ile yüksük makarna aynı sayıda satılmıştır.  
D) En çok satılan ile en az satılan makarna türü arasındaki fark 50'dir.

8.

1 yıl 365 gün 6 saattir. 6 saatlik süre 4 yılda bir 24 saat olarak bir günü oluşturur. Oluşan bir gün şubat ayına eklenir. Şubat ayı 4 yılda bir 29 gün olur. Bu duruma "artık yıl" denir.

2020 yılı da artık bir yıldır. Buna göre 2020 yılı toplam kaç saattir?

- A) 8760      B) 8766  
C) 8784      D) 8790




9. Deniz, kitabının 1. gün  $\frac{6}{50}$ 'sini, 2. gün  $\frac{14}{50}$ 'ünü ve 3. gün ise  $\frac{21}{50}$ 'ini okuyor.

3. günün sonunda kitabın kaçta kaç okunmamış durumdadır?

- A)  $\frac{41}{50}$  B)  $\frac{29}{50}$  C)  $\frac{9}{50}$  D)  $\frac{19}{50}$

10. Aşağıdaki kesir ifadelerinden en büyüğü hangisidir?



C)  $\frac{21}{6}$

D)  $\frac{19}{6}$

11. 100 liranın  $\frac{10}{25}$ 'u ile 50 liranın  $\frac{6}{10}$ 'si toplandığında kaç lira olur?

- A) 70 B) 50 C) 40 D) 30

12. I.  $\frac{1}{8} < \frac{1}{5} < \frac{1}{2}$

II.  $\frac{1}{2} > \frac{1}{12} > \frac{1}{24}$

III.  $\frac{1}{36} > \frac{1}{14} > \frac{1}{5}$

IV.  $\frac{1}{25} < \frac{1}{20} < \frac{1}{10}$

Yukarıda verilen birim kesir karşılaştırmalarından hangileri doğrudur?

A) I, II, III

B) I, II, IV

C) I, III, IV

D) II, III, IV



13.



Verilen kesir modeli ile ilgili olarak aşağıdaki bilgilerden hangisi **yanlıştır**?

- A) Tam sayılı kesirdir.
- B) İki tam iki bölü dört olarak okunur.
- C)  $2\frac{2}{4}$  şeklinde ifade edilir.
- D) Birim kesri  $\frac{2}{4}$ 'dir.

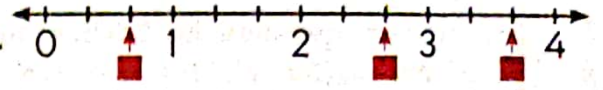
14.

$$25 \times 36 = 1800 \div \blacksquare$$

Eşitliğin oluşabilmesi için  $\blacksquare$  yerine hangi sayı yazılmalıdır?

- A) 900 B) 450 C) 2 D) 4

15.






Aşağıdakilerden hangisi sayı doğrusunda  $\blacksquare$  ile gösterilen kesir ifadelerinden biri **değildir**?

- A)  $\frac{11}{3}$  B)  $2\frac{2}{3}$  C)  $\frac{2}{3}$  D)  $3\frac{1}{3}$

**MATEMATİK TESTİ BİTTİ.**  
**FEN BİLİMLERİ TESTİNE**  
**GEÇİNİZ.**

1. "Teknolojinin gelişmesi ile birlikte aydınlatma teknolojileri elektrik enerjisini kullanmaya başlamış ve bu sayede daha çok ışık üretmeye başlamıştır."

Yukarıdaki bilgiye göre aşağıdaki aydınlatma araçlarından hangisinin daha çok ışık üretmesi gerekir?



2. ● Tuzlu su  
● Makarna - Su  
● Demir tozu - kum

Seçeneklerden hangisi yukarıdaki karışımları ayırma yöntemlerinden biri **değildir**?

- A) Süzme B) Suda yüzdürme  
C) Buharlaştırma D) Miknatısla

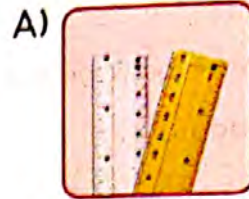
3. ▶ Demir ▶ Tuz  
▶ Ayran ▶ Limonata  
▶ Altın ▶ Şeker

Yukarıdaki maddelerden kaç tanesi saf maddedir?

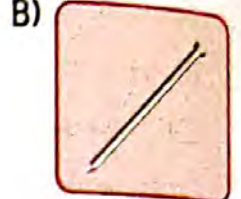
- A) 2 B) 3  
C) 4 D) 5

4. ◆ Miknatısla çekilmez  
◆ Suyu emmez  
◆ Suda batmaz

Seçeneklerde verilen hangi madde yukarıdaki 3 özelliği de gösterir?



Plastik Cetvel



Çivi



Madeni Para



Kâğıt Havlu

5. Depo enerji kaynağı olan bir besin ögesi, fazla tüketildiğinde obeziteye yol açabilir.

Yukarıda hangi besin içeriğinin fazla tüketilmesinin zararından bahsedilmiştir?

- A) Yağlar B) Vitaminler  
C) Karbohidratlar D) Su ve mineraller

6. "Mineraller, kayaları oluşturan yapı taşlarıdır. Metal cevheri olarak bilinen demir, kalay, bakırın yanı sıra; saf elementler şeklinde oluşan altın, elmas ve gümüş de mineraldir."

Yukarıda bahsedilen minerallerden hangisi ülkemizde **çkarılmaz**?

- A) Demir B) Bakır  
C) Altın D) Elmas

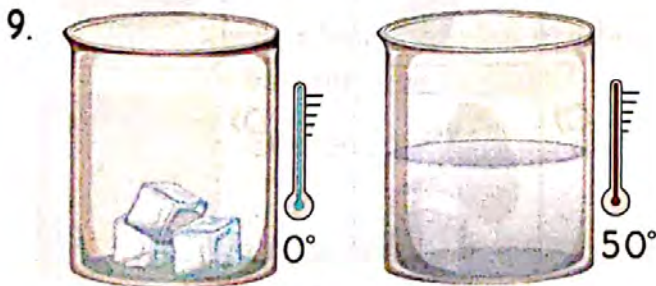
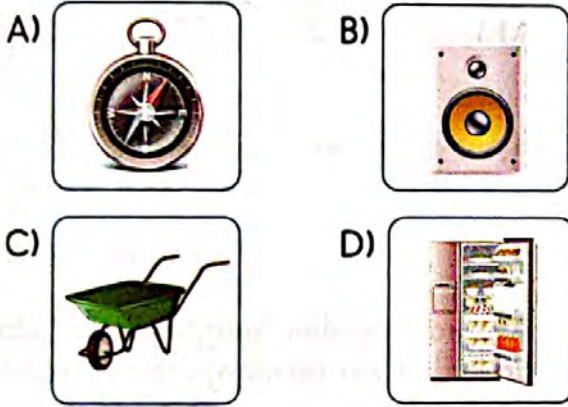


7. I. Taş dereceli silindire atılır.  
 II. Son okumadan ilk okuma çıkartılır.  
 III. Her iki madde de içindeyken dereceli silindir tekrar okunur.  
 IV. Dereceli silindire su konur ve seviyesi okunur.

Yukarıda verilenler hangi sıra ile yapılsa taşın hacmi doğru ölçülmüş olur?

- A) IV - I - III - II      B) I - IV - III - II  
 C) IV - III - II - I      D) I - II - III - IV

8. Aşağıdakilerden hangisi mıknatısların kullanım alanlarına örnek olarak **gösterilemez**?



Yukarıda sıcaklıkları verilen buz ve su aynı kaba alındığında aşağıdaki durumlardan hangisi **oluşmaz**?

- A) Buz ısı alır.  
 B) Suyun sıcaklığı artar.  
 C) Su ısı verir.  
 D) Buz erir.

10.



Görselde verilen tartma işlemlerine göre aşağıdakilerden hangisi doğrudur?

- A) Brüt kütle 1700 g'dır.  
 B) Kabin darası 1700 g'dır.  
 C) Brüt kütle 2300 g'dır.  
 D) Net kütle 1700 g'dır.

FEN BİLİMLERİ TESTİ BİTTİ.  
 SOSYAL BİLGİLER TESTİNE  
 GEÇİNİZ.



1. I. Barınmak II. Sinemaya gitmek  
III. Beslenmek IV. Kitap okumak  
V. Giyinmek  
Yukarıda verilenlerden hangileri temel ihtiyaçlarımızdandır?

A) I, III, V B) I, II, V  
C) I, II, III D) II, IV

2. Ayça'nın dedesi, sebze ve meyve yetiştirerek geçimini sağlamaktadır. Dayısının binden fazla koyunu vardır. Babası ise bir beyaz eşya fabrikasında çalışmaktadır.

Yukarıdaki anlatılanlara göre Ayça'nın yaşadığı yerde aşağıdaki ekonomik faaliyetlerden hangisinin olduğu **söylenmez**?

A) Hayvancılık B) Sanayi  
C) Turizm D) Tarım

3. Aşağıdaki kişilerden hangisi bilinçli tüketici davranışı **göstermemektedir**?

A) Aldığı ambalajlı ürünün son kullanma tarihine bakan Derya.  
B) Alacağı ürün için fiyat araştırması yapan Damla.  
C) Alışverişe çıkmadan önce alacağı ürünler için liste hazırlayan Taner.  
D) İnternette en çok yorum alan ürünleri tercih eden Merve.

4.

Geçmişten Günümüze Teknolojik Ürünlerin Değişimi

	GEÇMİŞ	GÜNÜMÜZ
1	Çok enerji harcama	Az enerji harcama
2	Gürültülü olma	Sessiz olma
3	Zaman tasarrufu sağlama	Çok zaman harcama
4	Büyük olma	Küçük olma

Yukarıdaki tabloda kaç numaralı satır **hatalıdır**?

A) 1 B) 2 C) 3 D) 4

5. Aşağıdakilerden hangisi ulaşım alanında kullanılan teknolojik bir üründür?

A)



B)



C)



D)





6. Aşağıdakilerden hangisi ekonomik faaliyet aşamalarından biri olan "dağıtım" ile ilgilidir?

- A) Ürünün fabrikada depolanması.
- B) Ürünün satış noktalarına gönderilmesi.
- C) Ürünün satış noktalarından tüketiciye satılması.
- D) Ürünün alıcı tarafından kullanılması.

7. I. İhtiyaçları belirlemek.  
II. Buluş sonrası kazancı hesaplamak.  
III. Fikir üretmek.  
IV. Tasarım yapmak.  
Yukarıda verilenlerden hangileri buluş yapma sürecine uygundur?

- A) I, II, III
- B) II, III, IV
- C) I, II, IV
- D) I, III, IV

8. Aşağıdakilerden hangisi doğal afetlere karşı alınan önlemlerden **değildir**?

- A) Eğimli arazilerde ağaçlandırma yapmak.
- B) Akarsu yataklarına set ve baraj yapmak.
- C) Yüksek binalar yapmak.
- D) Doğal bitki örtüsünün korunmasını sağlamak.

9. Aşağıdakilerden hangisi Mustafa Kemal Atatürk'ün bulunduğu savaşlardan biri **değildir**?

- A) II. Dünya Savaşı
- B) Çanakkale Savaşı
- C) I. Dünya Savaşı
- D) Kurtuluş Savaşı

10. Aşağıdakilerden hangisi yön bulma yöntemlerinden biri **değildir**?

- A) Kutup yıldızına bakmak.
- B) Akarsuların akış yönüne bakmak.
- C) Ağaç yosunlarına bakmak.
- D) Pusula kullanmak.

SOSYAL BİLGİLER TESTİ BİTTİ.  
İNGİLİZCE TESTİNE  
GEÇİNİZ.

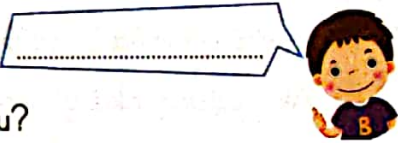
1. Turn off ..... light.

- A) to
- B) the
- C) around
- D) quiet

2.

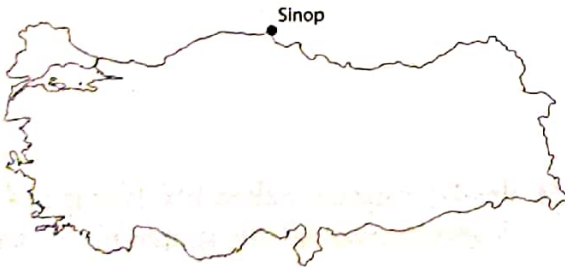


May I open the window?



- A) And you?
- B) Here you are.
- C) I'm fine.
- D) Yes, you may.

3.



Where is Sinop?

- A) It's in the west
- B) It's in the south
- C) It's in the north
- D) It's in the east

4.

1. I have dinner at eight o'clock.
2. I have lunch at twelve o'clock
3. I have breakfast at nine o'clock

Put in an order.

- A) 3 - 2 - 1
- B) 2 - 3 - 1
- C) 1 - 2 - 3
- D) 1 - 3 - 2

5. What is "deney" in English?

- A) Experiment
- B) Bottle
- C) Scientist
- D) Seed


İNGİLİZCE TESTİ BİTTİ.  
DİN KÜLTÜRÜ VE AHLAK  
BİLGİSİ TESTİNE  
GEÇİNİZ.



1. Peygamberimiz Hz. Muhammed'in babasının ismi hangi seçenekte doğru olarak verilmiştir?  
A) Abdullah  
B) Ebubekir  
C) Ebu Talip  
D) Hamza
2. Yeryüzünde Allah'a ibadet amacıyla yapılan ilk mabet olan Kâbe nerededir?  
A) Mısır  
B) Mekke  
C) Şam  
D) Medine
3. Aşağıdakilerden hangisi güzel ahlaklı kişinin yapacağı davranışlardan biri değildir?  
A) Sözünde durmak.  
B) Yardımsever olmak.  
C) Yerlere çöp atmak.  
D) Dürüst olmak.
4. Kur'an-ı Kerim'in indirilmeye başlandığı gece aşağıdakilerden hangisidir?  
A) Regaip Kandili  
B) Berat Kandili  
C) Miraç Kandili  
D) Kadir Gecesi
5. Aşağıda verilen ilahî kitap ile peygamber eşleştirmelerinden hangisi yanlıştır?  
A) Tevrat-Hz. Süleyman (a.s.)  
B) İncil - Hz. İsa (a.s.)  
C) Kur'an-Hz. Muhammed (s.a.v.)  
D) Zebur-Hz. Davut (a.s.)

SINAV BİTTİ.  
CEVAPLARINIZI  
KONTROL EDİNİZ.

# AZANIM DEĞERLENDİRME SINAVI





**2021 YILI KAZANIM DEĞERLENDİRME UYGULAMA SINAVI**  
**CEVAP ANAHTARI**  
**A KİTAPÇIĞI**

TÜRKÇE		MATEMATİK		FEN BİLİMLERİ		SOSYAL BİLGİLER		DİN KÜLTÜRÜ VE AHLAK BİLGİSİ		İNGİLİZCE	
SORU1	D	SORU1	C	SORU1	A	SORU1	B	SORU1	A	SORU1	C
SORU2	B	SORU2	A	SORU2	C	SORU2	D	SORU2	B	SORU2	A
SORU3	D	SORU3	C	SORU3	A	SORU3	B	SORU3	C	SORU3	B
SORU4	C	SORU4	D	SORU4	B	SORU4	A	SORU4	D	SORU4	B
SORU5	B	SORU5	B	SORU5	B	SORU5	C	SORU5	D	SORU5	C
SORU6	A	SORU6	C	SORU6	D	SORU6	B	SORU6	C	SORU6	A
SORU7	D	SORU7	B	SORU7	C	SORU7	C	SORU7	B	SORU7	B
SORU8	A	SORU8	A	SORU8	D	SORU8	D	SORU8	D	SORU8	C
SORU9	B	SORU9	B	SORU9	C	SORU9	C	SORU9	A	SORU9	A
SORU10	C	SORU10	D	SORU10	D	SORU10	B	SORU10	C	SORU10	C
SORU11	C	SORU11	A	SORU11	B						
SORU12	B	SORU12	D	SORU12	D						
SORU13	B	SORU13	B	SORU13	D						
SORU14	A	SORU14	C	SORU14	A						
SORU15	D	SORU15	D	SORU15	A						