



ZAMAN ÖLÇÜ BİRİMLERİ İLE PROBLEMLER ÇÖZÜYÖRÜZ


1. Saat 16.30 'da İzmir'den yola çıkan otobüs, dört buçuk saat sonra Afyonkarahisar'a varmıştır. Otobüs Afyonkarahisar'a saat kaçta varmıştır?




2. Mehmet her gün 8.00'da okula gidiyor, 15.00'da okuldan çıkıyor. Mehmet kaç saatini okulda geçirmektedir?




3. Kerem yaz tatili için 1 Temmuz'da dedesinin yanına yazlığa gitti. 20 Temmuz'da evine döndü. Kerem dedesinin yanında kaç gün tatil yapmıştır?




4. Buse akşam 22.30'da uyudu, sabah saat 08.30'da uyandı. Buse kaç saat uyumuştur?




5. Kemal Efe ve annesi saat 20.30'da film izlemeye başladılar. Film bittiğinde saat 23.00 olmuştu. Film ne kadar sürmüştür? (Saat ve dakika olarak bulunuz.)



6. Her gün 2 saat gitar dersi alan Bilal, bir hafta sonunda kaç saat gitar dersi almış olur?



7. Pazartesi yeni kitabını okumaya başlayan Meltem, 5 gün sonra kitabını bitirmiştir. Meltem kitabını hangi gün bitirmiştir?



8. Hale 8 saat arayla ilaç alıyor. İlk ilacını sabah saat 09.30 da içtiğine göre ikinci ilacını saat kaçta içecektir?



9. Önder bu yaz 3 ay boyunca tatil yaptığına göre, toplam kaç gün tatil yapmıştır?
(1 ay 30 gün olarak hesaplanacaktır.)

A wide grid of blue-lined paper for writing, with a cartoon explorer character on the right side holding a globe and a map.



10. Yeliz iki yıl garantili bir telefon almıştı. Telefonu aldıktan 6 ay sonra ekranı çatladı. Yeliz'in telefonunun ekranı garanti süresinin bitmesine kaç ay kala çatlamıştır?

