

ADI SOYADI:.....

TÜRKÇE

Kübra uyanınca kendini çok halsiz hissediyordu. Annesinin uyarısına rağmen okula gitti. Ders esnasında Kübra'nın kötüleştiğini hisseden öğretmeni annesini aradı. Annesi Kübra'yı aile hekimine götürdü. Aile hekimi Kübra'yı muayene etti. Kübra midesini üşütmüştü.

(İlk üç soruyu metne göre cevaplayınız?)

1-Kübra uyanınca kendini nasıl hissediyordu?

A)halsiz B) güçlü C) sağlıklı

2-Derste Kübra'nın durumunun iyi olmadığını kim anladı?

A)müdür B) öğretmen C)arkadaşı

3-Kübra'yı doktora kim götürdü?

A)Doktoru B)Öğretmeni C)Annesi



4-Benim adımda kaç tane harf ve hece vardır?

A) Harf → 5 B) Harf → 5 C) Harf → 3
sayısı sayısı sayısı
Hece → 2 Hece → 4 Hece → 5
sayısı sayısı sayısı

resim Süveyda yapar güzel

5-Yukarıdaki kelimelerle kurulacak anlamlı ve kurallı cümle hangisidir?

A) Süveyda, güzel resim yapar.
B) Resim güzel yapar Süveyda.
C) Süveyda yapar güzel resim.



6- Kesme işareti, hangi kelimede doğru kullanılmıştır?

A)Taha'ya B)Batma'nda C)Seman'ın

7- Aşağıdaki eş anlamlı kelime eşleştirmelerinden hangisi **yanlıştır**?

| | | |
|-------------------|--------------|-----------------|
| | | |
| A) Öğretmen müdür | B) Şair ozan | C) Doktor hekim |

8- Hangi kelime doğru hecelenmiştir?

A)matematik → ma - te - ma - tik

B)araba → ar - a - ba

C)erik → e - ri - k



9-Aşağıdaki kelimelerden hangisi **yanlış** yazılmıştır?



A)öretmen



B)soğan



C)gazete

Bursa **1** da Uludağ **2** Ulucami gibi gezilecek yerler var **3**

10- Yukarıda numaralanmış kutulardan hangisine **virgül** işareti bırakılmalıdır?

A)1 B)2 C)3

çorap tarak araba

11-Yukarıdaki kelimeleri sözlük sırasına göre sıralanması nasıl olur?

- A)

| |
|---------|
| 1.araba |
| 2.çorap |
| 3.tarak |

 B)

| |
|---------|
| 1.araba |
| 2.tarak |
| 3.çorap |

 C)

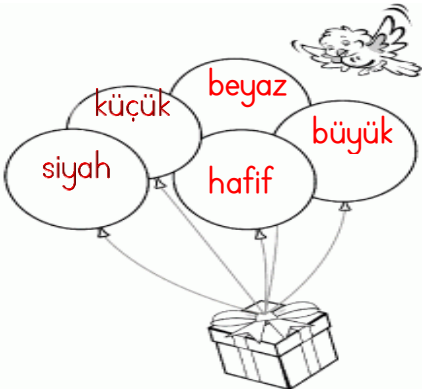

| |
|---------|
| 1.çorap |
| 2.tarak |
| 3.araba |

12- Aşağıdaki cümlelerden hangisinin kelime sayısı ikidir?

- A) Ödevimi yaptım.
B) Mete, yanıma geldi.
C) Çantama eşyalarımı bıraktım.

Berra, anneannesine dargındı. Çünkü ona söz verdiği bisikletini almamıştı. Anneannesinin Berra'ya bir sürprizi vardı. El ele tutuşup alışverişe gittiler. Berra dönüşte çok mutlu olmuştu.

13-Aşağıdaki resimlerden hangisi yukarıdaki hikaye ile ilgilisi **yoktur**?



14-Sadece zıt anlamlı kelimelerin olduğu balonları patlatan küçük kuş, hangi balonu patlatamıyor?

- A)küçük
B)beyaz
C)hafif

15-Aşağıdaki cümlelerin hangisinde farklı bir noktalama işareti kullanılmıştır?

- A)Hangi kitabı okuyorsun
B)Beytullah yazısını düzeltti.
C)Yine mi sınav oluyoruz

MATEMATİK

1- Saatle ilgili bilgilerden hangisi **yanlıştır**?

- A) Yarım saatlerde yelkovan 6'yı gösterir.
B) Akrep dakikayı gösterir.
C) İnce ve uzun olana yelkovan denir.



2-Aşağıdaki ifadelerden hangisi **yanlıştır**?

- A) Aslan, zebra ile zürafanın arasındadır.
B) Zürafa aslanın sağındadır.
C) Zebra aslanın sağındadır.

3- Annesinden harçlığını alan Arda, kantinden 3 TL'ye meyve suyu alınca cebinde 2 TL'si kaldı. Arda annesinden kaç TL harçlık almış?

- A)5
B)4
C)1

56

4- Yukarıdaki sayıda kaç tane onluk ve birlik vardır?


- A) 5 onluk 6 birlik
B) 1 onluk 5 birlik
C) 6 onluk 5 birlik

ADI SOYADI:

| | | | | |
|----|----|----|----|-------|
| 15 | 20 | 25 | 30 | |
|----|----|----|----|-------|

5- Elif ileriye doğru beşer beşer sayarken sıradaki sayıyı unuttu. Sıradaki sayı kaç?

- A)40 B)35 C)10



6-Yukarıdaki yiyeceklerden kaç tanesi yarımıdır?

- A)1 B)2 C)3

7-Aşağıdaki işlemlerden hangisinin sonucu farklıdır?

- A) B) C)

| | | |
|--|--|--|
| $\begin{array}{r} 18 \\ - 7 \\ \hline \end{array}$ | $\begin{array}{r} 19 \\ - 8 \\ \hline \end{array}$ | $\begin{array}{r} 11 \\ - 5 \\ \hline \end{array}$ |
| | | |

$$18 + 4 = 22$$

8-Yukarıdaki işlemin sözlü ifadesi hangisidir?

- A. On sekiz, dört daha yirmi iki eder.
B. On sekizden dört çıktı, yirmi iki kaldı.
C. On sekiz eksi dört yirmi iki eder.



Pazartesi 4, salı 6, çarşamba günü 3 tane ceviz topladım.

9- Buna göre sincap üç günde toplam kaç ceviz toplamıştır?

- A)12
B)13
C)14

10- Okunuşu "on altı" olan sayı aşağıdakilerden hangisidir?

- A) 16 B) 15 C) 14



11- Yukarıdaki elmaları ifade eden işlem aşağıdakilerden hangisidir?

| | | |
|--|--|--|
| A) $\begin{array}{r} 7 \\ - 3 \\ \hline 4 \end{array}$ | B) $\begin{array}{r} 4 \\ + 3 \\ \hline 7 \end{array}$ | C) $\begin{array}{r} 9 \\ - 3 \\ \hline 6 \end{array}$ |
|--|--|--|



12-Yandaki saat kaç göstermektedir?

- A)08.00 B)09.00 C)10.00

13- Yılın 9. ayı aşağıdakilerden hangisidir?

- A)Eylül B)Mart C)Ağustos



14- Yukarıdaki sayıdan önce ve sonra gelen sayıların toplamı kaçtır?

- A) 14
B) 16
C) 18

| NİSAN | | | | | | |
|-------|----|----|----|----|----|----|
| PT | SA | ÇA | PE | CU | CT | PZ |
| | | | | 1 | 2 | 3 |
| 4 | 5 | 6 | 7 | 8 | 9 | 10 |
| 11 | 12 | 13 | 14 | 15 | 16 | 17 |
| 18 | 19 | 20 | 21 | 22 | 23 | 24 |
| 25 | 26 | 27 | 28 | 29 | 30 | |

15- Nisan ayı hangi günle başlamıştır?

- A)Perşembe B)Cuma C)Pazar

HAYAT BİLGİSİ



- 1-Merdivenden inerken ve çıkarken hangi yönü kullanmalıyız?
- A)Sağ tarafı
B)Orta tarafı
C)Sol tarafı

- 2- Doğadaki kaynakları korumak için aşağıdakilerden hangisini yapmamalıyız?
- A) Satın aldıklarımızı israf etmemeliyiz.
B) İhtiyacımız kadar ürün almalıyız.
C)Her istediğimizi almalıyız.


- 3-Hangisi okulun bölümlerinden biri **değil**-dir?



A)sınıf B)kantin C)park

Sürekli hastalanıp okula gelemeyen Eylül'ü öğretmeni uyardı. "Vücudunun direncini artırmak için vitaminli gıdalar tüketmelisin." dedi.

- 4-Eylül'ün hastalıklardan korunmak için özellikle hangi besinleri yemesi gerekir?



A) Süt Ürünleri B) Bitkisel Gıda C) Hayvansal Gıda

- 5-Aşağıdakilerden hangisi kişisel bakıma örnek olarak gösterilemez?
- A) Ders çalışmak.
B) Dişlerimizi fırçalamak.
C) Saçlarımızı taramak.

- 6- Aşağıdaki çocuklardan hangisi fiziksel bir özelliğinden bahsetmiştir?

- A) Saçlarımı herkes kıskanır.
B) Güzel resimler yaparım.
C) Top oynamayı çok seviyorum.

Çok yemek yersek obez, az yemek yersek zayıf ve güçsüz oluruz. Bunların olmaması için ve düzenli beslenmeliyiz.

- 7- Yukarıdaki ifadeye göre noktalı yere aşağıdakilerden hangisi gelmelidir?

- A)aşırı B)dengeli C) sağlıklı



8-Aşağıdaki temizlik ürünlerinden hangisine **çocuklar** dokunabilir?

- A)sabun B)çamaşır suyu C)tuz ruhu

- 9- Hangisi güvenlik kurallarına uygun bir davranıştır?

- A)Islak yerlerde dikkatli yürürüm.
B)Asansöre tek başıma binerim.
C)Balkondan sarkarak arkadaşım ile konuşurum.



radio

top

gazete

bilgisayar

- 10-Tabloda bulunanlardan kaç tanesi kitle iletişim aracıdır?

- A)1 B)2 C)3

M. Mustafa TAŞ
BAŞARILAR....