

2. SINIF 2. DÖNEM HAYAT BİLGİSİ DERSİ DEĞERLENDİRME SORULARI-3

1. Önder'in, insanların farklı özelliklere sahip olmasını hoşgörü ile karşılaması onun hangi özelliğini gösterir?

- A) Farklılıklara saygılı olmasını
B) Kaynakları bilinçli kullanmasını
C) Bilinçli bir tüketici olmasını

2. Aşağıdakilerden hangisi özel günleri kutlarken hissettiğimiz duygulardan biri değildir?

- A) hoşgörü B) kıskançlık C) sevinç

3. "Arkadaşlık ilişkilerimizi sıkı tutmak ve güçlendirmek için arkadaşlarımıza karşı olmalıyız." cümlesi hangisi ile tamamlanabilir?

- A) öfkeli
B) kaba
C) dürüst



4. Aşağıdakilerden hangisi fiziksel bir özelliktir?

- A) Güler yüzlü olmak
B) Sarı saçlı olmak
C) Kibar olmak

5. Pazar gecesini çantasını hazırlamak isteyen Yeliz, ders araç gereçlerini neye göre çantasına koymalıdır?

- A) Haftalık ders programı
B) Sevdiği dersler
C) Hikâye kitapları



6. 2-A sınıfı çeşitli süsler getirmiş ve sınıflarını süslemeye başlamışlardır. Buna göre hangi önemli gün yaklaşıyor olabilir?

- A) 23 Nisan Ulusal Egemenlik ve Çocuk Bayramı
B) Ramazan Bayramı
C) Kurban Bayramı



7. * Söz alarak konuşmak

* Derslere zamanında girmek

* Arkadaşımız konuşurken sessizce dinlemek

* Odamızı toplu ve düzenli tutmak



Verilenlerden kaç tanesi sınıf kurallarındandır?

- A) 2 B) 3 C) 4



8, 9 ve 10. sorular görsele göre cevaplandırılacaktır.

8. Görsele göre evimizin sol tarafında hangi yapı bulunmaktadır?

- A) okul B) Deniz Apt. C) eczane

9. Evimizin bulunduğu sokağın adı nedir?

- A) Malazgirt Sokak
B) Güvercin Sokak
C) Meydan Sokak

10. Evden çıkıp çocuk parkına gitmek istersek hangi yapı ile karsılaşmayız?

- A) eczane
B) manav
C) pastane



11. Görseldeki çocuğa hatalı davranışı için hangi öneride bulunmalıyız?

- A) Kaynakları dikkatli kullanmalısın.
B) Dengeli ve düzenli beslenmelisin.
C) Erken yatıp erken kalkmalısın.



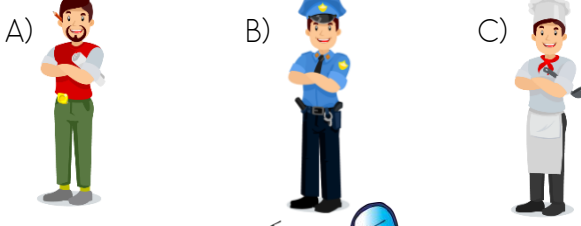
12. Barınma, giyinme ve beslenme insanların temel ihtiyaçlarıdır. Bir de sosyal ihtiyaçlarımız vardır. Aşağıdakilerden hangisi bir sosyal ihtiyaçtır?

- A) Ders çalışmak
B) Boyama yapmak
C) Arkadaşlarımızla oyun oynamak

13. "Aramızda kan bağıımızın bulunduğu kişilere deriz" cümlesinde boş bırakılan yere hangisi gelmelidir?

- A) dost B) akraba C) arkadaş

14. Ailesinden habersizce evden uzaklaşan bir çocuk kaybolduğunu fark ettiğinde aşağıdakilerden hangisinden yardım istemelidir?




15.



Yukarıda Yakup'un odasını görmektesiniz. Buna göre Yakup için aşağıdakilerden hangisi söylenemez?

- A) Yakup dağınık bir çocuktur.
B) Yakup sorumluluklarını yerine getirmemektedir.
C) Yakup derslerinde başarılı bir öğrencidir.

16. Hangi görsel yardımseverlik ile ilgilidir?



17. 23 Nisan Ulusal Egemenlik ve Çocuk Bayramı'nı kutladığımız gün hangi önemli olay olmuştur?

- A) Türkiye Büyük Millet Meclisi açılmıştır.
B) Atatürk Samsun'a çıkmıştır.
C) Ankara başkent olmuştur.

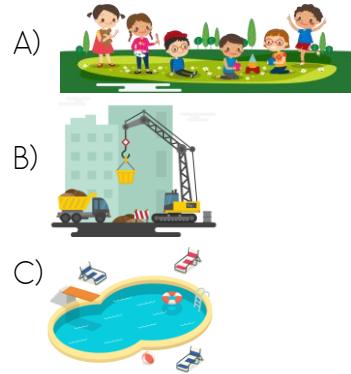
18. Aşağıdakilerden hangisi dini bayramlarımızdan biri değildir?

- A) Kurban Bayramı
B) Ramazan Bayramı
C) Zafer Bayramı

19. Aşağıdakilerden hangisi okul çevresinde görebileceğimiz bir trafik levhasıdır?



20. Aşağıdakilerden hangisi güvenli bir oyun alanıdır?



CEVAPLAR

- 1 A B C
2 A B C
3 A B C
4 A B C
5 A B C
6 A B C
7 A B C
8 A B C
9 A B C
10 A B C

- 11 A B C
12 A B C
13 A B C
14 A B C
15 A B C
16 A B C
17 A B C
18 A B C
19 A B C
20 A B C