



..... İlkokulu

**2/... SINIFI 5.ÜNİTE**  
**DEĞERLENDİRME SINAVI**

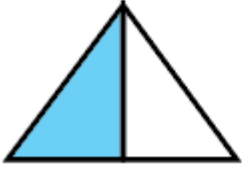
**KESİRLER-ZAMAN ÖLÇME-PARALARIMIZ**

Adı-Soyadı: .....

..... / ..... / 20...

**ALDIĞI PUAN**

1 - Aşağıdaki şekillerin altlarına "bütün, yarım, çeyrek" ifadelerinden uygun olanını yazın. (12 puan)



.....

.....

.....

.....

.....

.....

2 - Aşağıda verilen nesnelere göre boşluklara uygun sayıları yazın. (8 puan)



... bütün karpuz  
... yarım karpuz eder.



... bütün elma  
... yarım elma eder.

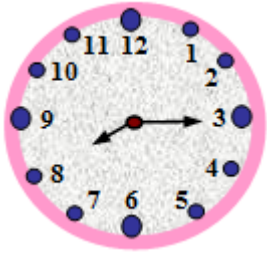


... bütün ekmek  
... çeyrek ekmek eder.

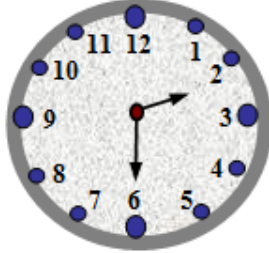


... yarım elma  
... bütün elma eder.

3 - Aşağıdaki saatlerin okunuşlarını altlarına yazın. (8 puan)




.....




.....

4 - Aşağıdaki saatlere akrep ve yelkovan çizin. (8 puan)



06 : 15



01 : 45

5 - Simay, pazartesi gününün 6 saatini okulda, 1 saatini yolda ve 10 saatini uykuda geçirmektedir. Diğer işler için Simay'ın kaç saati kalır? (10 puan)

6 - Bir otobüs saat 9.00'da İstanbul'dan yola çıkıyor ve hiç mola vermeden 5 saat yolculuk yapıp Ankara'ya varıyor. Buna göre otobüs, Ankara'ya saat kaçta varır?

- A) 13:00
- B) 14:00
- C) 15:00

7 - Sabah 8:00'de işe başlayan Gürdal Bey, saat 17:00'de işten çıkmaktadır. Gürdal Bey kaç saatini iş yerinde geçirmektedir?

- A) 8
- B) 9
- C) 10

8 - Begüm haftada 2 saat resim kursuna gitmektedir. Buna göre Begüm 5 haftada kaç gün kursa gitmiş olur? (5 puan)

9 - Yaz tatilinde köye dedesinin yanına giden Tayfun 2 ay 3 hafta dedesinin yanında kalmıştır. Buna göre Tayfun, kaç gün köyde geçirmiştir? (10 puan)

10 - Aşağıdaki soruları takvime göre yanıtlayın. (10p)

- a) Takvim hangi aya aittir? .....
- b) Ay kaç gündür? .....
- c) Ayın 23.günü hangi gündür? .....
- d) Ayda kaç tane Çarşamba günü vardır? .....
- e) Ay hangi mevsimdedir? .....

Ekim - 2014

Di.	Pa.	Ça.	De.	Eu.	Ek.	Pa.
		1	2	3	4	5
6	7	8	9	10	11	12
13	14	15	16	17	18	19
20	21	22	23	24	25	26
27	28	29	30	31		

11 - Aşağıdaki paraların toplamalarını altlarına yazın. (9 puan)



12 - Zuhal, elindeki parayı pastaneye verirse kaç TL para üstü almalıdır? (10 puan)



Test soruları 5 puan.

Başarılar Kuzucuklar...

Mehmet Gürdal TEKİN