

ADI SOYADI: .....

## TÜRKÇE



Merhaba, benim adım Esmâ.  
Bu sene birinci sınıfa başladım.  
Yeni sınıfımda bir çok arkadaşım oldu. Tesnim, Zehra, Eyüp,...  
Onlarla beraber oyun oynayıp, eğleniyoruz. Sıra arkadaşımın adı Enes ama Duru'yu da çok seviyorum. Onlarla çok iyi anlaşıyorum. Okuma ve yazmayı öğrendim. Önceden babam bana hikayeler okurdu. Artık ben kardeşime kitap okuyorum. Özellikle resim yapmayı çok seviyorum.

(İlk üç soruyu metne göre cevaplayınız?)

1-Esmâ'nın sıra arkadaşının adı nedir?

A)Enes B)Zehra C)Duru

2-Esmâ, en çok ne yapmaktan hoşlanır?

A)Hikaye okumak B)Resim yapmak  
C)Kardeşile oynamak.

3-Okuma ve yazmayı öğrenmeden önce Esmâ'ya kim kitap okuyormuş?

A)Öğretmeni B)Arkadaşı C)Babası

**Kırmızı ışıktadır !**

4-Yukarıdaki cümlelerin kelime, hece ve harf sayıları aşağıdakilerden hangisidir?

	Kelime sayısı	Hece sayısı	Harf sayısı
A)	4	7	15
B)	3	7	16
C)	3	5	17

5-Aşağıdaki kelimelerden hangisi satır sonunda **yanlış** ayrılmıştır?

A) kol-  
tuk B) otob-  
üs C) sine-  
ma

6-Aşağıdaki ifadelerden hangisi cümle **değildir**?

- A) Ayaz annesiyle eve giderken  
B) Kızlar sınıfta oynamayı seviyor.  
C) Haftanın ilk günü pazartesidir.

2.	1.	15.	12.	17.	1.

7-Yukarıdaki sıralamaya karşılık gelen harflerin oluşturduğu kelime aşağıdakilerden hangisidir?

- A)Balina B)Bardak C)Bayrak

elma balık çilek

8-Yukarıdaki kelimelerin sözlük sırasına göre sıralanışı aşağıdakilerden hangisidir?

A)	1.balık 2.çilek 3.elma	B)	1.çilek 2.balık 3.elma	C)	1.balık 2.elma 3.çilek
----	------------------------------	----	------------------------------	----	------------------------------

9-Aşağıdaki cümlelerin hangisinin sonuna ünlem işareti konulmalıdır?

- A)Yasmin okula geldi.  
B)Anne yemek yaptın mı  
C)Koşun, yangın var




10-Tren vagonlarındaki heceleri kullanarak aşağıdaki kelimelerden hangisini yazamayız?


- A)yaşa B)şaka C)kara

11-Aşağıdakilerden hangisi zıt anlamlı kelime **değildir**?


- A) 

Siyah

Kara

 B) 

Sağ

Sol

 C) 

ağır

hafif

12-Aşağıdaki görsel adlarından hangisi, **tek** hecelidir?

- A)  B)  C) 



13-Yukarıdaki kelimelerden kaç tanesi doğru yazılmıştır?

- A)2 B)3 C)4



14-Yukarıdaki olayların oluş sırasına göre sıralanması aşağıdakilerden hangisidir?


- A) 2-3-1 B) 3-1-2 C) 1-2-3

seviyor arkadaşlarıyla İrem oynamayı

15-Yukarıdaki kelimelerle kurulacak anlamlı ve kurallı cümle aşağıdakilerden hangisidir?

- A) Arkadaşlarıyla oynamayı İrem seviyor.  
B) İrem arkadaşlarıyla oynamayı seviyor.  
C)Seviyor arkadaşlarıyla İrem oynamayı.

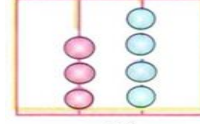
## MATEMATİK



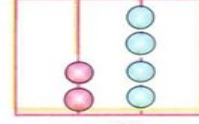
1-Tablodaki yarım elmalardan kaç bütün elma elde edilir?

- A)4 B)6 C)8

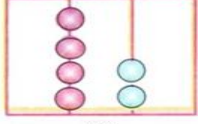
2-Aşağıda abaküsle gösterilen sayılardan en büyüğü hangisidir?



A)



B)



C)


3-Aşağıdaki sayılardan hangisinin okunuşu doğrudur?

- A) 21 → Yirmi bir  
B) 54 → Kırk dört  
C) 15 → Otuz beş



4-Koşu yarışmasının son metrelerini 3. koşan Oğuz, hızlanarak 2. koşan Arda'yı geçiyor. Buna göre Oğuz koşu yarışmasında kaçınıcı olmuştur?

- A)Birinci B)İkinci C)Üçüncü



5-Yukarıdaki armutların sayısının onluk birlikle gösterilişi hangisidir?

- A) 2 onluk 0 birlik  
B) 1 onluk 4 birlik  
C) 0 onluk 9 birlik

6-Aşağıdakilerden hangisinin sonucu farklıdır?

- A)  $14+4= \dots\dots\dots$   
B)  $12+4= \dots\dots\dots$   
C)  $9+7= \dots\dots\dots$

7-Bir minibüste 18 yolcu vardır. Yolcular-  
dan 9 tanesi durakta inince geriye kaç  
yolcu kalır?

- A)9  
B)7  
C)11

Okullar 6. ay olan .....’da  
kapanacak.

8-Yukarıdaki ifadede noktalı yere hangi ay  
adı yazılmalıdır?

- A)nisan B)mayıs C)haziran




9-Kırtasiyeye giden Emine görseldeki mal-  
zemeleri satın almıştır. Emine kırtasiyeye  
aşağıdaki paralardan hangisini vermelidir?



- A) 20 B) 10 C) 5

10-Akvaryumda 12 tane sarı balık, 8 tane  
de kırmızı balık vardır.Akvaryumda toplam  
kaç balık vardır?

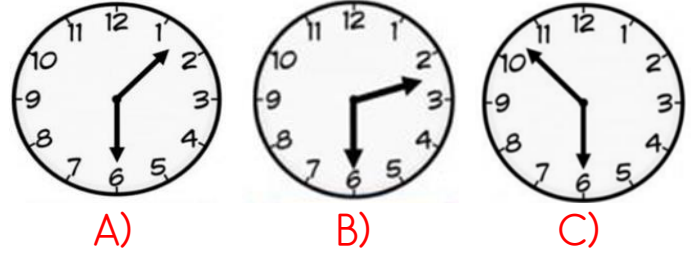
- A)16  
B)18  
C)20



11-Mira ailesine puding yapmak için  
görseldeki yumurtaların bir kısmını kullandı.  
Geriye kalan yumurtaları gösteren işlem  
aşağıdakilerden hangisidir?

- A) $5-3=2$  B) $8-3=5$  C) $11-8=3$

12-Defne okuldan saat iki buçukta çıkmak-  
tadır. Aşağıdakilerden hangisi Defne’nin  
okuldan çıkış saatini göstermektedir?



16 14 12 10 ..... 6

13-Geriye doğru ritmik saymada, noktalı  
yere hangi sayı gelmelidir?

- A)4 B)8 C)2

MAYIS 2022						
Pzrt	Salı	Çrşm	per	Cuma	Cmt	Pazar
						1
2	3	4	5	6	7	8
9	10	11	12	13	14	15
16	17	18	19	20	21	22
23	24	25	26	27	28	29
30	31					

14-Mayıs ayının 15’i hangi güne denk  
gelmektedir?

- A)Çarşamba B)Cuma C)Pazar

15- Mayıs ayı kaç gün sürüyor?

- A)31 B)30 C)29

ADI SOYADI: .....

## HAYAT BİLGİSİ

1-Aşağıdakilerden hangisi şeref köşesinde bulunmaz?



B)

### İSTİKLÂL MARŞI

Korkma, sönmez bu şafaklarda yüzen al sancak;  
Sänmeden yurdumun üstünde tüten en son ocak.  
O benim milletimin yıldızıdır, parlayacak;  
O benimdir, o benim milletimindir ancak.

Catma, kurban olayım, çehreni ey nazlı hilâl!  
Kahraman ırmak bir gül! Ne bu şiddet, bu celâl?  
Sana olmaz dökülen kanlarımız sonra helâl.  
Hakkıdır Hakk'a toplanan milletimin istiklâl.

Mehmet Âkif Ersoy



2-Arda büyüyünce basketbolcu olmak istiyor. Arda'nın boyunun uzaması için özellikle hangi tür besinleri tüketmesi gerekir?

A)Bitkisel  
gıdalar

B)Hayvansal  
gıdalar

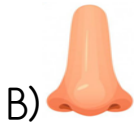
C)Süt  
ürünleri

1	Aşı olmalıyız.
2	Terli terli soğuk su içmeliyiz.
3	Mevsimine göre giyinmeliyiz.
4	Spor yapmalıyız.

3-Sağlıklı olmak için kaç numaralı ifadeleri yapmalıyız?

A)1-3-4 B)2-3-4 C)1-2

4-Kitle iletişim araçlarını çok kullanan biri, özellikle hangi duyu organına zarar verir?



5-Kişisel bakımımızı yaparken hangisini her gün yapmamalıyız?

A)Tırnaklarımızı kesmeliyiz.

B)Saçlarımızı taramalıyız.

C)Elimizi ve yüzümüzü yıkamalıyız.



6-Yandaki trafik işaret levhasını göre Kerem, bisikletini nasıl kullanmalıdır?

A)Bisikletini kullanmamalıdır.

B)Trafik polisine haber vermelidir.

C)Bisikletini güvenli kullanabilir.

7-Aşağıdakilerden hangisi görgü kurallarına uygun bir davranış değildir?



A)Yemek yerken konuşmak

B)Yemekte peçete kullanmak

C)Yemeği çiğnerken ağızımızı kapatmak.

8-Aşağıdakilerden hangisi ihtiyaç değildir?



B)



C)



9-Evinden çok uzaklaştığı için kaybolan Elif, polisten yardım istiyor. Elif, polise adresini söylerken aşağıdaki bilgilerden hangisini söylememistir?

A) Telefon numarası B) Sokak adı

C) Apartman numarası

1 marul	2 yumurta	3 biber
4 Peynir	5 Balık	6 ekmek

10-Yukarıdaki besinlerden hangileri hayvansal gıdadır?

A) **134**

B) **245**

C) **356**

M. Mustafa TAŞ

Başarılar dilerim...