

ADI SOYADI:



TÜRKÇE

İsmail derslerinde çok başarılı ve çalışkan bir öğrencidir. Ayrıca başarısı kadar sınıfta kırılan eşyaları tamir

edebildiği için de öğretmeni ve arkadaşları ona usta diye hitap ediyor.

İsmail, bayramda babaannesinin yanına Avdan köyüne gitti. Köyü yöneten muhtar, köye fırın yapmıştı. İsmail, babaannesiyle birlikte köyün fırınına gitmeyi ve fırından çıkan sıcak ekmeğe tereyağı sürüp yemeyi çok seviyordu.

(İlk üç soruyu metne göre cevaplayınız.)

1-Öğretmeni ve arkadaşları İsmail'e nasıl hitap ediyordu?

- A)Usta B)Dahi C)Çalışkan

2-Köyü kim yönetiyordu?

- A)Müdür B)Muhtar C)Başkan

3-İsmail sıcak ekmeği ne ile beraber yemeyi sever?

- A)Reçel B)Peynir C)Tereyağı

4-Aşağıdaki kelimelerden hangisi tek heceli olduğu için satır sonunda bölünemez?

- A)kral B)havuç C)kalemlik

hala amca dayı

5-Yukarıdaki kelimelerin sözlük sırasına göre sıralanışı aşağıdakilerden hangisidir?

- A)

1.amca
2.dayı
3.hala

 B)

1.hala
2.amca
3.dayı


 C)

1.dayı
2.amca
3.hala



6-Aşağıdaki ifadelerden hangisi cümledir?

- A)Annem ve babam her zaman
B)Babam arabaya binince
C)Farklılıklara saygılı olmalıyız.



7-Öğretmeni Zehra'dan tahtada yazılı olan kelimelerin eş anlamlılarını yazmasını istiyor. Buna göre Zehra hangi kelimeleri tahtaya yazmalıdır?

- A)

armağan
ad
mektep

 B)

mektep
armağan
ad

 C)

mektep
ad
armağan

Kestane

8-Yukarıdaki kelimenin ünsüz(sessiz) harfleri aşağıdakilerden hangisidir?

- A)k-s-t-n B)k-e-s-t-a-n-e C)e-a-e



9-Arkadaşlar! Alfabebe benim gibi kaç tane harf var?

- A)29 B)21 C)8

1.	21.	1.	2.	1.

10-Yukarıdaki sıralamaya karşılık gelen harflerin oluşturduğu kelime aşağıdakilerden hangisidir?

- A)atlet B)araba C)armut

11-"öğretmen" kelimesindeki hece sayısı ile aynı hece sayısı olan kelime aşağıdakilerden hangisidir?

- A)park B)kapı C)sinema



12-Yukarıdaki olayların oluş sırasına göre sıralanması aşağıdakilerden hangisidir?

- A) 2-3-1 B) 3-1-2 C) 1-3-2

13-Aşağıdaki kelimelerden hangisinin zıt anlamlısı **yoktur**?

- A)ileri B)boş C)yemek



14-Aşağıdaki cümlelerin hangisinin sonuna gelmeliyim?

- A)Annem kadar babamı da seviyorum
B)Bugün cumaysa dün neydi
C)Tüh, yine yanlış yaptım



Merhaba! Sahiplerim rengimden dolayı bana Maviş diyorlar ama aslında ben bir kuşum. Kafeste durmayı pek sevmiyorum fakat kaykaya binmeye bayılıyorum.

15-Yukarıdaki metne göre aşağıdakilerden hangisi özel isimdir?

- A)Kuş B)Maviş C)Kaykay


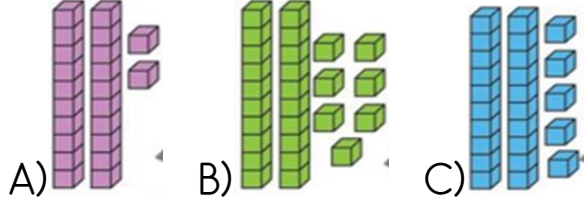
MATEMATİK



1-Görsele göre hangi cümle **yanlıştır**?

- A)Balık akvaryumun içindedir.
B. Kedi akvaryumun dışındadır.
C. Kedinin kuyruğu akvaryumun altındadır.

2-Aşağıda sayı blokları ile modellenen sayılardan en küçüğü hangisidir?



3- Bir kümeste 8 tane tavuk vardır. Kuluçkaya yatan tavukların 15 tane civcivi oldu. Kümesteki toplam hayvan sayısı kaçtır?

- A)23
B)18
C)20

$$7 + \square = 17$$

4-Yukarıdaki toplama işleminde verilmeyen toplanan aşağıdakilerden hangisidir?

- A)7 B)10 C)14




5-Bayramda yukarıdaki paraları toplayan Zahide, toplam kaç TL bayram harçlığı toplamıştır?

- A) 42 B) 35 C) 55

10 →	
- 4 →	
6 →	

6-Yukarıdaki çıkarma işleminin terim adları sırasıyla aşağıdakilerden hangisidir?

- A) fark çıkan eksilen B) eksilen fark çıkan C) eksilen Çıkan fark



7-Çocuklar, benim kenar ve köşe sayılarının toplamı kaç eder?

- A)4
B)8
C)0



8-Yukarıdaki bütün domateslerden kaç tane yarım domates olur?

- A)10 B)8 C)6

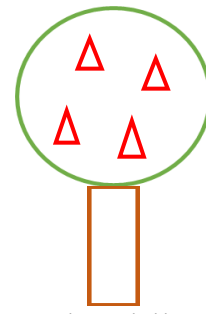
9-Aşağıdaki saat okunuşlarından hangisi yanlıştır?



- A)08.00 B)03.30 C)05.00


10- Aşağıda verilen işlemlerden hangisi doğrudur?

- A)8-2=5 B)12-3=10 C)17-0=17



11-Miraç geometrik şekillerle ağaç resmi çizdi. Miraç, ağaç resmi çizerken aşağıdaki şekillerden hangisini kullanmamıştır?

- A)Kare B)Üçgen C)Dikdörtgen



12-Yukarıdaki çiçek sayısının onluk ve birlikle gösterilişi aşağıdakilerden hangisidir?

- A) 2 onluk 0 birlik
B) 1 onluk 8 birlik
C) 0 onluk 9 birlik



13-Yandaki Dünya'mızın şekil görseli aşağıdaki geometrik cisimlerden hangisine benzemektedir?

- A)Silindir B)Küp C)Küre

14-Tesnim 20 sayfalık hikaye kitabının 5 sayfasını sabah, 4 sayfasını da akşam okudu. Buna göre Tesnim'in geriye okumadığı kaç sayfası kaldı?

- A)11
B)9
C)7

15-Dün perşembe günü ise bugün hangi gün olur?

- A)Cuma B)Salı C)Pazar

ADI SOYADI:

HAYAT BİLGİSİ

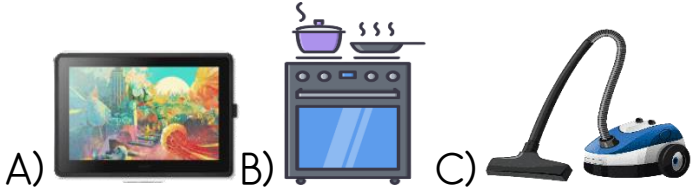


Beytullah, annesinden dışarıda oyun oynamak için izin istiyor. Annesi de güvenli oyun alanlarında oynaması gerektiği konusunda Beytullah'ı uyarıyor.

1- Buna göre Beytullah'ın aşağıdaki alanlardan hangisinde **oynamaması** gerekir?

- A)Süs havuzu B)Çocuk parkı
C)Evin bahçesi

2-Aşağıdakilerden hangisi bir iletişim aracıdır?



3-Yolda tanımadığımız biri bize hediye vermek isterse ne yapmalıyız?

- A) Hayır deyip, uzaklaşmalıyız.
B) Teşekkür edip, almalıyız.
C) Kardeşimiz için de bir tane istemeliyiz.



Ülkemiz vali, kaymakam ve muhtarlar aracılığıyla illerimizden; cumhurbaşkanı tarafından başkentten yönetilir.

4-Buna göre başkentimiz aşağıdakilerden hangisidir?

- A)Ankara B)İstanbul C)Bursa

5-Yemek yerken uyulması gereken kurallara ne denir?

- A)Trafik kuralları
B)Görgü kuralları
C)Sınıf kuralları



.....	Okul geçidi
.....	Yaya geçidi
.....	Dikkat

6-Yukarıdaki trafik tabelaları ve anlamları doğru eşleştirmesi aşağıdakilerden hangisidir?

- A)

1
2
3

 B)

3
1
2

 C)

2
3
1

7-Bayrağımızı boyamak isteyen Oğuz hangi renge ihtiyaç **duymaz**?

- A) Kırmızı B) Yeşil C) Beyaz



8-İstemediğimiz olaylarla karşı karşıya kaldığımız zaman acil Çağrı Merkezini arıyoruz. Aşağıdakilerden hangisi Acil Çağrı Merkezinin telefon numarasıdır?
A)115 B)112 C)211

9-Sağlıklı bir hayat için aşağıdakilerden hangisini **yapmamalıyız**?

- A-Bol bol yemek yemeliyiz
B-Spor yapmalıyız.
C-Kişisel bakımımızı düzenli yapmalıyız.



10- Atatürk'ün doğum yeri aşağıdakilerden hangisidir?
A) İstanbul B) Selanik
C) Ankara

M. Mustafa TAŞ
Başarılar