


Kutulara gelmesi gereken sayı ve matematik işaretlerini bulalım.
Bulmacayı istediğiniz kadar adım ilerletebilirsiniz.



Büyümek için nelere ihtiyacım olduğunu
hatırlıyor musunuz?
Aşağıya yazarak, daha güzel görünmem
için beni boyayın lütfen.

.....

.....

.....

.....

BENİM

TATIL

KİTAPIM



ADIM

SOYADIM

SINIFIM

NUMARAM

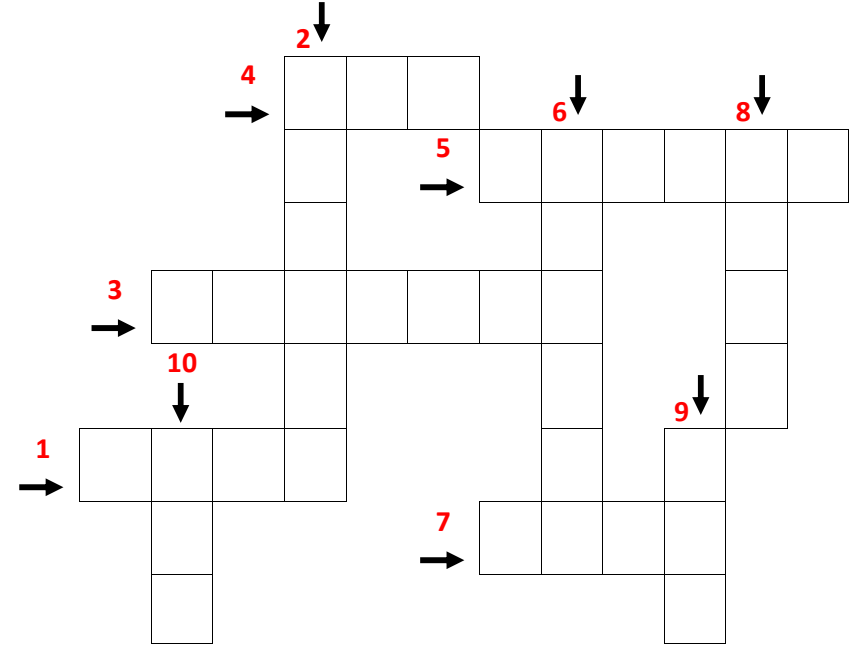
Arkadaşım Kafi



Benim adım Selin. Her sene yaz tatili geldiğinde köyümüze gideriz. Orada bahçeli bir evimiz var. Bahçemize küçük bir bostan yaparız. Annem ve babam bostanla, meyve ağaçları ile ilgilenirken ben de tavuklarımıza yem verir, yumurtaları toplarım. Çevremizdeki evlerde benim yaşımda bir çocuk olmadığı için, köyde biraz sıkılırdım. Bu yaz kendime bir arkadaş buldum. Aslında o, beni buldu. Bir gün bahçede boş boş otururken birden yanıma geldi ve bana seslendi. Ona biraz ekmek ve süt verdikten sonra da yanımdan ayrılmadı. Sütlü kahve rengine benzeyen tüyleri yüzünden ona Kafi adını koyduk. Yaz boyunca Kafi benim en iyi arkadaşım oldu. Şimdi tatil bitmek üzere ve ben Kafi'yi bırakıp gitmek zorunda olduğum için çok üzülüyorum. Annem, Kafi'ye şehir evimizde bakamayacağımızı söylüyor. Oradaki balkonlar Kafi için çok tehlikeli olabilirmiş. Hem de Kafi, sokaklarda özgürce dolaşmaya çok alışkınmış. Bu yüzden evimizde çok sıkılabilmiş. Ondan ayrılmak benim için çok zor olacak.

Funda Menekşe


BULMACA ZAMANI



1. Bir hava taşıtı
2. Hemşirelerin çalıştığı alan
3. Atatürk'ün doğum yeri
4. Yağmur suları sularının sebep olabileceği afet
5. Gemileri kullanan kişi
6. Ülkemizin başkenti
7. Güneş'in battığı yön
8. İneklerin barınağı
9. Karların koparak yüksekten düşmesi ile oluşan afet
10. Bir ağaç türü

KELİMEDE ANLAM

Zıt anlamlı
kelimeleri
aynı renge
boyayalım.



☞ Cümlelerdeki altı çizili kelimenin eş anlamlısını kullanarak cümleyi yeniden yazalım.

- ✓ Boş zamanlarımda resim yapmayı severim.
- ✓
- ✓ Kurduğum tümcede bazı hatalar yapmışım.
- ✓
- ✓ Doğum günü armağanlarını açarken çok heyecanlıydı.
- ✓
- ✓ Önümüzdeki sene daha sıkı çalışmaya söz verdi.
- ✓

Arkadaşım Kafi

METİN SORULARI

1. Selin, yaz tatillerini nerede geçiriyordu?
.....
.....
2. Selin'in anne ve babası köyde ne ile uğraşıyordu?
.....
.....
3. Köyde tavukları kim besliyordu?
.....
.....
4. Selin, köyde neden sıkılıyordu?
.....
.....
5. Kediye neden Kafi ismini koydular?
.....
.....
6. Selin neden üzgün olduğunu söylüyor?
.....
.....
7. Selin, kediye neden şehirdeki evlerine götüremiyor?
.....
.....
8. Siz Selin'in yerinde olsanız ne yapardınız?
.....
.....

SAATLERE AKREP VE YELKOVAN
ÇİZEREK VERİLEN SAATİ
GÖSTERELİM.



12:00	9:35	11:05	10:20
5:55	8:45	4:15	2:30
6:25	8:10	1:30	11:40

f.m

PROBLEMLER

Aşağıdaki problemleri çözelim.

1. Merve 12 yaşındadır. Ablası Merve'den 9 yaş büyüktür. Merve ve ablasının yaşları toplamı kaçtır?
2. Bir markette 7 koli vardır. Her kolide 5 kutu süt bulunuyorsa bu markette kaç kutu süt vardır?
3. Alper ile Funda 18 cevizi eşit olarak paylaştılar. Alper payına düşen cevizlerin 5 tanesini yedi. Alper'in kaç cevizi kalmıştır?
4. 16 lira paramın çeyreği ile defter aldım. Kaç lira param kalmıştır?
5. Bir metrelik kumaşın 45 santimetresi ile örtü dikince kaç cm kumaş kalır?

ÇETVELLER HAZIR MI?

Ölçümler yaparak kalemlerin kaç cm olduklarını yazalım.



f.m.

1 adım 25 cm ise,

2 adım= Cm

4 adım=cm

1 karış 21 cm ise 3 karış =.....cm

1 kulaç 90 cm ise,

2 kulaç=m.....cm,

3 kulaç =m.....cm'dir.

AYLAR- MEVSİMLER

Görsellerde verilen mevsimleri bulalım. Mevsimlerin aylarını yazalım.

MEVSİM

AYLAR



.....

.....

.....



.....

.....

.....



.....

.....

.....



.....

.....

.....

HİKAYEYİ TAMAMLAYALIM



Hüseyin beni parka oynamaya çağırdığında başımıza gelecekleri söyleseler inanmazdım. Biz her akşamüzeri bu parkta buluşur ve basketbol oynardık. O akşamüzeri her şey yine her zamanki gibi başlamıştı. Gülüşerek basketbol oynarken, bir grup çocuk parka geldi. Bizden basketbol sahasını boşaltmamızı istediler.

KENDİ TABLOMU ÇİZE BİLİRİM




Aşağıda ünlü ressam Picasso(Pikaso)'nun bir tablosu vardır. Tabloyu istediğimiz gibi renklendirelim ve benzer bir tablo da kendimiz çizelim.

PICASSO



GRAFİK OKUYORUM

Aşağıda verilen şekil grafiğine göre soruları cevaplayalım.

Çam	
Meşe	
Gürgen	
Söğüt	
Her şekil 4 ağacı göstermektedir.	

1. Bahçede kaç tane çam ağacı vardır?
.....
2. Bahçedeki gürgen ve meşe ağaçlarının toplamı kaçtır?
.....
3. Bahçedeki en az ağaç ne ağacıdır?
.....
4. Bu bahçede toplam kaç ağaç vardır?
.....
5. Bahçede kaç tane meşe vardır?
.....
6. Çam ile gürgen sayısı arasındaki fark kaçtır?
.....
7. Bahçede en fazla hangi ağaçtan vardır?
.....
8. Grafiğimizin başlığı ne olabilir?
.....

MESLEKLER

Aşağıdaki mesleklerin adlarını ve tablodaki alanlardan hangisinde çalıştıklarını örnekteki gibi yazalım.

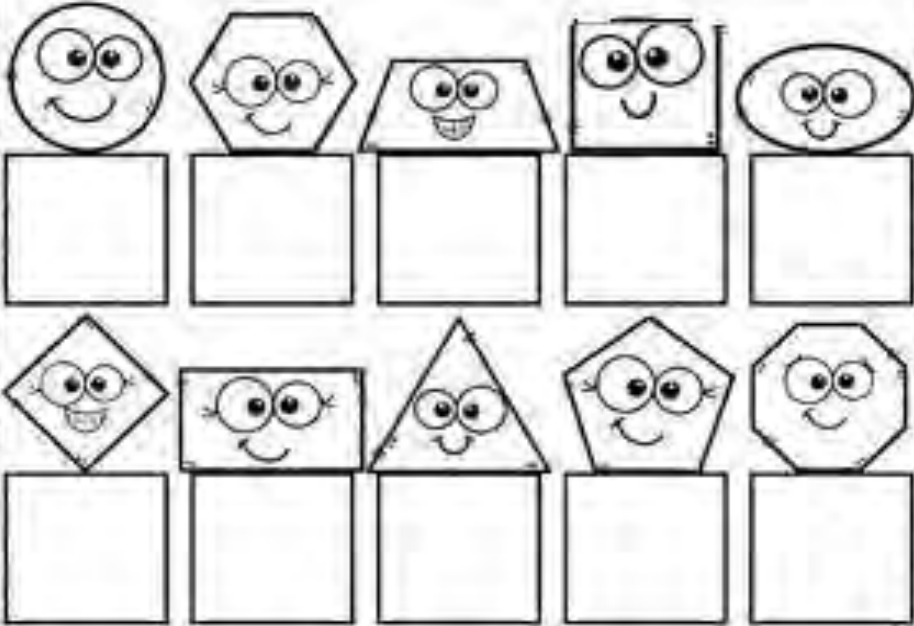




GEOMETRİK ŞEKİLLER

Çevrende verilen geometrik şekillere benzeyen hangi nesneler var? Bu nesneleri benzediği geometrik şeklin altına çizelim.

NEYE BENZİYORUZ?



Yukarıdaki şekillerden üç kenarı olan şekle ne denir?

Şekillerden hangilerinin kenarı yoktur?

Şekillerden 4 kenarı olanlar hangileridir?













NEŞNELERİ BUL



VERİLEN KELİMELERİ
TABLODA UYGUN YERLERİNE
YAZ


Termometre- yağmurlu- sisli - bulutlu - fırtınalı - gök
gürültülü- parçalı bulutlu- güneşli- karlı- buzlu- rüzgârlı-
hortum

H A V A D U R U M U

K İ M K İ M D İ R . B U L A L İ M


Verilen bilgileri okuyarak görselde kim kimdir , yazalım.



1. Cem, kendisine vurduğu için arkadaşına çok kızgındı. Saçları dimdik olmuştu.
2. Alperen spor sonrası yorgun ve uykulu hissediyordu.
3. Ali, duyduğu habere çok şaşırmıştı.
4. Ceren, annesi hastalandığı için üzgündü.
5. Arkadaşı, atkuyruğu yaptığı saçını çekince Ece'nin canı acımıştı.
6. Kadir kardeşi doğduğu için çok mutluydu.
7. İlyas yakın arkadaşını görünce gülümsemişti.
8. Melih eşyasını izinsiz aldıkları için öfkelenmişti.
9. Şükrü sokakta gördüğü yaralı kuş için endişeliydi.

KİTAPLAR VE BEN

1- Tatilde hangi kitapları okudum?



2- En beğendiğim kitapla ilgili bilgi veriyorum.

KİTABIN ADI:.....
KAHRAMANLAR
.....
OLAY NEREDE YAŞANDI?
.....
KİTABIN KONUSU
.....
.....
.....
.....

DÖRT İŞLEM

+	15	20	35	42	61
30					
18					
20					
37					
25					

-	80	95	73	84	99
73					
65					
42					
39					
10					

X	1	2	3	4	5
0					
6					
7					

$\frac{\circ}{\circ}$	20	12	18	16	8
4					
2					
1					

- Cüzdanımda 5 tane 10 lira ve 4 tane 5 lira vardı. Paramın 36 lirası ile pantolon aldım. Kaç liram kaldı?
- Annem 16 tane boya kalemini kardeşim ve bana eşit olarak paylaştırdı. Benim 41 tane boya kalemim daha vardı. Şimdi kaç tane boya kalemim olmuştur?