

ADI SOYADI:.....

TÜRKÇE



Defne, okulun ilk günü yeniden arkadaşlarına ve öğretmenine kavuşacağı için çok heyecanlıydı. Okula gelince hemen arkadaşlarıyla ve öğretmeniy-le hasret giderdi. Mustafa öğretmen, tekrardan öğrencilerini ve Defne'nin getirdiği çiçeği görünce çok mutlu oldu..

Defne, arkadaşlarıyla beraber sınıfa girince bazı değişikliklerin olduğunu farketti. Duru'nun annesi öğretmen, Arda'nın babası polis olduğundan başka illere tayinleri çıkınca sınıftan ayrılmışlardı. Yasmin de yaşı büyük olduğu için 3.sınıfa gitmişti. Arkadaşlarımızın sınıftan ayrılmaları hepimizi üzdü ama yeni arkadaşlarımız Işıl, Ömer ve Nisa'nın sınıfımıza gelmesi hepimizi mutlu etti..

1 -Aşağıdakilerden hangisi metinde geçen mesleklerden biri **değildir**?



2-Defne, okulun ilk günü hangi duyguyu yaşamış?

A)sevinç B)heyecan C)şaşkınlık

3-Defne öğretmenine ne getirmiş?

A)Kitap B)Hediye C)Çiçek

4-Aşağıdaki rakamlardan hangisinin adındaki **harf sayısı** farklıdır?

A) **4** B) **5** C) **6**

5-- Ayağı takılan kerem düştü.

Cümlesinde hangi sözcük **yanlış** yazılmıştır?

A)Ayağı B)takılan C)kerem



6-Benim adımda kaç tane ünlü harf vardır?

A)1 B)2 C)3

Saat Hekim Baca

7- Yukarıdaki kelimelerin sözlük sırasına (alfabe) göre sıralanışı aşağıdakilerden hangisidir?

A) Baca - Hekim - Saat  
B) Hekim - Saat - Baca  
C) Saat - Baca - Hekim

kal	be	ta
por	sa	va

8-Yandaki tabloda bulunan hecelerle aşağıdaki kelimelerden hangisini **yazamayız**?

A)sakal B)portakal C)salata

önemlidir grup dayanışma çalışmalarında

9-Yukarıdaki kelimelerle cümle yazmak isteyen Ayşe, aşağıdakilerden hangisini yazarsa anlamlı ve kurallı olur?

A)Grup çalışmalarında, dayanışma önemlidir.  
B)Önemlidir dayanışma, grup çalışmalarında.  
C)Dayanışma çalışmalarında önemlidir grup.




10-Bir kelimenin anlamını bulmak için kitabın hangi bölümünden yararlanırsınız?

A) Kaynakça B) Sözlük C) İçindekiler



11 -Doktor kelimesinin zihnimizde çağrıştırdığı kelime aşağıdakilerden hangisidir?

A)ilaç B)kitap C)besin



1 2-Görsellerdeki kişilerin fiziksel özellikleri dikkate alındığında, aşağıdaki sözcük çiftlerinden hangisi söylenebilir?

- A) uzun - kısa B) yaşlı - genç  
C) hızlı - yavaş

1 3-"PETROL"kelimesindeki harflerin alfabe göre sıralanışı aşağıdakilerden hangisidir?

- A) E-L-O-P-R-T B) E-T-R-P-O-L  
C) T-E-P-O-R-L

1 4-"Yaşlı teyze baston kullanıyordu." cümlesinde altı çizili olan kelimenin eş anlam-lısı hangi cümlede kullanılmıştır?

- A) Genç, fotoğraf çekiyordu.  
B) Temiz kıyafetlerini giydi.  
C) Alt katımızda ihtiyar amca oturuyordu.

1 5-" Kübra ile Mira mendil kapmaca oynadılar." cümlesinde kaç tane kelime vardır?

- A)6 B)5 C)4

## MATEMATİK



1 -Yukarıdaki elmaların sayısında kaç tane onluk ve birlik vardır?

- A) B) C)

onluk	birlik	onluk	birlik	onluk	birlik
3	0	2	7	3	4

36

56

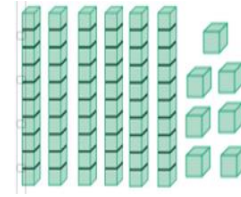
16

2-Yukarıdaki tabloya göre aşağıdakilerden hangisi **yanlıştır**?

- A)En büyük sayı 56'dır.  
B)Onlar basamağındaki rakamların basamak değerleri aynıdır.  
C)Tüm sayıların birler basamağı 6'dır.

3-Yirmiden başlayarak ileriye doğru ikişer sayma yaparken hangi sayıyı **söylemeyiz**?

- A) 24 B) 26 C) 25



4-Yanda onluk taban bloklarıyla gösterilen sayı kaçtır?


- A)67 B)85 C)74

5-Mete, annesi için 2 deste çiçek toplamak istiyor. Mete aşağıdaki çiçeklerden hangisini toplaması gerekir?

A)

B)

C)



6- İçinde 70 yolcusu olan belediye otobüsü, her durakta 10 yolcusunu indiriyor. Otobüs 4.duraktan ayrıldıktan sonra kaç yolcusu kalır?

- A)30 B)50 C)10

7- 3 birlik 6 onluktan oluşan sayı aşağıdakilerden hangisidir?

- A)63 B)36 C)93

8-Yukarıdaki sayı için aşağıdakilerden hangisi söylenemez?

- A) 7 tane onluk, 2 tane birlik vardır.  
B) Onlar basamağındaki rakam 7'dir.  
C) Sayının okunuşu "yetmiş dört".

Sayı	34	
Basamak Adları	Onlar basamağı	Birler basamağı
Basamak Değeri	A	4

9-Yandaki tabloda A yerine hangi sayı yazılmalıdır?


- A) 7 B) 30 C) 3

10- 2/H sınıfının mevcudu 3 desteden 4 fazladır. Buna göre 2/H sınıfının mevcudu kaçtır?

- A) 34  
B) 30  
C) 43

11-Ağaçtaki elmalara kaç elma daha eklersek bir düzine olur?

- A) 3 B) 2 C) 1



12-Yukarıdaki sayının okunuşu aşağıdakilerden hangisidir?

- A) Elli dört B) Atmışbeş C) Elli altı



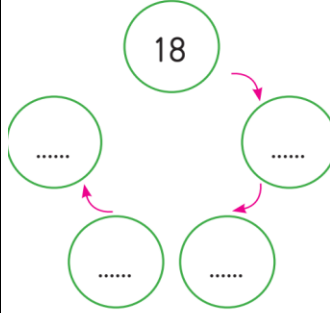
14-Arkadaşlar, benim vücudumdaki parmakların sayısı kaç deste eder?

- A) 1 B) 2 C) 3



14-İpe serilmiş olan çamaşırlar için aşağıdaki ifadelerden hangisi söylenebilir?

- A) Bir düzine çamaşır B) Bir deste çamaşır  
C) 15 tane çamaşır



15-Yandaki tabloda, verilen sayıdan başlayarak ileriye doğru üçer ritmik sayarken noktalı yerlere hangi sayılar yazılmalıdır?

- A) 21 -24-27-30  
B) 20-22-24-26  
C) 22-26-30-34

## HAYAT BİLGİSİ

1-Aşağıdaki ifadelerden hangisi doğrudur?

- A) Sınıfla ilgili kararları her zaman öğretmen almalıdır.  
B) Çoğunluğun aldığı kararları sadece evet diyenler uymalıdır.  
C) Farklı düşünen arkadaşımıza saygı göstermeliyiz.

Arkadaşlarının oylarıyla sınıf başkan yardımcılığına seçilen Nisa, çok mutlu oldu. Günler geçtikçe yorulan Nisa görevini bırakmak istediğini öğretmenine söyledi.

2-Nisa'nın kararını duyan arkadaşları ne yapmalı?

- A) Aldığı karara herkes saygı göstermeli.  
B) Nisa'yı destekleyenler küsebilir.  
C) Görevini bıraktığı için sevinmelidir.



Pazartesi	Salı	Çarşamba	Perşembe	Cuma
Hayat Bilgisi	Hayat Bilgisi	Hayat Bilgisi	Türkçe	Hayat Bilgisi
Matematik	Matematik	Matematik	Türkçe	Matematik
Matematik	Türkçe	Türkçe	İngilizce	Türkçe
Türkçe	Türkçe	Türkçe	İngilizce	Türkçe
Türkçe	Beden Eğitimi ve Oyun	Görsel San.	Müzik	Beden Eğitimi ve Oyun
Serbest Etk.	Beden Eğitimi ve Oyun	Serbest Etk.	Beden Eğitimi ve Oyun	Beden Eğitimi ve Oyun

3-Yukarıdaki haftalık ders programına göre perşembe günü aşağıdakilerden hangisini okula **getirmemelidir**?



Merhaba arkadaşlar. Benim adım Taha. Uzun boylu ve siyah saçlıyım. Futbol oynamayı çok seviyorum.

4-Buna göre Taha aşağıdakilerden hangisi olabilir?



5-Hangisi okulda kullandığımız doğal kaynaklardan biri **değildir**?

A)Petrol B)Su C)Elektrik

Kitap okumayı severek yapıyorum.

Saçlarım siyah, göz rengim kahverengidir.

Hayvanlarla iyi anlaşıyorum.



6-Yukarıdaki üç arkadaşın ifadelerine göre aşağıdakilerden hangisi söyleyebilir?

A)Bireysel farklılıklardan bahsediyorlar.  
B)Fiziksel özelliklerini anlatıyorlar.  
C)Duygularını ifade etmişler.

7-Aşağıdaki öğrencilerden hangisinin, sınıf kuralları belirlendikten sonraki ifadesi

**yanlıştır**?

A) Herkes kendi düşüncesine göre hareket etmelidir.

B) Kurallar sınıftaki işleri kolaylaştırır.

C) Belirlenen kurallara göre ortak hareket edilmelidir.

Arkadaşlarımla oyunlar oynamayı, bisiklet sürmeyi özellikle resim yapmayı çok seviyorum ama annemle misafirlğe gitmeyi, odama izinsiz girilmesini ve görüşlerimin alınmamasını hiç sevmiyorum. Çünkü bu benim .....özellğim.

8-Aşağıdakilerden hangisi noktalı yere gelmelidir?

A)karakter B)fiziksel C)yetenek



9-Yukarıdaki görsele göre okulun çevresinde aşağıdakilerden hangisi vardır?

A)Ali'nin evi B)hastane C)kütüphane



10-Aşağıdaki ifadelerden hangisi yandaki görsele göre **yanlıştır**?

A) Suyu tasarruflu kullanmaktadır.

B) Diş sağlığına önem vermektedir.

C)Temizliğe önem veriyor.

Başarılar...