

ADI SOYADI:

TÜRKÇE



Öğretmenimiz, Bursa'nın tarihi ve doğal güzellikleri ile ilgili araştırma ödevi vermişti. Zehra'nın aklına, ödevi uçan balonla gezererek yapmak fikri geldi. Fikrini öğretmenine söyleyince "Bakarız." demişti.

Bir gün öğretmenimiz "Size bir sürprizim var. Bur-

sa'yı uçan balonla gezeceğiz." dedi. Beraber uçan balona bindik. Sırasıyla Ulucami'yi, Irgandı Köprüsünü, Cumalıkızık köyünü gördük. Bulutlara kadar yükselince Uludağı da gördük. Sonra öğretmenimiz "Hadi çocuklar bu kadar yeterli, artık sınıfa dönelim." dedi.

Okulda yapılanları anneme anlatınca baygınlık geçirdi. Ödevim için Bursa'yı gökyüzünden görmek muhteşemdi.

Elif Zehra YILDIRIMHAN

(İlk üç soruyu metne göre cevaplandırınız.)

1-Öğretmenleri sınıftaki öğrencilere ne ödevi vermişti?

- A)Bursa'nın tarihi ve doğal yerlerini araştırma
- B)Çevremizdeki değerleri korumanın önemi
- C)Hafta sonu müze ziyaretinin yapılması

2-Aşağıdakilerden hangisi Zehra'nın uçan balonla gördüğü yerlerden biri **değildir**?

- A)Ulucami
- B)Malabadi Köprüsü
- C)Cumalıkızık köyü

3-Zehra'nın ödev yapma fikri aşağıdakilerden hangisidir?

- A) Kütüphaneye gidip yapmak.
- B) Bilgisayardan araştırıp bulmak.
- C)Uçan balonla gezip, görmek.

Alfabemizde tane harf vardır. Bunlardan tanesi ünlü, tanesi ise ünsüz harftir.

4-Tablodaki ifadenin doğru olabilmesi için noktalı yerlere, sırasıyla aşağıdaki sayılardan hangisi gelmelidir?

- A)21-29-8
- B)29-8-21
- C)8-21-29

5-Aşağıdaki cümlelerden hangisi üç kelimeyle yazılmıştır?

- A) Herkes kurallara uymalıdır.
- B) Miraç ve Ali iyi arkadaşlar.
- C) Ders başladı.

sıcak	●	●	derin
siğ	●	●	soğuk
ilk	●	●	son

6-Yukarıdaki sözcükler zıt anlamlıları ile eşleştirildiğinde nasıl bir görünüm oluşur?

- A)
- B)
- C)

yapraklarını	döker
sonbaharda	ağaçlar

7-Yukarıdaki kelimelerle cümle yazmak isteyen Ayşe, aşağıdakilerden hangisini yazarsa anlamlı ve kurallı olur?

- A)Ağaçlar yapraklarını sonbaharda döker.
- B)Sonbaharda yapraklarını döker ağaçlar.
- C)Yapraklarını döker sonbaharda ağaçlar.

8-"Kırmızı bayrağımız göklerde dalgalanıyordu." cümlesinde altı çizili olan kelimenin **eş anlamlısı** hangi cümlede kullanılmıştır?

- A) Annem, salça için al biber aldı.
- B) Yağızız birinci olmasına sevindik.
- C) Sarı kalemim kayboldu.

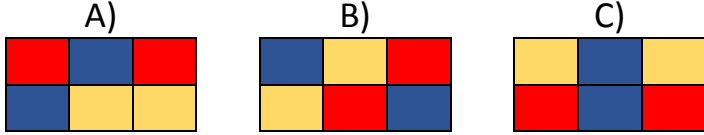
Ailemi ve okulumu çok seviyorum.

9-Yukarıdaki cümlede kaç tane hece vardır?

- A)8 B)10 C)14

vatan	siyah	yurt
kara	Doğa	tabiat

10-Yukarıdaki kelimelerden eş anlamlı olan kelimeler aynı renge boyanırsa tablo aşağıdakilerden hangisi olabilir?



11-Aşağıdaki kelimelerden hangisi satır sonunda doğru ayrılmıştır?


- A) tram- B) t- C) tra-
vay ramvay mvay

Canım Arkadaşım Elif (...)
Doğum günün kutlu olsun (...)

12-Tebrik kartındaki noktalı yerlere sırasıyla hangi noktalama işaretleri gelmelidir?

- A) 9 • B) • 9 C) • •

13-Aşağıdaki hayvan isimlerinden hangisinin adı ünsüz harfle başlamaktadır?



14-Aşağıdaki cümlelerin hangisinde yazım yanlışı yoktur?

- A) bahçedeki fıstıkları toplamaya başladık.
B) Öğrenme ve anlama önce iyi dinlemeyle başlar.
C) Annesi eylülü eve çağırdı.

15-"D İ N A Z O R" kelimesindeki harflerin alfabetik sıraya göre sıralanışı aşağıdakilerden hangisidir?

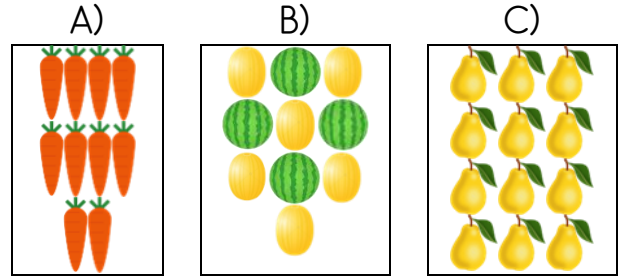
- A) A-D-İ-N-Z-O-R B) A-D-İ-N-O-R-Z
C) A-D-N-İ-O-Z-R

MATEMATİK



Aynı türden oluşan 10 varlığa deste diyoruz.

1-Eyüp'ün yaptığı tanıma göre aşağıdakilerden hangisi bir desteyi göstermektedir?



35

40

38

23

2-Babası Sümeyye'den evdeki ayakkabıların numaralarını küçükten büyüğe doğru sıralamasını rica ediyor. Buna göre ayakkabıların doğru sıralanışı aşağıdakilerden hangisidir?

- A)35-38-23-40 B)23-35-38-40
C)40-38-23-35



16 - 20 - 24 - - -

3-Poyraz, ileriye doğru dörder ritmik sayma yaparken aşağıdaki sayılardan hangisini söylememiştir?

- A)28 B)33 C)36



4-Aşağıdaki ifadelerden hangisi yukarıdaki görsele göre **söylenemez**?

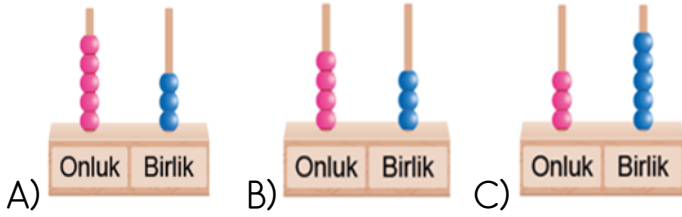
- A)Kalemler bir düzineden 2 eksiktir.
B)Bir onluk kadar kalem vardır.
C)Kalemler bir desteden 2 fazladır.

35.....68

5-Yukarıdaki sayıların arasına aşağıdaki kelimelerden hangisi yazılmalıdır?

- A)büyüktür B)küçüktür C)eşittir

6-Abaküsle gösterilen sayılardan hangisi 3 onluk 5 birlik sayısını göstermektedir?



7-Güneş, bayramda 80 TL topladı. Her hafta 5 TL'ni harcadığına göre beş hafta sonra kaç TL'si kaldı?

- A)55 B)40 C)65

15 19 23 27 31

8-Yukarıdaki örüntünün kuralı aşağıdakilerden hangisidir?

- A) İleriye üçer sayma
B) İleriye dörder sayma
C) 3 ileri 1 geri sayma

Sayı	8 3	
Basamak adları		
Basamak değeri	80	3

9-Yukarıdaki tabloda noktalı yerlere sırasıyla hangi basamak adları yazılmalıdır?

- A) birlik-onluk B)birler ve onlar basamağı
C)Onlar basamağı- birler basamağı

45 33 87 61

10-Yukarıdaki sayıların büyükten küçüğe doğru sıralanışı aşağıdakilerden hangisidir?

- A)87-61-45-33 B) 33-45-87-61
C)87-33-61-45

11-Aşağıda sayıları oluşturan rakamlardan, hangisinin basamak değeri 40 ile 7 'dir?

- A)37 B)47 C)74

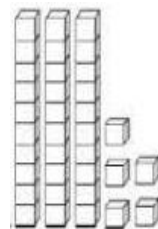
15 17 19 22 23 25

12-Yukarıdaki örüntüde kuralı bozan sayı hangisidir?

- A) 17 B) 19 C) 22

13-Öğretmenimiz sınıfa 5 desteden 5 eksik kalem getirdi. Öğretmenimiz sınıfa kaç kalem getirdi?

- A)45 B)40 C)55



14-Yanda onluk taban bloklarıyla gösterilen sayının okunuşu aşağıdakilerden hangisidir?

- A)Yirmi dört B)Otuz beş
C)Kırk dört



15- Görseldeki fil, bir deste balonu olursa uçabileceğine inanıyor. Fil kaç balon daha şişirse bir deste balonu olacak?

- A)2 B)3 C)4

HAYAT BİLGİSİ

İşbölümü	Dayanışma	kıskançlık
Adil olma	Kaba olma	saygı

1-Grup çalışmalarında yukarıdaki kavramlardan kaç tanesinin olması gerekiyor?

- A)2 B)4 C)6

2-Aşağıdaki ifadelerden hangisi **yanlıştır**?

- A)Grup çalışmasında yeteneklere göre ayrımcılık yapabiliriz.
B)Grup çalışmalarında dayanışma ve işbirliği önemlidir.
C) Grup çalışmalarında herkes görüşünü söyleyebilir.



3-Ayşe'nin resmine bakarak aşağıdakilerden hangisini anlayabiliriz?

- A)Karakterini
B)İlgisini
C)Fiziksel özelliğini

Duygu, düşünce ve isteklerimi
..... bir dille ifade ederim.



4-Yukarıdaki cümlede noktalı yere aşağıdaki kelimelerden hangisi gelmelidir?

- A)nazik B)kaba C)özür

5-Aşağıdaki ifadelerden hangisinde **kişisel farklılıklara** örnek verilmiştir?

- A) Kerem ve Oğuz top oynamayı severler.
B) Ali ile İsmail harika resim yaparlar.
C) Kübra müzik dinlemekten, Mira kitap okumaktan hoşlanır.

6-Sınıf kurallarıyla ilgili kararlar alınacağı zaman öncelikle kimlerin görüşü alınmalıdır?

- A) Öğrencilerin B) Öğretmenlerin
C) Anne ve babaların

7-Perşembe günü görsel sanatlar dersi olan Beytullah, çantasına aşağıdakilerden hangisini **koymamalıdır**?

- A)resim defteri B)boya kalemleri
C)abaküs



Ev ve okuldaki elektrik, su gibi kaynakların dikkat edilerek tüketilmesine diyoruz.

8-Yukarıdaki ifadeye en uygun kelime aşağıdakilerden hangisidir?

- A)sorumluluk B)tasarruf C)cimrilik

Suluğumu
neden kırdın?



.....

9-Yanlışıyla arkadaşının suluğunu düşüren Uğur, arkadaşına ne demelidir ?

- A) İsteyerek mi yaptım?
B) Ailen yenisini alsın.
C) Özür dilerim.

10-Aşağıdaki atasözlerinden hangisi, grup çalışmalarında dayanışma içerisinde olmamız gerektiğini anlatıyor?

- A) Birlikten kuvvet doğar.
B) Ne ekersen onu biçersin.
C) Ağaç yaşken eğilir.