

2022-2023 EĞİTİM-ÖĞRETİM YILI KAZIM KARABEKİR İLKOKULU
4/... SINIFI MÜZİK DERSİ 1.DÖNEM 1.YAZILI SORULARI

1-Aşağıda verilen müzik terimlerini uygun boşluklara doldurunuz. (100 puan)

dizek

bitiş çizgisi

zaman belirteci

vuruş

ölçü

dörtlük nota

ölçü çizgisi

sekizlik nota

nota

sol anahtarı

birbirine paralel ve eşit aralıklı beş çizgiden ve dört aralıktan oluşur. Dizek çizgileri ve aralıkları aşağıdan başlanarak numaralandırılır. Müzik seslerini gösteren notalar ve işaretler bu çizgilerin üzerine ve aralıklara yazılır.

5. Çizgi

4. Aralık

4. Çizgi

3. Aralık

3. Çizgi


2. Aralık

2. Çizgi

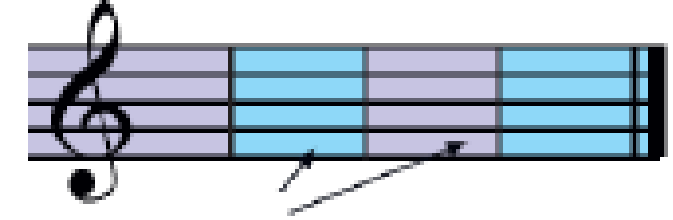
1. Aralık

1. Çizgi

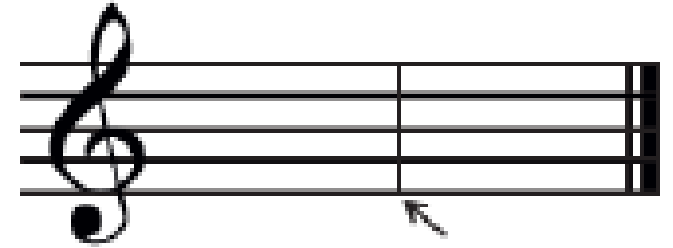
Notaları dizek üzerinde isimlendirmek için anahtarlar vardır. Bunlardan biri sol anahtarıdır. dizeğin en başına yazılır. Dizeğin ikinci çizgisine adını verir.



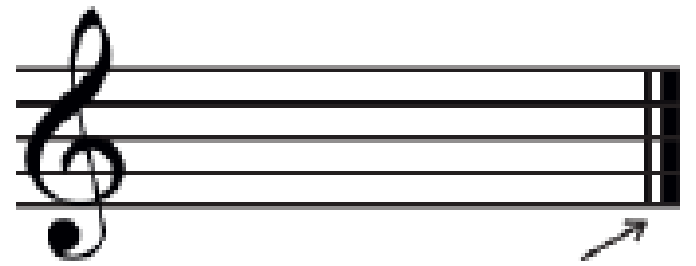
Dizek üzerinde, dik çizgilerle birbirinden ayrılan eşit süreli bölümlere denir.



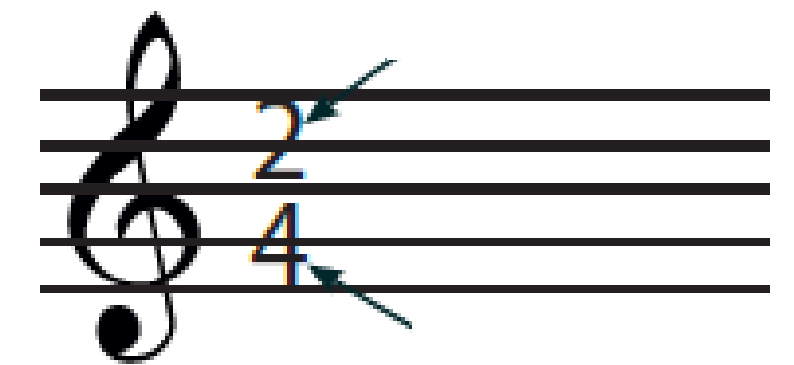
Ölçüleri, eşit sürelerle birbirinden ayıran dik çizgilere denir.



Şarkıların sonuna konan bir ince bir kalın çizgiye denir. Bitiş çizgisi şarkının bittiğini gösterir.





Sol anahtarının yanındaki rakamlara denir. Üstteki sayı bir ölçü içindeki vuruş sayısını, alttaki sayı ise hangi değerde nota olacağını gösterir. Böylelikle müzik eserlerinin notalarını daha kolay okur ve çalarız.



Müzikte sesleri gösteren işaretlere denir. Şekilleriyle seslerin sürelerini, dizek üzerindeki yerleriyle de seslerin adlarını belirtir.



Bir vuruşluk sürede söylenen ya da çalınan nota değerine denir.



Yarım vuruşluk sürede söylenen ya da çalınan nota değerine denir.



İki sekizlik nota
yan yana gelince
kuyrukları birleşir.

