

5/B SINIFI BİLİŞİM TEKNOLOJİLERİ VE YAZILIM DERSİ 1.DÖNEM 2. YAZILI DEĞERLENDİRME SINAVI

Okul Numarası:..... Adı:..... Soyadı:..... Tarih:30.12.2022 Puanı:.....

Çoktan Seçmeli Sorular (25x4=100 Puan)

1. En az iki bilgisayarın birbirlerine bağlanıp, bilgi alış-verişinde bulunmasına bilgisayar ağı (Network) denir.Bilgisayar ağları, kullanıcılara bilgisayarlar arası bilgi paylaşımı yapabilecekleri bir ortam sağlar. Bilgisayar ağları çeşitli amaçlar için kullanılır.



Aşağıda verilenlerden hangisi bilgisayar ağlarının kullanım amaçlarıdır?

- A) Ağ üzerindeki herhangi bir bilgisayar ağda paylaşılan donanım kaynaklarına ulaşabilir ve bunları kullanabiliriz.
 B) Ağ üzerindeki diğer bilgisayarlardaki veri ve bilgilere ulaşabiliriz.
 C) Ağdaki uygulama programlarını uzaktaki bilgisayarlara kurabiliriz.
 D) Hepsi

2.Uzaktan erişim yoluyla farklı ağlara bağlanmayı sağlayan internet teknolojisi aşağıda verilenlerden hangisidir?





- A) BAN-Vücut Alan Ağı(Body Area Network) B) WAN-Geniş Alan Ağı (Wide Area Network)
 C) VPN-Sanal Özel Ağ(Virtual Private Network) D) PAN-Kişisel Alan Ağı(Personal Area Network)

3. Beyza bilişim dersinde bilgisayar ağları ile ilgili eğitici videolar çekmekte ve bu videoları kendisine ait bir kanalda paylaşmak istemektedir.” **Süleyman aşağıdaki hangi platformu kullanarak bu isteğini gerçekleştirebilir?**

- A)  Instagram B)  Youtube C)  Whatsapp D)  Google+

4. Bilgisayar ağı bağlantısı kurmak için bazı donanımlara ihtiyaç vardır.

Bilgisayar ağı bağlantısı kurmak aşağıda verilen donanımlardan hngisine ihtiyaç yoktur?

- A)  Yazıcı B)  Ağ Kartı (Ethernet Kartı) C)  Modem D)  Kablo

5. Bir kişisel alan ağı kişisel dijital asistanların ve telefonların da dahil olduğu bilgisayar aygıtları arasında iletişim için kullanılan bilgisayar ağıdır.

Yukarıda açıklaması verilen bilgisayar ağının adı nedir?

- A) BAN-Vücut Alan Ağı(Body Area Network) B) WAN-Geniş Alan Ağı (Wide Area Network)
 C) VPN-Sanal Özel Ağ(Virtual Private Network) D) PAN-Kişisel Alan Ağı(Personal Area Network)

6. Millî Eğitim Bakanlığı tarafından oluşturulan eğitim platformunun adı nedir?

- A) e-Devlet B) Eğitim Bilişim Ağı (EBA) C) e-Nabız D) MHRS

7. Dünyadaki tüm bilgisayarları birbirine bağlayan ve dünyadaki bilgisayarların birbirleri ile iletişim kurabildikleri büyük elektronik bir iletişim ağının adı nedir?

- A) İtranet B) İnternet C) Extranet D) Entranet

https : // www . meb . gov . tr

I II III IV V

8. Yanda I, II, III, IV ve V numara ile gösterilen yerlere aşağıdakilerden hangisi yazılmalıdır?

	I	II	III	IV	V
A)	Alan Adı	İletişim Protokolü	Site Uzantısı	Dünya Çapında Ağ	Ülke Uzantısı
B)	İletişim Protokolü	Site Uzantısı	Alan Adı	Ülke Uzantısı	Dünya Çapında Ağ
C)	İletişim Protokolü	Dünya Çapında Ağ	Alan Adı	Site Uzantısı	Ülke Uzantısı
D)	Site Uzantısı	Ülke Uzantısı	İletişim Protokolü	Dünya Çapında Ağ	Alan Adı

9. Üniversitelerin resmi web sitelerinin site uzantısı aşağıdakilerden hangisidir?

- A) .com B) .net C) .org D) .edu

10. Türkçe web sayfalarının ülke uzantısı aşağıdakilerden hangisidir?

- A) .tr B) .tur C) .turk D) .trk

11. "www.adiyaman.bel.tr" sitesi ne tür bir sitedir?

- A) Ticaret Sitesi B) Üniversite Sitesi C) Belediye Sitesi D) Vakıf Sitesi

12. Öğrenci-Öğretmen Destek Sistemi: Öğrencilere bireyselleşmiş eğitim, öğretmenlere ise öğrencilerini daha yakından izleme imkânı sunan bir dijital eğitim platformudur.

Öğrenci-Öğretmen Destek Sisteminin giriş ekranında aşağıdakilerden hangisi giriş yapamaz?

- A) Öğretmenler B) Öğrenciler C) Mezunlar D) Veliler

13. İnternet üzerinden gönderilen dijital mektuba ne ad verilir?

- A) e-kağıt B) e-devlet C) e-mail D) e-name

14. Aşağıda verilen e-mail adreslerinden hangisi doğru olarak yazılmıştır?


- A) elmaşekeri@gmail.com B) elmasekeri@gmail C) elmasekeri@.com D) elmasekeri@gmail.com

15. İnternet sitesinin adres yapısında aşağıda verilen hangi noktalama işaretlerinden hangisini kullanmayız?

- A) : (İki Nokta Üst Üste) B) ; (Noktalı Virgöl) C) . (Nokta) D) // (Çift Sılaş)

16. Fırça, kalem, boya veya bilgisayar ile yapılan çizimlere resim ya da çizim denir.

Aşağıda verilen kiraz görsellerinden hangisi resimdir?



17. Hareketli resimlerin dosya uzantısı aşağıdakilerden hangisidir?

- A)  B)  C)  D) 

18. İletişimin 4 temel unsuru vardır.

Aşağıdaki şıklardan hangisinde iletişimin 4 temel unsuru doğru olarak verilmiştir?

- A) Gönderici-Alıcı-Oluk-Kanal B) Gönderici-Alıcı-İleti-Mesaj
C) Gönderici-Alıcı-Mesaj-Kanal D) Gönderici-Alıcı-Konuşma-Kanal

19. Kanal(Oluk) neye denir?

- A) Duygu düşünce ve isteğin aktarılmasında sözü söyleyen kişi veya topluluklara denir.
B) Vericinin gönderdiği iletiyi alan ve anlamlandıran kişi veya topluluktur.
C) Gönderici ile alıcı arasında aktarılmakta olan duygu, düşünce ya da istek.
D) Alıcı ile verici arasındaki iletiler sözlü veya yazılı araçtır.

20. Dosya yapısı 3 kısımdan oluşur.

Buna göre aşağıda verilenlerden hangisi dosya yapısında bulunmaz?

- A) Nokta B) Dosya Boyutu C) Dosya Adı D) Dosya Uzantısı

21. Aşağıda verilen karakterlerden hangisi dosya adını yazarken kullanamayız?

- A) Soru İşareti (?) B) Artı (+) C) Nokta (.) D) Yüzde (%)

22. 28 Haziran 1971 yılında Güney Afrika'nın Pretorya kentinde doğan, SpaceX uzay şirketi ve Tesla Motors elektrikli otomobil şirketleri ile çevrimiçi finans ödeme sistemi PayPal'ın sahibi kimdir?

- A) Steve JOBS B) Elon MUSK C) Bill GATES D) Mark ZUCKERBERG

23. İnternet Etiği: Gerçek hayatta insanlara gösterdiğiniz saygı ve nezaketin İnternet ortamında da gösterilmesidir.

Aşağıda verilen davranışlardan hangisi internet etiğine uygun olan davranıştır?

- A) İnterneti insanlara zarar vermek amacıyla kullanmak.
B) Proje ödevimizi hazırlarken tüm bilgiyi internet sitelerinden almak.
C) Arkadaşımızın çektiği fotoğrafı internette kendimizin gibi göstermek.
D) Arkadaşımızın yalnızca bizimle paylaştığı özel bilgilerini internette paylaşmamak.

24. Bilgisayarda web sayfalarının yakınlaşması ve uzaklaşması için klavyeden hangi tuşları birlikte kullanmalıyız?

- A) Ctrl tuşuyla birlikte artı (+) ve eksi (-) tuşlarını B) Boşluk tuşuyla birlikte artı(+) ve eksi (-) tuşlarını
C) Capslock tuşuyla birlikte artı (+) ve eksi (-) tuşlarını D) Enter tuşuyla birlikte artı(+) ve eksi (-) tuşlarını

25. Ekranda fare ile hareket eden simgeye ne ad verilir?

- A) İmleç B) Göstergeç C) Çubuk D) Sılaş