

ŞEHİT CEMAL MUTLU İLKOKULU 2.SINIFLAR GÜNLÜK ÖDEVİ
6 MART PAZARTESİ 2023
TÜRKÇE
BEYAZ SİNCAP

Dün yazlıktaki evin bahçesinde kendi kendime oturmuş karım Fatoş'un pişirdiği çayı yudumluyordum. Dikkatimi ağaçtaki yuvasından hızla inip tekrar ürkek bir şekilde ağaçtaki yuvasına doğru çıkmaya çalışan küçük beyaz bir sincap çekti. Ürkek olması onu daha bir şirin yapmıştı. Kızım Ayşegül ona doğru bir fındık attı. İşte bu fındıktan sonra beyaz sincap artık evimizin bir üyesi oldu. Adam, bahçede ne yapıyormuş?

Adam, sincabı nerede görmüş?

Aşağıdaki cümlelerde altı çizili kelimelerin zıt anlamlarını kullanarak yeni cümleler yazınız.

Bu araba çok hızlı gidiyor.

Bu binanın tavanı çok alçak.

Aşağıdaki cümleleri oluş sırasına göre numaralandırınız.


() Kahvaltımı yaptım.() Sabah erkenden uyandım.() Okula gittim.

() Elimi yüzümü yıkadım.

Aşağıdaki varlıkların isimlerinin verilmeyen hecelerini yazalım.

					
bi...ron	porta...	...rafa	tele...	mer...ven	...rinca

Aşağıdaki kelimeleri sözlükteki sıralarına göre sıralayarak noktalı yerlere yazalım.

kano	1.		yarın	1.
çelik	2.		bugün	2.
mavi	3.		dün	3.





Uygun noktalama işaretlerini kullanalım.

Babası masada resim yapmakta olan Ayşe'ye sordu ()

() Kızım ne resmi yapıyorsun () Babacığım çimen ve keçi resmi yaptım ()

MATEMATİK (TOPLAMADAN ÇARPMAYA)

Aşağıdaki toplama işlemlerini karşılığı olan çarpma işlemleri ile eşleştiriniz

A	$3+3+3+3$	2×6	<p>Verilen nesne sayılarını toplama ve çarpma işlemi yaparak bulunuz.</p> <div></div> <div><p>Toplama: + + + =</p><p>Çarpma: x =</p></div> <div></div> <div><p>Toplama: + =</p><p>Çarpma: x =</p></div>
B	$4+4+4+4+4$	5×9	
C	$8+8+8$	4×3	
D	$7+7+7+7$	3×8	
E	$6+6$	5×1	
F	$1+1+1+1+1$	5×4	
G	$2+2+2$	4×7	
H	$9+9+9+9+9$	3×2	

Aşağıda alt alta verilen çarpma işlemlerini yapınız.

$$\begin{array}{r} 4 \\ \times 4 \\ \hline \end{array}$$

$$\begin{array}{r} 10 \\ \times 3 \\ \hline \end{array}$$

$$\begin{array}{r} 10 \\ \times 1 \\ \hline \end{array}$$

$$\begin{array}{r} 1 \\ \times 1 \\ \hline \end{array}$$

$$\begin{array}{r} 4 \\ \times 5 \\ \hline \end{array}$$

$$\begin{array}{r} 7 \\ \times 5 \\ \hline \end{array}$$

$$\begin{array}{r} 5 \\ \times 1 \\ \hline \end{array}$$

$$\begin{array}{r} 5 \\ \times 2 \\ \hline \end{array}$$

$$\begin{array}{r} 9 \\ \times 5 \\ \hline \end{array}$$

$$\begin{array}{r} 9 \\ \times 4 \\ \hline \end{array}$$

Aşağıda yan yana verilen çarpma işlemlerini yapınız.

$8 \times 4 =$

$10 \times 4 =$

$3 \times 1 =$

$9 \times 4 =$

$9 \times 3 =$

$6 \times 2 =$

$9 \times 3 =$

$10 \times 3 =$

$1 \times 2 =$

HAYAT BİLGİSİ(Ulaşımında Güvenlik Kuralları)

□ Aşağıdaki cümlelerden doğru olanların başına 'D' yanlış olanların başına 'Y' yazınız.

- (.....) Trafik kuralları sadece taşıtlar için geçerlidir.(.....) Sadece uzun yolculuklarda emniyet kemeri takmalıyız.(.....) Araçla yolculuk yaparken ayakta durmamalıyız.
- (.....) Traktör, kamyon gibi üstü açık araçlarla seyahat etmek güvenlidir.
- (.....) Araçlarda şoförü meşgul etmemeliyiz.(.....) Toplu taşıma araçlarında hamile yaşlı ve gazilere yer vermeliyiz.(.....) Emniyet kemeri büyükler içindir.
- (.....) Çocuklar araçların ön koltuğuna oturmamalıdır.

