

2022-2023 ÖĞRETİM YILI ŞEHİT CEMAL MUTLU İLKOKULU 2.SINIFLAR HAFTALIK DENEME

Adı ve Soyadı:.....

Doğru:.....

Yanlış:.....

Puan:.....

HAYAT BİLGİSİ



1) Yukarıdaki araçlardan kaç tanesi
hava yolu ulaşım aracıdır?

- A) 1 B) 2 C) 3

- ▲ Ayakta yolculuk yapmamalıyız.
- Emniyet kemeri takmamalıyız.
- Şoförün uyarılarını dinlemeliyiz.
- ◆ Taşıtlara sıra ile binmeli ve taşıtlardan sıra ile inmeliyiz.

2)

Yukarıdaki ifadelerden hangisi veya hangileri doğrudur?

- A) Yalnız ■ B) ▲ ve ■
C) ▲, ● ve ◆

3) Yandaki görselde
yapılan davranış
hangisidir?



- A) Hamilelere yer vermek.
B) Özel gereksinimli kişilere yardımcı olmak.
C) Yaşlılara yardım etmek.

MATEMATİK



4)Yukarıdaki görsel hangi işlemi ifade etmektedir?

- A) $3 \times 2 = 6$ B) $2 \times 3 = 6$
C) $6 \times 1 = 6$

$$3 + 3 + 3 + 3 + 3 = ?$$

5)Yukarıdaki toplama işleminin sonucunu
kısa yoldan nasıl buluruz?

- A) $3 \times 5 = 15$ B) $5 \times 3 = 15$
C) $15 \times 1 = 15$

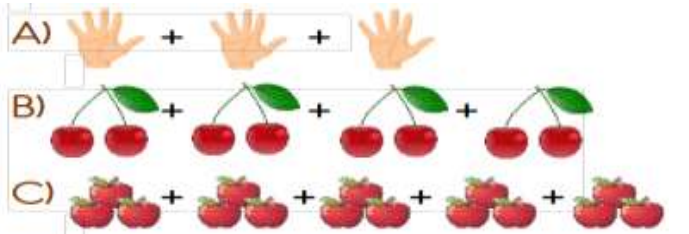
$$7 \times 4 = 28$$

6)Yukarıdaki çarpma işlemi hangi şekilde ifade edilemez?

- A) 7 tane 4, 28 eder.
B) 7 çarpı 4, eşittir 28.
C) 7 artı 4, eşittir 28.

$$3 \times 5 = ?$$

7)Aşağıdaki seçeneklerden hangisi
yukarıdaki çarpma işlemini ifade etmek
tedir?



8) Neredeyse 40 sayfa kitap okudum,diyen Medine,okuduğu sayfa sayısını en yakın onluğa yuvarlayarak söylemiştir.Medine'nin okuduğu sayfa sayısı hangisi olamaz?

- a) 45 b) 35 c) 39

9)Emre 7 yaşındadır. Ecrin ise Emre'den 5 yaş büyüktür. 10 yıl sonra Ecrin kaç yaşında olur?

- a) 12 b) 22 c) 17

10)  Yukarıdaki sayı hangisidir?

a) 16 b) 60 c) 61

TÜRKÇE

Turan'ın içi içine sığmıyordu. Çünkü o gün pikniğe gideceklerdi. Annesinin piknik için yaptığı böreğin ve kekin kokusuna uyandı.

11)Turan hangi yiyeceklerin kokusuna uyandı?

- a) Börek ve kurabiye b) Börek ve kek
c) Kek ve kurabiye

12)"Bu akşam misafir gelecek."
Cümlesindeki altı çizili kelimenin eş anlamlısı nedir?

- a) konak b) konuk c) konut

13)  

Yukarıdaki çocuklar şehirleri sözlük sırasına göre,sıralanırsa 1.sırada hangi çocuk olmalıdır?

A)  Elazığ B)  Erzurum C)  Edirne

14) Aşağıdaki kelimelerden hangisi hecelerine yanlış ayrılmıştır?

- a) ki-tap b) g-rup c) gü-neş

az – çok gece – gündüz büyük – ?

15)Yukarıdaki eşleştirmelere göre ? ile gösterilen yere hangi kelime yazılmalıdır?

- A)İri b) küçük c) uzun

Yollar ip gibi görünüyordu. Bahçelerde laleler, güller ve papatyalar gördük. Koyunlar sanki bize gülümsüyordu.

16)Yukarıdaki metinde kaç tane çoğul ad vardır?

- a)6 b) 7 c) 8


17) Karşıdan karşıya geçerken önce sola () sonra sağa () sonra tekrar sola bakıp geçmeliyiz () Bu cümlede boş yerlere sırasıyla hangi noktalama işaretleri getirilmelidir?

- a) , ! . b) , , . c) , , !


18)Arda, bahçede yavaş yavaş yürüyordu.Cümlesinde hangi sorunun cevabını bulamayız?

- A)kim B)niçin C)nasıl

19) Resmi anlatan seçeneği işaretleyin.

 a) gorilla
b) zebra
c) doctor

20) Resmi anlatan seçeneği işaretleyin.

 a) That is a balloon.
b) This is a lemon.
c) That is a train.

Her soru 5 puandır

