


ADI SOYADI:

TÜRKÇE



Şehrin ve okulun yoğunluğundan bunalan İsmail, tatilin başlamasıyla hemen köyüne gitti. Çok sevdiği babaannesi, torunu İsmail'e köy kahvaltısı hazırlamıştı. Sofrada sıcak sac ekmeği, bahçeden yeni koparılmış salatalık ve domates ile peynir vardı. Kahvaltım ve babaannem muhteşemdi....!

Kahvaltıdan sonra İsmail köydeki arkadaşı Enes'le buluştu. Beraber gezerken, çalılar arasında bir sesin geldiğini fark ettiler. Dikkatli baktıklarında bunun gri renkli bir serçe yavrusu olduğunu anladılar. Yavruyu ellerine aldıklarında anne kuş delice ötmeye başladı. Enes "Tamam tamam, yavrunu sana vereceğim." deyip ağaca tırmandı. Yavruyu kardeşlerinin yanına bıraktığında kuş ailesinin mutluluk cıvıltıları tekrardan duyulmaya başladı.




Özlemişim buraları....

(İlk üç soruyu metne göre cevaplandırınız.)

1- İsmail neden köye gitti?

- A) Şehrin ve okulun yoğunluğundan bunaldığı için gitti.
B) Köydeki babaannesi çağırdığı için gitti.
C) Tatilini Enes'le birlikte geçirmek için gitti.

2-Çalı arasında buldukları yavru kuş aşağıdakilerden hangisi olabilir?

- A)  B)  C) 

3- İsmail kahvaltıda aşağıdakilerden hangisini **yememiştir**?

- A)salatalık B)peynir C)bal

Sınıfımıza iki yeni arkadaş geldi.

4-Aşağıdaki sorulardan hangisinin cevabı yukarıdaki cümlede vardır?

- A) ne zaman B) ne için C) nereye

5-Hangi cümlede zıt anlamlı kelimeler **kullanılmamıştır**?

- A) Zehra'nın gelip gelmediğini sordum.
B) Annelerimiz sabah akşam hizmet ederler.
C) Kerem soru sordu, Oğuz cevap verdi.

6-Aşağıdaki kelimelerden hangisi alfabetik sıralama yaparken **yanlışlık** yapılmıştır?

	1.	2.	3.	4.
A)	şeker	şaka	şurup	şükür
B)	Berat	besin	beşik	beyaz
C)	Ömer	ömür	ördek	örtü

7-Aşağıdaki kelime çiftlerinden hangisi anlam ilişkisi bakımından **farklıdır**?

- A) sert-yumuşak B) temiz-kirli
C) güvenlik-emniyet

Hayvan →

8-Yukarıdaki tabloda noktalı yere özel isimler yazılacak. Aşağıdakilerden hangisi **yazılamaz**?

- A) Pamuk B) Köpek C) Maviş

HİKAYENİN UNSURLARI	
Yer	Zaman
.....	Olay(konu)

9-Sema tabloya hikayenin unsurlarını sırasıyla yazarken birini unutuyor. Aşağıdakilerden hangisi hikayenin unutulmuş unsurlarından biridir?

- A) kahraman B) yazar C) araç

Bir işin yapıldığını, bittiğini, olduğunu ya da yapılacağını bildiren cümlelere olumlu cümle denir.

10-Yukarıdaki ifadeye göre aşağıdaki cümlelerden hangisi olumlu bir cümledir?

- A) Mete okula gelmedi.
B) Mete okula geldi.
C) Mete okula geldi mi?

Kelime	hecelenişi	D	Y
traktör	trak-tör	D	S
hemşire	he-m-şi-re	A	O
enerji	en-er-ji	N	Ğ
ıspanak	ıs-pa-nak	R	K
spor	s-por	İ	U

11-Tabloda, kelimelerin hecelenişi gösterilmiştir. Hecelerin doğru veya yanlış göre harfler çember içine alınırsa hangi kelime ortaya çıkar?

A) DOĞRU B) DOĞAL C) SAKİN

12-Eylül, tabloda doğru yazılan sözcüklere paraf atıyor. Doğru yapılan tablo aşağıdakilerden hangisidir?

meyva	kıral
horoz	spor
penpe	herkes
toprak	çenber

A)

✓	✓
	✓
✓	

B)

✓	
	✓
✓	
✓	

C)

	✓
✓	
✓	✓

13-Aşağıdaki cümlelerin hangisinde yazım yanlış yapılmıştır?

- A) Elif, ödevlerini yaptın mı?
B) Zehra ne zaman geldi?
C) Okul gezisine kimler gelecek?



14-Arkadaşlar, benim adım da kaç tane ünlü ve ünsüz harf olduğunu söyler misiniz?

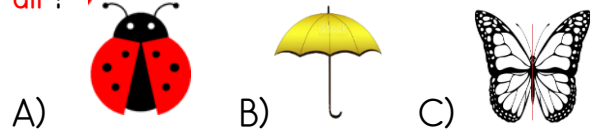
A)	ünlü	ünsüz	B)	ünlü	ünsüz	C)	ünlü	ünsüz
	4	6		5	5		3	7

15-Hangi cümlede özel isim vardır?

- A) Öğretmenim bizi bedene çıkardı.
B) Bir ay sonra Ramazan Bayramı olacak.
C) Uçak en hızlı ulaşım aracıdır.

MATEMATİK

1-Aşağıdaki resimlerden hangisi simetrik **değil**-dir?



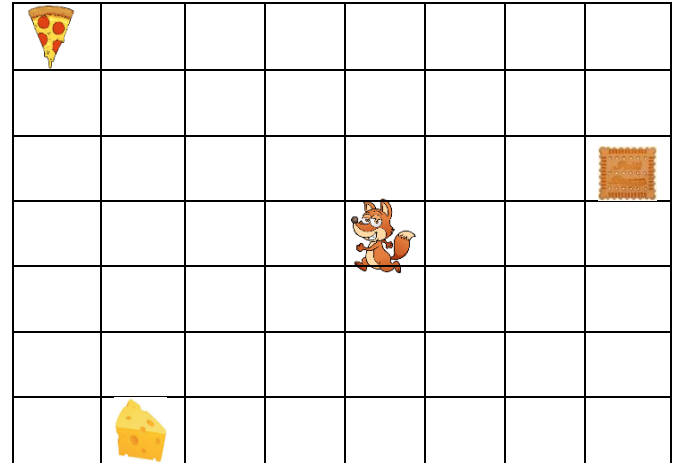
$$4 \times 5$$

2-Yukarıdaki çarpma işleminin toplama işlemi olarak ifadesi aşağıdakilerden hangisidir?

- A) $4+4+4+4+4$ B) $5+5+5+5$
C) $4+5+4+5+4$

$\diamond - 27 = 38$ 3-Yandaki çıkarma işleminde, verilen sayılara $\diamond - 35 = \square$ göre \square kaçtır?

- A)15
B)30
C)21



4-Aşağıdaki yönergeler göre tilki hangi yiyeceğe **ulaşamıyor**?

- A) Üç kare aşağı, üç kare sola → peynir
B) 1 sağa, 3 yukarı, 5 sola → pizza
C) 2 aşağıya, 2 sağa, 4 yukarı → bisküvit

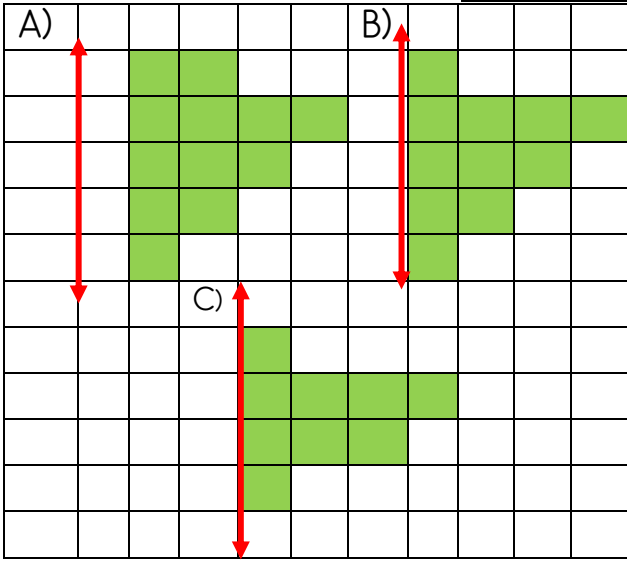
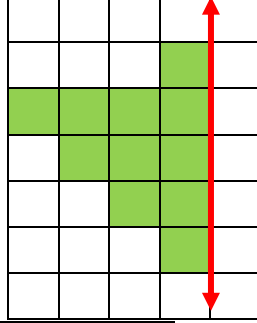
5-Aşağıdaki sayılardan hangisi **küçükten büyüğe** doğru sıralanmıştır?

- A) 27-42-56-65-72 B) 84-62-35-33-21
C) 52-45-30-18-6



6-Ben 8 yaşımdayım. Annemin yaşı benim yaşımdan 3 katından, 12 fazladır. Annem ile benim yaşlarımızın toplamı kaçtır?
A)44
B)42
C)34

7-Yandaki görselin, simetrik doğrusuna göre simetrisi aşağıdakilerden hangisidir?



8-Kübra, tanesi 5 lira olan kalemlerden 6 tane aldı. Satıcıya 50 lira verdiğine göre kaç lira para üstü almalıdır?

- A)20
B)25
C)33

toplanan	eksilen	çarpan
+	-	×
toplanan	çıkan	çarpan
.....1.....2.....3.....

9-Nisa, yukarıdaki işlemlere ait sayıların terim adlarını yazıyor. Numaralı yerlere sırasıyla hangi terim adları yazılmalıdır?

	1	2	3
A)	fark	çarpım	toplam
B)	toplam	fark	çarpım
C)	çarpım	toplam	fark



10-Yukarıdaki şekil örüntüsünde noktalı yerlere sırasıyla hangi şekiller gelmelidir?



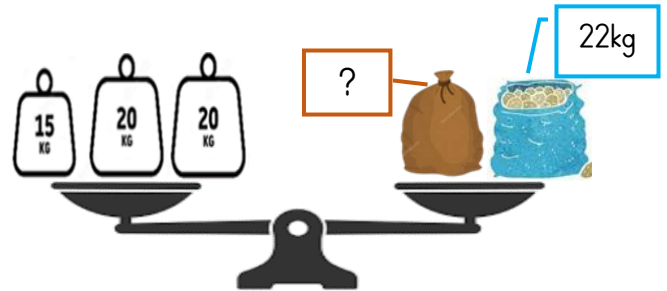
11-Ali kütüphaneden 58 sayfalık bir hikaye kitabı aldı. Bir hafta boyunca her gün 5 sayfa okudu. Ali, bir hafta sonra okuyacağı kaç sayfası kalmıştır?

- A)23
B)38
C)44



12-Mira, annesiyle birlikte sınıf arkadaşları için 4'ün 10 katı kadar kek yapıyor. Keklerin 36 tanesini dağıttıktan sonra kaç tane kek kalıyor?

- A)10
B) 4
C)16



13-Poyraz lokantaya bir torba soğan ve patates alıyor. Eşit kollu terazide soğanın ağırlığı 22 kg olduğuna göre patates kaç kg'dır?

- A)33kg
B)35
C)28

14-Aşağıdaki işlemlerden hangisinin sonucu farklıdır?

A) 5 2 - 1 7	B) 5 1 - 2 3	C) 7 8 - 4 3
-----------------	-----------------	-----------------

15-Tablodaki işleme göre

A+B 'nin sonucu aşağıdakilerden hangisidir?

- A)30
B)20
C)10

-	20	40	50
70	50	A	20
50	30	10	B
80	60	40	30

Her besinden yeterince tüketmeye
..... beslenme diyoruz.

1-Yukarıdaki ifadenin doğru tamamlanabilmesi için aşağıdaki kelimelerden hangisi gelmelidir?
A) aşırı B) dengeli C) doğal

2-Aşağıdakilerden hangisi **yanlıştır**?

- A) Yolculuk sırasında merak ettiğim soruları sürücüye sürekli sormalıyım..
B) Yolculuk sırasında pencereden elimizi, kolumuzu sarkıtmamalıyız.
C) Araç durmadan yerimizden kalkmamalıyız.



3-Yukarıda görseller hangi alanda çalışan meslekleri göstermektedir?
A) eğitim B) güvenlik C) sağlık

4-Aşağıdakilerden hangisi okul kurallarından biridir?

- A) Erken uyuyup, erken uyanmak.
B) Okula zamanında gelmek.
C) Ailemden habersiz bir yere gitmem.

- Şoför kullanır.
- Toplu taşıma aracıdır.
- Karayolunda hareket eder.

5-Yukarıda özellikleri yazılan kara taşıtı aşağıdakilerden hangisidir?



6-Ulaşım araçlarıyla yolculuk ederken, güvenlik açısından aşağıdakilerden hangisini **yapmamalıyız**?

- A) Araçta kendi aramızda yüksek sesle konuşabiliriz.
B) Araca bindikten sonra emniyet kemerini takmalıyız.
C) 11 yaşından büyükler aracın ön koltuğunda oturabilir.

Zahide, çevresindeki bazı insanlara "İyi günler, ellerine sağlık, teşekkür ederim, affedersiniz" gibi ifadeler kullanarak 'na uygun hareket etmektedir.

7-Yukarıdaki cümlelerin doğru olabilmesi için aşağıdakilerden hangisi gelmelidir?
A) görgü kuralları B) nezaket kuralları
C) okul kurallarına

8-Emirhan, haftalık planında yapmak istediklerini söylediğine göre aşağıdakilerden hangisini her gün **yapamaz**?



A) Okula gitmek.

B) Oyun oynamak.

C) Dişlerimi fırçalamak.

9-Ailesine yardımcı olmayı seven Sümeyye, aşağıdaki yardımlardan hangisini tek başına yaparken tehlike yaşayabilir?



A)



B)



C)

1-						
2-						
3-						
4-						

- 1-Hava taşıtıdır.
2-Yük taşımada kullanılan kara taşıdır.
3-Demiryolunda hareket eder.
4-Su yüzeyinde hareket eden büyük taşıt.

10-Yukarıdaki soruların cevabı bulmacaya yazdığımızda, renkli yerde oluşan şifre aşağıdakilerden hangisidir?

- A) YAYA B) ÇARE C) KASK