

ADI SOYADI											
A	A	A	A	A	A	A	A	A	A	A	A
B	B	B	B	B	B	B	B	B	B	B	B
C	C	C	C	C	C	C	C	C	C	C	C
D	D	D	D	D	D	D	D	D	D	D	D
E	E	E	E	E	E	E	E	E	E	E	E
F	F	F	F	F	F	F	F	F	F	F	F
G	G	G	G	G	G	G	G	G	G	G	G
H	H	H	H	H	H	H	H	H	H	H	H
I	I	I	I	I	I	I	I	I	I	I	I
J	J	J	J	J	J	J	J	J	J	J	J
K	K	K	K	K	K	K	K	K	K	K	K
L	L	L	L	L	L	L	L	L	L	L	L
M	M	M	M	M	M	M	M	M	M	M	M
N	N	N	N	N	N	N	N	N	N	N	N
O	O	O	O	O	O	O	O	O	O	O	O
Ö	Ö	Ö	Ö	Ö	Ö	Ö	Ö	Ö	Ö	Ö	Ö
P	P	P	P	P	P	P	P	P	P	P	P
R	R	R	R	R	R	R	R	R	R	R	R
S	S	S	S	S	S	S	S	S	S	S	S
T	T	T	T	T	T	T	T	T	T	T	T
U	U	U	U	U	U	U	U	U	U	U	U
Ü	Ü	Ü	Ü	Ü	Ü	Ü	Ü	Ü	Ü	Ü	Ü
V	V	V	V	V	V	V	V	V	V	V	V
Y	Y	Y	Y	Y	Y	Y	Y	Y	Y	Y	Y
Z	Z	Z	Z	Z	Z	Z	Z	Z	Z	Z	Z

sınıf	şube
1	A
2	B
3	C
4	D
	E
	F

NO				
0	0	0	0	0
1	1	1	1	1
2	2	2	2	2
3	3	3	3	3
4	4	4	4	4
5	5	5	5	5
6	6	6	6	6
7	7	7	7	7
8	8	8	8	8
9	9	9	9	9

CEVAP ANAHTARI
1. A B C
2. A B C
3. A B C
4. A B C
5. A B C
6. A B C
7. A B C
8. A B C
9. A B C
10. A B C
11. A B C
12. A B C
13. A B C
14. A B C
15. A B C

16. A B C
17. A B C
18. A B C
19. A B C
20. A B C

**Soru**

**19**

**Doğru**

**Yanlış**

### TUTUMLU ÇOCUK

Damla damla akan sudan,  
Koca göller dolup taşar.  
Tutumsuzlar kalır yolda,  
Tutumlular dağlar aşar.

İnsanlar kara günde,  
Kimseye el açmamalı.  
Çalışmalı, kazanmalı,  
Hiçbir işten kaçmamalı.

Biz tutumlu çocuklarız,  
Para dolu kumbaramız.

**SORU 1** Tutumlu olanlar neleri aşmış?

- (A) yolları (B) denizleri (C) dağları

**SORU 2** İnsanlar neyden kaçmamalıymış?

- (A) işten (B) güneşten (C) sudan

**SORU 3** Damla damla akan sudan neler doluyormuş?

- (A) kovalar (B) denizleri (C) göller

**SORU 4** Kimlerin kumbarası para ile doluyormuş?

- (A) çalışmayanları (B) çok harcayanların (C) tutumlu çocukların

**SORU 5** Aşağıdakilerden hangisi iş oluş hareket bildiren kelimedir ( fiil / eylem ) ?

- (A) koridorlar (B) denizler (C) koş

**SORU 6** Okullarda ziller çalınca öğrenciler ve öğretmenler sınıfa girdi. Yandaki cümlede kaç çoğul kelime vardır?

- (A) 4 (B) 3 (C) 5

**SORU 7** Parasını gerektiği gibi harcayan. Kalan parasının biriktiren kişilere ne denir?


- (A) savurgan (B) zengin (C) tutumlu

**SORU 8** Aşağıdaki cümlelerin hangisinde mi soru ekiyle ilgili bir yanlış yapılmıştır?

- (A) Cama topu senmi attın? (B) Derste sınıfa sende mi girdin? (C) Kalem yine ona mı verdin?

**SORU 9** Zor durumda kaldığımızda yardım isteyebileceğimiz hangi kurumun telefon numarası yanlış verilmiştir?

(A)



(B)



(C)



**SORU 10** Yandaki doğal afetlerde kimden öncelikle yardım istemeliyiz?

(A) POLİS:1 55

(B) AİLE VE SOSYAL HİZMETLER:1 83

(C) AFAD :1 22

**SORU 11** Aşağıdakilerden hangisi deprem sırasında yapılan yanlış bir davranıştır?


(A) Balkondan atlamak

(B) Çök ,tutun ve kapan yapmak.

(C) Deprem çantasını yanımıza almak.

**SORU 12** Aşağıdakilerden verilen ulaşım araçları ve türleri verilmiştir. Hangisi yanlıştır?

(A)



(B)



(C)



**SORU 13**  $3 + 3 + 3 + 3 + 3 + 3 + 3 =$  Yanda toplama şeklinde verilen işlemin çarpa olarak yazılışı hangisidir?

(A)  $3 \times 7 = 21$

(B)  $7 \times 3 = 21$

(C)  $6 \times 3 = 21$

**SORU 14**  $9 \times 2 = 18$  Yanda çarpma olarak verilen işlemin toplama olarak yazılışı hangisidir?

(A)  $2 + 9 = 11$

(B)  $9 + 9 = 18$

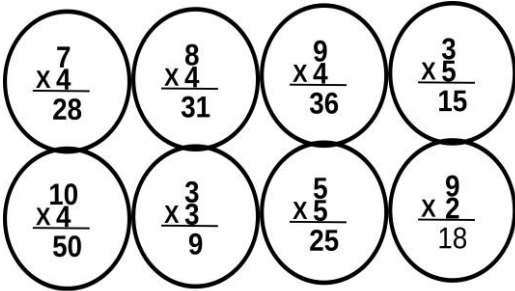
(C)  $2 + 2 + 2 + 2 + 2 + 2 + 2 + 2 + 2 = 18$

**SORU 15** Çarpma ile ilgili aşağıdaki işlemlerden hangisi yanlıştır?

(A)  $8 \times 1 = 0$

(B)  $7 \times 0 = 0$

(C)  $5 \times 6 = 6 \times 5$



**SORU 16** Yanda verilen çarpma işlemlerinden kaç tanesi doğrudur?

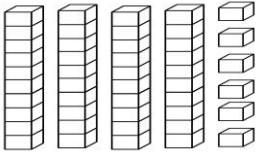
(A) 7 tanesi doğru

(B) 8 tanesi doğru

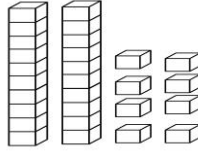
(C) 6 tanesi doğru

**SORU 17** Bir koşu yarışına katılan 18 kadın ve 19 erkek sporcudan 9 tanesi yarışın bırakmıştır. Yarışan devam eden sporcuların sayısı hangi seçenekte doğru verilmiştir?

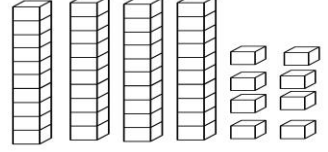
(A)



(B)



(C)



**SORU 18** 7 sayısının 5 katı 8 fazlası kaçtır?

(A) 43

(B) 50

(C) 35

**SORU 19** Poyraz, 4 düzine yumurta alıyor. Aldığı yumurtaların 9 tanesinin kırarsa kaç yumurta kalır?

(A) 32

(B) 40

(C) 39