

TÜRKÇE TESTİ

Dayımın evinde, her zamanki gibi sıcak bir ilgiyle karşılandık. Yorgunluğumuz çıksın diye, birer bardak soğuk ayran ikram ettiler. Yücel, kuzu otlat maya gitmişti. Akşam dönüşünde sevincini bir görecektiniz! Beni omzuna bindirip avlunun ortasında firfir döndürdü.

Akşam olunca çardağın altına kocaman bir sofra kurdular. Yengemin hazırladığı nefis yemekleri ne şöyle yedik. Gökyüzü pırıl pırıldı. Etraftan gece kuşların ötüşleri duyuluyordu. Şehrin gürültüsün den uzağız. Ne kadar mutluyum, bilemezsiniz.

SORU 1 Dayısının evinde nasıl karşılamışlar?

- (A) Geldiğine pek sevinmemişler.
(B) Her zamanki gibi davranmamışlar.
(C) Sıcak bir ilgiyle karşılamışlar.

SORU 2 Yorgunluklarını gidermek için ne ikram edilmiş?

- (A) çay (B) ayran (C) gazoz

SORU 3 Yücel nereden dönmüş?

- (A) kuzu otlatmaktan (B) tarlayı sulamaktan
(C) bahçeden

SORU 4 Aşağıdaki kelimelerden hangisi sözlükte daha önce gelir?

- (A) maya (B) minik (C) masa

SORU 5 Kelime ve cümlelerde hece sayısı sesli harf sayısına eşittir.

Atatürk her zaman çocukları çok severdi. Cümlesi kaç hecelidir?

- (A) 14 hece (B) 13 hece (C) 15 hece

SORU 6 Aşağıdaki cümlelerin hangisinde zıt anlamlı kelimeler bir arada kullanılmamıştır?

- (A) Doktorlar ve hekimler deprem bölgesine gittiler.
(B) Siyah beyaz resimlerle panoyu süslediler.
(C) Taze bayat bütün simitleri aldılar.

SORU 7 Asla sabahları süt içmeden evden çıkmam diyen bir öğrenci ne demek istemiştir?

- (A) Bazı sabahlar süt içerim.
(B) Sabahları hiç süt içmem.
(C) Mutlaka her sabah süt içerim.

SORU 8 İş oluş ve hareket bildiren kelimelere fiil (eylem) denir. Kurallı cümlelerde fiil sonda olur. Devrik cümlelerde ise fiil (eylem) başta yada ortada olur.

Aşağıdakilerden hangisi farklıdır.

- (A) Sağlık için spor yapmalıyız.
(B) Ben yaparım her sabah kahvaltı.
(C) Yaşlılara yardım etmeliyiz.

SORU 9 Bir cümlede iş yapılmışsa olumlu cümle, yapılmamışsa olumsuz cümle denir. Aşağıdakilerden hangisi farklıdır.

- (A) Miray yazı yazmıyor. (B) Rana dışarı çıktı.
(C) Poyraz konuşanları yazdı.

SORU 10 Elif kalemini () kitabını () defterini çantasına

koydu mu () Yandaki cümlede parantez içine hangi noktalama işaretleri gelmelidir?

- (A) , , ! (B) , , • (C) , , ?

SORU 11 Aşağıdakilerden hangisi iş oluş veya hareket bildiren (fiil ,eylem) bir kelimedir?



- (A) mavi (B) rüzgar (C) otur

SORU 12 Cem annesiyle her gün 20 sayfa kitap okumak için anlaşmıştı. Cem sürekli yarın okurum diye geçiştirmeye başladı. Ve okuyacağı sayfa sayısı artmaya başladı. Annesi Cem'e hangi ata sözünü söylemiştir?

- (A) Ağaç yaşken eğilir. (B) Bugünün işini yarına bırakma.
(C) Ne ekersen onu biçersin.

SORU 13 Aşağıda resimlerle eşleştirilen kelimelerden anlamlı ve kurallı bir cümle oluşturursak sıralama nasıl olmalı?

 getirir / her / başarıyı / zaman / çalışmak

- (A)  (B) 
(C) 

SORU 14 Öğretmen sınıfa özel isimlere bir örnek verin demiştir. Hangi öğrenci tür ismi söylemiştir?

- (A) Doruk: Masa (B) Beril: Tokat (C) Nazlı: Ağrı

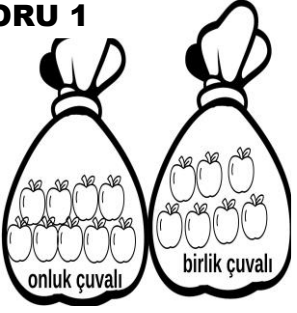
SORU 15 Aşağıda şekillerle verilen bir yıl içinde gerçekleşen olayların oluş sırasına göre dizilişi nasıldır?

- ☐ Kasım ayında kardeşim doğdu.
☐ Şubat ayı yirmi sekiz gündür.
☐ 19 Mayıs'ta Atatürk Samsun'a çıktı.

- Ⓐ ☐ ☐ ☐ Ⓑ ☐ ☐ ☐ Ⓒ ☐ ☐ ☐

MATEMATİ TESTİ

SORU 1



Yanda verilen sayıdan bir önce gelen sayı kaçtır?

- Ⓐ 97
Ⓑ 96
Ⓒ 98

SORU 2

Saat kaç göstermektedir ?



- Ⓐ 8.30
Ⓑ 6.30
Ⓒ 7.30

SORU 3

İki basamaklı en büyük sayının üzerine ellerimizdeki parmak sayısını sayarsak sonuç kaç olur?

- Ⓐ 109 Ⓑ 110 Ⓒ 89

SORU 4


En büyük iki rakamın toplamı kaçtır?

- Ⓐ 21 Ⓑ 10 Ⓒ 17

SORU 5

Aşağıdaki tartı ilgili hangi bilgi doğrudur?

- Ⓐ Üzüm daha ağırdır
Ⓑ Üzüm daha hafiftir.
Ⓒ Armut daha hafiftir.



SORU 6

Yukarıdaki yarışta Fatma kaçınıcı olmuştur?

- Ⓐ 4 Ⓑ 5. Ⓒ 4.

		ALİ	

7. ve 8. Sorular yukardaki tabloya göre yapalım.

SORU 7

Ali iki kare sağa iki kare aşağıya giderse hangi nesneye ulaşılır?

- Ⓐ Ⓑ Ⓒ

SORU 8

Ali kaleme ulaşmak için nasıl gitmeli ?

- Ⓐ Bir kare sola bir kare aşağıya.
Ⓑ Bir kare sola iki kare aşağı.
Ⓒ Bir kare sola bir kare yukarıya.

SORU 9

Üç düzine elmanın 2 deste fazlası kaçtır?

- Ⓐ 54 Ⓑ 66 Ⓒ 56

SORU 10

Bir binada 24 kadın,29 erkek yaşamaktadır.

Binadan 8 kişi taşınırsa geriye kaç kişi kalır?


- Ⓐ 45 Ⓑ 53 Ⓒ 43



SORU 11

Yandaki şekille ilgili hangi bilgi yanlıştır

- Ⓐ Dört köşesi vardır Ⓑ Üç kenarı vardır.
Ⓒ Bütün kenar uzunlukları eşittir.



SORU 12

Yandaki geometrik cismi kullanarak aşağıdaki şekillerden hangisini çizemeyiz?

- Ⓐ Ⓑ Ⓒ

SORU 13

Aşağıdaki örüntüde verilmeyen sayıların farkı kaçtır?



- Ⓐ 40 Ⓑ 13 Ⓒ 12

