

2022-2023 ÖĞRETİM YILI ŞEHİT CEMAL MUTLU İLKOKULU 2.SINIFLAR HAFTALIK DENEME

Adı ve Soyadı:.....

Doğru:.....

Yanlış:.....

Puan:...

HAYAT BİLGİSİ

1) Aşağıdaki öğrencilerden hangisi fiziksel özelliğimizdir?

- A) Basketbol oynamayı severim.
B) Çok duygusalım. C) Uzun boyluyum.

2) Aşağıdakilerden hangisi güvenli bir yolculuk yapılması için uyulması gereken kurallardandır?

- A. Aracı kullanan kişinin dikkatini dağıtacak hareketler yapmak.
B. Araçta emniyet kemeri takmak.
C. Ayakta yolculuk yapmak.

.....içki, sigara ve her türlü uyuşturucu maddelere karşı mücadele eder.

3) Yukarıdaki boşluğa hangi sözcük yazılmalıdır?

- A) AFAD B) YEŞİLAY C) KIZILAY

4) Acil durum numaraları tek numarada birleşmiştir. Bu numara aşağıdakilerden hangisidir?

- A) 110 B) 112 C) 155

MATEMATİK

$$5 + 5 + 5 = 15$$

5) Yukarıdaki toplama işleminin sonucunu kısa yoldan nasıl buluruz?




- A) $10 + 5 = 15$ B) $5 \times 3 = 15$ C) $3 \times 5 = 15$

6) Aşağıdakilerden hangisi dikdörtgene ait bir özellik değildir?

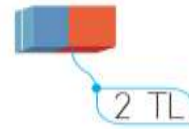
- A. Dört köşesi vardır.
B. Dört kenarının uzunluğu aynıdır.
C. Dört tane kenarı vardır.

7) Aşağıdaki çarpma işlemlerinden sonucu en büyük olan hangisidir?

- A) 7×5 B) 8×3 C) 6×4

 $4 + 4 + 4 + 4 + 4 + 4 = 6 \times 4$
 $5 + 5 + 5 + 5 = 5 \times 5$
 $3 + 3 + 3 = 3 \times 3$

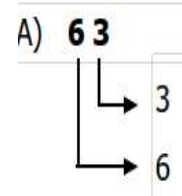
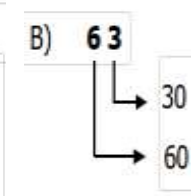
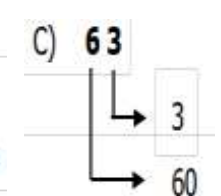
8) Yukarıdaki toplama işlemlerinden hangisi çarpma işlemi olarak yanlış yazılmıştır ?

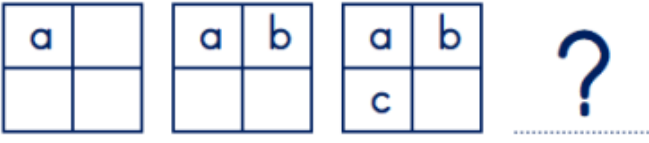


9) Yukarıdaki silgiden 9 tane alan Ayşe kaç lira para öder?

- A) 11 TL B) 18 TL C) 7 TL

10) 63. sayısının basamak değerleri hangi seçenekte doğru verilmiştir?

A)  B)  C) 



1 1)Yukarıdaki örüntüde soru işareti (?) ile belirtilen yere hangisi gelmelidir?



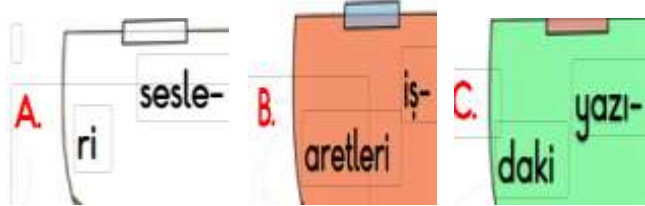
TÜRKÇE

Ömer ile babası, salgından önce her cumartesi günü pazara birlikte giderlerdi. Babasıyla beraber pazardan sebze ve meyve alırlardı. Ömer her seferinde babasına, havuç alalım derdi. Çünkü havucu çok seviyordu.

1 2)Ömer en çok ne almayı istiyordu?

A. Domates B. Havuç C. Portakal

1 3)Üç arkadaş üç ayrı kelimeyi yazarken satır sonuna sığmadığı için hecelerine ayırmak zorunda kalmışlardır.Buna göre satır sonuna sığmayan sözcüklerden hangisi yanlış ayrılmıştır?



1 4)Hangi sözcük *market,sözcüğünden örce gelir?

A)ketçap B)nöbet C)misket

1 5)*Kemal, camı kim kırdı?*Cümlesinde Cins(tür) isim hangi seçenekte verilmiştir?

A. Cam B. Kemal C) Kim

1 6) Haftaya uçakla almanya'ya gidiyoruz.*Cümlesinde hangi sözcükte yazım yanlışı vardır?

A)uçakla B)haftaya C)almanya'ya

1 7) *Fatma abla doktordur.*diyen Tuncay *doktor* kelimesinin yerine aşağıdakilerden hangisini de kullanabilir?

A. Veteriner B. Hemşire C. Hekim

1 8) Hangi cümlelerin sonuna soru işareti (?)yazılamaz?

A) Neden beni dinlemiyorsun ()

B) Ne sordu, ne aradı ()

C) Beraber ders çalışalım mı ()



1 9).Resimde gördüğünüz nedir?

a. zebra b .university
c. train

20. Ali :?

Ayşe : I'm fine, thank you.

Alînin sorusu ne olmalıdır?

a. Hello

b. What is your name

c. How are you