

2022-2023 EĞİTİM-ÖĞRETİM YILI İLKOKULU
MATEMATİK 2. DÖNEM 1. YAZILI SINAV SORULARI

Adı Soyadı:..... Okul No:..... Puan:

1- Aşağıdaki işlemleri yapınız. (8x3=24 p)

$$\begin{array}{r} 4508 \\ + 2457 \\ \hline \end{array}$$

$$\begin{array}{r} 2152 \\ + 7684 \\ \hline \end{array}$$

$$\begin{array}{r} 7596 \\ - 1284 \\ \hline \end{array}$$

$$\begin{array}{r} 6390 \\ - 2783 \\ \hline \end{array}$$

$$\begin{array}{r} 257 \\ \times 5 \\ \hline \end{array}$$

$$\begin{array}{r} 49 \\ \times 36 \\ \hline \end{array}$$

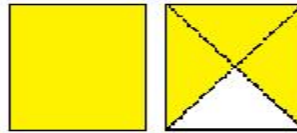
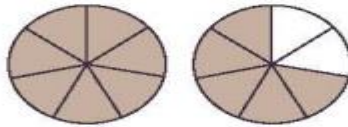
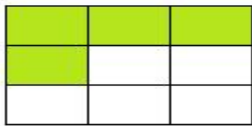
$$\begin{array}{r} 292 \overline{) 4} \\ \hline \end{array}$$

$$\begin{array}{r} 804 \overline{) 6} \\ \hline \end{array}$$

2- Engin 650 sayfalık bir kitabı 3 günde okuyup bitirmiştir. 1. gün 128 sayfa, 2. gün ise 246 sayfa okumuş olan Engin 3. Gün kaç sayfa okumuştur? (6p)

3- $\frac{4}{10}$ kesrini sayı doğrusunda gösteriniz. (6 puan)

4- Aşağıda verilen modellerdeki boyalı kesirleri yazınız. (3x3=9 p)



5- $\frac{7}{8}, \frac{3}{8}, \frac{1}{8}, \frac{4}{8}$ basit kesirleri sembol kullanarak küçükten büyüğe doğru sıralayınız. (5 p)

6- Okunuşları verilen kesirleri yazınız. (4 puan)

• Yedi bölü dokuz = _____

Beş tam dört bölü on = _____

• Onda sekiz = _____

İki tam üç bölü altı = _____

7- $\frac{5}{8}$ kesrini aşağıdaki şekli uygun şekilde bölüp boyayarak gösteriniz. (6 puan)

8- Aşağıda verilen kesirlerle toplama ve çıkarma işlemlerini yapınız. (5 puan)

$$\frac{3}{9} + \frac{4}{9} =$$

$$5\frac{4}{7} + 1\frac{2}{7} =$$

$$\frac{8}{12} - \frac{4}{12} =$$

$$7\frac{6}{8} - 3\frac{2}{8} =$$

9- Okulumuzun izcilik kulübündeki 84 kişinin $\frac{3}{7}$ 'si kampa gidecektir. Kampa kaç kişinin gideceğini bulunuz. (5 puan)

10- Aşağıda verilen dönüşümleri yaparak, boşlukları uygun şekilde doldurunuz. (10 puan)

- 2 saat 30 dakika = dakika
- 180 saniye =dakika
- 2 dakika 25 saniye =saniye
- 98 dakika =saatdakika
- 134 dakika =saat dakika

11- Sinemaya saat 15.20'de giren Ahmet, saat 17.45'te sinemadan çıkmıştır. Ahmet sinemada ne kadar süre kalmıştır? (5 puan)

12- Yıllara göre üretilen fındık miktarının verildiği sütun grafiğini inceleyerek soruları cevaplayınız. (15p)

