

Adı Soyadı:.....

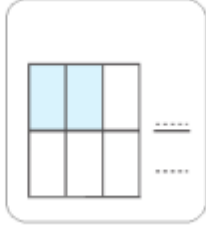
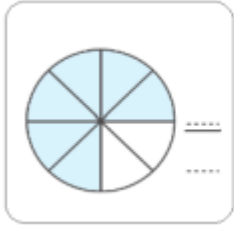
Okul No:.....

Puan: .....

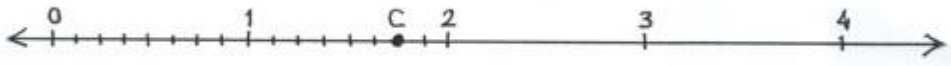
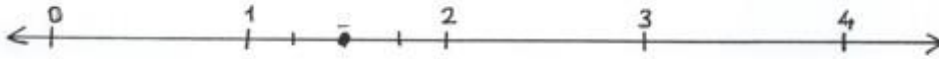
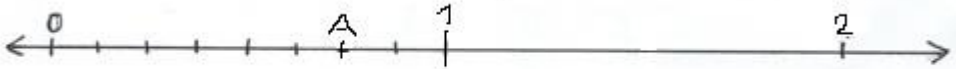
1- Aşağıdaki işlemleri yapınız. ( 8x2=16 p)

4508	2152	7596	6390	257	49	292	4	804	6	
+ 2457	+ 7684	- 1284	- 2783	x 5	x 36					

2- Aşağıda verilen modellerdeki boyalı kesirleri yazınız. (10 p)



3. Aşağıda sayı doğrusunda gösterilen kesri yazınız. (9 p)



4-. Aşağıda kesirlerle ilgili verilen toplama ve çıkarma işlemlerini yapınız. (10p)

$$\frac{3}{8} + \frac{1}{8} = \frac{....}{....}$$

$$2\frac{6}{20} + 4\frac{4}{20} = .... \frac{....}{....}$$

$$\frac{9}{15} - \frac{3}{15} = \frac{....}{....}$$

$$8\frac{7}{10} - 4\frac{2}{10} = .... \frac{....}{....}$$

5-Aşağıdaki kesirleri büyükten küçüğe doğru sıralayınız. (5p)

$$\frac{1}{3} \quad \frac{1}{5} \quad \frac{1}{7} \quad \frac{1}{9} \quad \frac{1}{2}$$

6- Aşağıdaki kesirleri küçükten büyüğe doğru sıralayınız. (5p)

$$\frac{4}{6} \quad \frac{2}{6} \quad \frac{6}{6} \quad \frac{8}{6} \quad \frac{5}{6}$$

— &gt; — &gt; — &gt; — &gt; —

— &lt; — &lt; — &lt; — &lt; —

7- Aşağıda zamanları çeviriniz. (5p)

6 ay .....	Gün eder.
36 ay .....	yıl eder.
30 gün.....	hafta eder.
128 gün .....	ay ..... Gündür.
3 ay 4 hafta .....	gündür.

8- Aşağıda zamanları çeviriniz. (5p)

4 saat .....	dakikadır.
2 saat 15 dakika .....	dakikadır.
185 dakika .....	saat ..... dakika
3 dakika .....	saniyedir.
300 saniye .....	dakikadır.

9 - 36 kişilik sınıfın  $\frac{4}{9}$ 'ü kızdır. Erkekler kaç kişidir? (5 p)

Çözüm:

10 - Okulumuzun izcilik kulübündeki 108 kişinin  $\frac{6}{8}$ 'si kampa gidecektir.

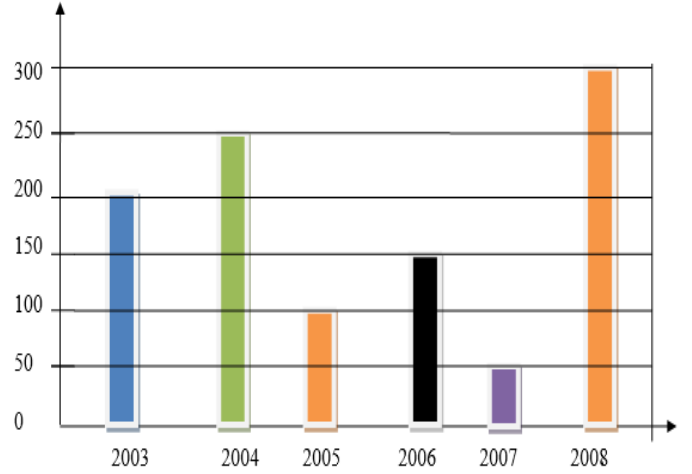
Kampa kaç kişinin gideceğini bulunuz. (5 p)

11- Sabah 07.40 'da ders başlıyor. 12.30 'da bitiyor.

Acaba ben kaç saat ve kaç dakika okulda kalıyorum? (5 p)

12 -

Üretilen Fındık Miktarı  
(ton)



Yukarıdaki grafiğe göre:

(15 puan)

1.En çok fındık hangi yıl üretilmiştir?

2. 2004 ve 2005 yıllarında toplam kaç ton fındık üretilmiştir?

3. En az fındık hangi yıl üretilmiştir?

4.Tüm yılların toplamında kaç ton fındık üretilmiştir?

5.En az fındık üretilen yıl ile en çok fındık üretilen yıl arasında kaç ton fark vardır?

13 - Bir çiftlikte üretilen toplam 5895 tane yumurtanın;

1. Gün 1461 tanesi,

2. Gün 1967 tanesi satılmıştır.

Bu çiftlikte 3.gün kaç yumurta satılmıştır?

(5 p)

BONUS SORU

Belli bir mesafeyi 4 dakika 58 saniyede koşan bir sporcu, bu mesafeyi toplam kaç saniyede koşmuş olur?

