

# 2022-2023 ÖĞRETİM YILI ŞEHİT CEMAL MUTLU İLKOKULU 2.SINIFLAR HAFTALIK DENEME

Adı ve Soyadı:.....

Doğru:.....

Yanlış:.....

Puan:...

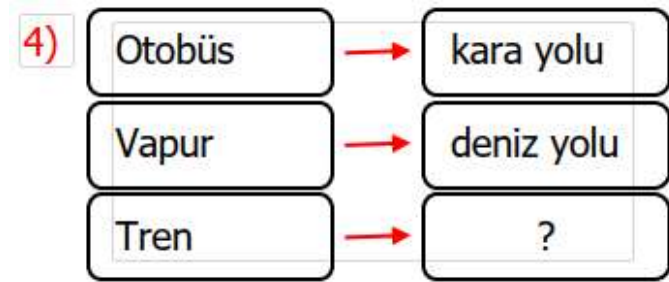
## HAYAT BİLGİSİ

1) Aşağıdakilerden hangisi oyun oynamak için güvenli bir alan değildir?

- A) Okul bahçesi B) İnşaat alanı  
C) Çocuk parkı

2) "Uzun süre tablet ile oynamak ..... zarar verir." Cümlede boş bırakılan yere hangi sözcük yazılmalıdır?  
A) dişlerimize B) gözlerimize  
C) burnumuza

3) Kara yolu taşımacılığında bazı taşıtlar insan, bazı taşıtlar da yük taşır. Aşağıdakilerden hangisi yük taşımak amacıyla kullanılır?  
A) kamyon B) otobüs C) taksi



Soru işareti yerine aşağıdakilerden hangisi getirilmelidir?

- A) deniz yolu B) kara yolu C) demir yolu

## MATEMATİK

"Altı kere dört yirmi dördtür."

5) Yukarıda ifade edilen çarpma işlemi aşağıdakilerden hangisidir?

- A)  $4 \times 6 = 24$  B)  $6 \times 4 = 24$   
C)  $6 + 4 = 24$



6) Aşağıdaki işlemlerden hangisi saksılardaki toplam çiçek sayısını vermez?  
A) 4 kere 2 B) 4 tane 2 C) 2 çarpı 2

7)

2	x	4	=	8
↓	↓	↓	↓	↓
A	B	C	D	E

Yanda verilen çarpma işleminde hangisinin ismi yanlış yazılmıştır?

- A) A- çarpan B) D- çarpı  
C) E - çarpım

8) Eylül 7 yaşındadır. Annesi Eylül'ün yaşının 4 katından 9 fazladır. Buna göre annesi kaç yaşındadır?  
A) 28 B) 27 C) 37

9)



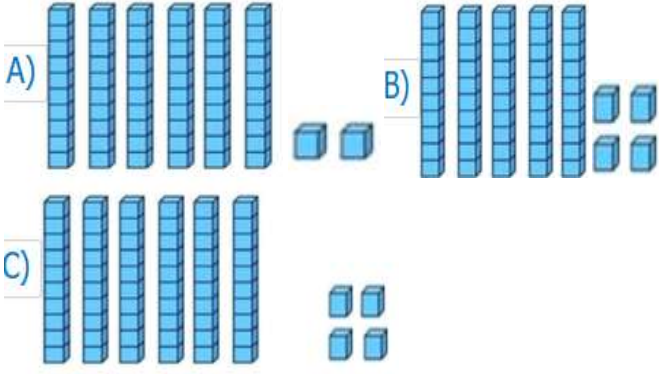
Yukarıdaki tavşanlar üçerli gruplanıyor. Buna göre kaç tane tavşan gruplamanın dışında kalır?

- A) 2 B) 3 C) 1

10) Aşağıdaki sporculardan hangisinin forma numarası 2 onluktan oluşmaktadır?



11)\*Altmış dört. sayısı hangi seçenekte taban blokları ile modellenmiştir?



## TÜRKÇE

Bir gün Temel işe yetişmek için parktaki çimenlerin üzerinden koşuyormuş. Temel'i gören park bekçisi:

- Tabelayı görüyor musun( )
- Çimlerde yürümeyiniz yazıyor.

Temel

- Yürümüyorum zaten koşuyorum.

12)Tabelada ne yazıyormuş?

- A. Çimlerde oturmayınız.
- B. Çimlerde yürümeyiniz.
- C. Çimlerde koşmayınız.

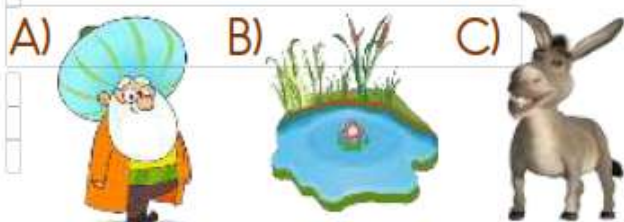
13)Metinde (1) numaralı yere hangi noktalama işareti gelmelidir?

- A. ( . )
- B. ( ? )
- C. ( ! )

13)Sözcüklerin anlamını bulmak için aşağıdakilerden hangisine bakmalıyız?

- A) Yazım Kılavuzu
- B) Türkçe Sözlük
- C) Alfabe

14) Hangi görsel özel isimdir?



15)Aşağıdaki sözcüklerden hangisi hecelerine doğru ayrılmıştır?

- A)temizlik tem-iz-lik
- B)kardeşim kar-deş-im
- C)ayakkabı a-yak-ka-bı

16)▲ Elimi yüzümü yıkadım.  
■ Okula gittim.  
● Sabah uyandım.  
◆ Kahvaltımı yaptım.

Yukarıdaki olaylar hangi seçenek-te oluş sırasına göre sıralanmıştır?

- A) ● - ▲ - ◆ - ■
- B) ● - ◆ - ■ - ▲
- C) ◆ - ▲ - ● - ■

17) Dedem benden bir talepte bulundu. Altı çizili kelimenin yerine hangisi yazılırsa cümlelerin anlamı değişmez?

- A)Emir
- B)İstek
- C)görev

18)\*Emrah cömert bir çocuktur.. Altı çizili kelimenin zıt anlamlısı hangisidir?

- A)hoşgörü
- B)Cimri
- C)aksi



19)Yandaki doğum günü kutlanan çocuğa aşağıdakilerden hangisi söylenebilir?

- A. Turn left.
- B. Happy birthday to you.
- C. Excuse me.



"I like ..... pencil."

Yukarıdaki noktalı yere resme göre aşağıdakilerden hangisi gelmelidir?

- A. yellow
- B. red
- C. black

Her soru 5 puandır.