

ALAKOVA İLKOKULU 1. DENEME
SINAVI

KUMSALDAKİ ÇOCUK

Güneş her tarafı aydınlatıyordu. Çocuk deniz kenarında kumların üzerinde zıplıyordu. Çünkü terliklerini unutmuştu. Çocuk birden kendini denize atıverdi. Rahatlamıştı.

1. Çocuk kumların üstünde neden zıplıyordu ?

- A) İp atladığı için
- B) Kumlar çok sıcak olduğu için
- C) Ayaklarını ısıtabilmek için

2. Çocuk neden denize atladı ?

- A) Ayakları yandığı için
- B) Ayakları ağrıdığından
- C) Üşüdüğünden

3. "Etli^{ekmek}" kelimesi aşağıdaki seçeneklerden hangisinde doğru hecelenmiştir?

- A) Et - li - ekm - ek
- B) Etl - ik - mek
- C) Et - li - ek - mek

4. Aşağıdaki cümlelerin hangisinde insan ismi (özel isim) yanlış kullanılmıştır.

- A) ahmet eve erken geldi.
- B) Selim ödevini yapmış.
- C) Mine ellerini yıkadı.

5. **Ahududu** kelimesi kaç hecelidir?

- A) 2
- B) 3
- C) 4

6. Aşağıdakilerden hangisinde satır sonuna sığmayan sözcük yanlış yazılmıştır?

- A) Simit-
çi
- B) Öğret-
men
- C) Okum-
alıyım

7. Nerede oyun oynamak istersin

Yukarıdaki cümlelerin sonuna hangi noktalama işareti gelmelidir?

- A) ,
- B) .
- C) ?

8. a - m - t - r - u

Yukarıdaki harflerden aşağıdaki kelimelerden hangisi yazılabilir.

- A) yumurta
- B) turp
- C) armut

9. Aşağıdaki kelimelerden hangisi özel isimdir?

- A) Melike
- B) bisiklet
- C) yol

Sebze ve meyveleri yemeden önce yıkamalıyız.

10. Yukarıdaki cümlede **kaç** tane keilme (sözcük) vardır?

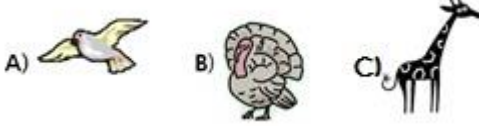
- A) 6 B) 7 C) 8

11. **Kale** sözcüğünde kaç tane **sesli** harf vardır?

- A) 5 B) 2 C) 7

MATEMATİK

1. Aşağıdaki hayvanlardan **en uzun** olanını işaretleyiniz.



2. 30-40-50-.....70

Onarlı ritmik sayarken noktalı yere **hangi** sayı gelmelidir?

- A) 50 B) 60 C) 70

3.


2 onluk **8** birlikten oluşan sayı kaçtır?

- A) 28 B) 18 C) 29

4. Esra'nın kumbarasında 30 TL'si vardır. Esra aşağıdakilerden hangisini alamaz?

A.  25 TL

B.  20 TL

C.  35 TL

5. Geçen hafta 11, bu hafta 9 kitap okudum. İki haftada toplam kaç kitap okudum?

- A) 19 B) 20 C) 21

6. 18 kurabiyenin 7 tanesini yedim. Geriye kaç tane kurabiyem kaldı?

- A) 11 B) 12 C) 13

7. Aşağıdaki, ifadelerden hangisi **doğrudur**?


A) 6 sayısı 9 dan büyüktür.

B) 8 sayısı 4 ten büyüktür.

C) 5 sayısı 7 sayısından sonra gelir.

8. Amcam 10 lira, dayım 10 lira verdi. Annem ise 5 lira verdi. Toplam kaç liram oldu?

- A)  
- B)  
- C)  



9. Tavşan, aslanı geçince kaçınıcı olur?

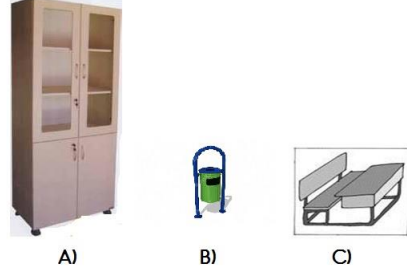
- A) 3 B) 1 C) 2

HAYAT BİLGİSİ

1. Yemek yerken aşağıdakilerden hangisinin yapılması **doğrudur**?

- A) Oturarak yemek yemek.
- B) Ayakta yemek yemek.
- C) Şapırdatarak yemek.

2. Hangisi sınıf eşyalarımızdan **değildir**?



3. Aşağıda verilen bilgilerden hangisi **doğrudur**?

- A) Tanımadığım kişilerle konuşurum.
- B) Tanımadığım kişilerle gezerim.
- C) Tanımadığım kişilerle konuşmam.

4. Sağlıklı beslenmek için neler yapmalıyız?

- A) Kola içmeliyiz.
- B) Abur cubur yemeliyiz.
- C) Sebze ve meyve yemeliyiz.

5. İstiklal Marşı okunurken **nasıl** davranmalıyız?

- A) Kıpırdamadan ayakta duralım.
- B) Hareket edebiliriz.
- C) Yere oturarak okuruz.

6. Aşağıdakilerden hangisi okul kuralı **değildir**?

- A) Koridorda kořmamak.
- B) Odamızı toplamak.
- C) Okul bahçesine çöp atmamak.

7. Babamızın kız kardeşine **ne** deriz?

- A) Dayı
- B) Teyze
- C) Hala

8. Aşağıdakilerden hangisi **doğru** bir davranıştır?

- A) Tenefüslerde sınıfta kořabiliriz.
- B) Derste parmak kaldırmak.
- C) Sınıf kapısını çarpmak.

9. Aşağıdakilerden hangisi temel ihtiyaçlarımızdan **değildir**?



A)



B)



C)

10. Aşağıdakilerden hangisi bir **ihtiyaçtır**?



A)



B)



C)

11. Aşağıdakilerden hangisi okul çalışanlarından **birisi değildir**?

A)



B)



C)



12. Aşağıdakilerden hangisi iletişim araçlarından **değildir**?

A)



B)



C)



Test Bitti

Hazırlayan: İbrahim Yiğit