

ADI SOYADI: ..... TÜRKÇE



Kıydan uzak bir yerde yaşamını sürdüren köpekbalığı Şarkı, dinlenirken burnunun üstüne poşet geldi. Bu duruma çok sinirlenen Şarkı artık insanlara

bir ders verilmesi gerektiğini anladı. Diğer balıkları da çağırarak durumu mecliste anlattı. Balıklarda Şarkı'ye destek verdi. Çünkü onlarda insanların duyarsızlığından bıkmıştı. Hep beraber insanlara ders vermek için işbirliği yapmaya karar verdiler. Her balık evinin çevresinde bulduğu çöp ve atıkları toplayıp, insanların yaşadığı şehirlerin kıyılarına attılar. Sabah kıyadaki çöp yığınlarını gören insanlar yaptıkları hatayı o zaman farkettiler. Hem insanlar için hem de doğa için çevrelerini temiz tutmaya başladılar.

( İlk üç soruyu metne göre cevaplandırınız. )

1- Şarkı neden sinirlenmiş?

- A) Burnuna çöp geldiği için sinirlenmiş.
- B) Balıklar gürültü yaptığı için sinirlenmiş.
- C) Rahat uyuyamadığı için sinirlenmiş.

2- İnsanlar çöp yığınlarını nerede görmüşler?



3- Balıklar çöp sorununu nasıl çözmüşler?

- A) Yaşam yerlerini terk ederek.
- B) Çöp ve atıkları poşetlere doldurarak.
- C) Çöpleri insanların yaşadığı yere atarak.

4-Aşağıdaki cümlelerin hangisinde yazım(imla) hatası yapılmıştır?

- A) Buyday deyirmende una dönüştürülür.
- B) Toplu ulaşım da yaşlılara yer verelim.
- C) Hacivat Karagöz oyunu çok güzeldi.

5-Aşağıdaki kelimelerden hangisinin ünsüz harf sayısı daha **azdır**?

- A) sert
- B) baba
- C) aile



Bir işin yapılmadığını, bitmediğini ya da olmayacağını bildiren cümlelere **olumsuz cümle** diyoruz.

6-Yukarıdaki ifadeye göre aşağıdaki cümlelerden hangisi olumsuz bir cümledir?

- A) Akşam erken uyumadı.
- B) Ders başladı.
- C) Bağ evine gidiyoruz.

7-"Annem evde çok yoruluyor ..... kimse yardımcı olmuyor." cümlesinde boş bırakılan yere aşağıdakilerden hangisi gelmelidir?

- A) için
- B) çünkü
- C) veya



8-Yukarıdaki görsele bakarak aşağıdaki kelime çiftlerinden hangisini **söyleyemeyiz**?

- A) iniş-çıkış
- B) aşağı-yukarı
- C) ileri-geri

A	BEDEN	.....	NEHİR
Y	YAŞ	.....	YIL
K	IRMAK	.....	ISLAK
A	SENE	.....	VÜCUT

9-Yukarıdaki eş anlamlı kelimeler, harfler kullanılarak doğru eşleştirildiğinde hangi kelime ortaya çıkar?

- A)AYAK
- B)KAYA
- C)YAKA

10-Aşağıdaki görsellerden hangisinin adı, satır sonunda bölünebilir?



Kelime	Eş anlamı	Zıt anlamı
yoksul	.....	.....

11-Tabloda bulunan kelimenin eş ve zıt anlamı olan kelimeler aşağıdakilerden hangisidir?

- A) 

pinti	cömert
-------	--------

 B) 

fakir	zengin
-------	--------

  
C) 

tembel	değerli
--------	---------

Ponpon Tavşan arkadaşıyla birlikte ormana havuç toplamak için gitti. Ponpon Tavşan havuç toplarken arkadaşının kaybolduğunu farketmiş. Bağırarak arkadaşını aramaya başlamış. Arkadaşını bir ağacın altında uyurken bulmuş.

SümeYYe TOP

12-Aşağıdaki sorulardan hangisinin cevabı metinde **yoktur**?

- A) Ponpon Tavşan niçin ormana gitmiş?  
B) Ponpon Tavşanın arkadaşı neden kaybolmuş?  
C) Kaybolan arkadaş nerede bulunmuş?

13-Bir ifadeyi anlatan kelime veya kelime gruplarına cümle denilmektedir. Buna göre aşağıdaki kelimelerden hangisi cümledir?

- A) Öğretmen B) Okudu C) Tekerlek



- A) yer B) konu

14-Yandaki görsele bakarak aşağıdaki hikâye unsurlarından hangisini **anlayamayız**?

- C) kahraman



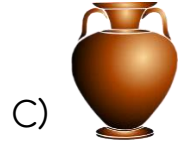
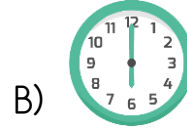
Ağzımızdan bir seferde çıkan ses veya ses gruplarına hece diyoruz.

15-Aşağıdaki cümlelerden hangisinin hece sayısı **farklıdır**?

- A) Beytullah babasıyla balığa gitti.  
B) Doktor, Met'e'den kan tahlili istedi.  
C) Oğuz ve Miraç, Elifi yanlış anlamış.

## MATEMATİK

1-Aşağıdaki nesnelerden hangisinin simetrisi **yoktur**?



$$\begin{array}{rcl} 18 - 3 & = & 15 \\ 15 - 3 & = & 12 \\ 12 - 3 & = & 9 \\ 9 - 3 & = & 6 \\ 6 - 3 & = & 3 \\ 3 - 3 & = & 0 \end{array}$$


Bölme işlemi, ardışık çıkarma işlemlerinin kısa yoldan yapılmasına denir.

2-Yukarıdaki ardışık çıkarma işleminin bölme işlemi olarak gösterimi hangisidir?

- A)  $18 \div 3 = 6$  B)  $18 \div 2 = 9$  C)  $18 \div 6 = 3$



3- 9 kuzunun ayak sayısı, 10 tavuğun ayak sayısından kaç fazladır?



- A) 25  
B) 20  
C) 16

4-  $68-45$  çıkarma işleminin zihinden yapılma aşamaları aşağıdakilerin hangisinde doğru gösterilmiştir?

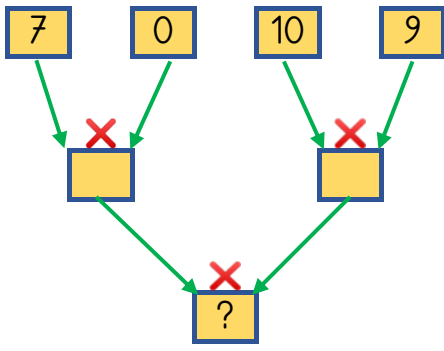
A) 
$$\begin{array}{r} 60-40=20 \\ 8-5=+3 \\ \hline 23 \end{array}$$

B) 
$$\begin{array}{r} 68-40=28 \\ 28-5=+23 \\ \hline 51 \end{array}$$

C) 
$$\begin{array}{r} 60-40=20 \\ 8-5=-3 \\ \hline 17 \end{array}$$

5-Aşağıda bölme işlemleriyle ilgili ifadelerden hangisi doğrudur?

- A)  $24 \div 6 = 4$  işleminde 6 bölüm sayısıdır.  
B)  $18 \div 2 = 9$  işleminde 18 bölen sayısıdır.  
C)  $20 \div 5 = 4$  işleminde 20 bölünen sayısıdır.

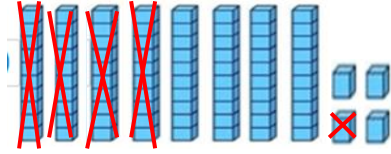


6-Yandaki işlem sonuçlarını okla takip ettiğimiz zaman ? yerine hangi sayı yazılmalıdır?

- A) 90 B) 0 C) 75

7-Kantine her kutuda 5 bisküvi olan 8 kutu, her kutuda 9 çikolata olan 4 kutu geldi. Kantine toplam kaç tane bisküvi ve çikolata geldi?

- A) 70  
B) 76  
C) 80

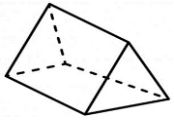


8-Yukarıda onluk taban bloklarıyla gösterilen çıkarma işlemi aşağıdakilerden hangisidir?

- A) 74 B) 84 C) 43
- $$\begin{array}{r} 42 \\ - 32 \\ \hline \end{array}$$
- $$\begin{array}{r} 41 \\ - 43 \\ \hline \end{array}$$
- $$\begin{array}{r} 41 \\ - 2 \\ \hline \end{array}$$

9-Ayazlar her gün 5 yumurta tükettiklerine göre 30 yumurta kaç günde bitirirler?

- A) 7  
B) 6  
C) 5



10-Üçgen prizmasının yüzeyiyle aşağıdaki şekillerden hangisini çizemeyiz?

- A) dikdörtgen B) çember C) üçgen

99 69 56 72 27 10

12-Yukarıdaki sayılar büyükten küçüğe doğru sıralanışının doğru olması için hangi sayının çıkarılması gerekir?

- A) 69 B) 56 C) 72

Benim sonsuz simetrim var.



Benim kareden daha çok simetrim var.

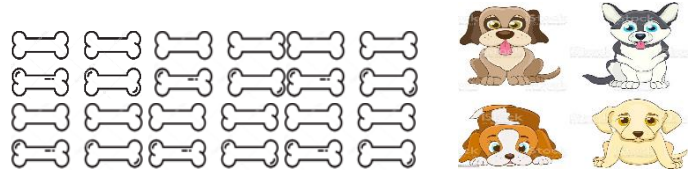


Benim 4 tane simetrim var.



11-Yukarıdaki şekillerden hangisinin söylediği ifade **yanlıştır**?

- A) Çember B) Dikdörtgen C) Kare



13-Kemikler köpekler eşit olarak paylaştırılırsa her köpeğe kaç kemik düşer?

- A) 6 B) 5 C) 4



14-Örüntünün kuralına göre boşyere hangi şekil gelmelidir?

- A) B) C)

Gerçek Sonuç	Tahmini Sonuç	Fark
$\begin{array}{r} 56 \\ + 23 \\ \hline \end{array}$		

15-Toplama işleminin gerçek sonucu ile tahmini sonucu arasındaki **fark** kaçtır?

- A) 5 B) 3 C) 1

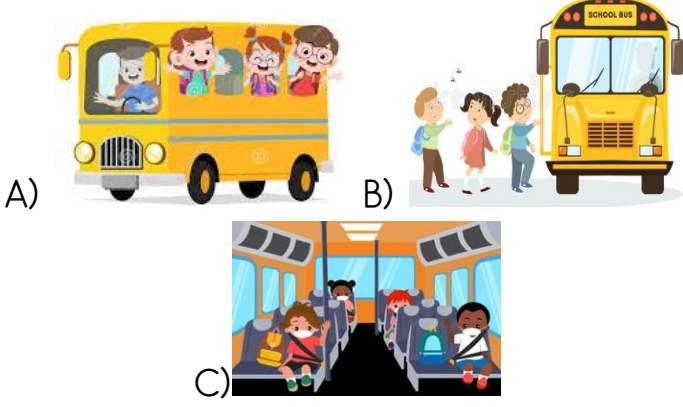
### HAYAT BİLGİSİ

1-Hastalandığımız zaman hangi kuruma gitmemiz doğru olur?

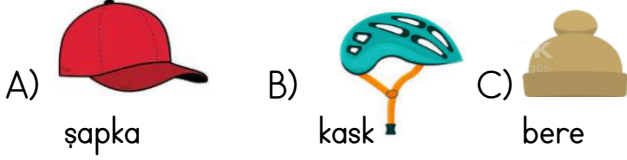
- A) okul B) hastane  
C) eczane



2-Okul servisi aracında, öğrencilerin yaptığı davranışlardan hangisi **yanlıştır**?



3-Bisiklet sürerken başımızı tehlikelerden korumak için aşağıdakilerden hangisini takmalıyız?



Plansız yaşamayı düşünemiyorum.

Arkadaşlarla beraber oynamak çok eğlenceli.

Sokak hayvanlarına yemek vermeliyiz.

4-Yukarıdaki üç arkadaş kendilerine ait düşüncelerini açıklıyor. Düşünceler için aşağıdakilerden hangisi söyleyebilir?

- A) İnsanların düşünceleri farklı olabilir.  
B) Aynı sınıftaki çocukların fikirleri farklı olamaz.  
C) Herkesin düşünceleri aynı olmalıdır.



5-Sema, annesiyle birlikte alışverişe gitmeden önce alışveriş listesi hazırlıyorlar. Listeyi ihtiyaçlarına göre sıralamak isteyen Sema, listeyi nasıl hazırlamalıdır?

- A) Bot Makarna Süt B) Gofret Çanta Oyuncak C) Bot Süt Gofret



6-Haritada numaralanmış yerlerden hangisi Türkiye'yi göstermektedir?

- A) 1 B) 2 C) 3

7-"Türkiye'nin ..... tarafı denizlerle kaplıdır." ifadesinin doğru olabilmesi için noktalı yere kaç yazılmalıdır?

- A) 4 B) 3 C) 2

		kaptan	1.
		makinist	2.
		pilot	3.
		şoför	4.

8-Eyüp, ulaşım araçlarına sırayla binerek sürücü isimlerini yazıyor ama bazılarını yazarken yanlışlık yapıyor. Kaç numaraları yerler değiştirilirse tablo doğru olur?

- A) 1-2 B) 1-4 C) 2-3

9-Teknolojik aletlerin hayatımıza **olumsuz** etkisi aşağıdakilerden hangisidir?

- A) Bilgisayar sayesinde bilgiye kolay ulaşmak.  
B) Telefonla uzaktakilerle iletişim sağlamak.  
C) Tableti şarj ederken radyasyon yayması.

10- İkinci sınıfa giden bir öğrenci aşağıdakilerden hangisini yapabilir?

- A) Ütü B) spor C) yemek

*Başarılar...*