



Hastalığımın üçüncü günü, oyuncaklarımı yatağın ayak ucuna sıralayıp baktım. Hepsi eski oyuncaklardı. Hep aynı oyuncaklarla oynamanın ne kadar sıkıcı olduğunu yetişkinler anlayamaz. Oyuncak istediğimde hep "Senin oyuncakların var ya! Onlarla oynama." derler. Herhâlde bütün çocuklar aynı durumdadır. "Evde var ya!" Eskimişmiş, boyaları dökülmüşmüş, sağı solu kırılmışmış, kimin umurunda? Kimin? Benim.

### Sorular

- 1-Oyuncakları nereye sıralamış?.....
- 2-Çocuk ne kadar süredir hastaymış?.....
- 3-Metnin başlığı ne olabilir?.....

Aşağıda verilen görsellerin isimlerini sözlük sırasına göre sıralayıp verilen boşluklara yazalım.



Aşağıda verilen görsellerin ilk ve son harflerini kutucuklara yazalım.



Aşağıda verilen kelimelerin eş ve zıt anlamlılarını yazalım.

Zıt Anlam	Eş Anlam	Zıt Anlam	Eş Anlam
.....	ihtiyar	.....	soru
.....	uzak	.....	yarar
.....	beyaz	.....	hızlı
.....	yoksul	.....	ıslak

Aşağıda karışık olarak verilen sözcüklerle kurallı ve devrik cümleler oluşturalım.

yaptım   ödevimi   gelince   okuldan   hızlıca

Kurallı : .....

Devrik : .....

ekti   annem   yeni   bahçeye   çiçekler

Kurallı : .....

Devrik : .....

Aşağıda yazımı yanlış olarak verilen sözcüklerin doğrularını altta verilen noktalı yerlere yazalım.

piroblem	eylence	pantolon	deyirmen
.....	.....	.....	.....
sarmısak	penbe	süpriz	fiat
.....	.....	.....	.....

Olay nedir?

Olayın kahramanı kimdir?

Nasrettin Hoca, bir gece geç saatlerde köyün sokaklarında yürüyormuş. Hoca'yı gören bekçi;

- Hoca bu saatte ne arıyorsun sokakta, diye sormuş.

Hoca:

-Uykum kaçtı da onu arıyorum, demiş.

Olay nerede geçiyor?

Olay ne zaman yaşanıyor?


Metnin türü nedir?

A) Masal B) Şiir C) Fıkra

Etkinlik: Aşağıdaki nesneleri üçerli gruplara ayırınız.



9 topu üçerli gruplara ayırırsak ..... grup olur.





12 tabağı üçerli gruplara ayırırsak ..... grup olur.

Etkinlik: Aşağıdaki nesneleri dörderli gruplara ayırınız.



16 elmayı dörderli gruplara ayırırsak ..... grup olur.

Etkinlik: Kemikleri köpekler eşit olarak paylaşsınız.



Her köpeğe kaç kemik düşer?

$$24 \div 4 = \dots\dots\dots$$

Aşağıdaki varlıkları yönergelere göre gruplandırınız. Oluşan grup sayılarını yazınız.

•Üçerli grupla



•Üçerli grupla



•İkişerli grupla



•Üçerli grupla



•Beşerli grupla



•Dörderli grupla



•Üçerli grupla



•İkişerli grupla



\*\*\* Hikaye kitabını bol bol oku ! \*\*\*