

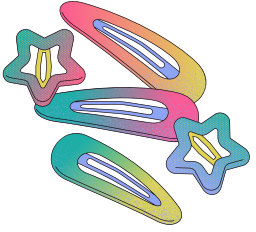


Aklmda tuttuęum sayı ile 8 topladım. Toplam 19 oldu. Acaba aklımdan tuttuęum sayı kaçtı?



9 tane tokam vardı. Annemin verdiđi tokalarla birlikte toplam 14 tokam oldu. Annem bana kaç tane toka vermiřtir?



Tabađımda 9 kurabiye vardı. Babamın tabađıma
koyduđu kurabiyelerle tabađımda 17 kurabiye oldu.
Babam tabađıma kaç kurabiye koymuřtur?



Kitabın 9 sayfasını okudum. Kaç sayfa daha okursam toplam 15 sayfa kitap okumuş olurum?



Fatih Mehmet Öveç

Parkta 7 çocuk vardı. Sonradan gelen çocuklarla birlikte parkta 12 çocuk oldu. Parka sonradan gelen çocuk sayısı kaçtır?



Fatih Mehmet Öveç

Aklındaki iki sayıyı topladığında 24 ediyor. Topladığım sayılardan biri 10 ise diğ er sayı kaçtır?



www.egitimhane.com

Fatih Mehmet  ves

Fatih Mehmet
Övels

Fatih Mehmet

Öveç