








PARALARLA İLGİLİ PROBLEMLER

							
Armut 19 TL	Çilek 42 TL	Salatalık 24 TL	Domates 17 TL	Muz 23 TL	Elma 13 TL	Mantar 54 TL	Karnabahar 11 TL

Aşağıdaki soruların cevaplarını defterine yazınız.

- 1) Leman 2 kg salatalık almış. Kaç TL ödemesi gerekir?
- 2) Harun 4 kg elma almış. Kaç TL ödemesi gerekir?
- 3) Kenan 2 adet karnabahar almış. Kaç TL ödemesi gerekir?
- 4) Deniz 3 kg domates almış. Kaç TL ödemesi gerekir?
- 5) Jale 1 kg çilek ile 1 kg mantar almış. Kaç TL ödemesi gerekir?
- 6) Şemsi 2 kg muz ile 1 kg çilek almış. Kaç TL ödemesi gerekir?
- 7) Esmâ 3 kg elma, 2 kg armut ve 1 adet karnabahar almış. Kaç TL ödemesi gerekir?
- 8) Zekiye 2 kg salatalık ile 1 kg mantar almış. Kaç TL ödemesi gerekir?
- 9) İsmail 1 kg çilek ile 2 kg elma almış. Kaç TL ödemesi gerekir?
- 10) Zeynep 3 kg muz, 2 kg armut ve 5 kg elma almış. Kaç TL ödemesi gerekir?
- 11) Tuncay'ın 200 TL'si var. 1 kg mantar ile 2 kg armut almış. Geriye kaç TL kalır?
- 12) Perihan'ın 150 TL'si var. 2 karnabahar ile 3 kg muz almış. Geriye kaç TL kalır?
- 13) Oya'nın 90 TL'si var. 1 kg çilek ile 1 kg elma almış. Geriye kaç TL kalır?
- 14) Ahmet tüm ürünlerden 1'er kg alırsa kaç TL öder?
- 15) Siz istediğiniz 2 üründen alınız ve kaç TL ödeyeceğinizi hesaplayınız.

Aşağıdaki verilen paraları defterinizde hesaplayınız.

- 1) 3 adet 20 TL, 2 adet 5 TL, 4 adet 10 TL toplam kaç TL eder?
- 2) 2 adet 50 TL, 1 adet 100 TL, 6 adet 20 TL toplam kaç TL eder?
- 3) 1 adet 200 TL, 1 adet 50 TL, 9 adet 5 TL toplam kaç TL eder?
- 4) 5 adet 20 TL, 4 adet 10TL, 3 adet 50 TL toplam kaç TL eder?
- 5) 3 adet 100 TL, 2 adet 200 TL, 7 adet 10 TL toplam kaç TL eder?
- 6) 8 adet 5 TL, 7 adet 20 TL, 3 adet 10 TL toplam kaç TL eder?
- 7) 2 adet 200 TL, 3 adet 20 TL, 1 adet 50 TL toplam kaç TL eder?
- 8) 200 TL'nin içinde kaç adet 10 TL vardır?
- 9) 200 TL'nin içinde kaç adet 5 TL vardır?
- 10) 4 adet 20 TL içinde kaç adet 5 TL vardır?
- 11) Emine'nin cüzdanında 500 TL var. 200 TL'ye ayakkabı, 138 TL'ye gömlek, 49 TL'ye de çorap aldı. Emine'nin cüzdanında kaç TL kalmıştır?
- 12) Fatih'in cebinde 125 TL var. 33 TL'ye döner yedi. 56 TL'ye de sinema bileti aldı. 13 TL'ye de patlamış mısır aldı. Fatih'in cebinde kaç TL kaldı?
- 13) Numan tanesi 8 TL olan kalemlerden 6 tane, tanesi 13 TL olan dosyalardan da 9 tane aldı. Satıcıya 200 TL verdi. Geriye kaç TL alması gerekiyor?
- 14) Sinan marketten 134 TL'ye sıvı yağ, 149 TL'ye kaşar peyniri, tanesi 18 TL'den 5 kutu süt aldı. Sinan markete kaç TL ödemiştir?
- 15) Konya-Ankara arası hızlı tren fiyatlarında sivil 135 TL, genç 98 TL, çocuk ise 76 TL'dir. Cemal ailesiyle Ankara'ya bilet almıştır. Ailesinde 2 kişi sivil, 1 kişi genç, 2 kişi de çocuk bileti almıştır. Cemal tren biletlerine kaç TL ödemiştir?
- 16) Şahin kumbarasından 945 kuruş çıktığını söylemiştir. Aslı ise bu paranın TL olarak karşılığını bulmaya çalışmıştır. Şahin'in kumbarasından çıkan para kaç TL, kaç kuruştur?