

\*Alfabedeki eksik harfleri tamamlayınız.

A-B-C-□-D-E-□-G-Ğ-□-□-İ-J-K-□-M  
N-□-□-□-R-S-□-T-□-Ü-□-□-Z

\*Aşağıdaki harflerden sonra gelen harfleri bulun

B □ □      Ğ □ □      M □ □  
Ö □ □      Ş □ □      V □ □

\*Aşağıdaki kelimelerin harf sayılarını yazalım.

kalem □      ikinci □      sandalye □









defter □      kedi □      bilgisayar □

\*Aşağıdaki kelimelerdeki ünlü harfleri yazalım.

sekiz ○○      kart ○      kavanoz ○○○

üçgen ○○      eskici ○○○      keçi ○○

\*Alfabe sırasına göre harfleri yerlerine yazalım.

13 →       8 →       22 →       4 →   
29 →       1 →       17 →       10 → 




## OKU - BOYA

- 1 Buzdolabı ve koltukları yeşile boy.
- 2 Yatağı ve banyo kilimlerini pembeye boy.
- 3 Tabloları ve saksıyı turuncuya boy.
- 4 Mutfak taburelerini ve kapıları sarıya boy.
- 5 Yatak odasının halılarını açık yeşile boy.
- 6 Geri kalan yerleri istediğin gibi boy.




## HER ODADAN 4 TANE EŞYA İSMİ YAZ

	Mutfak	Banyo	Oturma Odası	Yatak Odası
→				
→				
→				
→				



## İpuçları verilen ev eşyalarını yazınız.

Mutfakta kesme işlerini o yapar.	→	
Çiçekleri onun içine koyarız.	→	
Kırışık elbiseleri onunla düzeltiriz.	→	
Yemekleri pişiren eşyadır.	→	
Bebekler onun içinde uyurlar.	→	
Televizyonda kanal değiştirir.	→	
Yatarken üstüne başımızı koyarız.	→	
Su içenin kullandığı cam eşyadır.	→	
Her odada yere serilen eşyadır.	→	
Kendimizi ona bakarak görürüz.	→	
Çorbaı o olmadan içemem.	→	





Merhaba. Benim adım Arif. 8 yaşımdayım. İkinci sınıfa gidiyorum. Benim babam pilottur. Onun adı Faruk. Annem ise doktordur. Onun adı ise Şebnem. Bir ablam ve bir abim var. İsimleri Hülya ve Levent. Ablam müzisyen, abim ise dişçidir.

Benim Derya adında bir halam var. Kendisi öğretmendir. Eşinin ismi ise Aykut'tur. Aykut eniştem askerdir. Onların 2 tane oğlu var. Adları Cüneyt ve Polat'tır. Cüneyt sporcu, Polat ise polistir.

Dedemi ve babaannemi çok seviyorum. Dedemin adı Remzi, babaannemin adı ise Demet'tir. Onların yanına gidebilmek için hafta sonlarını iple çekiyorum. Onların sevimli mi sevimli, Karabaş adında bir köpekleri var.



Metne göre aşağıdaki kişilerin ve köpeğin isimlerini yazınız.



Örnekteki gibi, istenen aile bireylerini yazınız.

Babamın kız kardeşi	→	Hala
Annemizin erkek kardeşi	→	
Babamın annesi	→	
Halamızın oğlu	→	

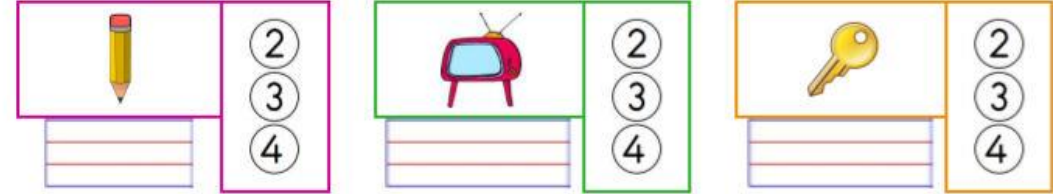
Annemizin kız kardeşi	→	
Babamın erkek kardeşi	→	
Annemizin annesi	→	
Teyzemizin kocası	→	

Kelimelerin kaç harften oluştuğunu örnekteki gibi karşılarına yazınız.

Mart	→	4 harfli
Karınca	→	
Sevgi	→	

Ayakkabı	→	
Patlıcan	→	
Gül	→	

Resimleri verilen kelimeleri yazıp, kaç heceli olduklarını boyayınız.



Tabloda verilen kelimeleri hece sayılarına göre boyayınız. (Ünlü Harf Sayısı = Hece Sayısı)

1 heceliler → Kırmızı	2 heceliler → Sarı	3 heceliler → Mavi	4 heceliler → Yeşil
bayrak	menekşe	otomatik	ben
zil	zeytin	tükenmez	şirket
kalorifer	yumurta	ilk	cumhuriyet

Örnekteki gibi, kelimelerle ilgili etkinliği yapınız.

[www.egitimhane.com](http://www.egitimhane.com)

	Kelime	Ünlü Harfler	Ünsüz Harfler	Heceleme
1	Parıltı	a-ı-ı	p-r-l-t	pa-rıl-tı
2	Kalem			
3	Cetvel			
4	Kars			
5	Gürültü			
6	Salatalık			



✚ Alfabede eksik bırakılan harfleri yazıp ünlü harfleri **maviye** boyayınız.

→	A		Ç		F		Ğ				K
L			O				Ş			V	

✚ Verilen kelimeleri **alfabetik** sıraya göre sıralayınız.

kardeş	1	
zeytin	2	
hediye	3	
benzin	4	

vakit	1	
erkek	2	
masal	3	
sakız	4	

yardım	1	
asker	2	
cimri	3	
lamba	4	

çanta	1	
ülke	2	
iğne	3	
nakit	4	

✚ Verilen harflerle başlayan, **başlıklarla ilgili** kelimeleri yazınız

İNSAN İSMİ
B
L
Ü
G
İ
Ö
D

HAYVAN İSMİ
F
Z
K
Y
S
M
A

MEYVE İSMİ
Ç
P
E
K
A
Ş
M

SEBZE İSMİ
M
K
B
P
H
F
T

EŞYA İSMİ
K
S
T
Ş
D
A
E

• Aşağıda verilen paraların kaç lira veya kaç kuruş olduklarını altına yazınız.



• Aşağıda verilen toplama işleminde verilmeyen toplananları bulunuz.

$$8 + \square = 12$$

$$7 + \square = 10$$

$$10 + \square = 15$$

$$9 + \square = 13$$

$$6 + \square = 11$$

$$5 + \square = 14$$

$$\square + 3 = 12$$

$$\square + 3 = 12$$

$$\square + 10 = 18$$

$$\square + 7 = 20$$

$$\square + 7 = 14$$

$$\square + 0 = 15$$

$$\square + 1 = 10$$

$$\square + 9 = 16$$

$$5 + \square = 17$$

$$9 + \square = 14$$

$$10 + \square = 15$$

$$4 + \square = 20$$

$$3 + \square = 10$$

$$9 + \square = 9$$

$$\square + 5 = 15$$

$$\square + 3 = 11$$

$$\square + 9 = 18$$

$$\square + 10 = 20$$

$$\square + 11 = 17$$

$$\square + 6 = 13$$

$$9 + \square = 12$$

$$5 + \square = 17$$

$$15 + \square = 19$$


$$8 + \square = 16$$

$$7 + \square = 12$$

$$9 + \square = 19$$



- Vagonların sırasını altlarına yazınız.



1.

4. vagonu kırmızıya boyayınız.

2. vagonu maviye boyayınız.

6. vagonu sarıya boyayınız.

3. vagonu yeşile boyayınız.

- Aşağıdaki verilen toplama işlemlerini yapınız.

$$5 + 4 = \dots$$

$$3 + 5 = \dots$$

$$6 + 3 = \dots$$

$$10 + 2 = \dots$$

$$11 + 5 = \dots$$

$$14 + 3 = \dots$$

$$6 + 7 = \dots$$

$$4 + 15 = \dots$$

$$8 + 9 = \dots$$

$$6 + 4 = \dots$$

$$5 + 14 = \dots$$

$$15 + 5 = \dots$$

$$12 + 0 = \dots$$

$$10 + 7 = \dots$$

$$8 + 11 = \dots$$

$$0 + 14 = \dots$$

- Aşağıdaki örnekteki gibi çıkarma işlemi elemanlarını yazarak işlemi yapınız.

$$\begin{array}{r} 15 \rightarrow \text{Eksilen} \\ - 8 \rightarrow \text{Çıkan} \\ \hline \rightarrow \text{Kalan} \end{array}$$

$$\begin{array}{r} 12 \rightarrow \text{Eksilen} \\ - 6 \rightarrow \text{Çıkan} \\ \hline \rightarrow \text{Kalan} \end{array}$$

$$\begin{array}{r} 15 \rightarrow \text{Eksilen} \\ - 4 \rightarrow \text{Çıkan} \\ \hline \rightarrow \text{Kalan} \end{array}$$

$$\begin{array}{r} 19 \rightarrow \text{Eksilen} \\ - 7 \rightarrow \text{Çıkan} \\ \hline \rightarrow \text{Kalan} \end{array}$$

$$\begin{array}{r} 15 \rightarrow \dots \\ - 6 \rightarrow \dots \\ \hline \rightarrow \dots \end{array}$$

$$\begin{array}{r} 19 \rightarrow \dots \\ - 8 \rightarrow \dots \\ \hline \rightarrow \dots \end{array}$$

$$\begin{array}{r} 18 \rightarrow \dots \\ - 12 \rightarrow \dots \\ \hline \rightarrow \dots \end{array}$$

$$\begin{array}{r} 16 \rightarrow \dots \\ - 8 \rightarrow \dots \\ \hline \rightarrow \dots \end{array}$$

İskender07 (İlkokul etkinlikleri)

- Aşağıdaki verilen çıkarma işlemlerini yapınız.

$$9 - 5 = \dots$$

$$8 - 3 = \dots$$

$$7 - 2 = \dots$$

$$10 - 4 = \dots$$

$$12 - 6 = \dots$$

$$14 - 9 = \dots$$

$$17 - 11 = \dots$$

$$20 - 8 = \dots$$

$$19 - 7 = \dots$$

$$10 - 4 = \dots$$

$$14 - 0 = \dots$$

$$13 - 0 = \dots$$

$$8 - 8 = \dots$$

$$15 - 15 = \dots$$

- Aşağıdaki varlıkları tekil ya da çoğul oluşlarına göre örnekteki gibi yazınız.

	balıklar	Çoğul
	mısır	Tekil

İskender07

- Aşağıda verilen kelimelerin yanına tekil ad olanlara (T) çoğul ad olanlara (Ç) yazınız.

masa	kalemler
çiçekler	pil
kedi	ödevler
koyun	meyveler

- Aşağıda satır sonuna sığmayan bazı kelimelerin yanlış ayrılmaları işaretleyiniz.

salı- ncak	çama- gır
tele- fon	çik- olata

- Aşağıda yazımı yanlış kelimeler verilmiştir. doğru olarak yazınız.

zebze	↔	
sipor	↔	
üçken	↔	
bitgisel	↔	
öretmen	↔	
herkez	↔	

- Aşağıda verilen kelimeleri sözlük (alfabetik) sıraya göre sıralayınız.

Nar - Balık - Telefon  
1-) \_\_\_\_\_  
2-) \_\_\_\_\_  
3-) \_\_\_\_\_

Lale - Şimşek - Ceviz  
1-) \_\_\_\_\_  
2-) \_\_\_\_\_  
3-) \_\_\_\_\_

inek - Arı - Örümcek  
1-) \_\_\_\_\_  
2-) \_\_\_\_\_  
3-) \_\_\_\_\_

Pil - Kumanda - Diş  
1-) \_\_\_\_\_  
2-) \_\_\_\_\_  
3-) \_\_\_\_\_



• Aşağıda verilen kelimelerin zıt (karşıt) anlamısını yazınız.

1	Fakir	
2	Yaşlı	
3	Sağ	
4	Ağır	
5	Kuzey	
6	Usta	
7	Soğuk	
8	Ölü	
9	Korkak	
10	Kalabalık	
11	İndirim	
12	Cömert	
13	Tek	
14	Üretim	

www.mebders.com

• Aşağıda verilen kelimelerin eş anlamısını yazınız.

1	Sözcük	
2	Önder	
3	Yaşlı	
4	Hatıra	
5	Tümce	
6	Okul	
7	Cömert	
8	Kırmızı	
9	Öğretmen	
10	Macera	
11	Pis	
12	Nasihat	
13	Islak	
14	Şair	

İskender07

• Aşağıdaki ifadelerden cümle olanları işaretleyiniz.

<input type="checkbox"/>	Ödevlerimi erkenden bitirdim.
<input type="checkbox"/>	Yumurta yere
<input type="checkbox"/>	Hastalanmamak için sağlığınıza
<input type="checkbox"/>	Bir hafta yedi gündür.
<input type="checkbox"/>	Yağmurlu havalarda şemsiye
<input type="checkbox"/>	Saat zamanı ölçen bir araçtır.
<input type="checkbox"/>	Baharın gelişyle birlikte
<input type="checkbox"/>	Bütünden iki yarım elde edilir.
<input type="checkbox"/>	Yarışmalara katılmak çok eğlencelidir.

• Aşağıdaki cümlelerdeki eksik kelimeleri bulup tamamlayalım.

başlar	sevdiğim	çok
bana	tatil	dengeli

Hikaye okumayı ..... seviyorum.

Sağlıklı olmak için ..... beslenmeliyiz.

..... bitince öğretmenime kavuşacağım.

İlkbahar mevsiminde havalar ısınmaya .....

Matematik en ..... derstir.

Babaannem ..... kazak ördü.

• Aşağıda karışık halde verilmiş kelimelerden anlamlı cümleler oluşturalım.

sonu	yaptık	hafta	piknik
.....			
kalkmak	ister	tahtaya	kim
.....			
erkenden	gittim	sabah	okula
.....			
en	değerli	birdir	
insanın	kitap	dostlarından	
.....			
için	alıp	balıklar	
geldi	yem	babam	
.....			

• Aşağıdaki cümleleri kelimelerine ayırıp düzenleyerek yeniden yazınız.

televizyonu çok yakından izlememeliyiz

ellerimizi yemekten önce ve sonra yıkamalıyız

kemiklerimizin gelişimi için her gün süt içirim

• Aşağıda verilen kelimeleri ünlü ve ünsüz harflerine ayırınız.

Sözcük	Ünlü Harfler	Ünsüz Harfler
tornavida	o-a-a-i	t-r-n-v-d
yasemin		
şarkı		
bahar		
karanfil		
tornavida		
abone		
heyecan		

• Aşağıdaki cümlelerde parantez içlerine uygun noktalama işaretini koyunuz.

Müzik dinlemeyi çok severim( )

Silgini verebilir misin ( )

Hasan( ) Efe ve Gökçe ile ders çalıştık ( )

Kırtasiyeden silgi( ) kalem ve boya aldık ( )

Tatilde Konya( )'ya gideceğiz( )

İskender DİŞ  
Sınıf Öğretmeni





## BALIKÇI AYI VE YAVRUSU

Anne ayı iyi bir avcıdır. Bu bilgisini yavrusuna da aktarmak ister... Balık avlarken üç aylık yavru da annesinin yanındadır. Birlikte suya girerler. Anne ayı balık yakalar, birlikte yerler. Bu arada bir gelişme olur. Anne ayı, yakaladığı balığı ağzından düşürür; ancak balık ölüdür, yavru ayı, balığı hemen yakalar!

Bu oyun haftalarca sürer. Anne ayının ağzından düşürdüğü balık her defasında biraz daha canlıdır! Yavru ayı yine de o balıkları yakalar! Suya düşen balıklar her defasında daha canlıdır ama yavru ayı da her gün daha usta bir avcı olmaktadır...

Sonunda yavru ayı kendi başına balık yakalayacak kadar ustalaşır. Anne ayı bunu anlar. Artık kendisinin avını yakalaması için ona balık vermez. Kendi artıklarından yemesini ve çevreden meyve toplamasını engeller... Yanına gelmek isterse onu uzaklaştırır. Yavru ayı aç kalır. Balık yakalar...

### SORULAR

1-) Metinde hangi hayvanlar vardır?

2-) Yavru ayı kaç aylıkken annesiyle balık avlamaya başlar?

3-) Anne ayı, yavrusuna ne öğretmek istemektedir?

4-) Ayılar balıktan başka ne ile beslenirler?

5-) Anne ayı, yavrusuna neden balık vermeyi bırakmıştır?

• Aşağıdaki kelimelerin harf ve hece sayılarını yazalım.

Kelimeler	Hece Sayısı	Harf Sayısı
makas		
pirasa		
Türk		
Cumartesi		
eşofman		

• Aşağıdaki kelimeleri hecelerine ayıralım.

Kelimeler	Heceleri
portakal	
spor	
sağlık	
buzdolabı	
fasulye	

• Aşağıdaki heceleri kullanarak anlamlı kelimeler oluşturalım.

mek - ek	↔	
ce - re - pen	↔	
sı - yı - ka	↔	
gi - yar - sa - bil	↔	

Babam bahçede oturuyor.

Marketten peynir aldım.

Özlem, dişlerini fırçaladı.

Hasta olduğum için ilaç içtim.

Nihal koşarak parka gitti.

Ne?

Niçin?

Nerede?

Kim?

Nasıl?

2. Aşağıdaki cümlelerle ilgili soruları yanıtlayıp noktalı yerlere yazınız.

Kışın hava çok soğuk olur. → Ne zaman?

Dayım yarın gelecek. → Kim?

Atilla çikolata aldı. → Ne?

Acıktığı için simit aldı. → Niçin?

Çocuk ağlayarak yanıma geldi. → Nasıl?

Kuzenim Safranbolu'da oturuyor. → Nerede?



terimden uygun olanını yazınız.



2. Aşağıdaki noktalı yerlere uygun sayıları yazalım.



..... bütün = ..... yarım



..... bütün = ..... yarım



..... bütün = ..... yarım



..... bütün = ..... yarım



..... bütün = ..... yarım



..... bütün = ..... yarım

Aşağıdaki problemleri çözünüz.

1. 15 bardağın 7 tanesi kırıldı. Geriye kaç bardak kaldı?

**Çözüm:**

2. Sema, 18 sayfalık kitabın 8 sayfasını okudu. Geriye okuyacağı kaç sayfa kaldı?

**Çözüm:**

3. Nalan'ın 18 TL parası vardı. Parasının 12 TL'si ile terlik aldı. Geriye kaç lirası kaldı?

**Çözüm:**

4. Bir simitçi 19 simidin 6 tanesini sattı. Geriye kaç simit kaldı?

**Çözüm:**

5. Sınıfımızda 17 öğrenci var. Öğrencilerin 9'u kızdır. Erkek öğrencilerin sayısı kaçtır?

**Çözüm:**



Aşağıdaki problemleri çözünüz.

1. Ali 5, Efe 6 ve Can 8 yaşındadır. Üç kardeşin yaşları toplamı kaçtır?

**Çözüm:**

2. Melis'in 11 TL parası vardı. Annesi 5 TL daha verdi. Melis'in kaç lirası oldu?

**Çözüm:**

3. Elif ile Zeynep'in eşit sayıda kalemi vardır. Elif'in 6 kalemi olduğuna göre Elif ile Zeynep'in toplam kalem sayısı kaçtır?

**Çözüm:**

4. Emre salı günü 9, çarşamba günü 8 sayfa kitap okudu. Emre iki günde toplam kaç sayfa kitap okumuştur?

**Çözüm:**

5. Bir baloncu sabah 8 balon, öğleden sonra 6 balon satıyor. Baloncu bir günde toplam kaç balon satmıştır?

**Çözüm:**

niz. (Bir heceyi birden fazla sozcuk için kullanabilirsiniz.)

sa	ye	li	to
lek	di	me	man
kat	ve	saj	pa
lı	top	mek	ley

●	.....	●	.....
●	.....	●	.....
●	.....	●	.....
●	.....	●	.....

2. Aşağıdaki harflerden bir sonra gelen harfleri yazınız.

c	.....	e	.....	ş	.....	y	.....	i	.....	n	.....
---	-------	---	-------	---	-------	---	-------	---	-------	---	-------

3. Aşağıdaki verilen harfleri sözlük sırasına göre yazınız.

d	a	f	→	.....	.....	.....	o	v	k	→	.....	.....	.....
h	s	k	→	.....	.....	.....	c	a	i	→	.....	.....	.....

4. Aşağıdaki sözcükleri sözlük sırasına göre yazınız.

kitap, defter, okul	→	.....	.....	.....
sıra, masa, kalem	→	.....	.....	.....
elma, armut, vişne	→	.....	.....	.....
vazo, çiçek, gül	→	.....	.....	.....
elbise, gömlek, ayakkabı	→	.....	.....	.....
oyun, ip, top	→	.....	.....	.....



bulunuz.

$$\begin{array}{r} 9 \\ + \\ \hline 14 \end{array}$$

$$\begin{array}{r} \dots\dots\dots \\ + 8 \\ \hline 13 \end{array}$$

$$\begin{array}{r} 6 \\ + \\ \hline 15 \end{array}$$

$$\begin{array}{r} \dots\dots\dots \\ + 7 \\ \hline 16 \end{array}$$

$$\begin{array}{r} 9 \\ + \\ \hline 13 \end{array}$$

$$\begin{array}{r} \dots\dots\dots \\ + 5 \\ \hline 14 \end{array}$$

$$\begin{array}{r} 9 \\ + \\ \hline 11 \end{array}$$

$$\begin{array}{r} \dots\dots\dots \\ + 3 \\ \hline 10 \end{array}$$

$$\begin{array}{r} 8 \\ + \\ \hline 14 \end{array}$$

$$\begin{array}{r} \dots\dots\dots \\ + 9 \\ \hline 16 \end{array}$$

$$\begin{array}{r} 6 \\ + \\ \hline 14 \end{array}$$

$$\begin{array}{r} \dots\dots\dots \\ + 7 \\ \hline 13 \end{array}$$

$$\begin{array}{r} 12 \\ + \\ \hline 15 \end{array}$$

$$\begin{array}{r} \dots\dots\dots \\ + 15 \\ \hline 17 \end{array}$$

$$\begin{array}{r} 10 \\ + \\ \hline 19 \end{array}$$

2. Aşağıdaki toplama işlemlerinde verilmeyen toplananla bulunuz.

$$10 + \dots = 12$$

$$\dots + 3 = 13$$

$$5 + \dots = 9$$

$$\dots + 11 = 13$$

$$9 + \dots = 16$$

$$\dots + 6 = 14$$

$$12 + \dots = 18$$

$$\dots + 7 = 15$$

$$11 + \dots = 17$$

$$\dots + 9 = 10$$

$$8 + \dots = 18$$

$$\dots + 8 = 19$$

3. Aşağıdaki toplama işlemlerini örnekteki gibi yapalım.

$$\begin{array}{r} 8 + 5 \rightarrow 8 + 2 = 10 \\ 2 \quad 3 \quad 10 + 3 = 13 \end{array}$$

$$\begin{array}{r} 7 + 6 \rightarrow \dots + \dots = \dots \\ \dots \quad \dots \quad \dots + \dots = \dots \end{array}$$

$$\begin{array}{r} 9 + 5 \rightarrow \dots + \dots = \dots \\ \dots \quad \dots \quad \dots + \dots = \dots \end{array}$$

$$\begin{array}{r} 6 + 5 \rightarrow \dots + \dots = \dots \\ \dots \quad \dots \quad \dots + \dots = \dots \end{array}$$

1. Verilen sözcüklerdeki ünlü sayılarını yazınız.

cam → .....  
el → .....  
oyun → .....  
ödev → .....

masa → .....  
iki → .....  
ok → .....  
kemer → .....

ekmek → .....  
yedi → .....  
vazo → .....  
koltuk → .....

2. Verilen sözcüklerdeki ünsüz sayılarını yazınız.

kitap → .....  
ağaç → .....  
beş → .....  
dolap → .....

telefon → .....  
elma → .....  
kalem → .....  
karpuz → .....

sıra → .....  
okul → .....  
tebeşir → .....  
ütü → .....

3. Verilen sözcükleri hecelerine ayırarak yazınız.

çiçek → ..... yastık → .....  
oyuncak → ..... şeftali → .....  
otobüs → ..... perde → .....

4. Verilen sözcüklerin hece sayılarını karşılarına yazınız.

cam → ..... kaleci → .....  
arı → ..... çiçekçi → .....  
yatak → ..... kurabiye → .....

5. Verilen görsellerin adlarını hecelerine ayırarak yazınız.



.....



• Terzi, 17 metrelik kumaşın 6 metresini kullandı. Geriye kaç metre kumaş kalmıştır?

• Beyza, 8 yıl önce 7 yaşındaysa şu an kaç yaşındadır?

• Sınıfımızda 19 öğrenci vardır. Öğrencilerden 9 tanesi kızdır. Buna göre sınıfımızda kaç erkek öğrenci vardır?

• 20 sayısının 8 eksiği kaçtır?

• Dün 6 sayfa, bugün ise 9 sayfa ödev yaptım. Toplam kaç sayfa ödev yaptım?

• 1 onluk, 5 birlikten oluşan sayının 4 fazlası kaçtır?

• Cebimde 3 tane 1 TL, 2 tane de 5 TL vardır. Cebimdeki toplam para kaç TL'dir?

• Marketten 4 TL'ye kek aldım. Marketçiye 10 TL verdim. Para üstü ne kadar almalıyım?

• Aşağıdaki zıt anlamlı kelimeleri bulup aynı renge boyayalım.

dost

yeni

savaş

eski

taze

düşman

barış

bayat

gece

sıcak

soğuk

gündüz

cimri

sabah

akşam

cömert

ödül

zengin

zor

evli

bekar

kolay

fakir

ceza

kış

acı

sol

sağ

yaz

artı

eksi

tatlı

tembel

yaşlı

genç

usta

inmek

çıkmaq

çalışkan

acemi

iç

öz

çok

temiz

dış

az

kirli

üvey

@hatem.şefika\_ogrtmn



- Aşağıdaki alt alta toplama işlemlerini yapalım.

$$\begin{array}{r} 7 \\ +8 \\ \hline \end{array} \quad \begin{array}{r} 12 \\ +3 \\ \hline \end{array} \quad \begin{array}{r} 10 \\ +4 \\ \hline \end{array} \quad \begin{array}{r} 9 \\ +8 \\ \hline \end{array}$$

- Aşağıdaki alt alta çıkarma işlemlerini yapalım.

$$\begin{array}{r} 12 \\ -5 \\ \hline \end{array} \quad \begin{array}{r} 9 \\ -4 \\ \hline \end{array} \quad \begin{array}{r} 7 \\ -0 \\ \hline \end{array} \quad \begin{array}{r} 18 \\ -7 \\ \hline \end{array}$$

- Aşağıdaki toplama işlemlerinde verilmeyen toplananı bulalım.

$$\begin{array}{r} 3 \\ +\square \\ \hline 10 \end{array} \quad \begin{array}{r} 10 \\ +\square \\ \hline 15 \end{array} \quad \begin{array}{r} \square \\ +4 \\ \hline 12 \end{array} \quad \begin{array}{r} \square \\ +8 \\ \hline 14 \end{array}$$

- Tarık ilk gün 13 sayfa, ikinci gün ise 6 sayfa kitap okumuştur. İki günde kaç sayfa kitap okumuştur?

- Aşağıdaki yan yana toplama işlemlerini yapalım.

$$\begin{array}{l} 12+5= \\ 3+9= \end{array} \quad \begin{array}{l} 11+0= \\ 3+13= \end{array}$$

- Aşağıdaki yan yana çıkarma işlemlerini yapalım.

$$\begin{array}{l} 16-4= \\ 5-5= \end{array} \quad \begin{array}{l} 20-10= \\ 11-8= \end{array}$$

- Aşağıdaki toplama işlemlerinde verilmeyen toplananı bulalım.

$$\begin{array}{l} \square+6=10 \\ \square+3=7 \end{array} \quad \begin{array}{l} 12+\square=12 \\ 9+\square=13 \end{array}$$

- Okulumuzda 8 bayan öğretmen, 8 tane de erkek öğretmen vardır. Okulumuzda toplam kaç öğretmen vardır?

- Aşağıdaki kelimeleri hecelerine ayırınız.

salata→	fasulye→
dörtlük→	akşam→
tencere→	kalabalık→

- Aşağıdaki kelimelerden bir heceli olanları sarıya, iki heceli olanları kırmızıya, üç heceli olanları maviye boyayınız.

kalemlik	koltuk	ikili
balta	dert	sarımsak
yol	kelebek	silgi

- Aşağıda heceleri karışık şekilde verilen kelimeleri bulunuz.

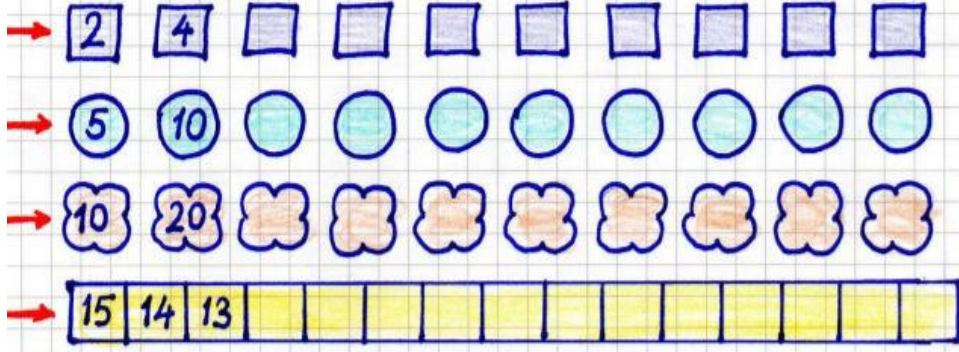
rık	şı	ma	pe	ne	ka	gi	sa	bil	yar
-----	----	----	----	----	----	----	----	-----	-----

- Aşağıdaki tabloyu doldurunuz.

KELİMELER	SESİ HARFLER	HECELER	HECE SAYISI
zürafa			
çikolata			
ırmak			
iki			
arkadaş			



1- Aşağıda verilen ritmik saymaları devam ettirelim.



2- Aşağıdaki sayı grupları içersindeki sayılardan en büyük olanı maviye, en küçük olanı kırmızıya boyayalım.

13 8 10 4

20 6 9 11

8 7 9 6

2 18 7 13

17 25 10 20

19 16 18 17

3- Aşağıdaki toplama ve çıkarma işlemlerini yapalım

$$\begin{array}{r} 7 \\ + 8 \\ \hline \end{array}$$
$$\begin{array}{r} 11 \\ + 5 \\ \hline \end{array}$$
$$\begin{array}{r} 16 \\ - 7 \\ \hline \end{array}$$
$$\begin{array}{r} 5 \\ + 9 \\ \hline \end{array}$$
$$\begin{array}{r} 17 \\ - 8 \\ \hline \end{array}$$
$$\begin{array}{r} 12 \\ + 0 \\ \hline \end{array}$$

4- Aşağıdaki verilmeyenli toplama işlemlerini yapalım.

$$\begin{array}{r} 6 \\ + \square \\ \hline 10 \end{array}$$
$$\begin{array}{r} 3 \\ + \square \\ \hline 12 \end{array}$$
$$\begin{array}{r} \square \\ + 8 \\ \hline 14 \end{array}$$
$$\begin{array}{r} \square \\ + 13 \\ \hline 13 \end{array}$$
$$\begin{array}{r} 11 \\ + \square \\ \hline 20 \end{array}$$

Defne'nin sekiz tane kurşun kalemi vardı. Arkadaşı Umut, Defne'ye üç tane daha kurşun kalem verdi. Defne'nin kaç kalemi oldu?



Derya'nın on iki tane muz vardır. Annesi Derya'ya beş tane daha muz verdi. Derya'nın kaç muz oldu?



Ada bayramda ninesinden on üç lira aldı. Beş lira da cebinde vardı. Ada'nın kaç lirası oldu?



Bir dolmuşta dokuz yolcu vardı. Birinci durakta altı kişi bindi. Dolmuşta kaç kişi oldu?





yaz	yeni	tatlı	siyah
son	sonra	uzak	yakın
kötü	kış	hafif	temiz
önce	ilk	beyaz	acı
eski	iyi	kirli	ağır



Kelimelerin zıt anlamlılarını yazalım.

ince	erken
güzel	bayat
uzun	yaşlı
büyük	zor
zayıf	soru
kolay	doğru
zengin	sıcak
ödül	ince
geri	hızlı

1. Ece'nin 9, Ali'nin 7 balonu var. İkisinin toplam kaç balonu vardır?

2. Aslının 8 kalemi vardı. Annesi ona 3 kalem daha verdi. Aslının kaç kalemi oldu?

3. Ersin 7 yaşındadır. Abisi Ersin'den 5 yaş büyüktür. Abisi kaç yaşındadır?

4. Otobüste 12 yolcu vardı. Durakta 5 yolcu daha bindi. Kaç yolcu oldu?

5. Kümeste 11 tavuk, 8 de civciv vardır. Kümeste kaç hayvan vardır?

6. Bir torbada 10 mavi, 5 sarı boncuk vardır. Torbada kaç boncuk vardır?



1. Bir manav 12 karpuzun 7 tanesini sattı. Geriye kaç karpuzu kalmıştır?

2. Partideki 16 balonun 6 tanesi patladı. Geriye kaç balon kalmıştır?

3. Ahmet'in 14 tane misketi var. 9 tanesini Ömer'e verirse kaç misketi kalır?






4. Kümeste 13 tavuk, tavuklardan 4 eksik horoz vardır. Kümeste kaç horoz vardır?






5. Eda, 10 yaşındadır. Seda Eda'dan 3 yaş küçüktür. Seda kaç yaşındadır?

6. Sahra'nın 15 lirası vardı. 8 lirası ile ekmek aldı. Kaç lirası kaldı?

faruk	yedi	ekmek	çikolatalı	→	
alacağım	para	top	biriktirip	→	
alışverişe	şeyma	gidecek	yarın	→	

Resimleri verilen nesnelerle ilgili etkinliği örnekteki gibi yapınız

					
ismi	→ pencere				
ünlü harfler	→ e-e-e				
hece sayısı	→ 3				
heceleme	→ pen-ce-re				

					
ismi	→				
ünlü harfler	→				
hece sayısı	→				
heceleme	→				

Eksik bırakılan kutuları tamamlayınız.

→	Pazartesi		Çarşamba			Cumartesi	
→	bir		üç			yedi	on
→	A		Ç		F	Ğ	K
L		O			Ş		V