

## ALFABE ÇALIŞMA SAYFASI

\*Alfabadeki eksik harfleri tamamlayınız.

A-B-C-□-D-E-□-G-Ğ-□-□-İ-J-K-□-M  
N-□-□-□-R-S-□-T-□-Ü-□-□-Z

\*Aşağıdaki harflerden sonra gelen harfleri bulalım.

B □ □      Ğ □ □      M □ □  
Ö □ □      Ş □ □      V □ □









\*Aşağıdaki kelimelerin harf sayılarını yazalım.

kalem □      ikinci □      sandalye □  
defter □      kedi □      bilgisayar □

\*Aşağıdaki kelimelerdeki ünlü harfleri yazalım.

sekiz ○○      kart ○      kavanoz ○○○  
üçgen ○○      eskici ○○○      keçi ○○

\*Alfabe sırasına göre harfleri yerlerine yazalım.

13 →       8 →       22 →       4 →   
29 →       1 →       17 →       10 → 



# MATEMATİK GENEL TEKRAR ÇALIŞMASI

1- Aşağıda verilen ritmik saymaları devam ettirelim.

→ 

2	4								
---	---	--	--	--	--	--	--	--	--

→ 

5	10								
---	----	--	--	--	--	--	--	--	--

→ 

10	20								
----	----	--	--	--	--	--	--	--	--

→ 

15	14	13												
----	----	----	--	--	--	--	--	--	--	--	--	--	--	--

2- Aşağıdaki sayı grupları içersindeki sayılardan en büyük olanı maviye, en küçük olanı kırmızıya boyayalım.

13	8	10	4
----	---	----	---

20	6	9	11
----	---	---	----

8	7	9	6
---	---	---	---

2	18	7	13
---	----	---	----

17	25	10	20
----	----	----	----

19	16	18	17
----	----	----	----

3- Aşağıdaki toplama ve çıkarma işlemlerini yapalım

$$\begin{array}{r} 7 \\ + 8 \\ \hline \end{array}$$

$$\begin{array}{r} 11 \\ + 5 \\ \hline \end{array}$$

$$\begin{array}{r} 16 \\ - 7 \\ \hline \end{array}$$

$$\begin{array}{r} 5 \\ + 9 \\ \hline \end{array}$$

$$\begin{array}{r} 17 \\ - 8 \\ \hline \end{array}$$

$$\begin{array}{r} 12 \\ + 0 \\ \hline \end{array}$$

4- Aşağıdaki verilmeyenli toplama işlemlerini yapalım.

$$\begin{array}{r} 6 \\ + \square \\ \hline 10 \end{array}$$

$$\begin{array}{r} 3 \\ + \square \\ \hline 12 \end{array}$$

$$\begin{array}{r} \square \\ + 8 \\ \hline 14 \end{array}$$

$$\begin{array}{r} \square \\ + 13 \\ \hline 13 \end{array}$$

$$\begin{array}{r} 11 \\ + \square \\ \hline 20 \end{array}$$



## HECE ÇALIŞMA SAYFASI

→ Aşağıdaki kelimeleri hecelerine ayırınız.

salata→

fasulye→

dörtlük→

akşam→

tencere→

kalabalık→

→ Aşağıdaki kelimelerden bir heceli olanları sarıya, iki heceli olanları kırmızıya, üç heceli olanları maviye boyayınız.

kalemlik

koltuk

ikili

balta

dert

sarımsak

yol

kelebek

silgi

→ Aşağıda heceleri karışık şekilde verilen kelimeleri bulunuz.

rık	şı	ma

pe	ne	ka

gi	sa	bil	yar

→ Aşağıdaki tabloyu doldurunuz.

KELİMELER	SESLİ HARFLER	HECELER	HECE SAYISI
zürfa			
çikolata			
ırmak			
iki			
arkadaş			



# 1. SINIF MATEMATİK TEKRAR SAYFASI

- Aşağıdaki alt alta toplama işlemlerini yapalım.

$$\begin{array}{r} 7 \\ +8 \\ \hline \end{array} \quad \begin{array}{r} 12 \\ +3 \\ \hline \end{array} \quad \begin{array}{r} 10 \\ +4 \\ \hline \end{array} \quad \begin{array}{r} 9 \\ +8 \\ \hline \end{array}$$

- Aşağıdaki yan yana toplama işlemlerini yapalım.

$$12+5= \quad 11+0=$$
$$3+9= \quad 3+13=$$

- Aşağıdaki alt alta çıkarma işlemlerini yapalım.

$$\begin{array}{r} 12 \\ -5 \\ \hline \end{array} \quad \begin{array}{r} 9 \\ -4 \\ \hline \end{array} \quad \begin{array}{r} 7 \\ -0 \\ \hline \end{array} \quad \begin{array}{r} 18 \\ -7 \\ \hline \end{array}$$

- Aşağıdaki yan yana çıkarma işlemlerini yapalım.

$$16-4= \quad 20-10=$$
$$5-5= \quad 11-8=$$

- Aşağıdaki toplama işlemlerinde verilmeyen toplananı bulalım.

$$\begin{array}{r} 3 \\ +\square \\ \hline 10 \end{array} \quad \begin{array}{r} 10 \\ +\square \\ \hline 15 \end{array} \quad \begin{array}{r} \square \\ +4 \\ \hline 12 \end{array} \quad \begin{array}{r} \square \\ +8 \\ \hline 14 \end{array}$$

- Aşağıdaki toplama işlemlerinde verilmeyen toplananı bulalım.


$$\square+6=10 \quad 12+\square=12$$
$$\square+3=7 \quad 9+\square=13$$

- Tarık ilk gün 13 sayfa, ikinci gün ise 6 sayfa kitap okumuştur. İki günde kaç sayfa kitap okumuştur?

- Okulumuzda 8 bayan öğretmen, 8 tane de erkek öğretmen vardır. Okulumuzda toplam kaç öğretmen vardır?



# SESİ (ÜNLÜ) HARFLER ETKİNLİĞİ



Verilen sesli harflerle ilgili 3'er tane kelime bulalım.



a

1. ....  
2. ....  
3. ....



e

1. ....  
2. ....  
3. ....



ı

1. ....  
2. ....  
3. ....



i

1. ....  
2. ....  
3. ....



o

1. ....  
2. ....  
3. ....



ö

1. ....  
2. ....  
3. ....



u

1. ....  
2. ....  
3. ....



ü

1. ....  
2. ....  
3. ....



# HAYAT BİLGİSİ TEKRAR SAYFASI-1

• Aşağıdaki cümlelerden doğru olanlara "D", yanlış olanlara "Y" yazalım.

☐ Sadece bize benzeyen çocukları sevmeliyiz.

☐ Okul servisinde ayakta yolculuk yapabiliriz.

☐ Yolum karşısına geçerken yaya geçidini kullanmalıyız.

☐ Emniyet kemeri takmalıyız.

• Aşağıdakilerden hangisi şeref köşesinde bulunur?

A) Takvim

B) Türk Bayrağı

C) Mevsim şeridi

• Aşağıdakilerden hangisi okul çalışanlarından değildir?

A) Okul Müdürü

B) Hizmetli

C) Berber

• Aşağıdaki eşyalardan sınıfta bulunanları yeşile, bulunmayanları kırmızıya boyayalım.

Türk Bayrağı

yazı tahtası

sehpa

halı

kitaplık

pano

tencere

• Aşağıdakilerden hangisi bir nezaket ifadesi değildir?

A) Lütfen

B) Buraya gel

C) İyi günler

• Aşağıdakilerden hangisi yanlıştır?

A) Çöpleri, çöp kutusuna atarım.

B) Sınıfta yüksek sesle konuşurum.

C) Sınıf içersinde koşmam.



## CÜMLE OLUŞTURALIM

- Aşağıdaki karışık şekilde verilen kelimelerle anlamlı cümleler oluşturalım.

kırmızı

aldım

biber

→

topladı

çiçek

ablam

→

erken

sabah

uyandım

→

Mert

çizdi

resim

→

elma

üç

aldım

kilo

→

gördüm

kedi

sevimli

bahçede

→

çok

dinlemeyi

seviyorum

müzik

→

kıyafet

aldık

yeni

kardeşime

→



# MATEMATİK TEKRAR TESTİ

$$2-4-\square-8-10-\square$$

→ Boş bırakılan yerlere hangi sayılar yazılmalıdır?

- ☐ 6-11    ☐ 5-12    ☐ 6-12

→ Aşağıdaki toplama işlemlerinin hangisinin sonucu farklıdır?

$$\begin{array}{r} 7 \\ + 8 \\ \hline \end{array}$$

$$\begin{array}{r} 10 \\ + 6 \\ \hline \end{array}$$

$$\begin{array}{r} 12 \\ + 3 \\ \hline \end{array}$$

$$5-13-8-17-11-19-2$$

→ Yukarıdaki sayılardan kaç tanesi 10'dan büyüktür?

- ☐ 4    ☐ 5    ☐ 6

→ 2 onluktan oluşan sayı kaçtır?

- ☐ 22    ☐ 20    ☐ 2

$$12-7=\star$$

$$9-5=\Delta$$

→ Yukarıdaki işlemlere göre  $\star + \Delta$  kaç eder?


- ☐ 8    ☐ 9    ☐ 10

→ Aşağıdaki çıkarma işlemlerinden hangisinde yanlışlık yapılmıştır?

$$\begin{array}{r} 14 \\ - 8 \\ \hline 7 \end{array}$$

$$\begin{array}{r} 9 \\ - 3 \\ \hline 6 \end{array}$$

$$\begin{array}{r} 16 \\ - 5 \\ \hline 11 \end{array}$$



→ 20'den geriye ikişer sayarsak boyalı kutuya hangi sayı gelir?

- ☐ 15    ☐ 12    ☐ 10

$$5 \quad 10 \quad 12 \quad 3 \quad 7$$

→ Yukarıdaki sayıların en büyüğü ile en küçüğün toplamı kaçtır?

- ☐ 22    ☐ 17    ☐ 15

$$\begin{array}{r} 12 \\ - 5 \\ \hline \square \end{array} \quad \begin{array}{r} \square \\ + 3 \\ \hline ? \end{array}$$

→ Yukarıdaki "?" yerine gelecek sayı kaçtır?

- ☐ 20    ☐ 10    ☐ 4



→ Yukarıdaki elmaların 4 tanesi çürürse geriye kaç elma kalır?

- ☐ 2    ☐ 3    ☐ 4



## ZIT ANLAMLI KELİMELER ETKİNLİK SAYFASI

- Aşağıdaki zıt anlamlı kelimeleri bulup aynı renge boyayalım.

dost	yeni
savaş	eski
taze	düşman
barış	bayat

kış	acı
sol	sağ
yaz	artı
eksi	tatlı

gece	sıcak
soğuk	gündüz
cimri	sabah
akşam	cömert

@hatem.şefika-ogrtmn

tembel	yaşlı
genç	usta
inmek	çıkmaq
çalışkan	acemi

ödül	zengin
zor	evli
bekar	kolay
fakir	ceza

iç	öz
çok	temiz
dış	az
kirli	üvey



# TOPLAMA VE ÇIKARMA İŞLEMİ PROBLEMLERİ

- Terzi, 17 metrelik kumaşın 6 metresini kullandı. Geriye kaç metre kumaş kalmıştır?

- Beyza, 8 yıl önce 7 yaşındaysa şu an kaç yaşındadır?

- Sınıfımızda 19 öğrenci vardır. Öğrencilerden 9 tonesi kızdır. Buna göre sınıfımızda kaç erkek öğrenci vardır?

- 20 sayısının 8 eksiği kaçtır?

- Dün 6 sayfa, bugün ise 9 sayfa ödev yaptım. Toplam kaç sayfa ödev yaptım?

- 1 onluk, 5 birlikten oluşan sayının 4 fazlası kaçtır?

- Cebimde 3 tane 1 TL, 2 tane de 5 TL vardır. Cebimdeki toplam para kaç TL'dir?

- Marketten 4 TL'ye kek aldım. Marketçiye 10 TL verdim. Para üstü ne kadar almalıyım?