

*Aşağıdaki kelimeleri sözlük sırasına göre sıralayalım.

kestane	marul
fasulye	muz
ceviz	maydanoz
çay	limon
etek	nane
balık	lahana

*Aşağıdaki verilen kelimeleri hecelerine ayıralım.

günaydın →
salatalık →
greyfurt →
kavuniçi →
yakınlık →

*Güvenli oyun alanlarından 3 tanesini yazalım

1-

2-

3-

*Güvenli olmayan alanlardan 2 tanesini yazalım.

1-

2

*Aşağıdaki toplama ve çıkarma işlemlerinde verilmeyenleri bulalım.

$$\begin{array}{r} \square \\ +27 \\ \hline 62 \end{array}$$

$$\begin{array}{r} 80 \\ -\square \\ \hline 35 \end{array}$$

$$\begin{array}{r} 47 \\ +\square \\ \hline 60 \end{array}$$

$$\begin{array}{r} \square \\ -23 \\ \hline 27 \end{array}$$

$$\begin{array}{r} \square \\ +17 \\ \hline 41 \end{array}$$

$$\begin{array}{r} 64 \\ -\square \\ \hline 19 \end{array}$$

*Aşağıdaki sayıları en yakın onluğa yuvarlayalım.

43 →

77 →

94 →

19 →

28 →

35 →

*Bir manav elindeki karpuzlardan 27 tanesini sattığında geriye 15 karpuz kalıyor. Manavda ilk başta kaç tane karpuz vardır?

*32'den başlayarak geriye doğru dörder ritmik sayarken 3. ve 5 saymada söylediğimiz sayıların farkı kaçtır?

1) Aşağıdaki cümlelerden hangisi daha fazla heceden oluşmaktadır?


- A) Bir fincan kahve içtim.
B) Melisa okula geç kaldı.
C) Tarık top aldı.

$$6 \text{ bölü } 1 = 1$$

$$7 \text{ çarpı } 0 = 6$$

$$4 \text{ bölü } 4 = 0$$

5) İşlemler ile sonuçları eşleştirdiğimizde hangi şekle ulaşırız?



- Robot • Mardin • İsmet
- Almanya • Kanepe • Şeftali

2) Yukarıdaki kelimelerden kaç tanesi özel isimdir?

- A) 3 B) 4 C) 5

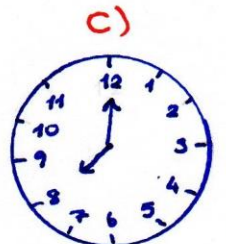

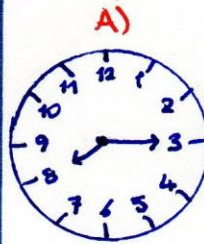
6) 16 sayısının çeyreğinin 6 katı kaçtır?

- A) 4
B) 21
C) 24

3) Aşağıdaki eşleştirmelerden hangisi anlam ilişkisine göre diğerlerinden farklıdır?

- A) ak-kara
B) özlem-hasret
C) aynı-farklı

7) Aşağıdakilerden hangisinde saat 08.15'i gösterir?



4) Aşağıdaki ifadelerden hangisi yanlıştır?

- A) Taşıtlar durmadan taşıtan inmemeliyiz.
B) Taşıtlara sırayla binmeliyiz.
C) Araçlarda şoförle sohbet etmeliyiz.

8) Sınıfımızda 18 öğrenci vardır. Her sırada 2 öğrenci oturduğuna göre sınıfımızda kaç sıra vardır?

- A) 6
B) 9
C) 20

* Aşağıdaki ayraçla belirtilen boşluklara uygun noktalama işaretlerini yazalım.

→ Sabah saat kaçta uyandın ()

→ Yarın Mersin'e gideceğiz ()

→ Eyvah () binada yangın çıktı ()

→ Elma () nar ve muz aldık ()

→ Yaşasın () Biz kazandık ()

→ Bursa () da kim 1 () olmur

* Birler basamağı 4, onlar basamağı 7 olan sayı ile onlar basamağı 3, birler basamağı 6 olan sayıyı toplarsak sonuç kaç olur?

* 12'den başlayarak ileriye doğru 3'er ritmik sayma yaparken 7. saymada söylediğimiz sayı ile 50'ye yuvarlanabilen en küçük sayıyı toplarsak sonuç kaç olur?

* Tarık'ın yaşı 1 deste ile 1 düzinenin toplamına eşittir. Abisinin yaşı ise Tarık'ın yaşından 18 fazladır. Buna göre yaşları toplamı kaçtır?

* Buket, 72 sayfalık kitabın 37 sayfasını okumuştur. Geriye kalan sayfaları 5 günde bitirmesi gerekiyor. Hergün kaç sayfa okumalıdır?


* Ulaşım araçlarından üçer tane yazalım.

- KARA YOLU -

- HAVA YOLU -

- DENİZ YOLU -

- DEMİR YOLU -

 seviyor  matematik
 dersini  Asiye

2) Yukarıdaki kelimelerden anlamlı ve kurallı bir cümle kurarsak sıralama nasıl olur?

A)     B)     C)    

$$\begin{array}{r}
 12 - 4 = 8 \\
 8 - 4 = 4 \\
 4 - 4 = 0
 \end{array}$$

5) Yukarıdaki ardışık çıkarma işleminin kısa yoldan yapılışı aşağıdakilerden hangisidir?

A) $12 \div 3$

B) 12×4

C) $12 \div 4$

"Öğretmenim beni uyardı."

2) Altı çizili kelimenin eş anlamlısı hangi cümlede vardır?

A) Ayşe dikkatini toplayamadı.

B) Öğretmen beni ikaz etti.

C) Yarışma duyurusu yapıldı.

6) Bir bölme işleminde bölen ile bölümün toplamı 8'dir. Bölen 3 olduğuna göre bölünen kaçtır?

A) 5

B) 11

C) 15

çalışkan kalp kaliteli

ot

salyangoz



3) Hece sayısı aynı olan kelimeleri eşleştirdiğimizde hangi kelime dışta kalır?

A) ot

B) kaliteli

C) salyangoz

16 çeyrek  yarım
 bütün

7) Verilenlere göre  \times  kaçtır?

A) 12

B) 32




C) 36

4) Ülkemiz ile ilgili verilen bilgilerden hangisi yanlıştır?

A) Japonya komşu ülkemizdir.

B) Başkentimiz Ankara'dır.

C) Ülkemizin Asya ve Avrupa kıtasında toprakları vardır.

X	1	3	4
0			
2			

8) Yukarıdaki işleme göre  +  +  kaçtır?

A) 10

B) 8

C) 5

*Aşağıdaki kelimeleri satır sonunda uygun yerlerinden ayıralım.

kayık	<input type="text"/>	araba	<input type="text"/>
yarasa	<input type="text"/>	üçüncü	<input type="text"/>
saat	<input type="text"/>	eldiven	<input type="text"/>
sekiz	<input type="text"/>	yoğurt	<input type="text"/>

*Aşağıdaki çarpma işlemlerini yapalım?

$\begin{array}{r} 3 \\ \times 7 \\ \hline \end{array}$	$\begin{array}{r} 4 \\ \times 5 \\ \hline \end{array}$	$\begin{array}{r} 0 \\ \times 8 \\ \hline \end{array}$	$\begin{array}{r} 3 \\ \times 3 \\ \hline \end{array}$
$\begin{array}{r} 9 \\ \times 1 \\ \hline \end{array}$	$\begin{array}{r} 5 \\ \times 8 \\ \hline \end{array}$	$\begin{array}{r} 1 \\ \times 3 \\ \hline \end{array}$	$\begin{array}{r} 4 \\ \times 7 \\ \hline \end{array}$
$\begin{array}{r} 3 \\ \times 9 \\ \hline \end{array}$	$\begin{array}{r} 5 \\ \times 5 \\ \hline \end{array}$	$\begin{array}{r} 10 \\ \times 0 \\ \hline \end{array}$	$\begin{array}{r} 2 \\ \times 5 \\ \hline \end{array}$
$4 \times 2 = \dots$	$6 \times 1 = \dots$	$9 \times 2 = \dots$	

*Ülkemize komşu ülkeleri yazalım.

1 <input type="text"/>	5 <input type="text"/>
2 <input type="text"/>	6 <input type="text"/>
3 <input type="text"/>	7 <input type="text"/>
4 <input type="text"/>	8 <input type="text"/>

*Birler basamağı 2, onlar basamağı 5 olan sayının 44 eksiğinin 3 katı kaçtır?

*Ülkemizin etrafındaki denizlerin isimlerini yazalım.

→ <input type="text"/>	→ <input type="text"/>
→ <input type="text"/>	→ <input type="text"/>

*İbrahim'in yaşı 9'dur. Ablasının yaşı ise İbrahim'in yaşının 3 katından 8 eksiktir. İkisinin yaşları toplamı kaçtır?

1) Aşağıdaki altı çizili kelimelerden hangisinin yazımı yanlıştır?

- A) Babam traş oldu.
- B) Ailecek film izledik.
- C) Herkes geziye geliyor.

2) Aşağıdaki deyimlerden hangisinin anlamı yanlış verilmiştir?

- A) Ödü patlamak - Çok korkmak
- B) Can atmak - Çok acıkmak
- C) Burnunda tutmek - Çok özlemek

Kübra bahçede ip atlıyor.

3) Yukarıdaki cümlede aşağıdaki sorulardan hangisinin cevabı yoktur?

- A) Kim? B) Nerede? C) Ne zaman?

4) Aşağıdakilerden hangisi hayvansal besin değildir?

- A) ekmek
- B) peynir
- C) süt

5) Aşağıdaki eşleştirmelerden hangisi yanlıştır?

- A) 2 bütün = 8 çeyrek
- B) 8 yarım = 4 bütün
- C) 6 çeyrek = 4 yarım

6) Hakan'ın 1 desteden 3 eksik balonu, Zeynep'in ise 1 düzineden 5 fazla balonu vardır. İkisinin balonları toplamı kaçtır?

- A) 7
- B) 17
- C) 24

$$21 \div 3 = \star$$

$$12 \div 4 = \bigcirc$$

7) Yukarıdaki işlem sonucuna göre $\star \times \bigcirc$ kaçtır?

- A) 10
- B) 21
- C) 28

8) Yılmaz kumbarasına günde 6 TL atarak 2 günde biriktirdiği parayı 3 günde harcamıştır. Yılmaz günde kaç TL harcamıştır?

- A) 4 B) 3
- C) 2

* Aşağıdaki eş anlamlı kelimelerin eşlerini bulup aynı numaraları yazalım.

- | | |
|----------|----------|
| 1 görev | kuvvetli |
| 2 özlem | ikaz |
| 3 duyuru | ilan |
| 4 uyarı | vazife |
| 5 gayret | hasret |
| 6 güçlü | mektep |
| 7 okul | çaba |

* Aşağıdaki bölme işlemlerini yapalım.

$24 \overline{)4}$	$30 \overline{)5}$	$14 \overline{)2}$
$27 \overline{)3}$	$8 \overline{)1}$	$45 \overline{)5}$
$20 \overline{)4}$	$18 \overline{)3}$	$24 \overline{)6}$
$8 \div 8 = \dots$	$12 \div 4 = \dots$	$13 \div 1 = \dots$
$15 \div 5 = \dots$	$27 \div 3 = \dots$	$8 \div 2 = \dots$

* Aşağıdaki soruların cevaplarını yazalım.

→ Atatürk'ün annesinin adı nedir?

*

→ Atatürk'ün mezarı nerededir?

*

→ Atatürk'ün babasının adı nedir?

*

→ Atatürk nerede doğmuştur?

*

→ Kemal ismini kim koymuştur?

*

* Melike, 52 sayfalık kitabın 16 sayfasını okumuştur. Geriye kalan sayıları günde 4 sayfa okuyarak kaç günde bitirir?

* 40'a yuvarlanabilen en küçük sayının 7 eksikini 4 bölersen sonuç kaç olur?

ilan-duyuru	neşe-sevinç
siyah-kara	kelime-sözcük
yürek-kalp	usta-acemi

1) Eş anlamlı kelimeleri boyadı.
 ğımızda hangi kelimeler dışta kalır?
 A) ilan-duyuru
 B) usta-acemi
 C) yürek-kalp

2) Aşağıdaki deyimlerden hangisi çok sevinmek anlamına gelir?

- A) Etekleri tutuşmak
 B) Kafasına koymak
 C) Zil takip oynamak

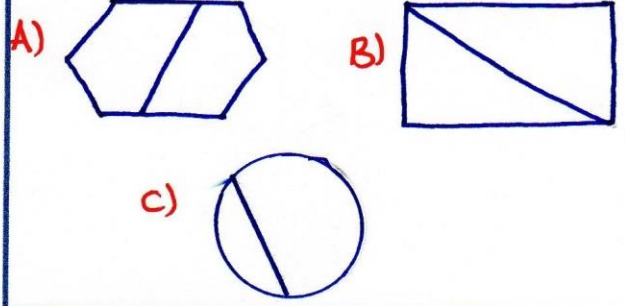
3) Satır sonuna sığmayan birleşik kelimelerden hangisi yanlış ayrılmıştır?

- A) kızıl-
lay B) Ke-
loğlan C) hanım-
eli

4) Atatürk ile ilgili verilen bilgilerden hangisi yanlıştır?

- A) Kemal adını Türkçe öğretmeni vermiştir.
 B) Selanik'te doğmuştur.
 C) Annesinin adı Zübeyde Hanım'dır.

5) Aşağıdakilerden hangisi iki eş parçaya ayrılmıştır?



6) Elif'in yaşı 24'tür. Ablesi Elif'ten 6 yaş büyüktür. Buna göre ikisinin yaşları toplamı kaçtır?

- A) 30
 B) 42
 C) 54

$$40 + 20 = 10 + \square$$

7) Eşitliğe göre \square yerine aşağıdaki sayılardan hangisi gelmelidir?

- A) 40
 B) 50
 C) 60

$$\begin{array}{r} \square \\ + 11 \\ \hline 42 \end{array} \quad \begin{array}{r} 26 \\ - \heartsuit \\ \hline 12 \end{array}$$

8) İşlem sonucuna göre $\square + \heartsuit$ kaçtır?

- A) 45 B) 31
 C) 12

* Aşağıdaki kelimelerin zıt anlamlarını yazalım.

cömert	→	
doğal	→	
bayat	→	
evli	→	
alçak	→	
katı	→	
kuzey	→	
geniş	→	
eksik	→	

* Aşağıdaki bütün, yarım ve çeyrek dönüşümlerini yapalım.

$$3 \text{ bütün} = \dots \text{ yarım}$$

$$12 \text{ çeyrek} = \dots \text{ yarım}$$

$$8 \text{ yarım} = \dots \text{ bütün}$$

$$12 \text{ çeyrek} = \dots \text{ bütün}$$

$$3 \text{ bütün} + 3 \text{ yarım} = \dots \text{ yarım}$$

$$1 \text{ bütün} + 1 \text{ yarım} = \dots \text{ çeyrek}$$

$$8 \text{ çeyrek} + 2 \text{ yarım} = \dots \text{ bütün}$$

* Aşağıdaki tarihleri verilen milli bayram ve milli günleri yazalım.

19 Mayıs →

23 Nisan →

29 Ekim →

30 Ağustos →

15 Temmuz →

* Ahmet, 32 cevizin çeyreğini kardeşine vermiştir. Ahmet'in geriye kaç cevizi kalmıştır?

* 16 sayısının çeyreği ile 28 sayısının yarısının çarpımı kaçtır?

meyva şoför ezzane
düğme matematik sipor

1) Yazımında yanlışlık yapılan kaç kelime vardır?

- A) 3
B) 4
C) 5

2) Aşağıdakilerin hangisinde kesme işareti yanlış kullanılmıştır?

- A) Ebru'nun
B) Batman'da
C) Isparta'lı

① boya bilezik ②
③ bamyâ bebek ④

3) Yukarıdaki kelimelerin sözlük sıralaması hangisidir?

- A) 3-4-2-1 B) 1-2-3-4
C) 3-4-1-2

4) Aşağıdakilerden hangisi güvenli oyun alanlarındandır?

- A) Trafiğe açık alanlar
B) Okul bahçeleri
C) Sokaklar

12 çeyrek \triangle bütün eder.
8 yarım \square çeyrek eder.

5) Yukarıdaki işlemlere göre \triangle ve \square yerine hangi sayılar gelmelidir?

- A) $\frac{\triangle}{3} - \frac{\square}{16}$
B) $\frac{\triangle}{6} - \frac{\square}{12}$
C) $\frac{\triangle}{3} - \frac{\square}{4}$

6) Bir bölme işleminde bölünen 15, bölen 3 ise bölümün 5 katı kaçtır?

- A) 5
B) 25
C) 30

30'a yuvarlanan en küçük sayı $\rightarrow \triangle$
10'a yuvarlanan en büyük sayı $\rightarrow \text{C}$

7) Buna göre $\triangle + \text{C}$ kaçtır?

- A) 11
B) 39
C) 40

8) Bir çiftlikte 4 inek, 3 tavuk vardır. Buna göre çiftlikteki hayvanların ayak sayıları toplamı kaçtır?

- A) 12
B) 14
C) 22