

# SINIF

# SINIF

## Nisan Ara Tatili

# HAYAT Bilgisi

# Değerlendirme Etkinliği





## 2. SINIF HAYAT BİLGİSİ NİSAN ARA TATİLİ DEĞERLENDİRME ETKİNLİĞİ



1. Verilen ifadelerden doğru olan hangisidir?

- A) İnsanların benzer ve farklı yönleri olabilir.
- B) Herkes aynı düşünceye sahiptir.
- C) İnsanların fiziksel özellikleri aynıdır.

2. Hangi görsel farklı bir ders araç gerecidir?

- A)
- B)
- C)

3. Aşağıdaki davranışlardan hangisi yanlıştır?

- A) Sınıfta aldığım görevleri yerine getiririm.
- B) Katıldığım etkinliklerde fikirlerimi özgürce söylerim.
- C) Sınıfça yapılan hiçbir çalışmaya katılmam.

4. Bir oyunu kaybettiğimizde nasıl davranmalıyız?

- A) Oyun sonucuna itiraz ederim.
- B) Kazanan arkadaşımı tebrik ederim.
- C) Bir daha o oyunu oynamam.

5. Hangisi sınıfça alınacak kararlardan biri değildir?

- A) Sınıf kurallarının belirlenmesi
- B) Sınıf başkanı seçilmesi
- C) Okul müdürünün seçilmesi

6. Kaynaklar ile ilgili verilen ifadelerden hangisi yanlıştır?

- A) Kaynaklar sınırsızdır, tükenmez.
- B) Gündüz aydınlıkta lambaları yakmamalıyız.
- C) Musluğu ihtiyacımız kadar açmalıyız.

7. "Sınıfta ihtiyacı olan ..... yardım etmeliyiz."

cümlesinde boş bırakılan yere hangisi gelmelidir?

- A) hayvanlara
- B) akrabalarımıza
- C) arkadaşlarımıza



8. Yukarıdakilerden kaç tanesi ihtiyaçtır?

- A) 2
- B) 3
- C) 4

9. Anne, baba ve çocuklardan oluşan toplumun en küçük birimine ne ad verilir?

- A) aile
- B) halk
- C) sınıf

10. Aşağıdaki görsellerden hangisinde kişisel bakım yapılmaktadır?

- A)
- B)
- C)

11. Aşağıdakilerden hangisi dengeli ve düzenli beslenen bir öğrencinin yiyeceği besinlerdendir?

- A)
- B)
- C)

12. Verilen ifadelerden hangisi yemekte uymamız gereken görgü kurallarından biri değildir?

- A) Peçete kullanmalıyız.
- B) Ağızımızda yemek varken konuşmamalıyız.
- C) Tabağımıza fazlaca yemek almalıyız.

13. Aşağıdaki görsellerden hangisi bağımsızlık sembolümüzdür?

- A)
- B)
- C)

14. Aşağıdakilerden hangisi milli bayramlarımızdandır?

- A) Ramazan Bayramı
- B) Zafer Bayramı
- C) Kurban Bayramı

15. Aşağıdakilerden hangisi Mustafa Kemal Atatürk'ün gittiği okullardan biri değildir?

- A) Manastır Askeri İdadisi
- B) Mahalle Mektebi
- C) İstanbul Üniversitesi



## 2. SINIF HAYAT BİLGİSİ

### NİSAN ARA TATİLİ DEĞERLENDİRME

### CEVAP ANAHTARI

1	A
2	B
3	C
4	B
5	C
6	A
7	C
8	B
9	A
10	B

11	B
12	C
13	A
14	B
15	C



# Değerlendirme Etkinliği



optimistogretmen





## 2. SINIF MATEMATİK NİSAN ARA TATİLİ DEĞERLENDİRME ETKİNLİĞİ

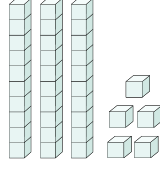


1. Yan tarafta taban bloklar ile gösterilen sayı kaçtır?

A) 30

B) 33

C) 35



2. Aşağıdakilerden hangisi bir desteyi ifade eder?

A)

B)

C)

3. Bir fırında günde iki düzine pasta satılmıştır. Fırında satılan pasta sayısı aşağıdakilerden hangisidir?

A) 20

B) 24

C) 32

4. Onlar basamağı "5", birler basamağı "4" olan sayının 6 fazlası kaçtır?

A) 54

B) 60

C) 66



5. "4 - 8 - 12 - ... - 20 - ... - 28" ritmik saymasında boş bırakılan yerlere sırası ile hangi sayılar gelmelidir?

A) 16 - 24

B) 15 - 25

C) 16 - 26

6. İleriye doğru üçer ritmik sayarken 24'ten sonra hangi sayıyı söyleriz?

A) 21

B) 25

C) 27

7. **6 - 11 - 16 - 21 - 26 - 31 - 36**

Yukarıdaki sayı örüntüsünün kuralı nedir?

A) 5 azalarak devam etmektedir.

B) 4 artarak devam etmektedir.

C) 5 artarak devam etmektedir.

8. **45 - 85 - 37 - 69**

Yukarıdaki sayılar hangi seçenekte doğru sıralanmıştır?

A)  $45 < 69 < 37 < 85$

B)  $37 < 45 < 69 < 85$

C)  $85 < 69 < 45 < 37$

9. Aşağıdakilerden hangisi en yakın onluğa yuvarlandığında 40 sayısı elde edilmez?

A) 44

B) 45

C) 35

10. Elif 8 yaşındadır. Ablasının yaşı Elif'in yaşından 12 fazladır. Elif ve ablasının yaşları toplamı kaçtır?

A) 28

B) 20

C) 18

11. Duru 46 sayfalık hikaye kitabının önce 15 sayfasını daha sonra 12 sayfasını okudu. Duru'nun kitabını bitirmesi için kaç sayfa daha okuması gerekir?


A) 17

B) 19

C) 27

12. Aşağıdaki geometrik cisimlerden hangisinin köşesi ve kenarı yoktur?

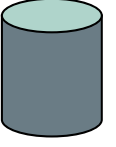
A)



B)



C)



13.  $3 + 3 + 3 + 3$  işleminin çarpma işlemi olarak ifade edilişi aşağıdakilerden hangisidir?

A)  $3 \times 3$

B)  $3 \times 4$

C)  $4 \times 3$



14. Bir günde 2 ekmek tüketen Aktaş ailesi, bir haftada kaç ekmek tüketir?

A) 9

B) 14

C) 21



15. Rabia bayramda topladığı 25 şekeri beşerli olacak şekilde poşetlere koydu. Rabia kaç poşet kullanmıştır?

A) 5

B) 10

C) 15



## 2. SINIF MATEMATİK

### NİSAN ARA TATİLİ DEĞERLENDİRME

### CEVAP ANAHTARI

1	C
2	A
3	B
4	B
5	A
6	C
7	C
8	B
9	B
10	A

11	B
12	C
13	C
14	B
15	A



## Değerlendirme Etkinliği



optimistogretmen



## 2. SINIF TÜRKÇE NİSAN ARA TATİLİ DEĞERLENDİRME ETKİNLİĞİ

### KARGA İLE TİLKİ



Bir varmış bir yokmuş; bir zamanlar bir ağacın dalında neşeyle dans eden bir karga varmış. Karga çok mutluymuş, çünkü ağzında kocaman bir peynir parçası varmış. Ağzındaki kocaman peyniri tam midesine indirmek üzereymiş ki, oradan geçmekte olan bir tilki kargayı görmüş. Kurnaz tilki kargayı kandırıp, peyniri alabilmek için bir plan yapmış ve kargaya demiş ki 'Karga kardeş, merhaba, ne kadar güzelsin, sesin de çok güzelmiş, herkes bunu konuşuyor, ben de bunca yolu senin sesini duyabilmek için geldim.' demiş.

Bu güzel sözleri duyan karga hemen kendini kanıtlama sevdasına düşmüş ve 'Ben senin için güzel bir şarkı söylerim.' demiş. Bunu söylemek için ağzını açar açmaz, kocaman peynir parçasını da ağzından düşürmüştü. Kurnaz tilki hemen düşen peynir parçasını alıp, kaçmış. Eli de, karnı da boş kalan karga da bir daha güzel sözlerle inanıp, elindekini kaptırmaması gerektiğini anlamış.

İlk 3 soruyu metne göre cevaplandırınız.

1. Karga neden mutluymuş?

- A) Hava güzel olduğu için
- B) Ağzında kocaman bir peynir olduğu için
- C) Karnı tok olduğu için

2. Karga peyniri nasıl ağzından düşürmüştü?

- A) Yorulduğu için
- B) Dengesini kaybedince
- C) Şarkı söylemek için ağzını açınca

3. Okuduğunuz metnin ana fikri nedir?

- A) Her güzel söze inanmamalıyız.
- B) Ağzımıza büyük lokma almamalıyız.
- C) Arkadaşlarımıza yalan söylememeliyiz.

4. "BİLGİSAYAR" sözcüğünün harf sayısı kaçtır?

- A) 4
- B) 8
- C) 10

5. Aşağıdaki sözcüklerden hangisi hecelerine yanlış ayrılmıştır?

- A) hu-zu-re-vi
- B) kel-oğ-lan
- C) ö-rüm-cek

6. Hangi sözcük dört hecelidir?

- A) kütüphane
- B) sandalye
- C) kurbağa



7. Hangi sözcük tek hecelidir?

- A) iyi
- B) şiir
- C) park

8. Hangi cümle daha az sözcükten oluşmuştur?

- A) Müzik dinlerken çalan kapıyı duymadım.
- B) En sevdiğim arkadaşımın sinemaya gideceğim.
- C) Tatilde Afyonkarahisar'a seyahat edeceğiz.

9. Hangi sözcüğün yazımı hatalıdır?

- A) eşofman
- B) candarma
- C) yalnız

10. Aşağıdaki seçeneklerden hangisinde sözcükler sözlük sırasına göre sıralanmıştır?

- A) tahta - terlik - televizyon
- B) kalem - kitap - küvet
- C) vazo - valiz - vestiyer



11. Aşağıdaki cümlelerin hangisinde "ulus" kelimesinin eş anlamlısı kullanılmıştır?

- A) Ne mutlu Türk'üm diyene!
- B) Vatan savunması her şeyden önce gelir.
- C) Türk milleti çalışkandır.

12. Aşağıdaki sözcük çiftlerinden hangisi arasında diğerlerinden farklı bir anlam ilişkisi vardır?

- A) önder - lider
- B) çeşit - tür
- C) taze - bayat



13. Aşağıdakilerden hangisi bir cümle değildir?

- A) Sonbaharda yapraklar
- B) Çiçek diktim
- C) Evet

14. "Uyumadan önce ..... okudum." cümlesi hangisi ile tamamlanırsa cümle anlamalı olur?

- A) kitabımı
- B) film
- C) müzik

15. "Hey( ) çabuk buraya gel( )" cümlesinde yay ayraç ile gösterilen yere sırası ile hangi noktalama işaretleri gelmelidir?

- A) (!) (.)
- B) (.) (!)
- C) (.) (.)





# 2. SINIF TRKE NİSAN ARA TATİLİ DEĞERLENDİRME CEVAP ANAHTARI

1	B
2	C
3	A
4	C
5	B
6	A
7	C
8	C
9	B
10	B

11	C
12	C
13	A
14	A
15	B

