











Resfebe Etkinliđi

 a  ul Lim10  li
e l a





 an  e k  lik

 li K  ulu M 

  k  l e  a

 ek  

 ka  e me K  k

  ma  t u k Kil 



TATİL KİTABI

ASLAN İLE FARE

Aslanın biri uyuyormuş. Bir fare gelip vücudunun üzerinde dolaşmaya başlamış. Aslan uyanmış, fareyi yakalamış. Ama fare başlamış yalvarmaya : – Bırak beni. Gün olur, benim de sana bir iyiliğim dokunur, demiş. Aslan gülmüş bu söze. Gene de bırakmış fareyi. Aradan zaman geçmiş. Bir gün aslan, avcılarının kurduğu tuzağa düşmüş. Gelmişler, onu bir ağaca sımsıkı bağlamışlar. Fare, aslanın inlemelerini duymuş, koşarak gelmiş. İpleri kemirip aslanı kurtarmış. Bunun üzerine de:

– Vaktiyle sen bana gülmüştün. Benden bir hayır beklemiyordun. Ama gördün ya, fareler de iyilikbilir. Onların da bir yardımı dokunabilir, demiş.

Yukarıdaki metin Türkçe defterine yazılacak.

Soru 1) Metnin başlığını yazınız.

Soru 2) Metnin başlığı kaç harftir ?

Soru 3) Yazının başlığı kaç hecedir ?

Soru 4) Yazının başlığı kaç sözcüktür ?

Soru 5) Fare nerede dolaşmaya başlamış ?

Soru 6) Aslan , farenin hangi sözlerine güldü ?

Soru 7) Aslan kimin kurduğu tuzağa düşmüş ?

Soru 8) Avcılara aslanı nereye bağlamışlar ?

Soru 9) Fare aslanı nasıl kurtarmış ?

RÜZGÂR ESTİĞİNDE UYUYABİLİR MİSİN?

Genç bir adam Amerika'nın batısındaki bir çiftliğe iş başvurusunda bulunmuştu. Çiftliğin sahibi ona özelliklerini sorduğunda genç adam kendine güvenen bir edayla şöyle cevap vermişti:

"Rüzgar estiğinde dahi uyuyabilirim"

Bu söz yaşlı çiftlik sahibinin kafasını çok karıştırmıştı, fakat bu zeki genç adamdan da çok hoşlanmıştı bu yüzden onu işe aldı.

Birkaç gün sonra yaşlı çiftlik sahibi ile karısı gece yarısı çok sert ve şiddetli bir rüzgârla uykularından fırladılar. Bir sorun çıkma ihtimaline karşı her yeri kontrol etmeye başladılar. Pencere ve kapıdaki kepenklerin sıkıca kapatılıp kancalarının yerlerine takıldığını gördüler.

Kalın ağaç kütükleri ise sıra sıra şöminenin yanına dizilmişti. Tarım araçları güvenli bir şekilde hangara yerleştirilmişti. Traktör garajdaydı. Ahırın kapısı düzgün bir şekilde kapatılmış ve kilitlenmişti. Hatta içerideki tüm hayvanlar oldukça sakindiler. Genç adam hemen ilerideki kulübesinde huzurlu bir şekilde uyuyordu.

İşte o anda yaşlı çiftlik sahibi genç adamın o gün ona ne demek istediğini anlamıştı. "Rüzgar estiğinde dahi uyuyabilirim"

Çünkü genç adam fırtınasız güzel günlerde herhangi bir gün şiddetli bir fırtına ile çiftlikteki her şeylerini kaybedebileceklerini düşünerek işlerini o kadar bağlılıkla ve düzgün bir şekilde yapmıştı ki, en sert, en şiddetli fırtına dahi esse yatağında huzurla uyuyabilirdi.

Yapabildikleriniz değil, bir gün gerçekten yapamadığınız şeyler güneş battığında size baş ağrısı verir.

Metin Türkçe defterine yazılacak.

Soru 1) Genç adam neredeki çiftliğe iş başvurusunda bulunmuştu ?

Soru 2) Çiftliğin sahibi ona soru sorduğunda ne cevabı vermiş ?

Soru 3) Pencere ve kapıdaki kepenkler nasıl kapatılmış ?

Soru 4) Tarım araçları nereye çekilmiş ?

Soru 5) Genç adam kulübesinde nasıl uyuyormuş ?

Soru 6) Güneş battığında bize baş ağrısı verecek olan şey neymiş ?



4	2	16	18	108	110	116	158	160	162
6	12	14	20	106	112	114	168	166	164
8	10	24	22	104	174	172	170	192	194
38	36	26	28	102	176	178	180	190	196
40	34	32	30	100	98	96	182	188	198
42	60	62	64	66	68	94	184	186	200
44	58	56	74	72	70	92			
46	48	54	76	82	84	90			
	50	52	78	80	86	88			

SAĞLIK

Mevsime göre giyin,
Hiç üşütme kendini.
Zamanında aşı ol,
Sık sık yıka elini.

Yüreğini rahat tut,
Her şeyi dert edinme.
Olumsuzluğu unut,
Önemlidir beslenme.

Kızartma, yağlı, acı,
Sağlığı bozmaktadır.
Sebze, meyve baş tacı,
Süt en doğal gıdadır...

Şiir Türkçe defterine yazılacak.

Soru 1) Şiirin başlığını yazınız.

Soru 2) Şiir kaç kıtadan oluşuyor ?

Soru 3) Şiirde kaç mısra var ?

Soru 4) Şiire göre nasıl giyinmeliyiz ?

Soru 5) Sık sık neyi yıkamalıymışız?

Soru 6) Neleri dert edinmemeliyiz ?

Soru 7) Sağlığı bozan şeyler nelermiş ?

Soru 8) Baş tacı olan besinler nelerdir ?

2 ' LER ÇARPIM TABLOSU

2 x 1 = 2				
2 x 2 = 4				
2 x 3 = 6				
2 x 4 = 8				
2 x 5 = 10				
2 x 6 = 12				
2 x 7 = 14				
2 x 8 = 16				
2 x 9 = 18				
2 x 10 = 20				

Soru 1) Aşağıdaki çarpma işlemlerini yapınız.

12	23	34	45	56
<u>x 2</u>	<u>x 2</u>	<u>x 2</u>	<u>x 2</u>	<u>x 2</u>

67	78	89	90	91
<u>x 2</u>	<u>x 2</u>	<u>x 2</u>	<u>x 2</u>	<u>x 2</u>

81	72	65	43	20
<u>x 2</u>	<u>x 2</u>	<u>x 2</u>	<u>x 2</u>	<u>x 2</u>

4 ' LER ÇARPIM TABLOSU

4 x 1 = 4				
4 x 2 = 8				
4 x 3 = 12				
4 x 4 = 16				
4 x 5 = 20				
4 x 6 = 24				
4 x 7 = 28				
4 x 8 = 32				
4 x 9 = 36				
4 x 10 = 40				

Soru 1) Aşağıdaki çarpma işlemlerini yapınız.

34	56	73	87	93
<u>x 4</u>	<u>x 4</u>	<u>x 4</u>	<u>x 4</u>	<u>x 4</u>

65	75	78	93	42
<u>x 4</u>	<u>x 4</u>	<u>x 4</u>	<u>x 4</u>	<u>x 4</u>

80	94	50	43	56
<u>x 4</u>	<u>x 4</u>	<u>x 4</u>	<u>x 4</u>	<u>x 4</u>

5 ' LER ÇARPIM TABLOSU

5 x 1 = 4				
5 x 2 = 8				
5 x 3 = 12				
5 x 4 = 16				
5 x 5 = 20				
5 x 6 = 24				
5 x 7 = 28				
5 x 8 = 32				
5 x 9 = 36				
5 x 10 = 40				

Soru 1) Aşağıdaki çarpma işlemlerini yapınız.

34	56	73	87	93
x 5	x 5	x 5	x 5	x 5

65	75	78	93	42
x 5	x 5	x 5	x 5	x 5

80	94	50	43	56
x 5	x 5	x 5	x 5	x 5

Soru 1) Kutulara uygun sayıları yazınız.

50	52	54	56						68
70	72							86	
90					100	102	104	106	108
110	112				120				128

5	10	15							50
55	60								100
105	110	115							150
155									200

10	20	30							100
110	120								200
210	220	230							300

4	8	12	16						40
44	48	52							80
84	88	92		100	104	108	112		120
124	128								160

AHMET 'İN HEYACANI

Ahmet o sabah erkenden uyandı. Elini yüzünü yıkayıp, üzerini değiştirdi. Mutfığa gitti. Annesi kahvaltı hazırlıyor babası da ona yardım ediyordu. Küçük kardeşi Ezgi de çoktan uyanmış sandalyesinde oyuncaklarıyla oynuyordu.

"Herkes günaydın!" deyip kardeşini öptükten sonra annesine yardım etmek istediğini söyledi. Annesinin verdiği şeyleri masaya yerleştirdi.

Masa hazırды, kahvaltıya oturdular. Ahmet'in o kadar erken uyanmasının sebebi babasını görmektir aslında. Çünkü ona söylemek istediği çok önemli bir şey vardı. Günlerdir bu günü bekliyordu. Birkaç defa ağzını açıp tam söyleyecekken vazgeçti. Yemeğe devam etti. Çünkü çok heyecanlanıyordu.

Metin Türkçe defterine yazılacak.

Soru 1) Metnin başlığını yazınız.

.....

Soru 2) Yazının başlığı kaç hecedir ?

.....

Soru 3) O sabah erken uyanan kimmiş ?

.....

Soru 4) Annesi kahvaltı hazırlarken ona kim yardım ediyor ?

.....

Soru 5) Ezgi ne ile oynuyormuş ?

.....

Soru 6) Ahmet annesine nasıl yardım etti ?

.....

Soru 7) Ahmet ' in erken uyanmasının sebebi nedir ?

.....

Soru 8) Ahmet , söyleyeceklerini neden söyleyemedi ?

.....

Soru 1) Aşağıda verilen sözcüklerin eş anlamlarını yanına yazınız.

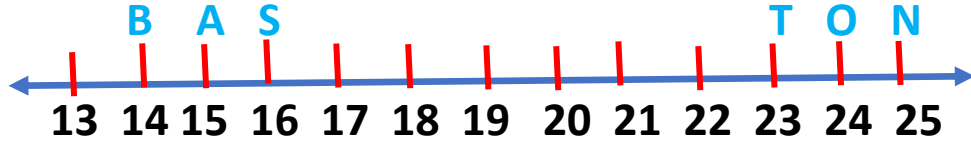
ONARIM		TANIK	
DAVET		UYGAR	
YİTİK		DEPREM	
ÖZLEM		NEFES	
NASİHAT		MESAFE	
ŞÜPHE		ÜNLÜ	
SINIR		BELEŞ	
ŞAİR		İSTEK	
İLAVE		DİRİ	
GÖREV		RÜZGAR	

Soru 2) Aşağıdaki kelimelerin zıt anlamlarını yanına yazınız.

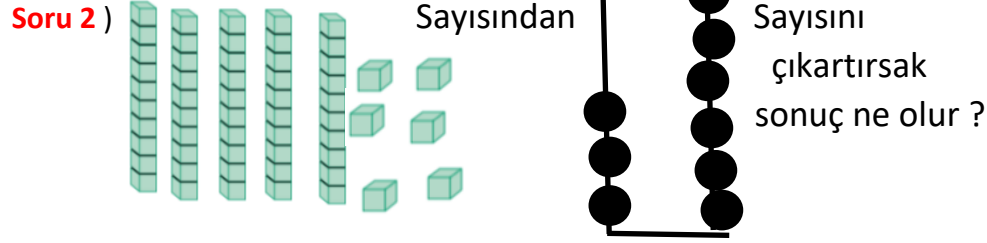
BÜYÜK		EVET	
DOĞRU		TEMİZ	
KURU		KIŞ	
GECE		SAĞLAM	
AŞAĞI		TAM	
GÜNEY		ACEMİ	

Soru 3) Aşağıdaki sözcükleri alfabetik sıraya koyunuz.

Tatil – tabak – tatlı – Tarık	Oyuncak – Oya – Orkun - Osman
1)	1)
2)	2)
3)	3)
4)	4)



Soru 1) Yukarıda verilen sayı doğrusuna göre B ile N ' nin tahmini toplamı ile gerçek toplamının farkını 4 ile çarpınız.



Soru 3) 4 düzineden 4 fazla olan sayıdan 2 desteden 2 eksik olan sayıyı çıkartınız.

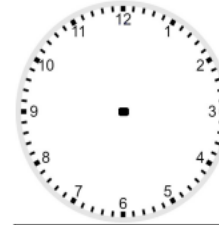
Soru 4) Yağmur ' un 3 düzineden 5 fazla fındığı var. Bunların 8 birlik 1 onluk kadarını sabah yedi. 9 tanesini de Musab ' a verdi. Geriye kaç fındığı kaldı ?

Soru 5) Yirmiye yuvarlanabilen en küçük sayının 4 katının 13 fazlasını bulunuz.

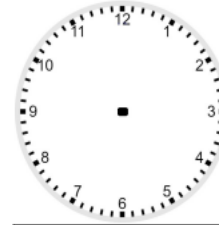
Saatleri okuyup alttaki kutulara yazınız.



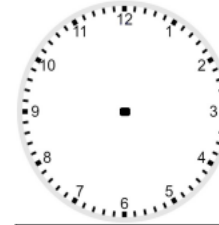
Kutularda belirtilen saatleri çiziniz.



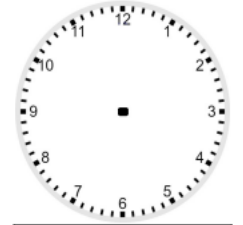
06:45



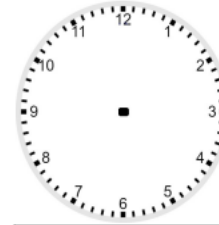
09:00



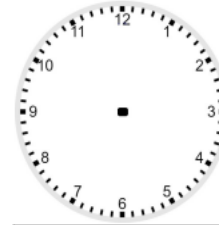
04:15



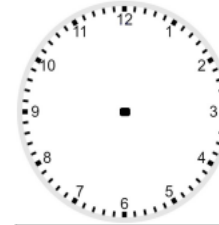
01:15



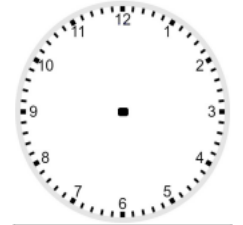
10:45





11:45



06:15



11:45

21	18	9	6					195	198
24	15	12	3				189	192	201
27	30	57	60				186	183	204
36	33	54	63	66	159	162	177	180	207
39	48	51	72	69	156	165	174	213	210
42	45	78	75	150	153	168	171	216	219
99	96	81	84	147	246	243	240	237	222
102	93	90	87	144	249	252	255	234	225
105	108	135	138	141	300	297	258	231	228
114	111	132				294	261	270	273
117	126	129				291	264	267	276
120	123					288	285	282	279

Soru 1) Aşağıda verilen sesteş (eş sesli) sözcükleri iki ayrı tümcede farklı anlamlarda kullanınız.

DAL

1)

2)

KIR

1)

2)

YAZ

1)

2)

İÇ

1)

2)

YEDİ

1)

2)

KARA

1)

2)

YÜZ

1)

2)

BİN

1)

2)

Soru 1) Aşağıda yazım yanlış yapılan cümlelerin doğrusunu alta yazınız.
ayşenin kedisi buluta Et verdim ?

.....
Okula doktor ahmet bey Gelmiş ?

.....
Annem Pazar’a Erkenden gidiyor ?

.....
teyzem Ayten pazardan elma erik Portakal mı aldı.

.....
Zeynep gülbahçesi mahallesi gül sokakta oturuyor.

.....
dün adanadan Dayım Eve geldi ?

.....
biz fidan ile bahçeye Fidan Diktik.

.....
Kedim mırmıra Süt ‘ ünü içirdi.

.....
Masa’nın kenarına kitap defter Kalem koydum ?

Soru 2) Aşağıda verilen sözcükleri alfabetik sıraya koyunuz.

göl – güneş – gazoz - gazete
1)
2)
3)
4)

leyla – leylek – leman - limon
1)
2)
3)
4)

OLAYLARIN OLUŞ SIRASI

Soru 1) 1. Sonra piste yavaşça indi.
2. Havada görülen uçak
3 . Önce alçaldı

Yukarıdaki olayın sıralaması hangisidir?

A) 1 – 2 – 3 B) 3 – 2 – 1 C) 2 – 3 – 1

Soru 2) 1 . Meyveler olgunlaştı.
2. Yaz geldi.
3. Reçel yaptık.

Yukarıdaki oluş sıralaması hangisinde doğru olarak verilmiştir?

A) 2 – 1 – 3 B) 1 – 2 – 3 C) 3 – 2 – 1

Soru 3) 1.Ebe, oyuncuların saklandıkları yeri bulmaya çalışır.
2.Ebe yüze kadar sayar.
3.Sayışarak ebe seçilir.

Yukarıda saklambaç oyununun aşamaları karışık olarak verilmiştir.
Aşamaları doğru sıralaması nasıl olmalıdır?

A) 1 – 3 – 2 B) 2 – 3 – 1 C) 3 – 2 – 1

Soru 4) 1.Çizgisiz bir kağıt ile kalem alınır.
2.Zarfa konulup postaneye gidilir.
3.Mektup yazılır.

Yukarıda mektup yazmanın aşamaları verilmiştir. Hangi aşamalar yer değiştirilirse sıralama doğru olur?

A) 1 ile 2 B) 2 ile 3 C) 1 ile 3

Soru 5) Aşağıdakilerden hangisi diş fırçalamanın aşamalarındandır?

A) Dişler sabunlu su ile yıkanır.
B) Diş macunu fırçanın üzerine sıkılır.
C) Dişler bir havlu ile kurulanır.

Soru 1) Bir toplama işleminde 2. toplanan 23 , toplam 87 ise 1. toplanan kaçtır ?

Soru 2) Bir çıkarma işleminde çıkan 3 birlik 2 onluk , fark 4 deste ise eksilen kaçtır

Soru 3) 26 ile 17 sayılarının gerçek toplamı ile tahmini toplamının farkını bulunuz.

Soru 4) Bir dolmuşta 3 birlik 4 onluk yolcu var. Durakta yirmiye yuvarlanabilen en küçük sayı kadar yolcu indi. Salih , Hasret , Elif ve Veysel de 2. durakta indi. Dolmuşta kaç yolcu kaldı ?

Soru 5) 2 TÜM + 4 YARIM + 8 ÇEYREK ?

Toplam kaç tüm eder ?

Soru 1) Zeynep ' in 1 birlik 6 onluk kadar fındığı var. Bu fındıklardan 18 tanesini yedi. Ahmet , Viyan ve Emin ' e beşer tane verdi. Geriye kaç fındığı kaldı ?

Soru 2) Ahmet 'in 3 deste cevizi var. Sabah 4 tane yedi. Öğlen ise sabah yediğinden 5 fazla yedi. Geriye kalan ceviz sayısının 4 katını bulunuz.

Soru 3) Viyan 74 sayfalık bir kitap aldı. Pazartesi günü 12 sayfasını okudu. Salı günü de pazartesi okuduğunun 9 fazlasını okudu. Geriye kalan okuyacağı sayfa sayısının 2 katını bulunuz.

Soru 4) Şoför Emin ' in otobüsünde 2 birlik 1 onluk kadın yolcu var. Çocukları sayısı kadın yolculardan 2 düzine fazladır. Otobüsteki toplam yolcu sayısının 4 katını bulunuz.

Soru 5) 45 sayısını 2 türlü çözümleyiniz.

Soru 1) Aşağıdaki boşluklara uygun sayıları yazınız.

- 1 tüm ekmekte yarım vardır.
- 2 tüm ekmekteyarım vardır.
- 4 tüm ekmekte yarım vardır.
- 3 tüm ekmekteyarım vardır.
- 5 tüm ekmekte yarım vardır.
- 6 tüm ekmekteyarım vardır.

Soru 1) Aşağıdaki boşluklara uygun sayıları yazınız.

- 1 tüm ekmekte çeyrek vardır.
- 2 tüm ekmekte çeyrek vardır.
- 4 tüm ekmekte çeyrek vardır.
- 3 tüm ekmekte çeyrek vardır.
- 5 tüm ekmekte çeyrek vardır.
- 6 tüm ekmekte çeyrek vardır.

Soru 1) Aşağıdaki boşluklara uygun sayıları yazınız.

- 2 yarım ekmek tüm ekmek eder.
- 4 yarım ekmek tüm ekmek eder.
- 8 yarım ekmek tüm ekmek eder.
- 6 yarım ekmek tüm ekmek eder.
- 10 yarım ekmek tüm ekmek eder.

Soru 1) Aşağıdaki boşluklara uygun sayıları yazınız.

- 2 yarım ekmek + 4 çeyrek ekmek + 1 tüm ekmek =tüm ekmek eder.
- 6 yarım ekmek + 4 çeyrek ekmek + 2 tüm ekmek =tüm ekmek eder.
- 2 yarım ekmek + 8 çeyrek ekmek + 1 tüm ekmek =tüm ekmek eder.
- 6 yarım ekmek + 8 çeyrek ekmek + 3 tüm ekmek =tüm ekmek eder.

RESİMLERDEN KELİMELERE (BULMACA)

Verilen nesnenin altındaki sayı nesnenin kaçına harfinin yazılacağını gösteriyor. Bu şekilde şifreli kelimeleri oluşturun.


1


9


3


4


1


4


2


6


2


3


2


7


5

www.100.com

GİZLİ KUTULAR (SONUCU 10)

Bu işlem kutularının arasında sonucu 10 olan 5 kutu gizlenmiştir. Bu kutuları 4 dakika içinde bulabilir misin?

$7 + 2$	$18 - 4$	$1 + 6$	$18 - 9$	$4 + 2$	$8 + 4$	$9 + 3$
$8 + 2$	$2 + 6$	$4 + 2$	$1 + 8$	$13 - 1$	$4 + 8$	$2 + 7$
$9 + 3$	$4 + 8$	$16 - 4$	$8 + 2$	$14 - 3$	$9 - 1$	$6 + 2$
$3 + 3$	$7 + 6$	$11 - 2$	$2 + 8$	$16 - 9$	$16 - 8$	$13 - 3$
$11 - 1$	$3 + 4$	$7 + 7$	$8 + 5$	$7 + 4$	$7 + 1$	$4 + 8$
$20 - 8$	$6 + 8$	$12 - 5$	$14 - 3$	$12 - 6$	$3 + 8$	$9 + 4$

NEREDE OTURUYOR? (KOLAY SEVİYE)

Öğretmen Masası

TAHTA

Kapı

Pencereler

Dolaplar

Kitaplık

Panolar

12 kişilik bir sınıfta Şükriye kapı tarafında son sırada, Zeynep orta tarafta sondan üçüncü sırada, Emir pencere tarafında sondan ikinci sırada, Betül pencere tarafında ilk sırada, Tanık kapı tarafında sondan ikinci sırada, Eymen kapı tarafında sondan üçüncü sırada, Kerem pencere tarafında son sırada, Kayra orta tarafta dördüncü sırada, Deniz orta tarafta üçüncü sırada, Sukeyna pencere tarafında sondan üçüncü sırada, Ayşenaz kapı tarafında birinci sırada oturmaktadır. Bu bilgileri kullanarak Zümra'nın hangi sırada oturduğunu işaretleyiniz.

KESİRLER

Aşağıdaki soruların cevaplarını noktalı yerlere yazınız.

(Şekillerden dilediklerinizi kullanarak sonuçlara ulaşabilirsiniz.)



18 çeyrek = yarım eder.

20 çeyrek = yarım eder.

8 yarım = çeyrek eder.

5 bütün = çeyrek eder.

2 bütün = çeyrek eder.

10 yarım = bütün eder.

40 çeyrek - 2 yarım = bütün eder.

8 yarım = bütün eder.

36 çeyrek = bütün eder.

6 yarım = bütün eder.

DIKKAT GELİŞTİRME SORULARI

12, 3, 7, 11, 1, 8

2, 10, 4, 6, 5, 9

7, 10, 8, 9, 1, 2

12, 11, 6, 5, 4, 3

$$6 - \text{☂} = 2$$

$$\text{☂} + \text{☆} = 5$$

$$\text{☆} + \text{◇} = 8$$

$$\text{◇} + \text{■} = 12$$

$$\text{■} = \dots\dots\dots$$

$$\text{♥} - 5 = 5$$

$$\text{♥} - \text{■} = 3$$

$$\text{☆} + \text{■} = 16$$

$$\text{☆} + \text{✎} = 19$$

$$\text{✎} = \dots\dots\dots$$