

3.


SINIF

Nisan Ara Tatili



FEN BİLİMLERİ

Değerlendirme Etkinliği



 [optimistogretmen](https://www.instagram.com/optimistogretmen)






3. SINIF FEN BİLİMLERİ

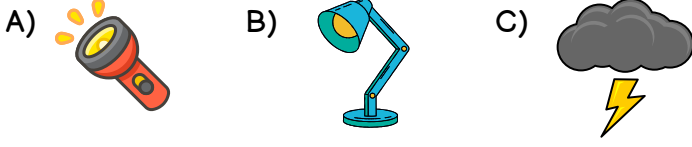
NİSAN ARA TATİLİ DEĞERLENDİRME ETKİNLİĞİ



1. Aşağıdakilerden hangisi bir ışık kaynağı değildir?



2. Aşağıdakilerden hangisi doğal bir ışık kaynağıdır?



3. Verilen ifadelerden yanlış olan hangisidir?

- A) Temel ışık kaynağımız Güneş'tir.
B) Yeterli ışıktaki net görebiliriz.
C) Karanlıkta görme olayı daha iyi gerçekleşir.

4. Aşağıdaki varlıklardan hangisine çıplak gözle bakmak tehlikelidir?



5. Aşağıdaki ifadelerden hangisi doğrudur?

- A) Loş ışıktaki ders çalışmak daha doğrudur.
B) Görme olayının gerçekleşmesi için ışık gereklidir.
C) Ayna bir ışık kaynağıdır.

6. "İnsanlar tarafından üretilen ışık kaynaklarına ışık kaynakları denir." cümlesinde boş bırakılan yere aşağıdakilerden hangisi gelmelidir?

- A) yapay B) doğal C) enerji

ateş böceği

yapay ışık kaynağı

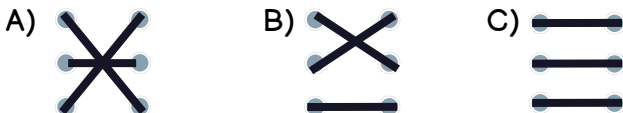
fosforlu kıyafet

ışık kaynağı değil

araba farı

doğal ışık kaynağı

7. Yukarıdaki eşleştirmenin sonucu aşağıdakilerden hangisidir?



8. Aşağıdakilerden hangisi bir ses kaynağı değildir?



9. Verilen ifadelerden yanlış olan hangisidir?

- A) Her sesin kaynağı yoktur.
B) Seslerin şiddetleri birbirinden farklıdır.
C) Kütüphane sesin az olduğu bir ortamdır.

10. "Sesi kendiliğinden üreten varlıklara denir." cümlesinde boş bırakılan yere aşağıdakilerden hangisi gelmelidir?

- A) yapay ses kaynakları
B) doğal ses kaynakları
C) sesli ses kaynakları

11. Aşağıdakilerden hangisi yapay bir ses kaynağıdır?



12. Aşağıdaki ifadelerden hangisi doğrudur?

- A) Yüksek şiddetli sesler kulak sağlığımız için yararlıdır.
B) İnsan sesi doğal ses kaynağıdır.
C) Uçak sesi doğal ses kaynağıdır.

13. Ses kaynağına yaklaştıkça sesin şiddeti, ses kaynağından uzaklaştıkça sesin şiddeti cümlesinde boş bırakılan yerlere sırası ile hangi kelimeler gelmelidir?

- A) artar/azalır B) azalır/artar C) uzar/kısılır

14. Aşağıdakilerden hangisi ses şiddetini arttırmak için kullanılan bir cihazdır?



15. Aşağıdakilerden hangisi cansız bir varlıktır?



16. Verilen ifadelerden yanlış olan hangisidir?

- A) Her canlı büyümür.
B) Canlılara uyarılara tepki verir.
C) Balıklar solungaçları ile solunum yaparlar.

17. Bir varlığın canlı olup olmadığını 7 özelliğine bakarak anlayabiliriz. Aşağıdakilerden hangisi bu özelliklerden biri değildir?

- A) solunum
B) beslenme
C) uzunluk



18. Görseldeki ağaç, canlıların hangi özelliğini göstermektedir?

- A) beslenme
B) solunum
C) boşaltım

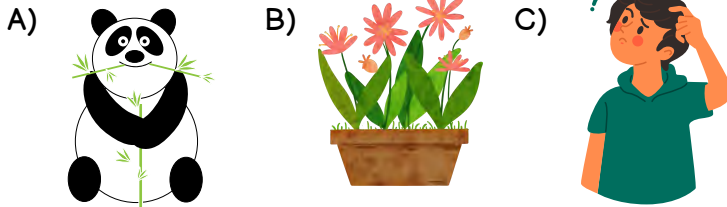


19. Canlıların doğumu ile ölümü arasında geçen süreye ne ad verilir?

- A) hayat
B) çevre
C) iletişim



20. Aşağıdaki canlılardan hangisi kendi besinini kendisi üretir?



21. Aşağıdaki canlılardan hangisi yumurtlayarak çoğalır?



22.

- | | |
|-----------|------------|
| * Kurbağa | * Cıvcıv |
| * Şelale | * Işık |
| * Toprak | * Bebek |
| * Hava | * Elektrik |
| * Papatya | * Fil |

Yukarıdaki varlıklardan kaç tanesi cansız varlıktır?


- A) 4
B) 5
C) 6

23. Verilen ifadelerden doğru olan hangisidir?

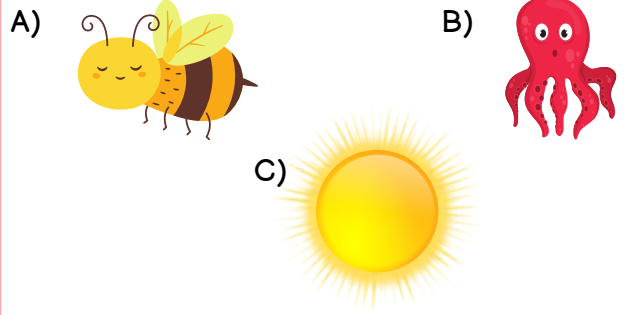
- A) Bitkiler güneşe doğru yönelme hareketi yaparlar.
B) Büyüme canlıların beslenmesi anlamına gelir.
C) Canlıların yaşamlarını sürdürdükleri ortama ev denir.

24. Bitkiler nasıl çoğalır?

- A) tohumlarıyla
B) yumurtlayarak
C) doğurarak



25. Aşağıdaki varlıklardan hangisi bir yönüyle diğerlerinden farklıdır?



**DEĞERLENDİRME BİTTİ.
CEVAPLARINI KONTROL ETMEYİ UNUTMA.**



3. SINIF FEN BİLİMLERİ NİSAN ARA TATİLİ DEĞERLENDİRME CEVAP ANAHTARI

1	B
2	C
3	C
4	A
5	B
6	A
7	A
8	C
9	A
10	B

11	A
12	B
13	A
14	C
15	B
16	A
17	C
18	C
19	A
20	B

21	C
22	B
23	A
24	A
25	C



3.

SINIF

Nisan Ara Tatili

HAYAT BİLGİSİ

Değerlendirme Etkinliği



optimistogretmen



3. SINIF HAYAT BİLGİSİ NİSAN ARA TATİLİ DEĞERLENDİRME ETKİNLİĞİ



1. Aşağıdakilerden hangisi dengeli ve düzenli beslenen birinin davranışlarından olamaz?

- A) Her besinden yeteri kadar yer.
- B) Asitli ve gazlı içecekler tüketir.
- C) Meyve ve sebze tüketir.



2. Kişisel bakımımız sırasında aşağıdaki hangi davranışı sergilememiz doğru olur?

- A) Suyu dişlerimizi fırçalarken açık bırakmalıyız.
- B) Yazın kaloriferi kapatmamalıyız.
- C) Musluğu gereğinden fazla açmamalıyız.




3. Aşağıdaki meyvelerden hangisi bir yaz meyvesidir?

- A) 
- B) 
- C) 

4. Vücudumuza çeşitli yollarla girerek bizleri hasta eden, özellikle de kalabalık yerlerde ve temiz tutulmayan ortak kullanım alanlarında bulunan gözle görülemeyecek kadar küçük canlılara ne denir?

- A) mikrop
- B) bit
- C) parazit

5. Aşağıdakilerden hangisi bir istek değil ihtiyaçtır?

- A) 
- B) 
- C) 

6. Aşağıdaki mesleklerden hangisi sağlık alanında çalışmamaktadır?

- A) doktor
- B) hemşire
- C) mimar

7. "Kaynakları kullanmalıyız. Çünkü kaynaklar sınırsız değildir, tükenebilir." cümlesinde boş bırakılan yere hangisi getirilmelidir?

- A) bilinçli
- B) düzensiz
- C) yetkili

8. Aşağıdakilerden hangisi aile bütçesini korumaya özen gösteren bir davranış değildir?




- A) İhtiyaçlarıma göre alışveriş yaparım.
- B) Alışveriş listesi hazırlayarak alışverişe çıkarım.
- C) Pahalı ve lüks giysiler alırım.

9. Yan tarafta gösterilen trafik levhasının anlamı nedir?

- A) Okul geçidi
- B) Yaya geçidi
- C) Yürüyüş yolu



10. Aşağıdaki levhalardan hangisi park yapmak yasaktır anlamına gelir?

- A) 
- B) 
- C) 

11. Aşağıdaki ifadelerden yanlış olan hangisidir?

- A) Ambulansların geçiş önceliği hakkı vardır.
- B) Yeşil ışık yanınca araçlar yavaşlar.
- C) Trafik polisinin işaret ve uyarılarına uymalıyız.

12. Aşağıdakilerden hangisi ev kazalarına karşı alınabilecek önlemlerden biri değildir?




- A) Kibritleri ortada bırakmak.
- B) Tehlikeli, zehirli maddeleri yüksek ve çocukların ulaşamayacağı yerlere koymak.
- C) Elektrik prizlerine korumalı kapak takmak.

13. Bekir bir alışveriş merkezinde lavaboya giderken yandaki uyarı levhasını görmüştür. Bu uyarı levhasının anlamı nedir?

- A) Suya girmek tehlikeli ve yasaktır!
- B) Dikkat, kaygan zemin!
- C) Oyun oynamak yasak ve tehlikelidir!



14. Hangi ışık, araçlar için hazırlan anlamı taşır?

- A) 
- B) 
- C) 



15. Ülkemizde acil durumlar için aranacak numaralar tek bir numarada toplanmıştır. Bu numara aşağıdakilerden hangisidir?

- A) **110** B) **155** C) **112**

16. Evde, sokakta, okulda, parkta pek çok kaza ile karşılaşabiliriz. Aşağıdakilerden hangisi evde gerçekleşebilecek bir kaza değildir?




- A) Trafik kazası
B) Düşme
C) Doğal gaz zehirlenmesi



17. Tanımadığımız kişilerden istemediğimiz bir teklif geldiğinde ne yapmalıyız?

- A) Teklifleri cazip ise kabul etmeliyiz.
B) Durup dikkatlice onları dinlemeliyiz.
C) Kısa ve net cevaplar verip hemen oradan uzaklaşmalıyız.

18. Aşağıdakilerden hangisi bir doğal afetdir?

- A)  B) 
C) 

19. "Kendimizi hissettiğimiz en güzel yer ailemizin yanıdır." cümlesinde boşluk, hangi kelime ile tamamlanmalıdır?

- A) tehlikeli B) güvende C) zorda

20. Okuldaki arkadaşınız İrfan, okul çıkışı biraz parkta oynamayı, sonra da arka mahallede kurulan pazarı gezmeyi teklif etti. Ona hangi cevabı verirseniz doğru bir davranış sergilemiş olursunuz?

- A) Ailemizden izinsiz ve habersiz gitmemeliyiz.
B) Güzel fikir, dondurma da alalım mı?
C) Olur ancak çok uzun süre gelemem hava kararmadan ev dönelim.

21. Bir ilçede devleti temsil eden en yetkili yönetim görevlisine ne denir?

- A) muhtar
B) kaymakam
C) vali

22. Aşağıdaki yöneticilerden hangisi seçimle başa gelir?

- A) kaymakam
B) vali
C) muhtar

23. Ülkemizin yönetim şekli aşağıdakilerden hangisidir?

- A) Krallık
B) Padişahlık
C) Cumhuriyet






24. Tarihi ve kültürel öğelerin korunup saklandığı, eski zamanlarda yaşamış insanların kullandığı eşyaların sergilendiği yerlere ne ad verilir?

- A) Müze
B) Depo
C) Saray



25. Aşağıdaki görsellerden hangisi ülkemiz tarihinde çok önemli bir yere sahip olan, Mustafa Kemal Atatürk'ün düşmana geçit vermediği, büyük bir zafer kazandığı şehrimiz olan Çanakkale'de bulunmaktadır?

- A)  B) 
C) 

**DEĞERLENDİRME BİTTİ.
CEVAPLARINI KONTROL ETMEYİ UNUTMA.**



3. SINIF HAYAT BİLGİSİ NİSAN ARA TATİLİ DEĞERLENDİRME CEVAP ANAHTARI

1	B
2	C
3	C
4	A
5	B
6	C
7	A
8	C
9	B
10	C

11	B
12	A
13	B
14	B
15	C
16	A
17	C
18	B
19	B
20	A

21	B
22	C
23	C
24	A
25	C



3.

SINIF

Nisan Ara Tatili

MATEMATİK

Değerlendirme Etkinliği



optimistogretmen



3. SINIF MATEMATİK

NİSAN ARA TATİLİ DEĞERLENDİRME ETKİNLİĞİ



1. Aşağıdaki bölme işlemlerinden hangisinin sonucu yanlıştır?

- A) $90 \div 5 = 18$
B) $92 \div 4 = 23$
C) $78 \div 3 = 27$

2. 90 ceviz, poşetlere eşit sayıda olacak şekilde paylaştırılıyor. Poşet sayısı aşağıdakilerden hangisi olamaz?

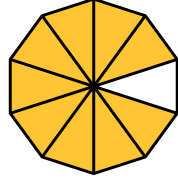
- A) 3 B) 4 C) 5

3. 6 deste çiçeği, Aylin ve 3 arkadaşı eşit olarak paylaşırsa her biri kaç çiçek almış olur?

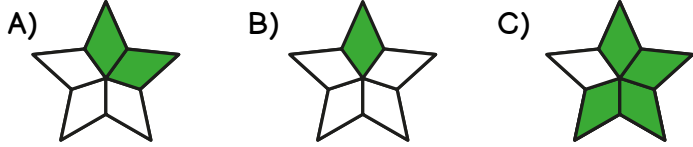
- A) 15 B) 20 C) 25

4. Yandaki kesrin okunuşu aşağıdakilerden hangisidir?

- A) dokuzda sekiz
B) onda sekiz
C) onda dokuz



5. Görseli verilen kesirlerden hangisi birim kesirdir?




Yukarıdaki sayı doğrusunda soru işareti ile gösterilen kesrin ifade edilişi aşağıdakilerden hangisidir?

- A) $\frac{1}{5}$ B) $\frac{3}{4}$ C) $\frac{2}{3}$

7. 40 kişilik bir sınıfın $\frac{1}{4}$ 'i kız öğrencidir. Bu sınıftaki kız öğrenci sayısı kaçtır?

- A) 10
B) 20
C) 30



optimistogretmen

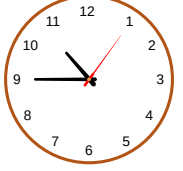
8. Melisa 72 sayfalık kitabın $\frac{1}{3}$ 'ini okudu. Okuması gereken kaç sayfa daha vardır?

- A) 48
B) 52
C) 75



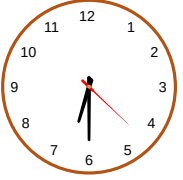
9. Yan tarafta verilen saat kaçı göstermektedir?

- A) 9.45
B) 10.45
C) 09.11



10. Efe yan tarafta verilen saatte ders çalışmaya başladı. 100 dakika sonra çalışmasını bitirdi. Efe çalışmasını bitirdiğinde saat kaçtır?

- A) 18.30
B) 20.10
C) 20.30



11. Bir yıl gündür.

Bir yıl haftadır.

İfadelerine göre $\star + \text{}$ kaçtır?

- A) 313 B) 317 C) 417



12. Yanda verilen dijital saatin okunuşu hangisidir?

- A) Altıya yirmi beş var.
B) Beşi yirmi beş geçiyor.
C) Beş buçuk.



13. Sabah saat 08.30'da okula giden Sibel, 6 saat 30 dakika sonra eve dönüyor. Sibel eve döndüğünde saat kaçtır?

- A) 14.30
B) 15.00
C) 15.30



14. Akşam 22.00'de yatıp sabah 10.00'da uyanan Hatice kaç saat uyumuştur?

- A) 10
B) 11
C) 12



15. 4 tane 1 TL, 4 tane 50 kr. ve 8 tane 25 kr. kaç TL eder?

- A) 8 TL
- B) 9 TL
- C) 10 TL




16. Aşağıdaki eşitliklerden hangisi yanlıştır?

- A) 275 kr. = 2 TL 75 Kr.
- B) 305 kr. = 3 TL 50 kr.
- C) 400 kr. = 4 TL

17. Ada tanesi 1 TL 25 kr. olan çikolatalardan 4 tane alıyor. Satıcıya 10 TL uzatan Ada kaç TL para üstü alır?

- A) 3 TL
- B) 4 TL
- C) 5 TL



18. Kemal harçlıklarından her ay 35 TL biriktiriyor. Bir yıl sonunda Kemal'in kaç TL'si birikir?

- A) 420 TL
- B) 700 TL
- C) 1400 TL




19. Yan tarafta verilen paraların toplamı ne kadardır?

- A) 380 TL
- B) 383 TL
- C) 388 TL



20. Yan tarafta verilen hayvanın ağırlığı aşağıdakilerden hangisi kadar olabilir?

- A) 30 kg
- B) 350 kg
- C) 3000 kg




21. Aşağıdaki varlıklardan hangisinin kütlesi gram ile ölçülür?



optimistogretmen

22. Bir kasa portakal 35 kg gelmektedir. 25 kasa portakal alan bir manav toplam kaç kg portakal almıştır?

- A) 785 kg
- B) 875 kg
- C) 925 kg



23. Yarım kilosunu 150 TL olan kıymanın 3 kilogramı kaç TL'dir?

- A) 450 TL
- B) 700 TL
- C) 900 TL



24. Özlem ve Özkan iki kardeş. Özmen 25 kg, Özkan 33 kg'dır. Babaları Özcan Beyin kilosunu ise iki kardeşin kiloları toplamının 12 fazlası kadardır. Özcan Bey kaç kg'dır?

- A) 70 kg
- B) 80 kg
- C) 95 kg



25. Bir manav her bir kasası 40 kg olan 15 kasa havuç almış, gün sonuna kadar 12 kasesini satmıştır. Gün sonunda manavın elinde kaç kg havuç kalmıştır?

- A) 100 kg
- B) 120 kg
- C) 150 kg



**DEĞERLENDİRME BİTTİ.
CEVAPLARINI KONTROL ETMEYİ UNUTMA.**



3. SINIF MATEMATİK

NİSAN ARA TATİLİ DEĞERLENDİRME

CEVAP ANAHTARI

1	C
2	B
3	A
4	C
5	B
6	B
7	A
8	A
9	B
10	B

11	C
12	A
13	B
14	C
15	A
16	B
17	C
18	A
19	C
20	B

21	A
22	B
23	C
24	A
25	B



3.

SINIF

Nisan Ara Tatili

TÜRKÇE

Değerlendirme Etkinliği



optimistogretmen



3. SINIF TÜRKÇE NİSAN ARA TATİLİ DEĞERLENDİRME ETKİNLİĞİ



Günlerden bir gün, köylerden birinde bir çiftçinin eşiği kör kuyuya düşer. Eşek saatlerce acı içinde kıvrılır ve bağırır. Sesini duyan sahibi gelip baktığında zavallı eşiği kuyunun dibinde görür.

Çaresiz çiftçi köylüleri yardıma çağırır. Köylüler kör kuyudaki eşiği kurtarmak için ne yapacaklarını düşünürler ama sonuçta onu kurtarmanın imkânsız olduğuna ve bunun için çalışmaya değmeyeceğine karar verirler.

Tek çare, kuyuyu toprakla örtmektir. Herkes ellerine aldığı küreklerle etraftan kuyunun içine toprak atar. Zavallı hayvan, üzerine gelen toprakları, her seferinde silkerek dibe döker. Bir süre sonra ise ayaklarının altına aldığı toprak sayesinde her an biraz daha yükselir ve sonunda yukarıya kadar çıkar. Köylüler kuyudan dışarı çıkan eşiğe çok şaşırır.

İşte hayat da bazen bizim üzerimize yüklenir ve üzerimiz toz toprakla örtülüyormuş gibi olur. Bunlarla baş etmenin tek yolu, yakınıp sızlanmak değil, düşünüp silkelenmek ve kurtulmak, aydınlığa adım atmaktır. Kör kuyuda olsak bile...

İlk 4 soru metne göre cevaplandırılacaktır.

1. Kuyuya düşen hayvan aşağıdakilerden hangisidir?

- A) Eşek B) Horoz C) Köpek

2. Çiftçi kimlerden yardım istemiştir?

- A) belediyeden B) köylülerden C) hocadan

3. Köylülerin bulduğu çare aşağıdakilerden hangisidir?

- A) Eşiğe halat sarkıtmak
B) Kuyuya kova sallandırmak
C) Kuyuyu toprak ile kapatmak

4. Eşek kuyudan nasıl kurtulmuş?

- A) Kendisine uzatılan ip ile
B) Üzerine atılan toprağı silkeleyerek
C) Kovanın içine binerek



5. Aşağıdaki sözcüklerden hangisi sözlükte diğerlerinden sonra gelir?

- A) takım B) taklit C) taksi

6. kardeş - kalem - kask - kantar sözcükleri sözlük sırasına dizildiğinde baştan ikinci kelime hangisi olur?

- A) kask B) kantar C) kardeş

7. Hangi sözcüğün yazımı yanlıştır?

- A) yalnız B) eşofman C) tıraş

8. "Saatin kaç olduğunu fark etmedim()" cümlesinin sonuna hangi noktalama işareti gelmelidir?

- A) ! B) ? C) .

9. Aşağıdaki cümlelerin hangisinde noktalama işaretleri ile ilgili yanlışlık yapılmıştır?

- A) Ders saat 09:00'da başladı.
B) TBMM 23 Nisan 1920'de açıldı.
C) İzmir'de hava güneşliydi.



10. Aşağıdaki kelimelerden hangisi "doktor" kelimesinin eş anlamlısıdır?

- A) muallim B) hemşire C) hekim

11. Aşağıdaki cümlelerden hangisinde "güz" kelimesinin eş anlamlısı kullanılmıştır?

- A) Sonbaharda yapraklar sararıp döküldü.
B) Yaz tatilini ipe çekiyorum.
C) Sabah kalkınca yüzümü yıkadım.

12. Aşağıdaki cümlelerden hangisinde "sulh" kelimesinin eş anlamlısı kullanılmıştır?

- A) Savaşın sonunda kaybeden yine onlardı.
B) Barış içinde yaşamak herkesin hakkıydı.
C) Çocukları üzmeye kimsenin hakkı yoktu.



13. "Bu kadar çalışkan olmayı nasıl başarıyorsun." cümlesinde altı çizili sözcüğün zıt anlamlısı aşağıdakilerden hangisidir?

- A) güçsüz B) tembel C) kötü

14. Aşağıdaki cümlelerin hangisinde "kara" kelimesinin zıt anlamlısı kullanılmıştır?

- A) Siyah eldivenimi bulamıyorum.
B) Denizdeki dalgalar gittikçe büyüyordu.
C) Ak sakallı dede uykuya dalmıştı.

15. "Güç" kelimesinin eş anlamlısı aşağıdakilerden hangisidir?

- A) kuvvet B) kas C) zor

16. Aşağıdakilerden hangisi cümle niteliği taşımaz?

- A) Geldim
B) Dur
C) Hava çok



17. Aşağıdaki cümlelerin hangisinde şaşıрма anlamı vardır?

- A) Onu üzdüğüm için çok pişmanım.
B) Neden Afyon'dan taşınmaya karar verdiniz?
C) Sınavdan bu kadar yüksek almanı beklemiyordum.

18. "vakit - zaman" sözcükleri arasındaki anlam ilişkisi aşağıdakilerden hangisinde yoktur?

- A) ihtiyar - yaşlı
B) ilk - son
C) uzak - ırak



19. Aşağıdaki sözcüklerden hangisi eş sesli değildir?

- A) ben B) yaz C) güzel

20. Aşağıdaki cümlelerin hangisinde yazım yanlışı yoktur?

- A) Altışar saymayı öğrenmedin mi?
B) Antalyadan sonra Muğla'ya gideceğiz.
C) Kuşum Şakirin kanadı yaralandı.

21. I. kesmemeliyiz.

- II. kişinin
III. konuşan
IV. sözünü



Yukarıdaki sözcüklerle anlamlı ve kurallı bir cümle kuracak olursak sıralama nasıl olmalıdır?

- A) IV-I-III-II B) I-IV-III-II C) III-II-IV-I

22. Aşağıdaki cümlelerin hangisinde hayali bir öğeye yer verilmiştir?

- A) Dinozorların nesli tükenmişti.
B) Ejderha ağzından ateşler çıkarıyordu.
C) Eskimoların buzdan evlerine iglo adı verilir.

23. Nasreddin Hoca bir gün bir işi için Konya'ya gitmiş. Yolda giderken bir adam Hoca'yı durdurmuş:
– Pardon Amca, bugün ayın kaçını biliyor musun?, demiş.

Hoca:

– Ne bileyim yahu! Ben buraların yabancısıyım, demiş.

Okuduğunuz metnin türü nedir?

- A) masal B) fıkra C) şiir

24. Aşağıdaki deyimlerden hangisi "istemeden dinlemek" anlamındadır?

- A) Etekleri zil çalmak
B) Burnunu sürtmek
C) Kulak misafiri olmak



25. Aşağıdaki atasözlerinden hangisi "planlı olmanın öneminden" bahsetmektedir?

- A) Bugünün işini yarına bırakma.
B) Çok bilen çok yanılır.
C) El elden üstündür.



**DEĞERLENDİRME BİTTİ.
CEVAPLARINI KONTROL ETMEYİ UNUTMA.**



3. SINIF TÜRKÇE NİSAN ARA TATİLİ DEĞERLENDİRME CEVAP ANAHTARI

1	A
2	B
3	C
4	B
5	C
6	B
7	A
8	C
9	A
10	C

11	A
12	B
13	B
14	C
15	A
16	C
17	C
18	B
19	C
20	A

21	C
22	B
23	B
24	C
25	A

