

ADI SOYADI:

TÜRKÇE



Küçük tırtıl daldan dala geçerek durmadan yaprak yiyordu. Çünkü ömrü kısa olduğu için hemen gelişip kelebek olmak istiyordu. Masmavi gökyüzünde güzel

kanatlarıyla uçarak çiçekleri seyretmek en büyük hayalimdi. Bunu yapabilmek içinde düzenli olarak ağaçların yapraklarını tüketiyordu.

Yine bir gün yaprak yerken bir kuşun acılar içinde kıvrandığını görmüş. Kuşa yanaşarak "Neyin var, neden ağlıyorsun?" diye sormuş. Kuşa "Dün fırtınalı havada uçmak istedim ama uçarken kanadımı incittim. Bu yüzden ailemin yanına uçup gidemiyorum." dedi. Tırtıl, kuşun haline acıyarak hemen ipeğiyle kolunu pansuman yaptı. Sonra "Sabaha kadar bir şeyin kalmaz. Bir daha aileden habersiz fırtınalı havalarda uçma." dedi.

Sabah olduğunda gagasıyla kanadındaki ipekleri temizleyince iyileştğini anladı.

(İlk üç soruyu metne göre cevaplandırınız.)

1- Tırtılın en büyük hayali nedir?

- A) Gökyüzüne uçup, güzel çiçekleri seyretmek.
- B) Çok yaprak yiyerek çok güçlü olmak.
- C) Kelebekler içinde en güzeli olmak.

2- Kuşun kanadı neden incinmiş?

- A) Ağaca çarptığı için incinmiş.
- B) Fırtınalı havada uçunca incinmiş.
- C) Avcılar kanadı vurduğu için incinmiş.

3-Tırtıl kuşun kanadını nasıl iyileştirmiş?

- A) Kanadına ilaç sürerek
- B) Kanadına yaprak sararak.
- C) Kanadını ipekle sararak.

5-Aşağıdaki olayları oluş sırasına göre sıralarsak **son** cümle hangisi olur?

- A) Daha sonra hamuru kapatıp, pişirdi.
- B) Sonra hazırladığı patatesli harcı koydu.
- C) Önce annem hamurları güzelce açtı.

4-Aşağıdaki kelimelerden hangisi cümle **değildir**?

- A)Okula geldim
- B)Kırmızı çiçek
- C)Ödevi bitiriyor

A B C Ç D E F G Ğ H
I İ J K L M N O Ö
P R S Ş T U Ü V Y Z

6-Aşağıdaki harfleri alfabetik sıraya göre dizdiğimizde, hangisi anlamı olan bir kelime olur?

- A) E-L-A-S-T
- B) Ü-K-R-Ö-P
- C) H-İ-S-O-L

1-Nasıl?	Eyüp, okula <u>yürüyerek</u> geldi.
2-Kim?	Hastalanan <u>Erdem</u> eve gitti.
3-Nerede?	Bahçede <u>öğretmenini</u> bekliyor.

7-Tablodaki soruların cevapları, cümlede altı çizilerek gösterilmiştir. Buna göre hangi sorunun cevabı **yanlış** gösterilmiştir?

- A) 1
- B) 2
- C) 3

	cimri			elbise
	giysi			şekil
	tamir			pinti
	biçim			onarım

8-Tablodaki kelimeler eş anlamlarıyla eşleştirildiği zaman tablonun görünümü aşağıdakilerden hangisi olur?

- A)
- B)
- C)

9-Aşağıdaki cümlelerden hangisinin **kelime sayısı** diğerlerinden fazladır?

- A) Annemi gören var mı?
- B) Dün iki kitap aldım.
- C) Kalem mi kim aldı?

10-"Sinema" sözcüğünün ünlü ve ünsüz harflerini gösteren tablo aşağıdakilerden hangisidir?

	Ünlü harfler	Ünsüz harfler
A)	i-e-a	s-n-m
B)	s-n-m	i-e-a
C)	s-i-n-e-m-a	si-ne-ma

11-Aşağıdaki cümlelerin hangisinde hareket (fiil) anlamı bildiren kelime yoktur?

- A) Çilekleri yıkayıp, yedik.
B) Babamın arabasının rengi beyazdı.
C) Esmâ yine kağıtları alıp, yırtmış.

Küçük bir masalla başladı her şey.

Beyaz bulutlar aniden siyahlaştı.

Hızlı giden araba kırmızı ışıktâ yavaşladı.

12-Yukarıdaki çocukların hangisi, zıt anlamlı kelimeleri bir arada kullanmamıştır?

- A)  B)  C) 

Aynı tür varlıklardan bir tanesini belirten adlara "tekil ad" diyoruz.

13-Yukarıdaki tanıma göre aşağıdakilerden hangisi tekil addır?

- A) çocuk B) sıralar C) çiçekler



14-Görsel, aşağıdaki deyimlerden hangisini ifade etmektedir?

- A) Gözden düşmek
B) Göze girmek
C) Göz boyamak

"Babam yeni elbiseler aldı bize."

15-Yukarıdaki cümle için aşağıdakilerden hangisi söylenemez?

- A) Cümle, 5 kelimeden oluşmaktadır.
B) Cümlede 12 hece vardır.
C) Anlamlı ve kurallı bir cümledir.


MATEMATİK

1-Aşağıdaki eşitliklerden hangisi yanlıştır?

- A) $2+2+2=3 \times 2$ B) $11-5=3 \times 3$

C) $33 \times 0=33-33$

2-Arkadaşlar görseldeki yumurtaların çeyreğini pasta yapmak için kullandım. Geriye kaç yumurta kaldı?



- A) 4
B) 8
C) 12



3-Aşağıdaki ardışık çıkarma işlemlerinden hangisi bölme işlemine dönüştüremez?

- A) $6-2=4$ B) $15-5=10$ C) $9-2=7$
 $4-2=2$ $10-5=5$ $7-3=4$
 $2-2=0$ $5-5=0$ $4-4=0$

8
çeyrek

2
bütün

4
yarım



4-Çocukların söylediklerine göre toplam kaç bütün eder?

- A) 4
B) 6
C) 8

5-Aşağıdakilerden hangisinin kenar sayısı diğerlerinden farklıdır?



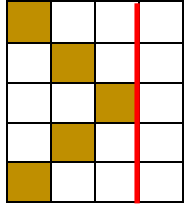
6-Kerem'in 48 lirası parası vardı. Kendine ve arkadaşlarına tanesi 3 lira olan gofretlerden 6 tane aldı. Kerem'in geriye kaç lirası kaldı?

- A)50
B)30
C)28

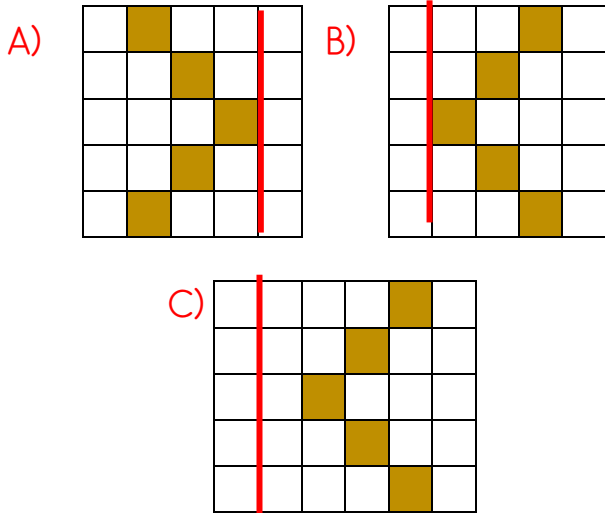
$34 + \text{yellow diamond} = 56$
 $\text{yellow diamond} - 18 = \text{green circle}$
 $\text{green circle} \times 5 = \text{yellow square}$
 $\text{yellow square} \div 4 = \dots\dots\dots$

7-Yukarıda işlemlerde verilmeyen sayılar sırasıyla yazıldığı zaman noktalı yere kaç yazılmalıdır?

- A)5
B)4
C)3



8-Yandaki şeklin görüntüsünün simetri çizgisine göre simetrisi aşağıdakilerden hangisidir?



14-Bir manav her kasada 6 karpuz olan kasalardan 5 tane alıyor. Karpuzların 21 satınca geriye kaç tane karpuzu kalıyor?

- A) 11
B) 7
C) 9



Ben 10 kiloyum. Ya sen...?



Ben de senin 7 katından 45 eksikim.

9-Yukarıdaki bilgilere göre köpek kaç kilodur?

- A) 54
B) 25
C) 39



10-Yukarıdaki şekil örüntüsünün kuralına benzer bir örüntü hangi seçenekte vardır?

- A) A,B,A,B,A,B,A,B,A B) A,B,B,A,B,B,A,B,B
C) A,B,C,A,B,C,A,B,C

11-Öğretmenimiz her öğrencisine yarım portakal yetecek kadar portakal kesti. Öğretmenimiz 12 portakal kestiğine göre sınıf mevcudumuz kaç kişidir?

- A) 24
B) 22
C) 20



12-Yukarıdaki balonların toplam sayısını aşağıdaki çarpma işlemlerinden hangisi ile gösterilmeli?

- A) 3×3 B) 6×3 C) 3×6



13-Elindeki balonları 4 arkadaşına eşit paylaştıran Mete, her arkadaşına kaç balon vermiş olur?

- A) 2
B) 4
C) 6



15-Kitabımın önce 45 sonra 25 sayfasını okudum. Geriye 15 sayfa kaldığına göre kitabı kaç sayfadır?

- A) 70
B) 85
C) 55

HAYAT BİLGİSİ

Şemsi Efendi İlkokulu
Harp Okulu
Mahalle Mektebi
Manastır Askeri Lisesi
Selanik Askeri Ortaokulu

1-Atatürk'ün gittiği okullar, sırasıyla numaralandırıldığı zaman tablonun görünümü aşağıdakilerden hangisi olur?

- A) 2. 5. 1. 4. 3.
B) 1. 5. 2. 3. 4.
C) 4. 2. 1. 3. 5.

Şekerli besinleri fazla tüketmek sağlığımızı bozar. Karaciğerimiz yorulur, dişlerimiz çürür.

2-Aşağıdakilerden hangisini daha az yemek sağlığımız için daha olur?

- A) çikolata B) yumurta C) yoğurt



3-Türkiye haritasında numarayla gösterilen denizlerin adı hangi seçenekte doğru gösterilmiştir?

1 2 3

- A) Karadeniz Akdeniz Ege Denizi
B) Ege Denizi Karadeniz Akdeniz
C) Karadeniz Ege Denizi Akdeniz

- Arkadaşlarla birlikte sınıfımızı süsledik.
- Balkona, pencereye bayraklar astık.
- Törende şiirler okuduk.

4-Oğuz'un yukarıda yaptığı açıklamalara göre hangi bayramdan bahsetmiş olabilir?

- A) Cumhuriyet Bayramı
B) Kurban bayramı
C) Ramazan bayramı



5-Atatürk'e Kemal adını kim vermiştir?

- A)dedesi B)annesi C)öğretmeni

6-Okul çantasında herhangi bir eksiklik olmasını istemeyen Yağız, çantasını günlük olarak neye göre hazırlamalıdır?

- A) Haftalık plan B) Ders programı
C) Sınıf düzeni

Cumhuriyet Bayramı	Kurtuluş Savaşı başladı.
Ulusal Egemenlik ve Çocuk Bayramı	Kurtuluş Savaşı bitti.
Gençlik ve Spor Bayramı	Yönetim şekli değişti.
Zafer Bayramı	Meclis açıldı.

7-Tablodaki milli bayramlar ve kutlama sebeplerinin doğru eşleştirilmesi aşağıdakilerden hangisidir?

- A)
B)
C)

8-Aşağıdakilerden hangisi güvenli oyun oynayacağımız alan **değildir**?

- A) Okul bahçesi B) Oyun parkı
C) Evimizin sokağı

9-Aşağıdaki elektrikli araçlardan hangisini yardım almadan çalıştırıp kullanabilirim?

- A) B) C)

10-Aşağıdakilerden hangisi doğru bir davranış **değildir**?

- A) Taşıtlar durmadan inmemeliyiz.
B) Yaşlılara yer vermeliyiz.
C) Hava almak için kafamızı camdan çıkarmalıyız.

Başarılar...