



Aşağıda verilen varlık gruplarından kaç tane yarım oluşturulabileceğimizi altlarına yazalım.



yarım

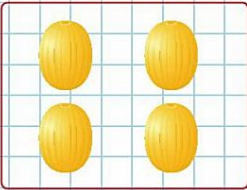
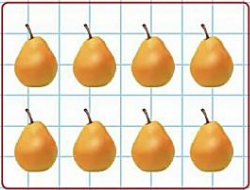
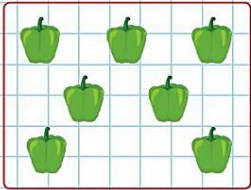






yarım

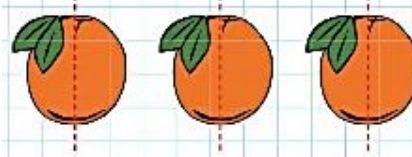


yarım

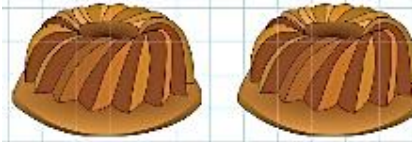
Aşağıda verilen varlık gruplarından kaç tane yarım oluşturulabileceğimizi altlarına yazalım.




Aşağıdaki bütünleri iki eş parçaya ayıralım. Kaç yarım ettiğini yazalım.



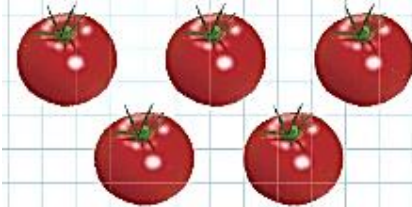
3 bütün portakal 6 yarım portakal eder.



2 bütün kek kek eder.



4 bütün armut armut eder.



5 bütün domates domates eder.



6 bütün kabak kabak eder.

Aşağıdaki bütünlerin kaç yarım ettiklerini örnekteki gibi noktalı yerlere yazınız.



1 bütün ekmek 2 yarım ekmek eder.



3 bütün portakal 6 yarım portakal eder.



4 bütün elma 8 yarım elma eder.



10 bütün çilek 20 yarım çilek eder.



8 bütün domates 16 yarım domates eder.



6 bütün limon 12 yarım limon eder.



10 bütün kayısı 20 yarım kayısı eder.



10 bütün erik 20 yarım erik eder.



2 bütün nar 4 yarım nar eder.



6 bütün armut 12 yarım armut eder.



5 bütün kayısı, 10 yarım kayısı eder.



7 bütün portakal, 14 yarım portakal eder.



8 bütün çilek, 16 yarım çilek eder.



4 bütün karpuz, 8 yarım karpuz eder.


2 Aşağıdaki yarımaların kaç bütün ettiğini bulun.



5 yarım limon, 10 bütün limon eder.



5 yarım ekmek, 10 bütün ekmek eder.



5 yarım salatalık, 10 bütün salatalık eder.



4 yarım mısır, 8 bütün mısır eder.