

ADI SOYADI:

TÜRKÇE



Öğretmenimiz kültür konusunu anlatıyordu. "Çocuklar, Türk kültürü dediğimiz zaman aklımıza mantı,

lokum, kına gecesi, sünnet ve yöresel oyunlar gibi unsurlar gelmektedir. Ayrıca halay, zeybek ve horon gibi yöresel oyunlar oynanırken folklor kıyafeti giyeriz. İsterseniz Duru arkadaşınız örnek olarak, folklor kıyafetini giyip gelsin." O esnada Frans'a'dan gelen sınıf arkadaşımız Yasmin parmak kaldırarak "Öğretmenim, ben ve Suriyeli arkadaşımız Tesnim'de kendi kültürümüze ait folklor kıyafetlerini giyelim. Arkadaşlarımız bizi kendi yöresel kıyafetlerimizle görsünler." dedi. Öğretmenim de memnuniyetle kabul etti. Duru kırmızı elbisesinin üzerindeki kemeriyle, Yasmin sarı eteğin üzerine siyah yelegiyle, Tesnim'de siyah elbisenin üzerindeki işlemeleriyle harika görünüyorlardı.

(İlk üç soruyu metne göre cevaplandırınız.)


1- Aşağıdakilerden hangisi Türk kültürüne ait bir unsur **değildir**?

- A) makarna B) lokum C) kına gecesi

2- Yasmin'in öğretmenine söylediği öneri nedir?

- A) Fransa'nın yemeklerini tanıyalım.
B) Farklı kültür kıyafetlerini gösterelim.
C) Suriye'de oynanan oyunları öğrenelim.

3- Aşağıdaki folklor kıyafetlerinden hangisi Duru'nun giydiği folklor kıyafetidir?



4- Aşağıda parantezle gösterilen yerlerden hangisine kesme işareti konulmalıdır?

- A) Türkiye()Almanya maçı ne zaman?
B) Ankara, Türkiye()nin başkentidir.
C) Annem" Çalışanın bahanesi yoktur, çalış() mayanın bahanesi çoktur." derdi.



5- Yukarıdaki görselde yazan atasözünün anlamı, aşağıdakilerden hangisidir?

- A) Çocuklar küçük yaşta yeten eğitilmelidir.
B) Bakımı ve ilgisi yapılan nesneler fayda verir.
C) İşler dayanışmayla daha çabuk biter.

6- Aşağıdaki kelime çiftlerinden hangisi zıt anlamlı kelime **değildir**?

A) Geç-erken

B) çıktı-çıkmadı

C) sağ-sol

"Akşamüstü yağmur yağmasına rağmen markete gitti. Marketten çikolata, şeker ve sakız aldı."

7- Yukarıdaki metinde hikaye unsurlarından hangisine yer **verilmemiştir**?

- A) Yer B) Zaman C) Ana Karakter



Ayaz

23 nisan Ulusal Egemenlik ve Çocuk Bayramını kutladık.



Muhammed

Ramazan Bayramı çok güzel geçti.



Elif

Mayısta anneler gününü kutlayacağız.

8- Yukarıdaki çocuklardan hangileri büyük harflerin kullanımıyla ilgili **yanlışlık** yapmışlardır?

- A) Ayaz B) Muhammed-Elif C) Ayaz-Elif



9- Zehra, yukarıda balonlardan sadece eş anlamı olanları bulup patlattığına göre hangi balonu **patlatamıyor**?

- A) konuk B) millet C) beyaz

| | |
|---|--------------------------------------|
| I | Kapının önünde arkadaşımı gördüm. |
| A | Hava durumu yağmurlu gösteriyordu. |
| R | Yağmurluğumu ve botumu giydim. |
| Ç | Evden çıkmadan hava durumuna baktım. |
| K | Beraber okula doğru gittik. |

1. 2. 3. 4. 5.

10-Olayları oluş sırasına göre harfleri sırasıyla yazdığımız zaman hangi şifre ortaya çıkmaktadır?

- A)ÇARIK B)KIRAÇ C)ÇIRAK

Hediyeyi görünce sevinçten havalara uçtum.

11-Cümledeki deyimle ilgili ifadelerden hangisi **yanlıştır**?

- A) Cümledeki "havalara uçmak" bir deyimdir.
B) Deyim, cümlelerin anlamına uygun değildir.
C) Cümledeki deyim gerçek anlamının dışında kullanılmıştır.

- Tek başına anlamı olmayan kelimelere bağlaçta denir.
- Bağlacın görevi, kelime veya kelime gruplarını birbirine bağlamaktır.
- Cümle içinde anlam kazanırlar.
-

12-Aşağıdaki cümlelerin hangisinde **tek başına anlamı olmayan kelime (bağlaç)** vardır?

- A) Hafta sonu arkadaşlarla geziye gideceğiz.
B) Enes artık çok başarılı çünkü değişti.
C) Bir bardak su verir misin?

13-"Öğrenciler bahçede annelerini bekledi."cümlesinde geçen isimlerden hangisi **tekil** isimdir?

- A) Öğrenciler B) bahçede C) annelerini

| | | | |
|--------|-------|---------|---------|
| yarına | işini | bırakma | bugünün |
| 1 | 2 | 3 | 4 |

14-Yukarıdaki kelimelerden anlamlı ve kurallı bir cümle yapılırsa, sıralama nasıl olur?

- A) 1 - 2 - 3 - 4 B) 4 - 2 - 1 - 3
C) 3 - 2 - 1 - 4

Kim bana cins isim söyleyecek?

Şafak sokak

okul

Volkan Hoca

Işıl Mira Esmâ

15-Öğretmenin sorusuna hangi öğrenci doğru cevap vermiştir?

- A) Işıl B) Mira C) Esmâ

MATEMATİK



1-Bugünkü ödevim 1 saat 10 dakika sürdüğüne göre ödevimi kaç dakika bitirdim?

- A) 60 dakika B) 70 dakika C) 80 dakika



20 sayısının çeyreği ile yarısının toplamı kaç eder?

- 2-
A)15
B)12
C)18

MAYIS 2023

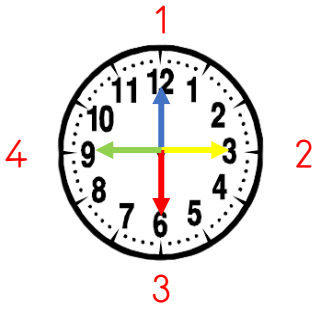
| Pzts | Sl | Çrş | Prş | Cm | Cmts | Pz |
|------|----|-----|-----|----|------|----|
| 1 | 2 | 3 | 4 | 5 | 6 | 7 |
| 8 | 9 | 10 | 11 | 12 | 13 | 14 |
| 15 | 16 | 17 | 18 | 19 | 20 | 21 |
| 22 | 23 | 24 | 25 | 26 | 27 | 28 |
| 29 | 30 | 31 | | | | |

3-Yukarıdaki takvime göre aşağıdaki ifadelerden hangisi **yanlıştır**?

- A) Bu ayda 31 hafta vardır.
B) Ayın 11'i, perşembe günüdür.
C) Mayıs ayında hafta sonu 8 gündür.

4-Nisa'nın 16 lirası vardı. Bayramda anne ve babası 30 lira, akrabalarından 44 lira harçlık topladı. Nisa, tanesi 10 lira olan kitaplardan kaç tane alabilir?

- A)10
B)9
C)8



Tam saat

Yarım saat

Çeyrek var

Çeyrek geçiyor

5-Yukarıdaki saatte, yelkovanın yerleri farklı renklerle gösterilmektedir. Yelkovanın numaralı durduğu yerlere, gün içerisinde sırasıyla ne deriz?

| | 1 | 2 | 3 | 4 |
|----|----------------|----------------|------------|----------------|
| A) | Tam saat | Çeyrek geçiyor | Yarım saat | Çeyrek var |
| B) | Yarım saat | Çeyrek var | Tam saat | Çeyrek geçiyor |
| C) | Çeyrek geçiyor | Yarım saat | Çeyrek var | Tam saat |

6-Annem, bana ve arkadaşlarıma toplam 8 tane çeyrek pasta verdiğine göre annem kaç bütün pasta kesmiştir?

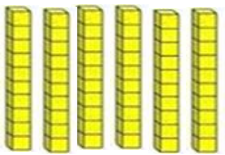



7-Zaman kavramlarıyla ilgili aşağıdaki eşitliklerden hangisi doğrudur?

- A) 12 ay = 1 yıl B) 3 ay = 60 gün
C) 2 çeyrek saat = 1 saat



8-Yukarıdaki şekil örüntüsüne göre noktalı yere hangi şekiller gelmelidir?



9- Yandaki model sayısıyla ilgili aşağıdakilerden hangisi **yanlıştır**?

- A) 6 desteden oluşmaktadır.
B) 5 düzinenin çarpımına eşittir.
C) Sayının birler basamağında 6 vardır.

Şubat
Mart
Nisan

Nisan, Mayıs, Haziran

Mart
Nisan
Mayıs



Mira



İsmail



Oğuz

10-Yukarıdaki öğrencilerden hangisi ilkbahar mevsiminin aylarını doğru söylemiştir?

- A) Mira B) İsmail C) Oğuz

| SAYI | 66 | | 23 | |
|----------------|----------------|-----------------|----------------|-----------------|
| Basamak Adları | Onlar basamağı | Birler basamağı | Onlar basamağı | Birler basamağı |
| Basamak Değeri | | 6 | 20 | |

11-Tabloda bulunan sayıların basamak değerleri doğru bir şekilde yazıldığı zaman sembollerin yerine gelen sayıların toplamı kaçtır?

- A) 63 B) 60 C) 25



12-Yukarıdaki sayı örüntüsünde kuralı bozan sayı hangi seçenekte verilmiştir?

- A) 42 B) 47 C) 53

| | | |
|----|----|----|
| 11 | 73 | 96 |
| 47 | 80 | 51 |

13-Yukarıdaki sayıların büyüktен küçüğe doğru sıralaması aşağıdakilerden hangisidir?

- A) 80-73-96-51-47-11 B) 96-80-73-51-47-11

C) 11-47-51-73-80-96

14-Ömer, tabaktaki eriklerin 23 tanesini ablası da 32 tanesini yiyor. Tabakta hala 38 erik olduğuna göre başlangıçta kaç tane erik vardı?

- A) 93
B) 86
C) 88

15-Bir bölme işleminde bölünen 28 bölen 4 ise bölüm sayısı kaçtır?

- A) 9
B) 7
C) 5

HAYAT BİLGİSİ

| | |
|--|--------------------------------------------|
| | Eş, dost ve akraba ziyaret edilir. |
| | Şiirler okunur. |
| | Okulların ve evlerin camına bayrak asılır. |
| | Ev ziyaretlerinde ikramlıklar dağıtılır. |

1-Yukarıdaki ifadelerde belirtilen faaliyetlere göre milli bayramlara (M), dini bayramlara (D) yazarsak tablonun görünümü hangisi olur?

- A)

| |
|---|
| M |
| M |
| D |
| D |

 B)

| |
|---|
| M |
| D |
| D |
| M |

 C)

| |
|---|
| D |
| M |
| M |
| D |

2-Aşağıdakilerden hangisini sınıfça ortak karar olarak **belirleyemeyiz**?

- A) Sınıf kuralları B) Okul çıkış saati
C) Sınıf başkanı



3-Buna göre, Defne için hangisi **söylenemez**?

- A) Evde yardımlaşmayı sevmektedir.
B) Sadece kendi işlerini yapmaktadır.
C) Kendisine verilen görevleri yapmaktadır.

4-Ali 9 yaşında birisi olduğuna göre aşağıdaki davranışlardan hangisini yapması **tehlikelidir**?

- A) Televizyonu kumandadan kapatabilir
B) Oyuncaklarını toplayabilir.
C) Okul formasını ütöleyebilir.

5-Ders programına göre okuluna gelen bir öğrenci için hangisini söylemek **yanlıştır**?

- A) Çantaya ihtiyaç duyduğu malzemeleri koyar.
B) Okula hazırlıklı gelmiş olur.
C) Okula zamanında gitmiş olur.

6-Aşağıdaki tarihlerin hangisinde milli bayram **yapılmaz**?

- A) 23 Nisan B) 30 Ağustos C) 14 Ekim

| | | | |
|--|---|---|-------------|
| | • | • | SANAYİ |
| | • | • | TARIM |
| | • | • | HAYVANCILIK |

7-Ülkemizde yapılan başlıca üretim faaliyetleri ve alanlarını eşleştirdiğimiz zaman tablonun görünümü nasıl olur?

- A) B) C)

8-"Arkadaşlık ilişkilerimizi güçlendirmek için arkadaşlarımıza karşı olmalıyız." cümlesi hangisi ile tamamlanmalıdır?

- A)öfkeli B)kaba C)dürüst

| | | | |
|--|---------------------------|--|--------|
| | Güneydoğu Anadolu Bölgesi | | Kaşık |
| | Ege Bölgesi | | Halay |
| | Karadeniz Bölgesi | | Zeybek |
| | Marmara Bölgesi | | Horon |

9-Yukarıda Türkiye'nin bazı bölgeleri ve bu bölgelerde oynanan halkoyunları gösterilmiştir. Bölge ve oyunların doğru eşleştirilmesi aşağıdakilerden hangisidir?

- A)

| |
|--|
| |
| |
| |
| |

 B)

| |
|--|
| |
| |
| |
| |

 C)

| |
|--|
| |
| |
| |
| |



..... sektöründe faaliyet gösteren dayımın yanına yardıma geldim.

10-Yukarıdaki ifadeye göre çocuğun dayısı hangi alanda çalışmaktadır?
A)tarım B)hayvanlık C)sanayi