

1. SINIF GENEL TEKRAR DENEME SINAVI

TÜRKÇE (10 SORU)



MATEMATİK (10 SORU)

HAYAT BİLGİSİ (10 SORU)





1. "Doğum günümde annemin aldığı hediye beni çok mutlu etti." diyen Ayşe'yi aşağıdaki görsellerden hangisi ifade eder?



2. Aşağıdaki cümlelerin hangisinde yazım yanlışı yoktur?

A) Çantama defter, kalem ve silgi koydum.

B) bu hafta tatile çıkıyoruz.

C) Türkiye'nin başkenti Ankaradır.

3. Aşağıdaki cümlelerin hangisinde beş heceli bir kelime vardır?

A) Arkadaşlarımı çok seviyorum.

B) Bizimle oynar mısın?

C) Bu sabah kırmızı uçurtmamızı uçurduk.

4.

1. geldi  
2. akşam  
3. tatilden  
4. ablam

Yukarıdaki sözcüklerle anlamlı ve kurallı bir cümle oluşturulduğunda sıralama nasıl olur?

A) 4-2-1-3

B) 4-3-2-1

C) 1-3-2-4

5.

acı-tatlı

Yukarıdaki kelimeler arasındaki anlam ilişkisi aşağıdaki kelimelerin hangisinde vardır?

A) siyah-kara

B) taze-bayat

C) kırmızı-al

6. Aşağıdaki cümlelerin hangisinin sonuna farklı bir noktalama işareti konmalıdır?

A) Neden bizimle gelmedi

B) Köpeğim Karabaş'ın saçını taradım

C) Yarın hastahaneye gideceğiz



1.Malzemeleri kabın içine koyup karıştırdık.

2. Misafirler için kek yapmaya karar verdik.

3.Dolaptan yumurta, un, şekeri çıkardık.

4. Kabı yarım saat pişmesi için fırına koyduk.



7. Verilen olayların oluş sırası aşağıdakilerden hangisidir?

A) 2-3-1-4

B) 2-1-3-4

C) 3-1-2-4

8. Aşağıdaki cümlelerin hangisinde zıt anlamlı sözcükler bir arada kullanılmıştır?

A)Bugün okulumuzda tören oldu.

B)Evimize misafirler geldi.

C)Önce oyun onayıp sonra ödevini yaptı.

Kuş , köpek , kedi

Havucumuzu tavşan kemirdi

Doğamız onlarsız olmaz

İnekler bize sütünü sevdirdi.

Koyun , keçi , eşek

Atlardır bize binek

Evimiz onlarsız olmaz

Horozdur bizi uyandıran tek.

9. Yukarıdaki şiirin başlığı hangisi olabilir?

A) Evcil Hayvanlar

B) Vahşi Hayvanlar

C) Horoz Kardeş

Ahmet ve Ayşe , Ankara'dan İstanbul'a taşınmışlar.

10. Yukarıdaki cümlede kaç tane özel isim kullanılmıştır ?

A)2

B) 3

C)4



1.



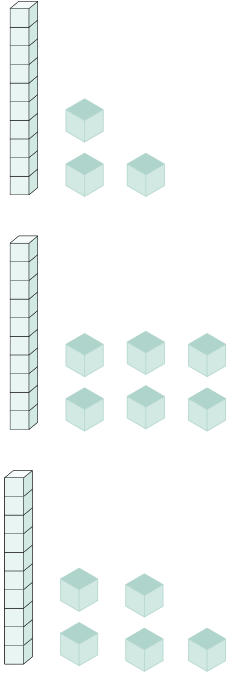
Ali



Nazlı



Mehmet



Yukarıdaki onluk ve birlik modellerine göre aşağıdaki bilgilerden hangisi doğrudur?

- A) Ali'nin sayısı 1 birlik 3 onluktan oluşmuştur.
- B) Nazlı'nın oluşturduğu sayı 20'den 7 azdır.
- C) Mehmet'in oluşturduğu sayı en büyük rakamdan 6 fazladır.

2. 6'dan başlayıp 2'şer ritmik sayan bir öğrenci 5. sırada hangi sayıyı söyler? (6 dahil)

- A) 16      B) 14      C) 12

3.



Bir çiftlikte 8 tane inek vardır. İneklerden 5 tane eksik koyun vardır. Buna göre çiftlikte toplam kaç hayvan vardır?

- A) 11      B) 9      C) 10

4.



Yukarıdaki örüntüde soru işareti yerine hangi geometrik şekil gelmelidir?

- A)      B)      C)

5. Bir çıkarma işleminde çıkan 8, eksilen 20 ise fark kaçtır?

- A) 11      B) 12      C) 13



6.


Dün	Bugün	Yarın
Pazartesi	.....	?

Yukarıdaki tabloda soru işareti yerine aşağıdakilerden hangisi gelmelidir?

A) Salı B) Perşembe C) Çarşamba

7. Dört köşesi, dört kenarı vardır. Kenarlarının ikisi uzun ikisi kısadır. Karşılıklı kenarlarının uzunlukları birbirine eşittir.

Yukarıda anlatılan geometrik şekil aşağıdakilerden hangisidir?

A)  B)  C) 

8. Aşağıdaki toplama işlemlerinden hangisinde hata yapılmıştır?

A)  $8 + 9 = 16$

B)  $11 + 7 = 18$

C)  $6 + 8 = 14$

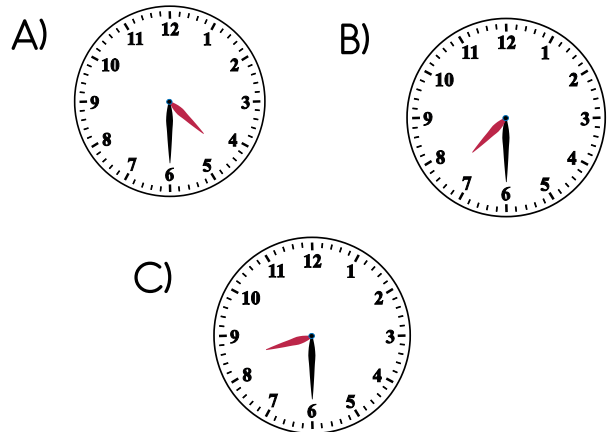
Tablo: En çok sevilen dersler

Dersler	Öğrenci Sayısı
Türkçe	6
Matematik	8
Hayat Bilgisi	4

9. Yukarıdaki tabloda verilen bilgilere göre aşağıdaki bilgilerden hangisi doğrudur?

- A) En çok sevilen ders Türkçe'dir.  
B) Matematik dersini sevenlerin sayısı Türkçe dersini sevenlerin sayısından 2 fazladır.  
C) Türkçe dersini sevenlerin sayısı Hayat Bilgisi dersini sevenlerin sayısından 2 eksiktir.

10. Saat 5.30'da eve geldikten 2 saat sonra kitap okudum diyen bir kişinin kitap okuduğu saat modeli hangisidir?





1.



Türkçe



Matematik



Görsel Sanatlar

Müzik

Yukarıdaki malzemeler dersler ile eşleştiğinde hangi ders dışarda kalır?

A) Müzik B) Türkçe C) Matematik

2. Aşağıdakilerden hangisi güvenli oyun alanı değildir?

A)



B)



C)



3. Aşağıdakilerden hangisi geri dönüştürülebilir?

A)



B)



C)



1.

arı



kovan

2.

at



kümes

3.

inek



ahır

4. Yukarıda hayvanlar ve barındıkları yerler eşleştirilmiştir. Buna göre kaç numaralı eşleştirme yanlıştır?

A) 1

B) 2

C) 3

5. Aşağıda verilen bilgilerden hangisi yanlıştır?

A) Atatürk Selanik'te doğmuştur.

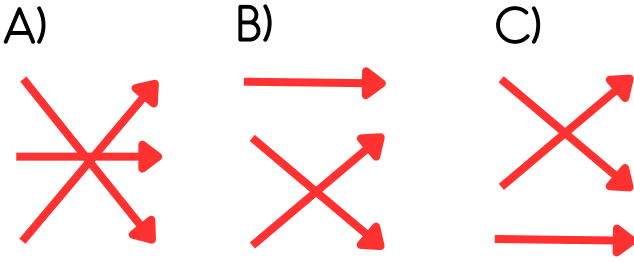
B) Atatürk'ün babasının adı Ali Rıza Efendi'dir.

C) Atatürk'ün annesinin adı Makbule Hanım'dır.



6.	Cumhuriyet Bayramı	23 Nisan
	Zafer Bayramı	30 Ağustos
	Ulusal Egemenlik ve Çocuk Bayramı	29 Ekim

Yukarıdaki bayramlar tarihleri ile eşleştirildiğinde hangi şekil oluşur?



Yukarıdaki hayvanlardan hangisi farklı bir besin ile beslenir?

- A) 1 B) 2 C) 3



Yukarıdaki numaralı besinlerden hangileri hayvansal besindir?

- A) 1-3 B) 2-4 C) 1-4



9. Aşağıdakilerden hangisi okul kurallarındandır?

- A) Söz alarak konuşmalıyız.  
B) Sınıfımızı temiz tutmalıyız.  
C) Koridorlarda koşmamalıyız.

10. Aşağıdakilerden fiziksel bir özellik değildir?

- A) Ela'nın saçları çok uzundur.  
B) Zeynep resim yapmayı seviyor.  
C) Efe'nin gözleri mavi renkmış.

Doğru seçeneğin bulunduğu kutucuğu karalayınız.

Adı:

Soyadı:

Sınıf:

TÜRKÇE			
1	A	B	C
2	A	B	C
3	A	B	C
4	A	B	C
5	A	B	C
6	A	B	C
7	A	B	C
8	A	B	C
9	A	B	C
10	A	B	C

MATEMATİK			
1	A	B	C
2	A	B	C
3	A	B	C
4	A	B	C
5	A	B	C
6	A	B	C
7	A	B	C
8	A	B	C
9	A	B	C
10	A	B	C

HAYAT BİLGİSİ			
1	A	B	C
2	A	B	C
3	A	B	C
4	A	B	C
5	A	B	C
6	A	B	C
7	A	B	C
8	A	B	C
9	A	B	C
10	A	B	C



# CEVAP ANAHTARI

TÜRKÇE			
1	A	B	C
2	A	B	C
3	A	B	C
4	A	B	C
5	A	B	C
6	A	B	C
7	A	B	C
8	A	B	C
9	A	B	C
10	A	B	C

MATEMATİK			
1	A	B	C
2	A	B	C
3	A	B	C
4	A	B	C
5	A	B	C
6	A	B	C
7	A	B	C
8	A	B	C
9	A	B	C
10	A	B	C

HAYAT BİLGİSİ			
1	A	B	C
2	A	B	C
3	A	B	C
4	A	B	C
5	A	B	C
6	A	B	C
7	A	B	C
8	A	B	C
9	A	B	C
10	A	B	C