

# DENEME

## SINAVI-2

ADI : \_\_\_\_\_

SOYADI : \_\_\_\_\_

OKUL : \_\_\_\_\_

SINIF : \_\_\_\_\_

Sevgili Öğrencilerimiz,

- Soruları dikkatlice okuyalım.
- Cevaplardan sadece bir tanesini işaretleyelim.
- Sınavımızı öğretmenimize teslim etmeden önce mutlaka cevaplarımızı kontrol edelim.



DERSLER	SORU SAYISI	DOĞRU SAYISI	YANLIŞ SAYISI
TÜRKÇE	10		
MATEMATİK	10		
HAYAT BİLGİSİ	5		



@fundateacher

Funda Menekşe



## TÜRKÇE

"Nasreddin Hoca yağmurlu bir günde pencereden dışarıyı seyrediyormuş. Bardaktan boşanırcasına yağan yağmurdan kaçan insanlar saçak altında kendine yer bulmaya çalışıyormuş. Komşusunun da yağmurdan saklandığını gören Hoca:

-Ne yapıyorsun orada? Hiç rahmetten kaçılır mı, demiş.

Zavallı adam ne yapsın, Hoca'nın aklına uymuş, eve gidene kadar sırlıklam olmuş.

Aradan günler geçmiş. Yine yağmurlu bir günmüş. Nasreddin Hoca da herkes gibi koşarak eve giderken komşusuna yakalanmış.

-Bu ne hâl Hoca, bana diyordun ya sen de mi Allah'ın rahmetinden kaçıyorsun?

Nasreddin Hoca komşusuna bakıp gülmüş:


-Ben rahmetten kaçmıyorum. Üzerine basmamak için koşuyorum, demiş."

İlk üç soruyu metne göre cevaplayalım.

1) Metinde bahsedilen günlerde hava durumu nasıldır?

- A) Güneşli
- B) Yağmurlu
- C) Rüzgârlı

2) Metnin kahramanı aşağıdakilerden hangisidir?



3) Metinde yağmurdan bahsedilirken hangi kelime kullanılmıştır?

- A) Saçak
- B) Rahmet
- C) Komşu


Babam pazardan elma ve kayısı almış.

4) Yukarıdaki cümlede hangi kelimenin tek başına anlamı yoktur?

- A) babam
- B) elma
- C) ve

5) Hangi seçenekte zıt anlamlı kelimeler vardır?

- A) yaşlı-genç
- B) siyah-kara
- C) armağan-hediye



6) Yukarıdaki resimleri oluş sırasına dizdiğimizde sıralama nasıl olur?

- A) 2-1-3-4
- B) 4-1-2-3
- C) 4-1-3-2

7) Yandaki hayvanın adı hangi seçenekte doğru hecelenmiştir?



- A) ger-ged-an
- B) ger-ge-dan
- C) gerg-e-dan



Kalemim evde kayboldu.

8) Müge'nin cümlesinde aşağıdaki sorulardan hangisinin cevabı yoktur?

- A) Ne kayboldu?
- B) Nerede kayboldu?
- C) Ne zaman kayboldu?

Bu sabah erken kalktım. Biraz spor yaptım. Güzel bir kahvaltı ettikten sonra işe gittim. İş yerinde çok iş vardı.

9) Yukarıdaki paragrafta kaç cümle vardır?

- A) 19
- B) 4
- C) 3



10) Yukarıdaki varlığın adındaki harfleri kullanarak hangi kelime yazılamaz?

- A) tarak
- B) patik
- C) takip



Türkçe testi bitmiştir. Cevaplarımızı kontrol edelim.

# MATEMATİK

1) 8 birlik ve 1 onluktan oluşan sayı kaçtır?

- A) 81      B) 18      C) 8



2) Verilen keleklerin sayısının onluk ve birlik şeklinde gösterilişi aşağıdakilerden hangisidir?

- A) 2 onluk 1 birlik  
B) 1 birlik 3 onluk  
C) 1 onluk 2 birlik

3) 45'ten başlayıp (45 dâhil) geriye doğru beşer beşer saydığımızda söylediğimiz 4. sayı kaçtır?


- A) otuz  
B) otuz beş  
C) altmış

$$7 + ? = 15$$



4) Yukarıdaki toplama işleminde verilmeyen toplanan kaçtır?

- A) 8  
B) 7  
C) 22



5) Yukarıdaki geometrik şekillerin adları hangi seçenekte doğru sıralanmıştır?

- A) Kare-üçgen-çember-dikdörtgen  
B) Üçgen-dikdörtgen-kare-çember  
C) Üçgen-kare-dikdörtgen-çember

6) Ece 7 yaşındadır. 5 yıl sonra Ece'nin yaşı ablasının şimdiki yaşına eşit olacaktır. Ece'nin ablası kaç yaşındadır?

- A) 12      B) 11      C) 2

Şehirler	Sıcaklık derecesi
Kayseri	7
Denizli	12
İstanbul	10
Van	5

Yukarıda şehirlerin bir günlük sıcaklıkları ile ilgili bir tablo vardır. 7 ve 8. soruları tabloya göre cevaplayalım.

7) En yüksek sıcaklığın olduğu şehir hangisidir?

- A) İstanbul
- B) Van
- C) Denizli

8) Şehirlerin sıcaklığını en azdan en çoğa (küçükten büyüğe) sıraladığımızda sıralama nasıl olur?

- A) Van-İstanbul- Kayseri- Denizli
- B) Van- Kayseri- Denizli- İstanbul
- C) Denizli-İstanbul- Kayseri- Van



9) Yukarıdaki örüntüde soru işareti olan yere hangisi gelmelidir?

- A) Ay
- B) Güneş
- C) Yıldız



10) Ev ve ağaç arasındaki mesafeyi aşağıdakilerden hangisiyle ölçmek uygun değildir?


- A)
- B)
- C)



Matematik testi bitmiştir. Cevaplarımızı kontrol edelim.

## HAYAT BİLGİSİ

1) Aşağıdaki davranışlardan hangisi doğru bir davranışa örnektir?



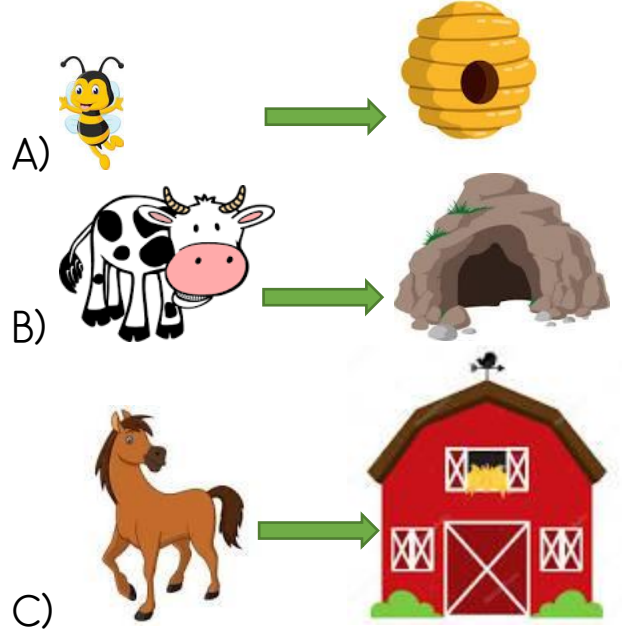
2) Aşağıdakilerden hangisi millî bayramlarımızdandır?

- A) Cumhuriyet Bayramı
- B) Ramazan Bayramı
- C) Kurban Bayramı

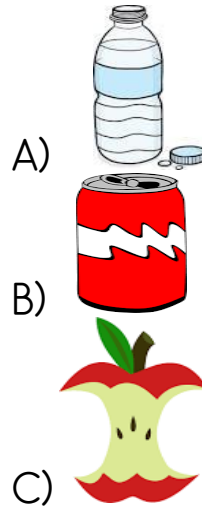
3) Babamızın kız kardeşi bizim neyimiz olur?

- A) hala
- B) teyze
- C) amca

4) Aşağıdakilerden hangisinde hayvanlar ve yaşadığı yerler hatalı eşleştirilmiştir?



5) Aşağıdakilerden hangisi geri dönüşümü yapılabilen bir malzeme değildir?



Hayat bilgisi testi bitmiştir.  
Cevaplarımızı kontrol edelim

