

1 - Aşağıdakilerden hangisi cansız bir varlıktır ?

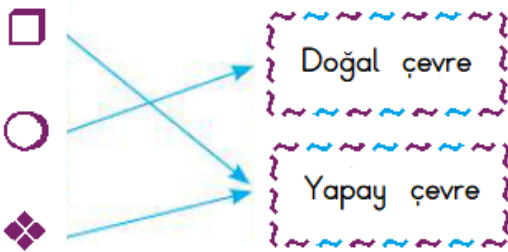
A) B) C)



2 - Aşağıdakilerden hangisi bütün canlıların ortak özelliklerinden biri değildir ?

A) Hareket etme B) Besin üretme  
C) Çoğalma

3 - Doğal ve yapay çevre ile ilgili örnekler aşağıda eşleştirilmiştir.



Buna göre □ , ○ ve ◇ ile ilgili olarak verilen ifadelerden hangisi yanlıştır ?

A) □ ile gösterilen yere göl yazılabilir.  
B) ○ ile gösterilen yere nehir yazılabilir.  
C) ◇ ile gösterilen yere baraj yazılabilir.

4 - Aşağıdaki canlılardan hangisi hareket etme özelliği yönünden diğerlerinden farklıdır ?

A) Tırtıl B) Ayçiçeği  
C) Elma ağacı

5 - Aşağıdakilerden hangisi yapay çevrenin özelliklerindendir ?

A) Kendiliğinden oluşmuş ortamlardır.  
B) Canlı çeşitliliği fazladır.  
C) İnsan ve araçlara sık rastlanır.

6 - I. Tohumun çimlenmesi  
II. Bitkinin ölmesi  
III. Kendi tohumlarını üretmesi  
IV. Erişkin bir bitki olması

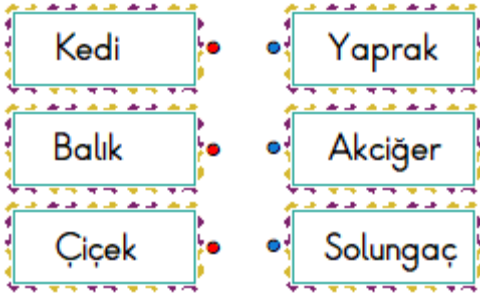
Yukarıda bir bitkinin yaşam evreleri karışık olarak verilmiştir. Bu evrelerin oluşum aşamaları hangi seçenekte doğru verilmiştir ?

A) I - II - IV - III B) I - IV - III - II  
C) I - III - IV - II

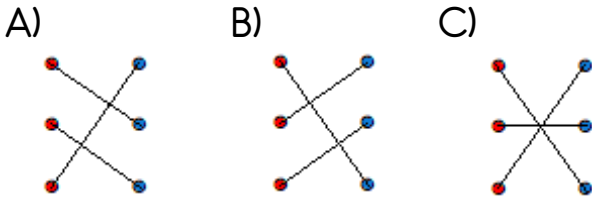
7 - “ Canlılar çevrelerinden gelen uyarılara tepki verirler. ” Buna göre aşağıdakilerden hangisi bu bilgiye örnek olarak verilemez ?

- A) Sonbaharda ağaçların yapraklarını dökmesi
- B) Küstüm çiçeğine dokunulduğunda yapraklarını kapatması
- C) Ayçiçeğinin çiçeklerini ve yapraklarını güneşe çevirmesi

8 -



Yukarıdaki canlılar ve solunum organları eşleşmesi hangi seçenekte doğru verilmiştir ?



9 - Doğal ve yapay çevrenin ortak özelliği aşağıdakilerden hangisidir ?

- A) İnsanlar tarafından oluşturulmaları
- B) Bozulmamış çevreler olmaları
- C) Canlı ve cansız varlıkların birlikte yaşamaları

10 - Geri dönüşümle ilgili aşağıdakilerden hangisi doğrudur ?

- A) Her atık madenin geri dönüşümü olur.
- B) Geri dönüşüm enerji israfına sebep olur.
- C) Geri dönüşüm ülke ekonomisine katkı sağlar.

11 - Çevremizdeki doğal dengenin bozulması aşağıda verilenlerden hangisine sebep olur ?

- A) Canlı türlerinin yok olmasına
- B) Yeşil alanların çoğalmasına
- C) Canlı çeşidi ve sayısının artmasına

12 - I. Köyler ve şehirler yapay çevredir.

II. İnsan elinin değmediği çevreye yapay çevre denir.

III. Yapay çevrenin oluşumu kısa sürede olur.

Yapay çevre ile ilgili verilen bilgilerden kaç tanesi doğrudur ?

- A) 1
- B) 2
- C) 3