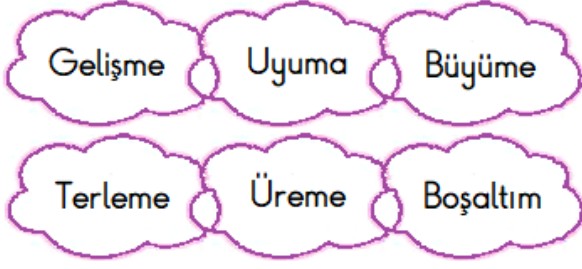


1 -



Yukarıdakilerden kaç canlıların ortak özelliklerindendir ?

- A) 4 B) 5 C) 6

2 - I. Çevremizi canlı ve cansız varlıklar oluşturur.

II. Canlı ve cansız varlıklar birbiriyle ilişki içindedir.

III. Canlı varlıklar cansız varlıklar olmadan yaşamlarını sürdüremezler.

Yukarıda verilen ifadelerin hangileri doğrudur ?

- A) I ve II B) II ve III  
C) I, II ve III

3 -  → Karton kutu  → Pil

 → Metal kap  → Cam şişe

Yukarıdaki atıklardan hangisi çevrede kalıcı kirliliğe yol açmaz ?

- A)  B)  -  C)  - 

4 - I. Ağaçların sonbaharda yapraklarını dökmesi → Uyarılara tepki verme

II. Tavuğun yumurtlaması → Beslenme

III. Ekilen ceviz fidanının ağaç olması  
→ Büyüme ve gelişme

Yukarıda canlıların ortak özellikleriyle ilgili yapılan eşleştirmelerden hangileri doğrudur ?

- A) Yalnız III B) I ve III  
C) II ve III

5 - Fasulye tohumunun çimlenmesini gözlemleyen öğrencilerden hangisinin ulaştığı sonuç yanlıştır ?



- A) Mete → Fasulye tohumunun çimlenmesi için suyun gerekli olduğunu ,  
B) Fatih → Toprak olamadan fasulye tohumunun çimlenebileceğini ,  
C) Teoman → Fasulye tohumunun çimlenmesi için ışığın gerekli olduğunu ,

6 - Bitki ve hayvanlarla ilgili verilen bilgilerden hangisi yanlıştır ?

- A) Hayvanların büyümesi sınırlı , bitkilerin büyümesi sınırsızdır.  
B) Hayvanların irkilmesi yavaş ve uzun süreli , bitkilerin ise hızlı ve anidir.  
C) Bitkilerin hareketleri sınırlı , hayvanların sınırsızdır.

7 - Aşağıdakilerden hangisi , insanın çevreyle olan ilişkisine örnek verilemez ?

- A) İnsanlar çevresindeki diğer canlılarla uyum içinde yaşar.
- B) İnsanlar , çevresindeki doğal kaynakları kullanarak hayatlarına devam eder.
- C) İnsanlarda büyüme ve gelişme yaşamları boyunca devam eder.

8 - \* Sanayi tesislerinin tarım alanlarının dışına yapılması

- \* Milli parklar oluşturmak.
- \* Ormandaki ağaçları keserek hayvanlar için otlaklar oluşturmak
- \* Av yasağı ile yaban hayvanlarının avlanmasını önlemek

Yukarıdakilerden kaç tanesi doğal çevreye zarar vermez ?

- A) 4
- B) 3
- C) 2

9 - Bitkileri , hayvanlardan ve insanlardan ayıran en önemli özellik aşağıdakilerden hangisi olamaz ?

- A) Besin üretme
- B) Üreme
- C) Yer değiştirme

10 - I. Toprağa atılan bitki atıkları

II. Suya karışan kızartma yağları

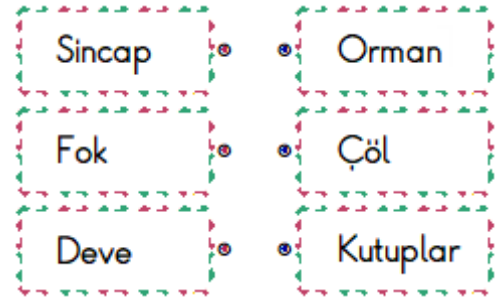
III. Taşıtların egzozlarından çıkan gazlar

IV. Bilinçsiz kullanılan tarım ilaçları

Yukarıda verilenlerin hangileri doğal dengenin bozulmasına neden olur ?

- A) I , II , IV
- B) II , III , IV
- C) I , II , III , IV

11 -

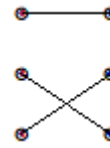


Yukarıda verilen hayvanlarla yaşam alanlarının eşleştirmesi hangi seçenekte doğru verilmiştir ?

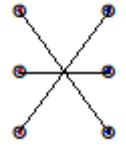
A)



B)



C)



12 - Çevre kirliliği aşağıdakilerden hangisine neden olmaz ?

- A) Dünya 'nın ikliminin değişmesine
- B) Enerji kıtlığına
- C) Aşırı nüfus artışına