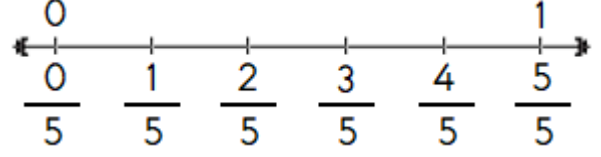
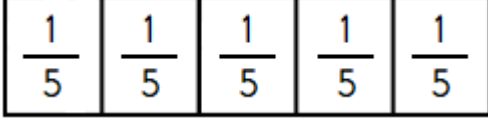


KESİR KAVRAMI


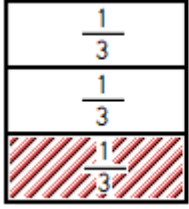
Altın Bilgi 3 ° : Bir kesrin eş parçalarından yalnız birini gösteren kesir sayısına **birim kesir** denir.

* Bütünün eş parçalarından her biri bir birim kesirdir. * Birim kesirlerin payı daima 1 'dir.

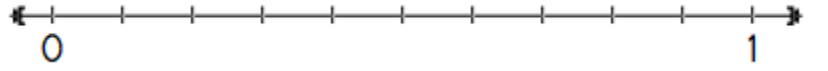
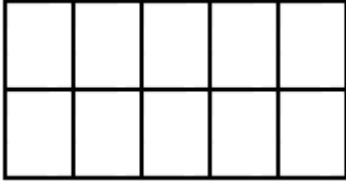


1 - Aşağıdaki eş parçalara ayrılmış bütünlerin bir parçasını tarayınız. Taralı kısmı gösteren birim kesirleri yazınız. Sayı doğrusunda gösteriniz.

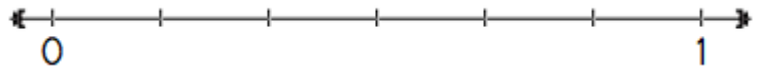
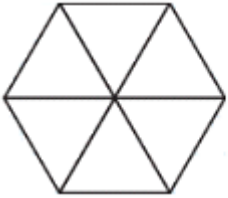
*



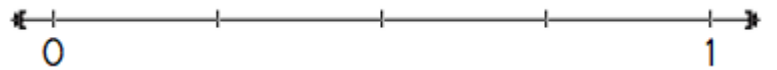
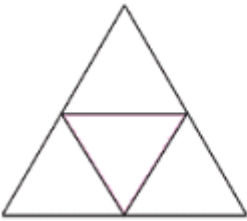
*




*



*




*



KESİR KAVRAMI

2 - Aşağıda verilen kesir sayılarının kaç tane birim kesirden oluştuğunu şekille gösteriniz.

* $\frac{2}{3}$  $\frac{2}{3}$ kesri 2 tane birim kesirden oluşmuştur.

* $\frac{4}{5}$

* $\frac{3}{8}$

* $\frac{7}{9}$

* $\frac{5}{6}$

* $\frac{6}{7}$